

2022-2023学年全国初中八年级下地理人教版月考试卷

考试总分：115分 考试时间：120分钟

学校：_____ 班级：_____ 姓名：_____ 考号：_____

一、选择题（本题共计 19小题，每题 5分，共计95分）

1. 下列气候类型只分布在亚洲的是（ ）

- A. 热带草原气候
- B. 热带季风气候
- C. 热带海洋气候
- D. 热带沙漠气候

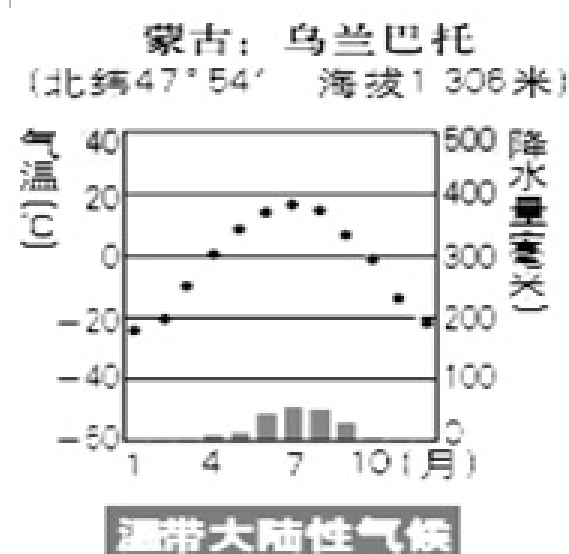
2. 下列不属于亚洲与其它大洲分界线的是（ ）

- A. 乌拉尔山
- B. 巴拿马运河
- C. 苏伊士运河
- D. 白令海峡

3. 当地时间2015年12月21日，菲律宾在邦板牙省的克拉克空军基地举行阅兵式，庆祝菲律宾武装部队成立80周年。菲律宾位于（ ）

- A. 东亚地区
- B. 西亚地区
- C. 东南亚地区
- D. 中亚地区

4. 蒙古国位于东亚内陆地区，根据气候图，判断该国主要农业部门为（ ）



- A. 种植业
- B. 畜牧业
- C. 林业
- D. 渔业

5. 根据下图，回答下列小题。



- (1) 下列关于图中所示大洲的说法，不正确的是 ()
- A. 东、北、南三面分别濒临太平洋、北冰洋和印度洋
 - B. 亚洲第一长河是长江
 - C. 亚洲东北隔白令海峡与北美洲相望
 - D. 地形以高原、高山为主，平均海拔居各洲之首
- (2) 世界上各种气候类型中，该洲没有分布的是 ()
- A. 温带季风气候
 - B. 温带海洋性气候
 - C. 地中海气候
 - D. 热带雨林气候
- (3) 该洲的地势特点是 ()
- A. 西高东低
 - B. 南高北低
 - C. 中间低，四周高
 - D. 中间高，四周低
- (4) 该洲流经国家最多的河流是 ()
- A. 湄公河
 - B. 多瑙河
 - C. 亚马孙河

D. 尼罗河

6. 中东地区的石油资源集中分布在（ ）沿岸

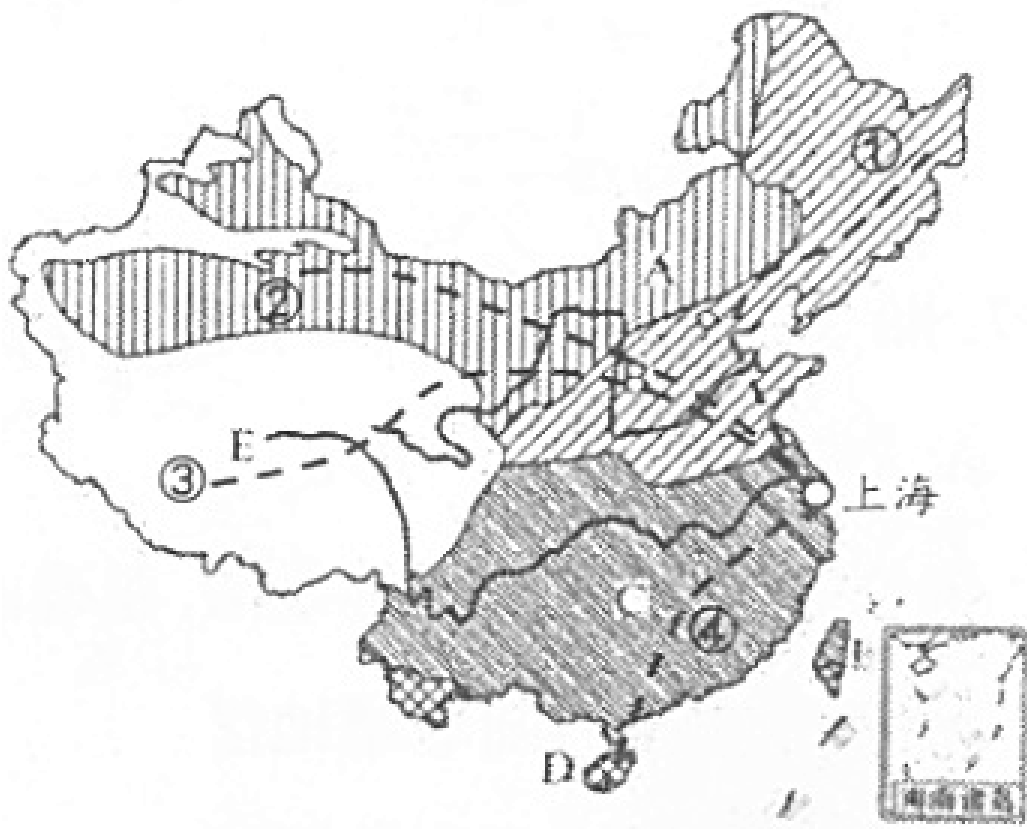
A. 亚丁湾

B. 波斯湾

C. 黑海

D. 红海

7. 上海一旅行团暑假带领一批学生浏览祖国大好河山，设计了四条游览线路（如图），其中穿过我国气候区最多的线路是（ ）




A. ①线

B. ②线


C. ③线

D. ④线

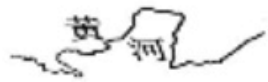
8. 下列地理事物中，没有分布在亚洲的是（ ）



A



B



C



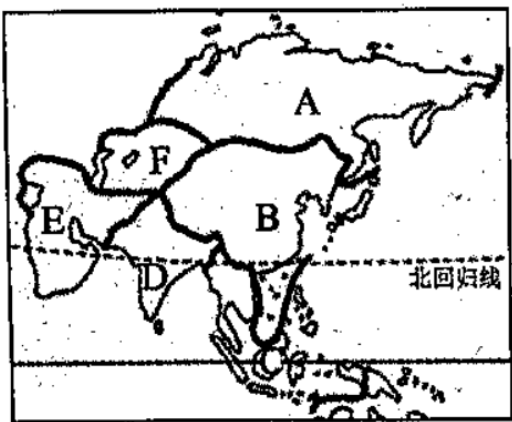
D

A. A

B. B

C. C

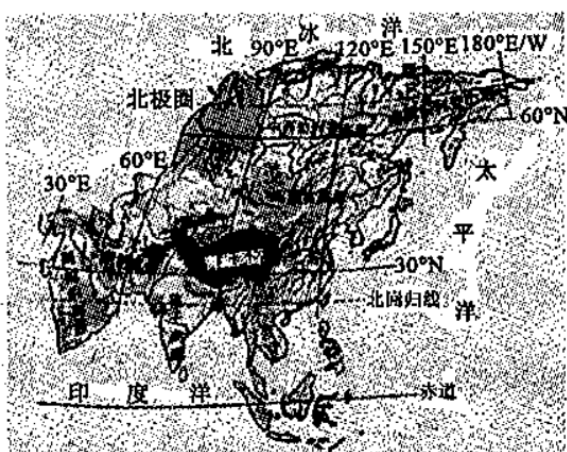
9. 亚洲文明对话大会于5月15日在北京隆重开幕。亚洲47个国家以及域外其他国家的代表参加了相关活动。亚洲文明对话大会图形标志主体形态由牡丹花衍生而来，按照亚洲地理位置的六个分区将标志设计成六瓣互动的花瓣状图形。读下面四幅图片，完成下列小题。



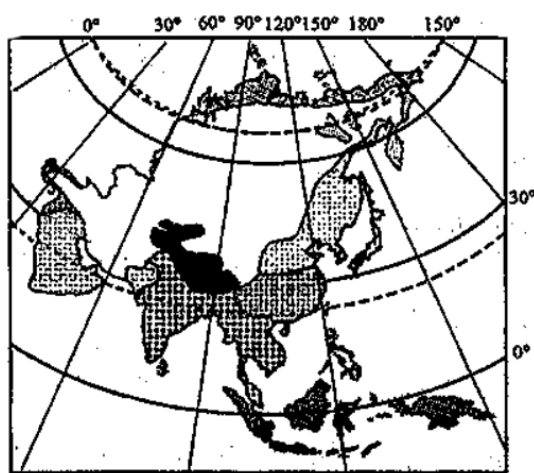
甲 亚洲分区



乙 传统民居



丙 亚洲地形图



丁 亚洲气候分布

(1) 人们按照地理方位，将亚洲分为六个地区。关于甲图中亚洲分区的判读不正确的是 ()

- A. A为北亚
- B. B为东亚
- C. D为南亚
- D. F为西亚

(2) 人类文明的形成与自然环境之间有着密切的关系。某地李老师出国考察时在甲图E区某地拍摄了一张传统民居照片(乙图)，据此判断该民居形态特点与当地自然环境的特点是 ()

- A. 高脚屋—凉爽防潮
- B. 墙厚窗小—防晒又凉快
- C. 轻质木材作为建筑材料—防震
- D. 碉楼—防寒保暖

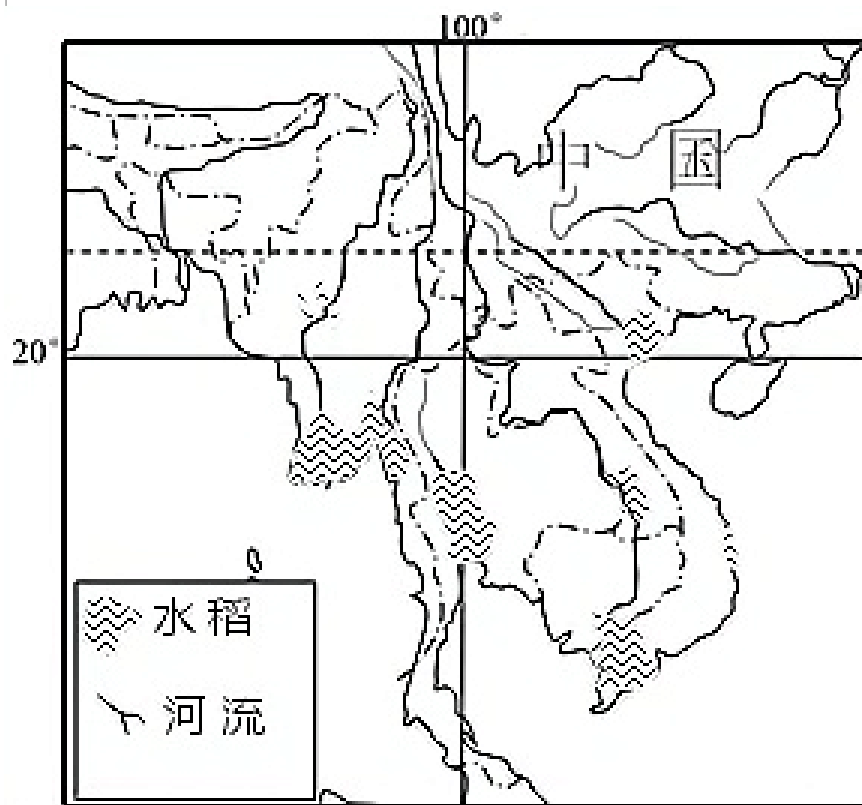
(3) 关于我们生活的亚洲的自然环境，描述不正确的是 ()

- A. 地形以丘陵、平原为主
- B. 青藏高原是世界上海拔最高的高原
- C. 季风气候分布在亚洲东部和南部
- D. 河流多源于中部的高原山地，形成放射状水系

(4) 我们亚洲常常是“寒暑并存，干湿同在”，气候类型复杂多样。造成这种气候特征的主要原因是（ ）

- A. 亚洲大部分处在高纬度地区
- B. 亚洲跨东西半球
- C. 亚洲纬度和经度跨度大
- D. 亚洲四面濒临海洋

10. 读“中南半岛部分地区水稻分布图”，完成下面小题。



(1) 据图归纳水稻的分布特点，最合理的是（ ）

- A. 分布在沿海地区
- B. 分布在内陆地区
- C. 分布在河流沿岸
- D. 整体分散，局部集中

(2) 水稻的生长需要高温多雨的环境。图中能够支撑水稻在该地区大面积种植的信息是（ ）

①海陆兼备的地理位置②地处北回归线和赤道之间③河流提供充足水源④北高南低的地势特点

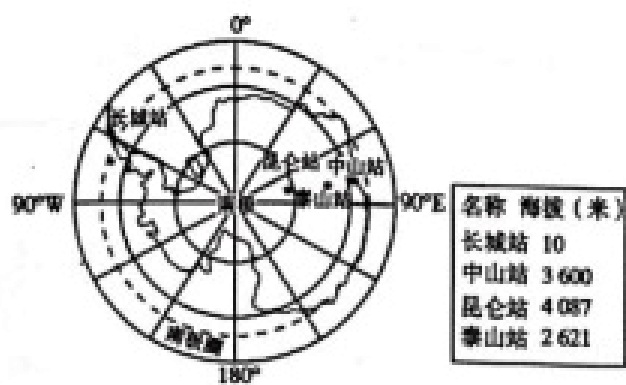
- A. ①③
- B. ①④
- C. ②③
- D. ②④

(3) 东南亚成为中国人出境旅游目的地，其原因不正确的是（ ）

- A. 东南亚与我国山水相连，交通便利
- B. 我国主要在温带，东南亚热带风光旖旎
- C. 东南亚华人华侨比重大，语言相通

D. 东南亚有世界上最大的半岛和湖泊

11. 读南极地区略图，下列叙述不正确的是（ ）



- A. 长城站位于西半球，中山站濒临大西洋
- B. 1月至2月去南极考察，此时南极处于暖季，白昼长
- C. 我国南极科考站中昆仑站气温最低，其原因是纬度高、海拔高
- D. 南极地区煤炭资源丰富，说明这里曾处于较低的纬度

12. 中央电视台2008年摄制的电视纪录片《同饮一江水》主要记录了湄公河沿岸国家人民的生活情景……据此回答(1)~(5)题。

(1) 东南亚流经国家最多的在我国称澜沧江的河流是（ ）

- A. 湄南河
- B. 湄公河
- C. 红河
- D. 伊洛瓦底江

(2) 湄公河和其他许多河流奔流在中南半岛的群山峡谷之中，向南流入海洋，构成了中南半岛山河分布的壮丽景观，这种景观具有的特征（ ）

- A. 平原壮美，一望无际
- B. 丘陵广布，溪水北流
- C. 高原辽阔，雪峰连绵
- D. 山河相间，纵列分布

(3) 我国某企业向该地区大量进口农产品，下列产品最有可能出现在订货合同中的是（ ）

- A. 棉花、小麦
- B. 橡胶、椰子
- C. 蔬菜、牛奶
- D. 葡萄、棕油

(4) 下列旅游景点中，最有可能在该地区的是（ ）

- A. 富士山
- B. 大金塔
- C. 泰姬陵
- D. 卢浮宫

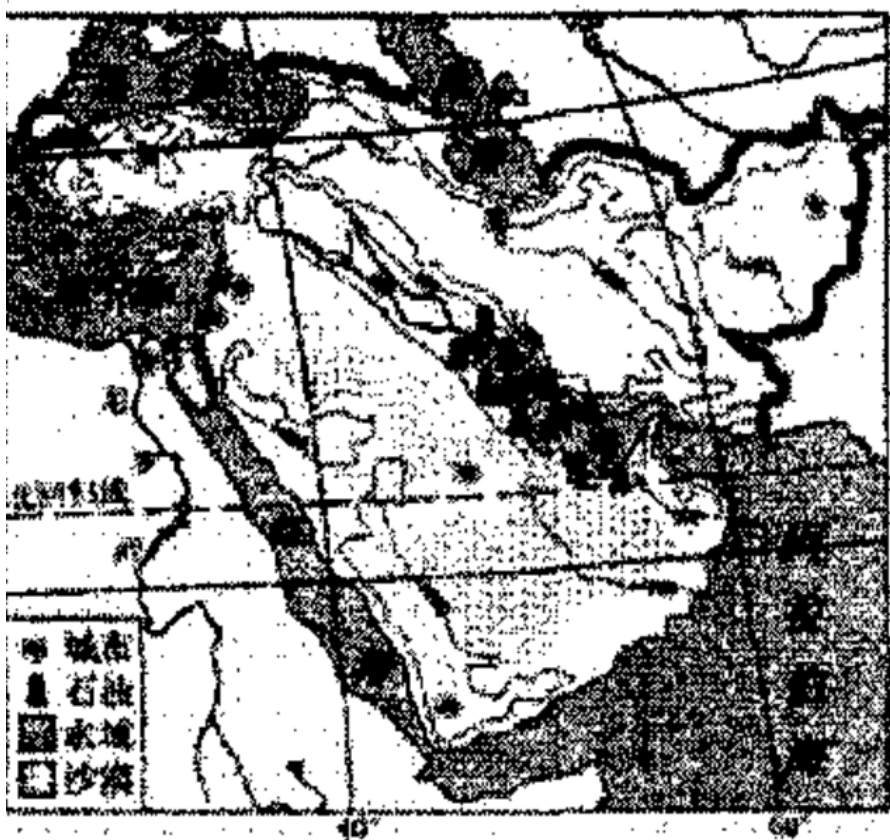
(5) 地理主题班会上，几位同学正在描述到亚洲各地假想旅游的情景。其中不可能的（ ）

- A. 小明：在阿拉伯半岛上，我乘着雪橇逛街
- B. 小悦：我在去乌拉巴托的火车上看见大草原
- C. 小畅：我不会游泳却可以不带救生圈在死海中畅游
- D. 小华：在沙特阿拉伯，旅店安排我们在屋顶上睡觉

13. (2019绥化市中考真题) 东南亚的主要粮食作物是（ ）

- A. 青稞
- B. 玉米
- C. 小麦
- D. 水稻

14. 自第二次世界大战以来，西亚地区战争不断，频繁的冲突使这里成为全世界关注的焦点。读下图，完成下列问题。



(1) 西亚是世界上石油储量、产量和输出量最多的地区，石油资源主要分布在（ ）

- A. 地中海及其沿岸
- B. 红海及其沿岸
- C. 波斯湾及其沿岸

D. 里海及其沿岸

(2) 被誉为“世界油阀”的海峡是 ()

A. 白令海峡

B. 直布罗陀海峡

C. 土耳其海峡

D. 霍尔木兹海峡

(3) 西亚气候炎热干旱，沙漠面积广布，灌溉业农业区主要分布在 ()

A. 沿海地区

B. 内陆地区

C. 北回归线经过的地区

D. 河谷平原和沙漠中的绿洲

(4) 西亚民族和宗教矛盾突出，其中被伊斯兰教、基督教、犹太教都奉为“圣城”的是 ()

A. 耶路撒冷

B. 迪拜

C. 开罗

D. 新西伯利亚

15. 读图5，完成下列问题。



图5

(1) 我们亚洲常常是“寒暑并存，干湿同在”气候类型复杂多样。造成这种气候特征的主要原因是 ()

A. 亚洲大部分处在高纬度地区

B. 亚洲处在东半球

C. 亚洲纬度跨度大，东西距离长

D. 亚洲四面濒临海洋

(2) 根据亚洲气候类型图判断, 南亚地区主要的气候类型是 ()

- A. 温带大陆性气候
- B. 温带季风气候
- C. 热带雨林气候
- D. 热带季风气候

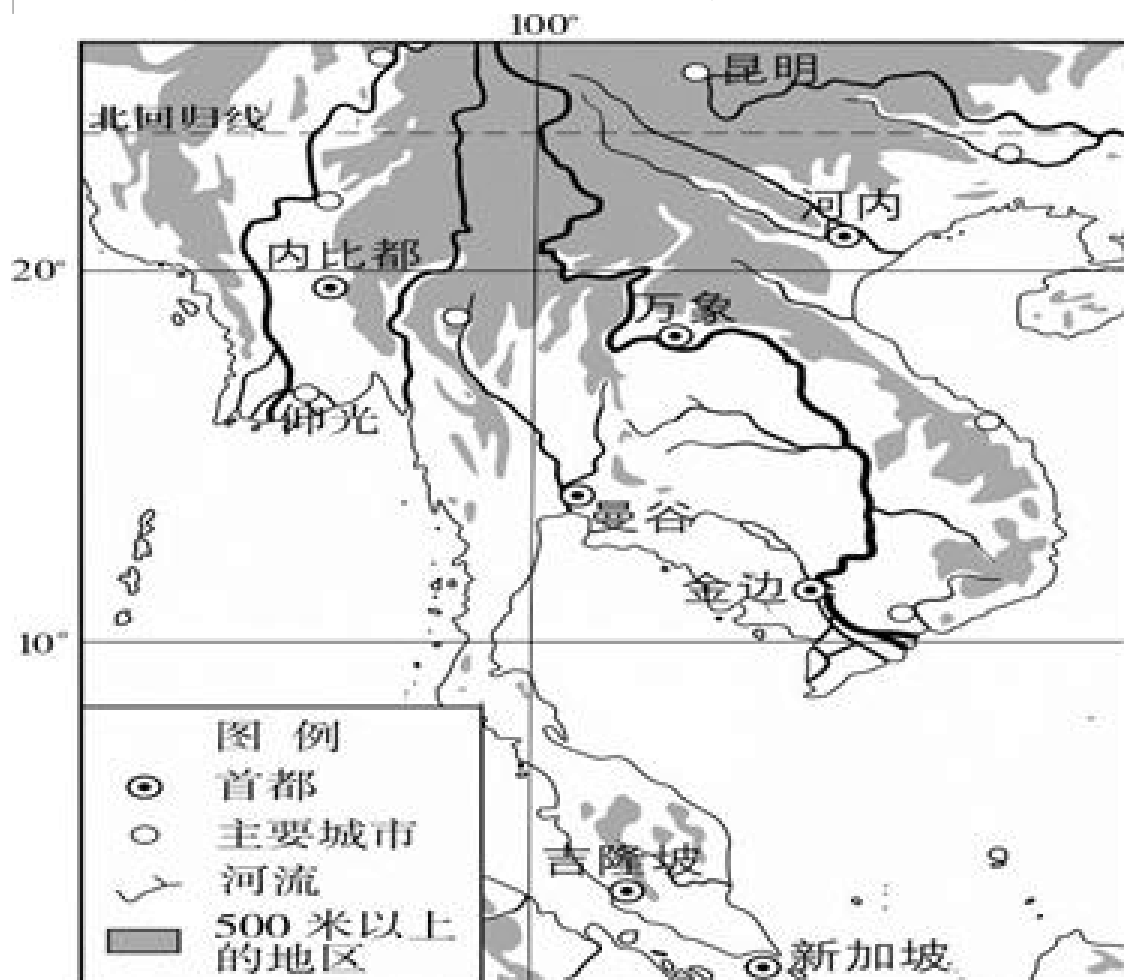
(3) 亚洲季风气候显著, 季风气候主要分布在 ()

- A. 亚洲的北部
- B. 亚洲的中部
- C. 亚洲的西部
- D. 亚洲的东部和南部

16. 世界上最小的海洋和最大的大洲分别是 ()

- A. 印度洋、亚洲
- B. 北冰洋、亚洲
- C. 大西洋、非洲
- D. 太平洋、大洋洲

17. 读“东南亚中南半岛地形图”, 完成下面小题。



(1) 东南亚唯一的内陆国是 ()

- A. 新加坡
- B. 老挝

C. 柬埔寨

D. 缅甸

(2) 世界上最大的群岛国家是 ()

A. 马来西亚

B. 菲律宾

C. 文莱

D. 印度尼西亚

(3) 图示中南半岛的地形特点是 ()

A. 地形单一，以高原为主

B. 地势起伏大，东高西低

C. 河流众多，上游多平原

D. 山河相间，南北纵列分布

(4) 中南半岛的城市多分布在河流沿岸，主要是因为 ()

①水能丰富 ②水运便利

③地形平坦 ④靠近水源

A. ①②③

B. ①②④

C. ②③④

D. ①③④

(5) 下列物品中，不属于东南亚中南半岛大量出口的农产品是 ()

A. 天然橡胶

B. 水稻

C. 石油

D. 椰子

(6) 中国每年从越南、泰国等东南亚国家进口的大米占到80%以上，东南亚的中南半岛盛产稻米的优越自然条件主要有 ()

①雨热同期 ②地形多样 ③土壤肥沃 ④地广人稀

A. ②③

B. ①④

C. ①③

D. ②④

(7) 关于东南亚的叙述，正确的是 ()

- A. 位于亚洲和大洋洲、太平洋和印度洋之间的十字路口，是东西方交通要道
- B. 由马来半岛和马来群岛两部分组成
- C. 气候类型主要为亚热带季风气候和热带雨林气候
- D. 居民主要是黑色人种，是世界上人口密度较大的地区之一

(8) 关于马六甲海峡叙述正确的是 ()

- A. 位于马来半岛和爪哇岛之间
- B. 是欧洲、非洲东行到东南亚、东亚，最短航线的必经之地
- C. 是连接大西洋与印度洋的重要海上通道
- D. 被美国称为“海上生命线”

(9) 东南亚流经国家最多的国际性河流是 ()

- A. 伊洛瓦底江
- B. 红河
- C. 湄公河
- D. 萨尔温江

(10) 中南半岛上城市多分布在 ()

- A. 沿海地区
- B. 铁路线附近
- C. 山麓地带
- D. 河流沿岸

(11) 马来群岛的地形特点是 ()

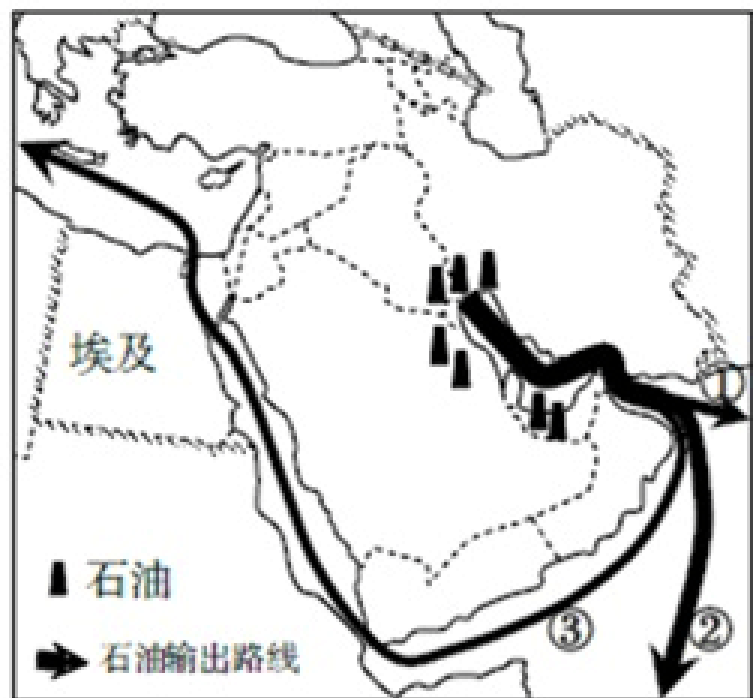
- A. 山河相间，纵列分布
- B. 地形崎岖，火山众多
- C. 南高北低，以高原为主
- D. 东高西低，以山地为主

(12) 东南亚盛产水稻的自然原因是 ()

- A. 地形平坦开阔
- B. 劳动力充足
- C. 机械化水平高

D. 气候湿热

18. 读世界局部区域图，完成(1)~(2)题。



(1) 关于海上石油输出线路①②③的叙述，错误的是 ()

- A. 霍尔木兹海峡是输出线路的必经之地
- B. 线路①输往日本，需途经马六甲海峡
- C. 线路②、③目标市场和运量都相同
- D. 输出线路海域易造成海洋污染

(2) 西亚石油生产国的外籍劳工多来自埃及，主要原因是两地域 ()

- ①人种、语言、宗教相同
- ②劳动力需求量相同
- ③经济发展水平相同
- ④地理位置临近

- A. ①②
- B. ②③
- C. ③④
- D. ①④

19. 东南亚主要的热带经济作物是：

- A. 天然橡胶、油棕、椰子
- B. 天然橡胶、油棕、水稻
- C. 油棕、椰子、棉花
- D. 油棕、水稻、棉花

二、填空题 (本题共计 1 小题，共计 5 分)

20. (5分) 读图，比较亚洲三种季风气候的特点及分布。_____。

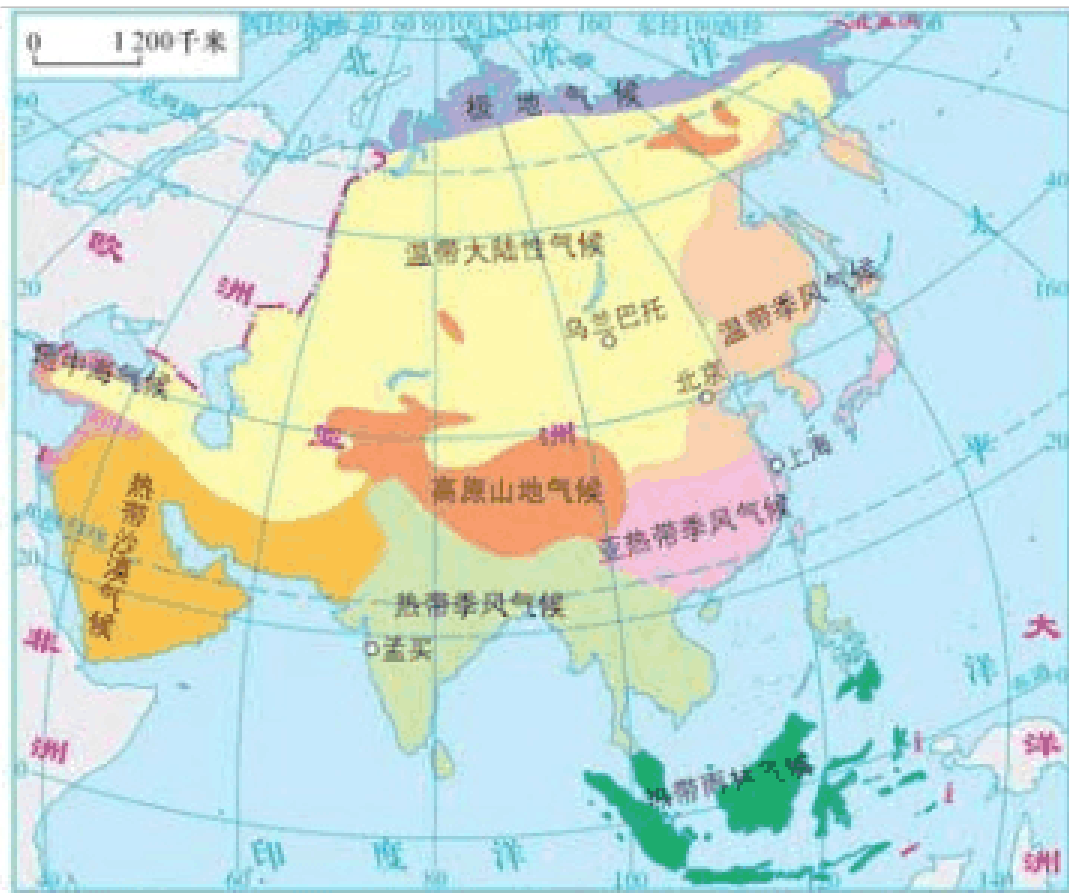


图1 亚洲气候类型

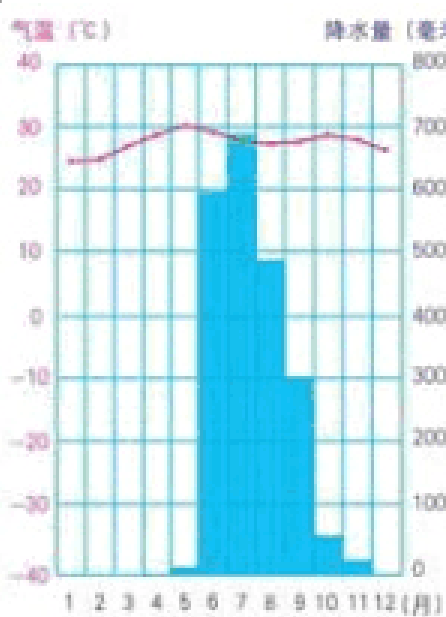


图2 孟买(印度) 热带季风气候

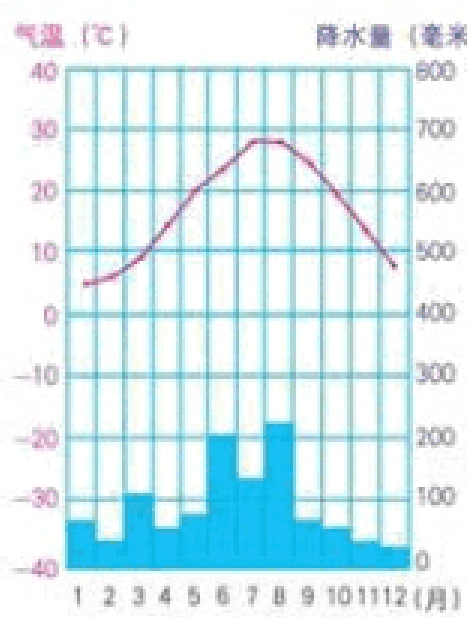


图3 上海(中国) 亚热带季风气候

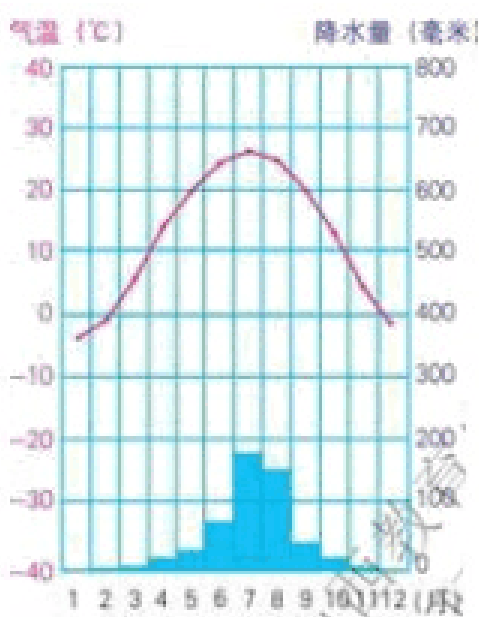
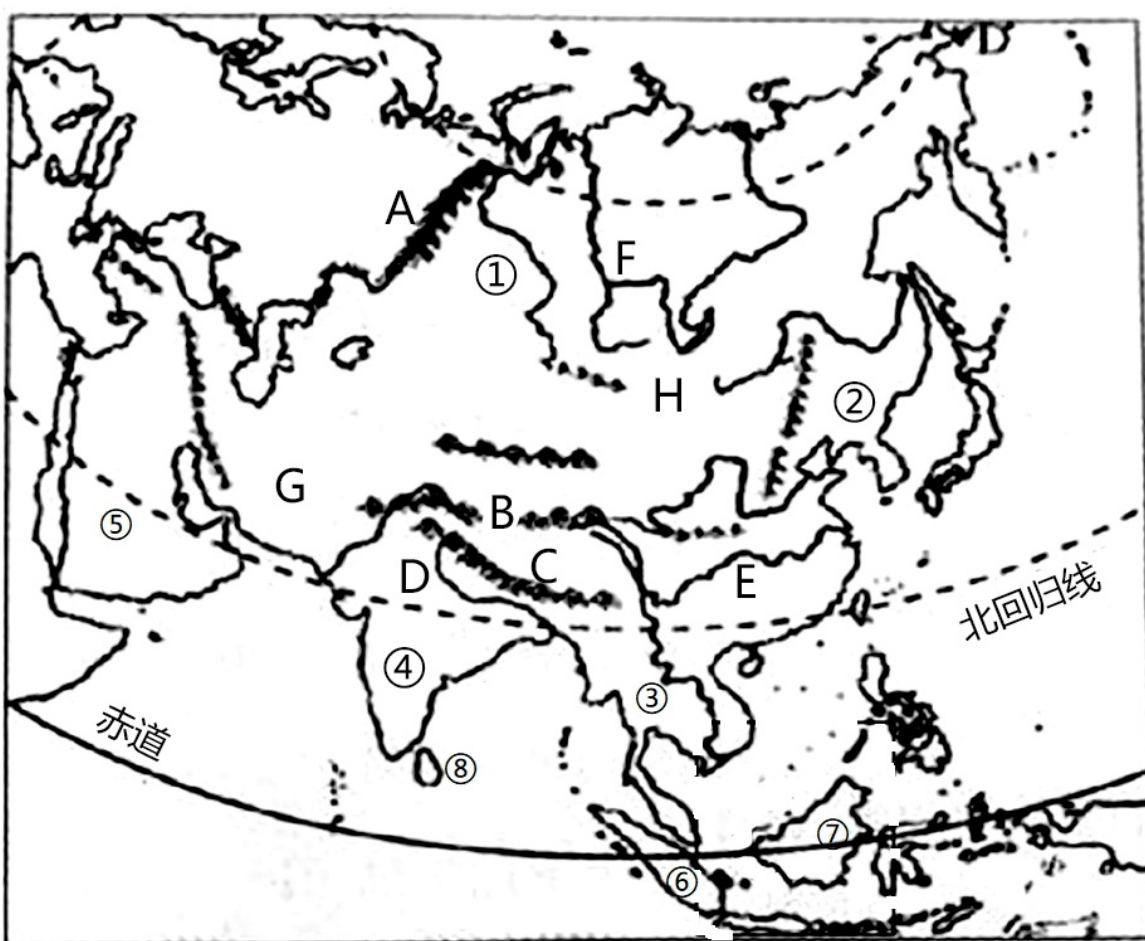


图4 北京(中国) 温带季风气候

三、解答题 (本题共计 3 小题, 每题 5 分, 共计 15 分)

21. 读“亚洲略图”, 完成下列问题。



(1) 填出图中序号代表的地理事物名称。

山脉: C _____, 高原: ④ _____, 河流: F _____, 平原: ① _____。

(2) 根据图中信息，概括亚洲地势特点_____。河流呈_____状流向周边的海洋。

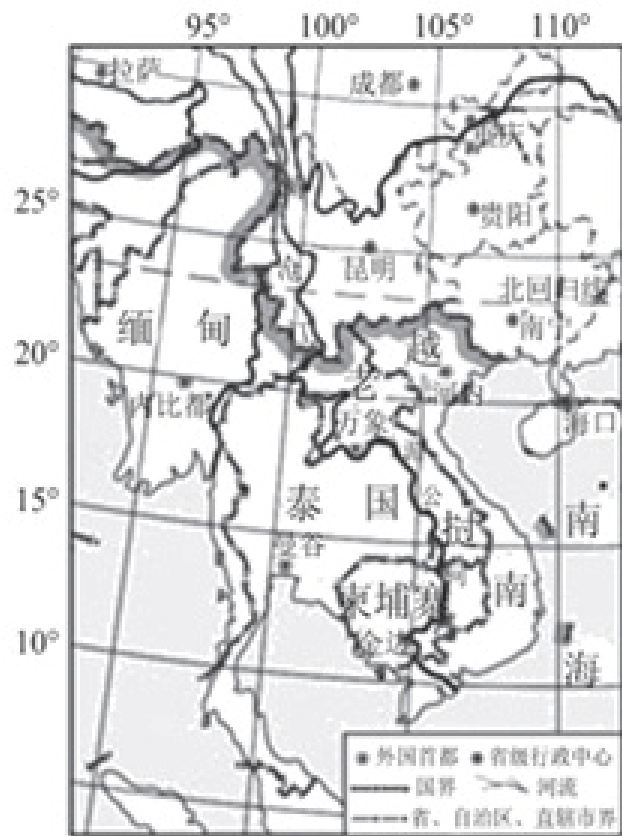
(3) 有甲、乙、丙、丁四位同学分别到亚洲四个不同的地点旅游。他们各自描绘了自己的所见所闻，其中描绘不正确的是（ ）

- A. 丁：游览了世界最大的半岛—阿拉伯半岛
- B. 乙：走访了亚洲最发达的国家—日本
- C. 丙：我去了世界面积最大高原—青藏高原
- D. 甲：我到了世界最低点—死海

(4) 亚洲西部与欧洲相连，西南与_____洲为邻，东北以_____海峡为界与北美洲相望。

22. 阅读图文资料，回答下列问题。

澜湄合作，是指中国、柬埔寨、老挝、缅甸、泰国、越南6国围绕澜沧江—湄公河流域实施的可持续开发和开展的互惠务实合作。



(1) 泰国首都是_____。

(2) 与我国云南省和广西壮族自治区相邻的国家是_____。

(3) 柬埔寨首都金边与缅甸首都内比都相比，其发展经济的有利条件是_____。

(4) 我国积极推动澜沧江—湄公河合作，有利于（ ）。（双选）

- A. 促进各成员国经济发展
- B. 加强中国国内各省的联系
- C. 避免各成员国间文化的融合
- D. 综合开发流域水资源

23. 中东地区长期以来是世界的热点地区，读中东地区简图，回答下列问题

以上内容仅为本文档的试下载部分，为可阅读页数的一半内容。如要下载或阅读全文，请访问：<https://d.book118.com/257006103022006136>