

2024 年江苏高二年级合格考

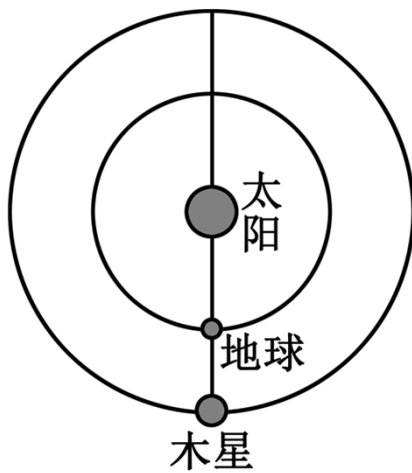
地理试卷

(考试时间：60 分钟总分 100 分)

注意事项：所有试题的答案均填写在答题纸上，答案写在试卷上的无效。

一、单选题（每题 2 分，共 84 分）

2022 年 9 月 27 日，夜空上演“木星冲日”天象。冲日是指某行星和太阳正好分处地球的两侧，三者几乎成一条直线。图为木星冲日示意图，据此完成下面小题。



1. 下列不会出现冲日现象的天体是（ ）
A. 金星 B. 土星 C. 火星 D. 天王星
2. 木星冲日现象体现了行星公转运动的（ ）
A. 同向性 B. 近圆性 C. 共面性 D. 稳定性

图为我国从阿联酋迪拜引进的“智能太阳花”，它可以自动追踪太阳，花瓣昼开夜合且花面始终与阳光垂直，最大程度利用太阳辐射能发电。据此完成下面小题。

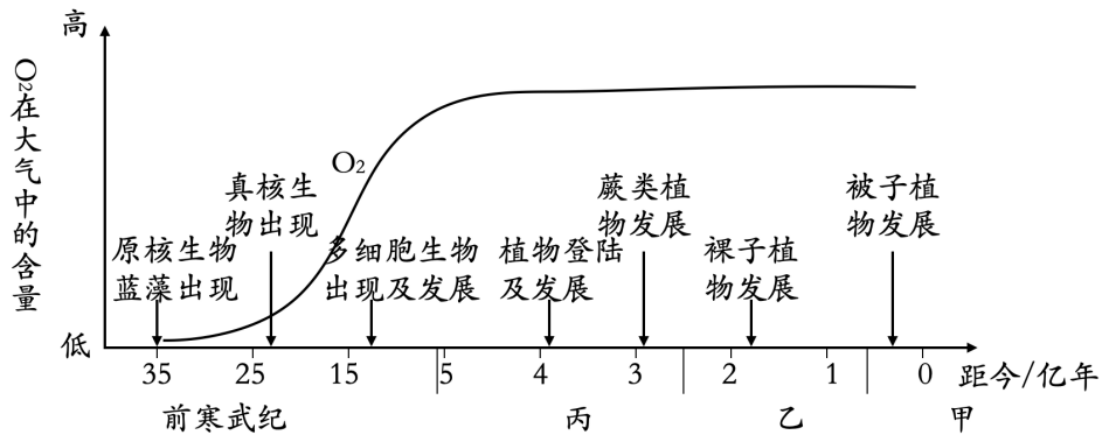


3. 下列城市更适合推广使用“智能太阳花”发电的是（ ）
A. 乌鲁木齐 B. 重庆 C. 哈尔滨 D. 贵阳

4. 关于太阳辐射的叙述，不正确的是（ ）

- A. 可直接为地表提供光能热能
- B. 能量来源于内部核裂变反应
- C. 为大气和水体运动提供动力
- D. 以电磁波形式向外辐射能量

地球演化具有明显的阶段性。下图为“科学家绘制的地球生命演化和大气中氧气含量变化示意图，”读图完成下面小题。



5. 图示甲所处的地质时期是（ ）

- A. 新生代
- B. 古生代
- C. 中生代
- D. 太古宙

6. 乙所处的地质时期（ ）

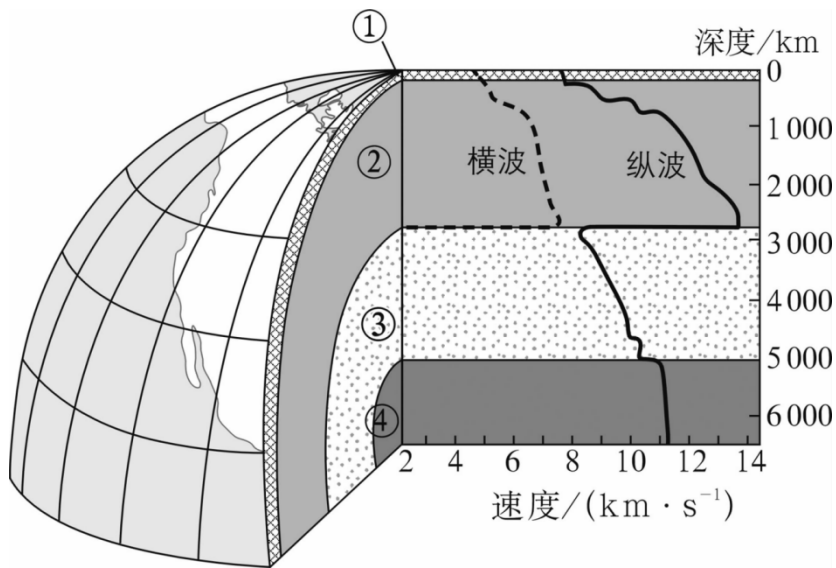
- A. 鱼类开始出现
- B. 恐龙从盛行至消失
- C. 灵长类动物出现
- D. 无脊椎动物空前繁盛

7. 丙所处的地质时期是一个重要的成煤期，主要是由于当时（ ）

- ①蕨类植物繁盛
- ②裸子植物极度兴盛
- ③地壳运动剧烈
- ④第四纪气候的变化

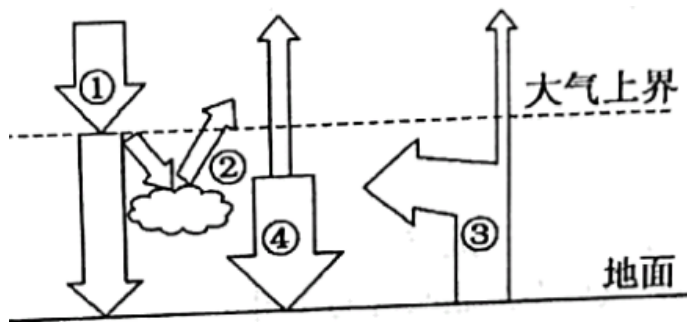
- A. ①④
- B. ②③
- C. ①③
- D. ②④





下图为地震波在地球内部传播速度和地球内部结构（①~④为地球内部图层）示意图。据此完成下面小题。





8. ①~④表示的地球内部圈层分别是 ()
- A. ①—地壳 B. ②—岩石圈 C. ③—软流层 D. ④—地幔
9. 关于地震波在各圈层中传播特点, 叙述正确的是 ()
- A. ①—横波比纵波传播速度快 B. ③—只有纵波能进行传播
- C. ②—横波、纵波速度无变化 D. ④—纵波速度变化幅度大

下图为大气受热过程示意图, 下表为部分城市某日天气预报表。据此完成下面小题。



城市	天气现象 (白天/夜间)	最高温/最低温
北京	 	28°C/18°C
上海	 	25°C/19°C

哈尔滨		24°C/11°C
西宁		22°C/3°C

10. 该日昼夜温差最小的城市是上海，左图中各环节对昼夜温差起主要影响的是 ()

- A. ①② B. ②③ C. ③④ D. ②④

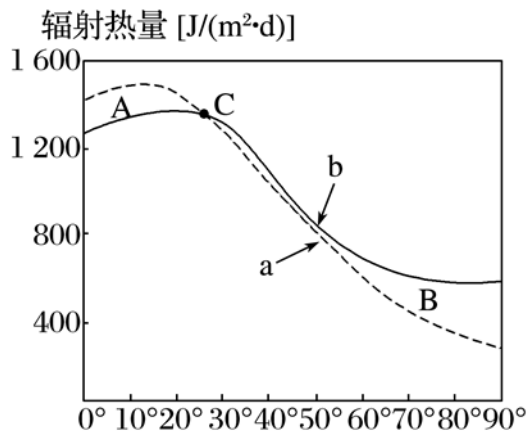
11. 据表格判断，下列说法正确的是 ()

- A. 北京该日最高气温出现在 12 时
 B. 上海该日的降水可能是受台风影响
 C. 哈尔滨该日大雾天气可能是冬季降温所致
 D. 北京该日最高气温比西宁高是因为距海近

12. 霜冻常出现于冬半年晴朗的夜晚，原因是晴朗的夜晚 ()

- A. 天空云量少，大气保温作用强 B. 地面辐射强，地表降温慢
 C. 空气中水汽少，地表降温慢 D. 大气逆辐射弱，地表降温快

海—气间进行着广泛的水热交换，深刻影响着全球环境及其变化。下图为“北半球海洋热量收支随纬度的变化曲线”。据此完成下面小题。



13. 关于图示信息判断正确的是 (()

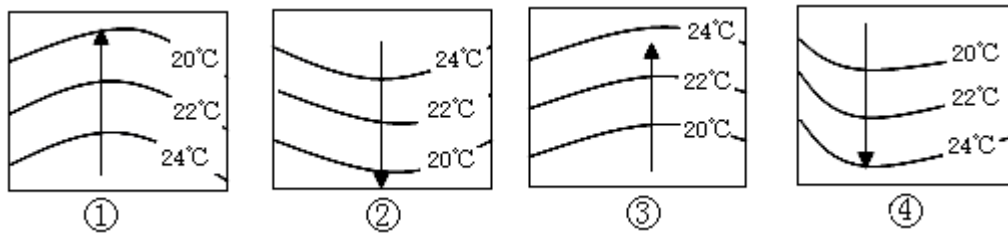
- A. 曲线 a 表示热量支出，曲线 b 表示热量收入
 B. A 表示热量盈余，B 表示热量亏损
 C. 低纬度海区海水热量收支平衡

D. 高纬度海区海水热量亏损，海水温度不断降低

14. 下列叙述符合事实的是 ()

- A. 海洋通过长波辐射等形式将热量输送给大气，影响大气环流
- B. 大气通过降水将水分输送给海洋，驱动洋流
- C. 海洋对气温有调节作用，使得受海洋影响大的地区气温差较大
- D. 大气因参与陆上内循环而影响海水性质

如图是“海洋等温线分布示意图”。读图分析完成下面小题。




15. 图中表示暖流的是 ()

- A. ①②
- B. ③④
- C. ①③
- D. ②④

16. 关于洋流③对地理环境的影响，不正确的是 ()

- A. 顺洋流③航行的海轮可以节省燃料
- B. 与沿岸渔场的形成有关
- C. 有利于污染物的扩散，减缓净化速度
- D. 对沿岸气候有降温减湿的作用

下图为齐齐哈尔市冬季局部景观图，据图完成下面小题。



17. 齐齐哈尔市的植被类型为 ()

- A. 常绿阔叶林和针叶林
- B. 落叶阔叶林和常绿阔叶林
- C. 落叶阔叶林和针叶林
- D. 落叶阔叶林和常绿硬叶林

以上内容仅为本文档的试下载部分，为可阅读页数的一半内容。

如要下载或阅读全文，请访问：

<https://d.book118.com/258033075134006115>