

# 2024 北京北京市延庆区科目一模拟考试 100 题加答案 版

1、在这种急弯道路上行车应交替使用远近光灯。



A、正确

B、错误

正确答案：A

分析：弯道需连续变换远近光，以便对方来车辨别

2、这个导向箭头是何含义？



A、提示前方有左弯或需向左合流

B、提示前方有右弯或需向右合流

C、右侧有障碍需向左合流

D、提示前方有左弯或或许向左绕行

正确答案：A

分析：按图箭头意思就是要向左小转变，可能是道路左转，可能是两个不同的车道要汇合

3、符合什么条件就可以驾驶图中这辆自学直考小型客车上路学习驾驶？



- A、有随车人员指导
- B、取得学习驾驶证明
- C、符合自学直考规定
- D、没有条件限制

正确答案：C

分析：符合自学直考规定条件的就可以驾驶自学直考车辆。《机动车驾驶证申领和使用规定》第四十二条，申请人为自学直考人员的，在道路上学习驾驶时，应当在自学用车上按规定放置、粘贴学车专用标识，自学用车不得搭载随车指导人员以外的其他人员。

4、这辆停在路边的机动车没有违法行为。



- A、正确
- B、错误

正确答案：B

分析：没有开启使用危险灯

5、这个标志是何含义？



A、观景台

B、停车场

C、休息区

D、停车位

正确答案：A

分析：观景台那三个字多明显，你再不选它，叫它情何以堪。

6、驾驶校车、中型以上载客载货汽车、危险物品运输车辆以外的机动车在高速公路、城市快速路以外的道路上行驶超过规定时速 50% 以上的，一次记几分？

A、3 分

B、6 分

C、1 分

D、9 分

正确答案：B

分析：《道路交通安全违法行为记分管理办法》规定，机动车驾驶人有下列交通违法行为之一，一次记 6 分：（一）驾驶校车、公路客运汽车、旅游客运汽车载人超过核定人数未达到百分之二十，或者驾驶 7 座以上载客汽车载人超过核定人数百分之二十以上未达到百分之五十，或者驾驶其他载客汽车载人超过核定人数百分之五十以上未达到百分之百的；（二）驾驶校车、中型以上载客载货汽车、危险物品运输车辆在高速公路、城市快速路上行驶超过规定时速未达到百分之二十，或者在高速公路、城市快速路以外的道路上行驶超过规定时速百

分之二十以上未达到百分之五十的；（三）驾驶校车、中型以上载客载货汽车、危险物品运输车辆以外的机动车在高速公路、城市快速路上行驶超过规定时速百分之二十以上未达到百分之五十，或者在高速公路、城市快速路以外的道路上行驶超过规定时速百分之五十以上的；（四）驾驶载货汽车载物超过最大允许总质量百分之五十以上的；（五）驾驶机动车载运爆炸物品、易燃易爆化学物品以及剧毒、放射性等危险物品，未按指定的时间、路线、速度行驶或者未悬挂警示标志并采取必要的安全措施的；（六）驾驶机动车运载超限的不可解体的物品，未按指定的时间、路线、速度行驶或者未悬挂警示标志的；（七）驾驶机动车运输危险化学品，未经批准进入危险化学品运输车辆限制通行的区域的；（八）驾驶机动车不按交通信号灯指示通行的；（九）机动车驾驶证被暂扣或者扣留期间驾驶机动车的；（十）造成致人轻微伤或者财产损失的交通事故后逃逸，尚不构成犯罪的；（十一）驾驶机动车在高速公路或者城市快速路上违法占用应急车道行驶的。

7、申请人以欺骗、贿赂等不正当手段取得机动车驾驶证的，公安机关交通管理部门收缴机动车驾驶证，撤销机动车驾驶许可，并处多少元以下罚款？

- A、200 元
- B、500 元
- C、2000 元
- D、1000 元

正确答案：C

分析：《机动车驾驶证申领和使用规定》规定：申请人以欺骗、贿赂等不正当手段取得机动车驾驶证的，公安机关交通管理部门收缴机动车驾驶证，撤销机动车驾驶许可，处二千元以下罚款；申请人在三年内不得再次申领机动车驾驶证。

8、已注册登记的机动车所有权发生转让的，现机动车所有人应当自交付之日起多少日内申请登记？

- A、三十日
- B、十日
- C、四十日
- D、二十日

正确答案：A

分析：《机动车登记规定》规定：已注册登记的机动车所有权发生转让的，现机动车所有人应当自机动车交付之日起三十日内向登记地车辆管理所申请转让登记。机动车所有人申请转让登记前，应当将涉及该车的道路交通安全违法行为和交通事故处理完毕。

9、已经持有小型汽车的驾驶证，增加普通二轮摩托车准驾车型后的 12 个月为实习期。

A、正确

B、错误

正确答案：A

分析：《机动车驾驶证申领和使用规定》规定：机动车驾驶人初次取得汽车类准驾车型或者初次取得摩托车类准驾车型后的 12 个月为实习期。持有小型汽车增驾摩托车的，属于初次取得摩托车类准驾车型，应有 12 个月的实习期。

10、驾驶机动车在高速公路上行驶，遇有雾、雨、雪、沙尘、冰雹等低能见度气象条件下，能见度在 200 米以下，车速不得超过 60 公里/小时，与同车道前车至少保持 100 米的距离。

A、正确

B、错误

正确答案：A

分析：(高速公路遇到 雨 雾 沙尘 冰雹等) 高速公路行车限速(1能见度小于 200 米时，车速不得超过每小时 60 公里，与同车道前车保持 100 米以上的距离(2能见度小于 100 米时，车速不得超过每小时 40 公里，与同车道前车保持 50 米以上的距离(3能见度小于 50 米时，车速不得超过每小时 20 公里，并从最近的出口尽快驶离高速公路对于这三种情况，记忆口诀为：261、145、520(首尾相连式)。

11、饮酒后驾驶机动车一次记 12 分。

A、正确

B、错误

正确答案：A

分析：凡是饮酒后驾驶机动车一次记 12 分。

12、遇前方路段车道减少行驶缓慢，为了有序、安全，应依次交替通行。

A、正确

B、错误



正确答案：A

分析：车道减少行驶缓慢，如果随便变道、加塞，会造成拥堵导致交通事故或更严重的行驶缓慢。为了保障安全，应该有序依次通行。

13、因饮酒后驾驶机动车被处罚，再次饮酒后驾驶机动车的，处十日以下拘留，并处一千元以上二千元以下罚款，吊销机动车驾驶证。


A、正确

B、错误

正确答案：A

分析：《道路交通安全法》第九十一条：饮酒后驾驶机动车的，处暂扣六个月机动车驾驶证，并处一千元以上二千元以下罚款。因饮酒后驾驶机动车被处罚，再次饮酒后驾驶机动车的，处十日以下拘留，并处一千元以上二千元以下罚款，吊销机动车驾驶证。

14、这是什么踏板？



A、加速踏板

B、离合器踏板

C、制动器踏板

D、驻车制动器

正确答案：C

分析：分别是离合，刹车，油门，制动踏板又称脚刹。

15、这个标志是何含义？



- A、立体交叉直行和右转弯行驶
- B、立体交叉直行和左转弯行驶
- C、直行和左转弯行驶
- D、直行和右转弯行驶

正确答案：B

分析：立体交叉直行和左转弯行驶：表示车辆在立交处可以直行和按图示路线左转弯行驶。此标志设在立交左转弯出口处适当位置。

16、未取得机动车驾驶证申请人，在道路上学习驾驶时，没有教练员随车指导，由公安机关交通管理部门处多少元罚款？

- A、二千元以上五千元以下罚款
- B、二十元以上二百元以下罚款
- C、二百元以上二千元以下罚款
- D、一千元以上三千元以下罚款

正确答案：C

分析：《机动车驾驶证申领和使用规定》规定，申请人在道路上学习驾驶时，有下列情形之一的，由公安机关交通管理部门按照《道路交通安全法》第九十九条第一款第一项（未取得机动车驾驶证、机动车驾驶证被吊销或者机动车驾驶证被暂扣期间驾驶机动车的，由公安机关交通管理部门处二百元以上二千元以下罚款）规定予以处罚：（一）未取得学习驾驶证明的；（二）没有教练员或者随车指导人员的；（三）由不符合规定的人员随车指导的。将机动车交由有前款规定情形之一的申请人驾驶的，由公安机关交通管理部门按照《道路交通安全法》第九十九条第一款第二项规定予以处罚。

17、非机动车驾驶人、行人故意碰撞机动车造成交通事故的，机动车一方不承担赔偿责任。

A、正确

B、错误

正确答案：A

分析：《中华人民共和国道路交通安全法》第七十六条明确规定交通事故的损失是由非机动车驾驶人、行人故意碰撞机动车造成的，机动车一方不承担赔偿责任。

18、这个标志是何含义？



A、分向车道

B、右转车道

C、掉头车道

D、左转车道

正确答案：D

分析：表示只准一切车辆向左转弯。此标志设在车辆必须向左转弯的路口以前适当位置。

19、驾驶校车在高速公路、城市快速路上行驶超速未达 20% 的，一次记多少分？

A、9 分

B、6 分

C、12 分

D、3 分



正确答案：B

分析：《道路交通安全违法行为记分管理办法》规定，机动车驾驶人有下列交通违法行为之一，一次记6分：（一）驾驶校车、公路客运汽车、旅游客运汽车载人超过核定人数未达到百分之二十，或者驾驶7座以上载客汽车载人超过核定人数百分之二十以上未达到百分之五十，或者驾驶其他载客汽车载人超过核定人数百分之五十以上未达到百分之百的；（二）驾驶校车、中型以上载客载货汽车、危险物品运输车辆在高速公路、城市快速路上行驶超过规定时速未达到百分之二十，或者在高速公路、城市快速路以外的道路上行驶超过规定时速百分之二十以上未达到百分之五十的；（三）驾驶校车、中型以上载客载货汽车、危险物品运输车辆以外的机动车在高速公路、城市快速路上行驶超过规定时速百分之二十以上未达到百分之五十，或者在高速公路、城市快速路以外的道路上行驶超过规定时速百分之五十以上的；（四）驾驶载货汽车载物超过最大允许总质量百分之五十以上的；（五）驾驶机动车载运爆炸物品、易燃易爆化学物品以及剧毒、放射性等危险物品，未按指定的时间、路线、速度行驶或者未悬挂警示标志并采取必要的安全措施的；（六）驾驶机动车运载超限的不可解体的物品，未按指定的时间、路线、速度行驶或者未悬挂警示标志的；（七）驾驶机动车运输危险化学品，未经批准进入危险化学品运输车辆限制通行的区域的；（八）驾驶机动车不按交通信号灯指示通行的；（九）机动车驾驶证被暂扣或者扣留期间驾驶机动车的；（十）造成致人轻微伤或者财产损失的交通事故后逃逸，尚不构成犯罪的；（十一）驾驶机动车在高速公路或者城市快速路上违法占用应急车道行驶的。

20、驶近图中所示的路段时，只要没有车辆和行人在人行横道上通过，就可以加速通过。



A、正确

B、错误

正确答案：B

分析：通过人行横道，要减速慢行。

21、机动车驾驶人可以在机动车驾驶证核发地或交通违法行为发生地、处理地参加公安机关交通管理部门组织的道路交通安全法律、法规和相关知识学习，并在学习地参加考试。

A、正确

B、错误

正确答案：A

分析：《道路交通安全违法行为记分管理办法》规定：机动车驾驶人可以在机动车驾驶证核发地或者交通违法行为发生地、处理地参加公安机关交通管理部门组织的道路交通安全法律、法规和相关知识学习，并在学习地参加考试。

22、在图中所示的这种天气行车，由于能见度较低，需要开启远光灯告知对向来车。



A、正确

B、错误

正确答案：B

分析：因为雨天视线受阻，所以雨天与车辆近距离行驶时不能使用远光灯，应当开启前照灯、示廓灯和后位灯。

23、夜间驾驶机动车遇自行车对向驶来时，应怎样做？

A、连续变换远、近光灯

B、不断鸣喇叭

C、使用远光灯

D、使用近光灯，减速或停车避让

正确答案：D

分析：注意审题 是遇见自行车。 车让自行车 大让小 故选 D.

24、车辆起步前，驾驶人应对车辆周围交通情况进行观察，确认安全时再开始起步。

A、正确

B、错误

正确答案：A

分析：这道题里的话并没有错，观察周围只是起步前准备工作的一部分，并没有说是不用打转向灯的。

25、驾驶人在驾驶证核发地车辆管理所管辖区以外居住的，应该在哪里换证？

A、派出所

B、公安局

C、居住地车辆管理所

D、政务大厅

正确答案：C

分析：驾驶人在机动车和发地机动车驾驶证和发地以外居住的可以向居住地车辆管理所申请换证。

26、机动车在路边道路临时停车时，可以暂时并列停放。

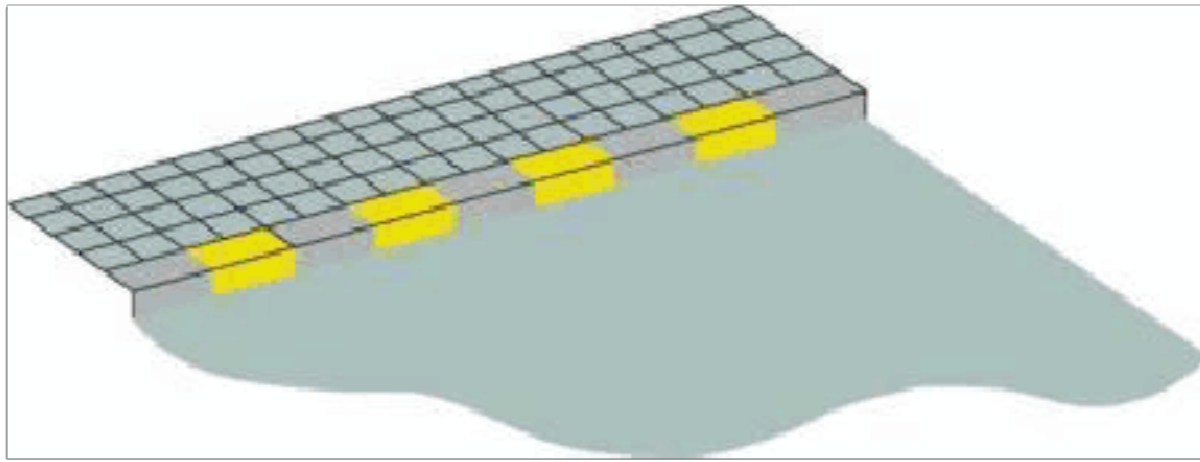
A、正确

B、错误

正确答案：B

分析：在路边临时停车时应遵循“不影响正常交通”的原则，因此临时停车时，不得并列停放，要靠路边尽可能留出空间便于其他车辆通行。

27、路缘石上的黄色虚线是何含义？



A、禁止临时停车

B、禁止上下人员

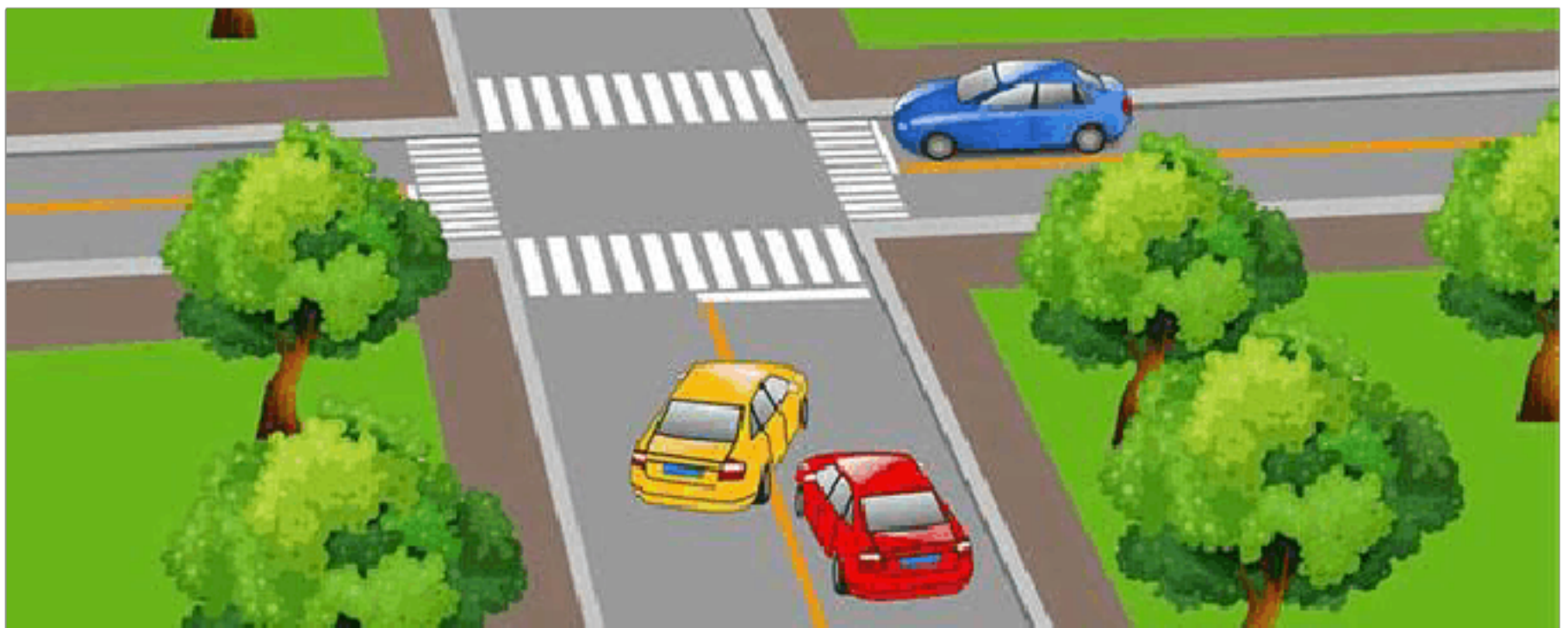
C、禁止长时停车

D、禁止装卸货物

正确答案：C

分析：虚线禁止长时停车；实线禁止停车。

28、请判断图中这辆黄色机动车有几种违法行为？



A、有一种违法行为

B、有两种违法行为

C、有三种违法行为

D、有四种违法行为

正确答案：C



分析：如图所示，黄色机动车的违法行为有：1、交叉路口处不得超车（实线）；2、未按规定使用灯光；3、未与被超车辆保持安全距离。

29、驾驶机动车上坡时，在将要到达坡道顶端时要加速并鸣喇叭

A、正确

B、错误

正确答案：B

分析：肯定是错的，鸣喇叭对，但是加速是错误的。

30、大雾天行车，多鸣喇叭是为了引起对方注意，避免发生危险。

A、正确

B、错误

正确答案：A

分析：雾天能见度低，驾驶人的视线模糊、视距变短、视野变窄，在道路上行车，多鸣喇叭引起行人和车辆注意，避免发生交通事故。

31、在这段高速公路上行驶的最高车速是多少？



A、120 公里/小时

B、100 公里/小时

C、90 公里/小时

D、60 公里/小时

正确答案：A

分析：那个 120 的牌子就是最高车速限制。

32、年满 70 周岁的普通三轮摩托车驾驶人，应到车管所换领轻便摩托车的机动车驾驶证。

A、正确

B、错误

正确答案：A

分析：《机动车驾驶证申领和使用规定》规定：年龄在 70 周岁以上的，不得驾驶低速载货汽车、三轮汽车、轻型牵引挂车、普通三轮摩托车、普通二轮摩托车。持有普通三轮摩托车、普通二轮摩托车驾驶证的，应当到机动车驾驶证核发地或者核发地以外的车辆管理所换领准驾车型为轻便摩托车的机动车驾驶证；持有驾驶证包含轻型牵引挂车准驾车型的，应当到机动车驾驶证核发地或者核发地以外的车辆管理所换领准驾车型为小型汽车或者小型自动挡汽车的机动车驾驶证。

33、申请机动车驾驶证年龄在 70 周岁以上的人，需要进行记忆力、判断力、反应力等能力测试。

A、正确

B、错误

正确答案：A

分析：《机动车驾驶证申领和使用规定》规定：年龄在 70 周岁以上能够通过记忆力、判断力、反应力等能力测试的，可以申请小型汽车、小型自动挡汽车、残疾人专用小型自动挡载客汽车、轻便摩托车准驾车型的机动车驾驶证。

34、代替实际机动车驾驶人接受交通违法行为处罚和记分牟取经济利益的，由公安机关交通管理部门处违法所得三倍以下罚款，但最高不超过五万元。

A、正确

B、错误

正确答案：A

分析：《道路交通安全违法行为记分管理办法》规定：机动车驾驶人请他人代为接受交通违法行为处罚和记分并支付经济利益的，由公安机关交通管理部门处所支付经济利益三倍以下罚款，但最高不超过五万元；同时，依法对原交通违法行为作出处罚。代替实际机动车驾驶人接受交通违法行为处罚和记分牟取经济利益的，由公安机关交通管理部门处违法所得三倍以下罚款，但最高不超过五万元；同时，依法撤销原行政处罚决定。组织他人实施前两款行为之一牟取经济利益的，由公安机关交通管理部门处违法所得五倍以下罚款，但最高不超过十万元；有扰乱单位秩序等行为，构成违反治安管理行为的，依法予以治安管理处罚。



35、灯光开关在该位置时，后雾灯点亮。



A、正确

B、错误

正确答案：A

分析：雾在左边是前雾灯，雾在右边是后雾灯，这样旋转会拧至前雾灯位置。

36、饮酒后驾驶营运机动车依法被吊销机动车驾驶证未满五年的，不得再次申请机动车驾驶证。

A、正确

B、错误

正确答案：A

分析：《机动车驾驶证申领和使用规定》规定，有下列情形之一的，不得申请机动车驾驶证：（一）有器质性心脏病、癫痫病、美尼尔氏症、眩晕症、癔病、震颤麻痹、精神病、痴呆以及影响肢体活动的神经系统疾病等妨碍安全驾驶疾病的；（二）三年内有吸食、注射毒品行为或者解除强制隔离戒毒措施未满三年，以及长期服用依赖性精神药品成瘾尚未戒除的；（三）造成交通事故后逃逸构成犯罪的；（四）饮酒后或者醉酒驾驶机动车发生重大交通事故构成犯罪的；（五）醉酒驾驶机动车或者饮酒后驾驶营运机动车依法被吊销机动车驾驶证未满五年的；（六）醉酒驾驶营运机动车依法被吊销机动车驾驶证未满十年的；（七）驾驶机动车追逐竞驶、超员、超速、违反危险化学品安全管理规定运输危险化学品构成犯罪的依法被吊销机动车驾驶证未满五年的；（八）因本款第四项以外的其他违反交通管理法律法规的行为发生重大交通事故构成犯罪的依法被吊销机动车驾驶证未满十年的；（九）因其他情形依法被吊销机动车驾驶证未满二年的；（十）驾驶许可依法被撤销未满三年的；（十一）未取得机动车驾驶证驾驶机动车，发生负同等以上责任交通事故造成人员重伤或者死亡未满十年的；（十二）三年内有代替他人参加机动车驾驶人考试行为的；（十三）法律、行政法规规定的其他情形。未取得机动车驾驶证驾驶机动车，有第一款第五项至第八项行为之一的，在规定期限内不得申请机动车驾驶证。

37、这个标志是何含义？



- A、临崖路
- B、堤坝路
- C、傍山险路
- D、落石路

正确答案：C

分析：傍山险路：用以提醒车辆驾驶人小心驾驶。设在傍山险路路段以前适当位置。

38、驾驶人行车中看到注意儿童标志的时候，应怎样做？

- A、加速行驶
- B、绕道行驶
- C、谨慎选择行车速度
- D、保持正常车速行驶

正确答案：C

分析：祖国的花朵，当然要保护了。

39、高速公路上车辆发生故障或交通事故后，不按规定设置警告标志的，对驾驶人处以罚款 200 元、驾驶证记 1 分的处罚。

- A、正确
- B、错误

正确答案：B

分析：在道路上车辆发生故障、事故停车后，不按规定使用灯光或者设置警告标志的，罚款200，记3分。

40、机动车驾驶人在实习期内驾驶机动车不得牵引挂车。

A、正确

B、错误

正确答案：A

分析：识题，小车都开不好，还要牵引挂车，安全第一。

41、改变车身颜色、更换发动机、车身或车架，未在规定时间内办理变更登记的，由公安机关交通管理部门处警告或者200元以下罚款。

A、正确

B、错误

正确答案：A

分析：《机动车登记规定》规定，有下列情形之一的，由公安机关交通管理部门处警告或者二百元以下罚款：（一）重型、中型载货汽车、专项作业车、挂车及大型客车的车身或者车厢后部未按照规定喷涂放大的牌号或者放大的牌号不清晰的；（二）机动车喷涂、粘贴标识或者车身广告，影响安全驾驶的；（三）载货汽车、专项作业车及挂车未按照规定安装侧面及后下部防护装置、粘贴车身反光标识的；（四）机动车未按照规定期限进行安全技术检验的；（五）改变车身颜色、更换发动机、车身或者车架，未按照第十六条规定的时限办理变更登记的；（六）机动车所有权转让后，现机动车所有人未按照第二十五条规定的时限办理转让登记的；（七）机动车所有人办理变更登记、转让登记，未按照第十八条、第二十七条规定的时限到住所地车辆管理所申请机动车转入的；（八）机动车所有人未按照第二十三条规定申请变更备案的。

42、驾驶车辆通过无人看守的铁路道口时，应怎样做？

A、加速通过

B、减速通过

C、匀速通过

D、一停、二看、三通过

正确答案：D

分析：一停，是停在未到铁道前，不是停在铁路上二看，是在铁道前观察是否有火车要经过

三通过，才是安全通过

43、请判断图中右侧灰色机动车逆向行驶是属于什么行为？



A、违法行为

B、违规行为

C、违章行为

D、违纪行为

正确答案：A

分析：如图所示，右侧灰色机动车在逆向行驶，是违反道路交通安全法的行为，属于违法行为。

44、属于申请增加准驾车型的，应当收回原机动车驾驶证。

A、正确

B、错误

正确答案：A

分析：《机动车驾驶证申领和使用规定》第五十五条：申请人考试合格后，应当接受不少于半小时的交通安全文明驾驶常识和交通事故案例警示教育，并参加领证宣誓仪式。车辆管理所应当在申请人参加领证宣誓仪式的当日核发机动车驾驶证。属于申请增加准驾车型的，应当收回原机动车驾驶证。属于复员、转业、退伍的，应当收回军队、武装警察部队机动车驾驶证。



45、在这种急弯道路上行车，应该使用什么灯光？



A、远光灯

B、交替使用远近光灯

C、危险报警闪光灯

D、近光灯

正确答案：B

分析：机动车在夜间通过急弯、坡路、拱桥、人行横道或者没有交通信号灯控制的路口时，应当交替使用远近光灯示意。

46、驾驶机动车造成致人轻微伤或者财产损失的交通事故后逃逸，尚不构成犯罪的，将会被一次记12分。

A、正确

B、错误

正确答案：B

分析：《道路交通安全违法行为记分管理办法》规定，机动车驾驶人有下列交通违法行为之一，一次记6分：（一）驾驶校车、公路客运汽车、旅游客运汽车载人超过核定人数未达到百分之二十，或者驾驶7座以上载客汽车载人超过核定人数百分之二十以上未达到百分之五十，或者驾驶其他载客汽车载人超过核定人数百分之五十以上未达到百分之百的；（二）驾驶校车、中型以上载客载货汽车、危险物品运输车辆在高速公路、城市快速路上行驶超过规定时速未达到百分之二十，或者在高速公路、城市快速路以外的道路上行驶超过规定时速百分之二十以上未达到百分之五十的；（三）驾驶校车、中型以上载客载货汽车、危险物品运输车辆以外的机动车在高速公路、城市快速路上行驶超过规定时速百分之二十以上未达到百分之五十，或者在高速公路、城市快速路以外的道路上行驶超过规定时速百分之五十以上的；（四）驾驶载货汽车载物超过最大允许总质量百分之五十以上的；（五）驾驶机动车载运爆炸物品、易燃易爆化学物品以及剧毒、放射性等危险物品，未按指定的时间、路线、速度行驶或者未悬挂警示标志并采取必要的安全措施的；（六）驾驶机动车运载超限的不可解体的物品，未按指定的时间、路线、速度行驶或者未悬挂警示标志的；（七）驾驶机动车运输危

险化学品，未经批准进入危险化学品运输车辆限制通行的区域的；（八）驾驶机动车不按交通信号灯指示通行的；（九）机动车驾驶证被暂扣或者扣留期间驾驶机动车的；（十）造成致人轻微伤或者财产损失的交通事故后逃逸，尚不构成犯罪的；（十一）驾驶机动车在高速公路或者城市快速路上违法占用应急车道行驶的。

47、进入减速车道时怎样使用灯光？



- A、开启左转向灯
- B、开启右转向灯
- C、开启危险报警闪光灯
- D、开启前照灯

正确答案：B

分析：因为你要先进入减速车道，所以要打开右转向进入减速车道。

48、请判断前面这辆小型客车在提示什么？



- A、准备向左转弯
- B、前方有障碍物
- C、准备向左变道
- D、超越前方车辆



以上内容仅为本文档的试下载部分，为可阅读页数的一半内容。如要下载或阅读全文，请访问：<https://d.book118.com/266132033031011004>