

部编版2025年中考 二轮专题复习

专题3：聚焦中国式现代化

细节决定成败 思考决定高度

专题3：聚焦中国式现代化

独特的文化传统，独特的历史命运，独特的国情，注定了中国必然走适合自己特点的发展道路。

—— 2014年4月1日 习近平在布鲁日欧洲学院的演讲

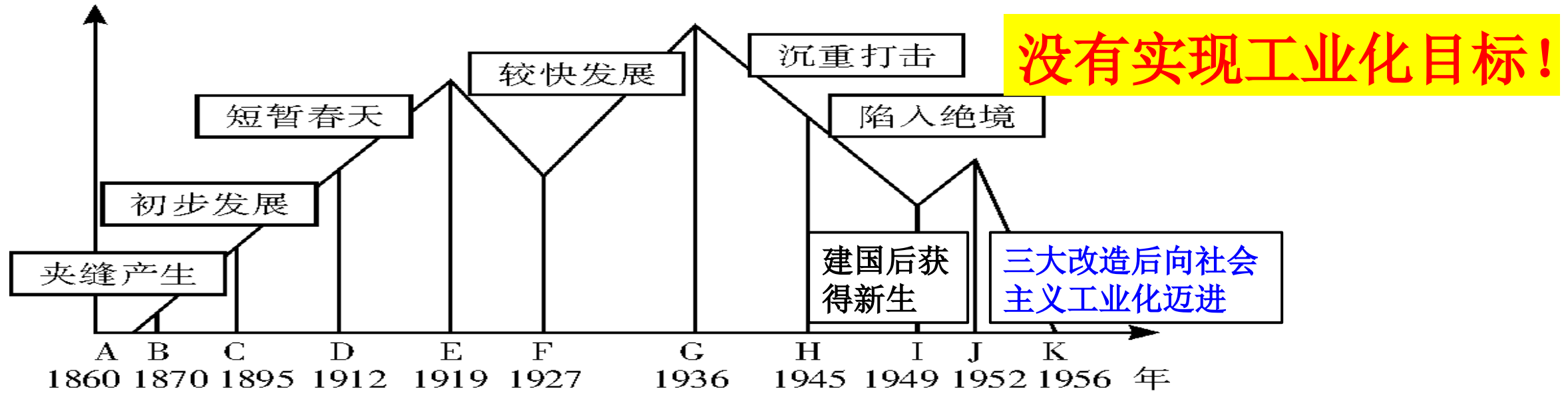
现代化的过程就是传统社会向现代社会的变迁过程（社会转型），即传统农业社会向工业社会转变的过程。其主要标志：经济工业化，政治民主化和思想科学化。（从中国的国情看，中国式现代化包含早期现代化与现代化两部分）

从现在起，中国共产党的中心任务就是团结带领全国各族人民全面建成社会主义现代化强国、实现第二个百年奋斗目标，以中国式现代化全面推进中华民族伟大复兴。……中国式现代化就是中国共产党领导的社会主义现代化，既有各国现代化的共同特征，更有基于自己国情的中国特色。

——中共二十大报告

一、中国早期现代化探索历程

(一) 经济工业化：中国近代民族资本主义的发展



中国民族资本主义的曲折发展

近代民族资本主义，先天不足（资金少、规模小、环境差）、过程曲折受到三座大山（帝国主义、封建主义、官僚资本主义）压迫，后天畸形（总体水平落后、主要是轻工业、集中于沿海沿江），最终经历日本侵华战争等打击陷入绝境。

真题演练

1. (2022·江苏盐城·7) 下表是1916—1919年荣氏兄弟创办的申新纺纱厂盈利变化情况。为这一时期民族工业迅速发展提供良机的是 ()

- A. 洋务运动的开展
- B. 实业救国思潮的兴起
- C. 欧洲列强忙于一战
- D. 南京国民政府的鼓励

年份	1916	1917	1918	1919
利润 (万元)	2	12	22	104

C

2. (2022·贵州六盘水·4) 毛泽东说：讲到重工业不能忘记张之洞，讲到轻工业不能忘记张謇。轻工业方面是因为状元实业家张謇抱着“实业救国”的理想，创办了许多实业。其中最著名的是 ()

- A. 湖北枪炮厂
- B. 汉阳铁厂
- C. 大生纱厂
- D. 福新面粉公司

B

一、中国早期现代化探索历程

(二) 政治民主化：专制到民主

1. 1898年戊戌变法： 开启政治近代化；
2. 1911年辛亥革命： 推翻君主专制；
3. 1912年颁布《临时约法》 建立民主共和制；
： 维护民主共和制。



辛亥革命以孙中山先生的解职和袁世凯的登台而结束，实际上是失败了。中国的半殖民地半封建社会并没有改变，帝国主义和封建主义两座大山仍然沉重地压在中国人民的头上。

——《吴玉章回忆录》

真题演练

1. (2021·广西河池·6) 它规定：中华民国人民一律平等，无种族、阶级、宗教之区别：人民享有人身、财产、考试、选举及被选举等自由和权利。这里的“它”；是 ()
- A. 《中华民国临时约法》 **A** B. 《中华民国约法》
C. 《中华人民共和国土地改革法》 D. 《中华人民共和国宪法》
2. (2021·广西北部湾·8) 吴玉章在《辛亥革命亲历记》中提到：“辛亥革命的胜利，也使五四运动不可避免。因为人民在经过了这样一次天翻地覆的变化以后，精神和思想上获得了相当大的解放……比较容易地接受新的革命理论。”以上材料论述的是 (**D**)
- A. 辛亥革命的背景 B. 辛亥革命的经过
C. 辛亥革命的特点 D. 辛亥革命的影响

一、中国早期现代化探索历程

(三) 思想文化：科学化与理性化

1. 19世纪40年代：提出“师夷长技以自强”主张
2. 19世纪60年代：提出“中体西用”思想
3. 戊戌变法时期：提出“维新变法”主张
4. 辛亥革命时期：提出“民主共和”思想
5. 新文化运动时期：提倡“民主科学”口号
6. 五四运动时期：马克思主义广泛传播
7. 中共七大：毛泽东思想被确立为党的指导思想

地主阶级



资产阶级




无产阶级

真题演练

1. (2022·四川乐山·22) 如图是乐乐同学在学习了中国近代史某一课后绘制的漫画。据此推测他学习的课题是 ()

- A. 鸦片战争 B. 洋务运动
C. 戊戌变法 D. 武昌起义

B



2. (2021·浙江宁波·4) 洋务运动、戊戌变法、辛亥革命是中国人面对数千年未有之大变局而进行的三次艰辛探索。其共同点是 ()

B

- A. 维护封建统治 B. 挽救民族危机 C. 推行君主立宪 D. 建立民主共和

3. (2021·湖南湘西·17) “作民权保障，谁非第一者；为宪法流血，公真第一人”，这是孙中山为谁作的挽联？ ()

C

- A. 蔡锷 B. 黄兴 C. 宋教仁 D. 陈天华

真题演练

4. (2022·江苏泰州·34) 口号往往反映一场运动的目的和诉求, 具有鲜明的时代特征。下列口号体现了中国近代化的发展历程, 其先后顺序是 ()

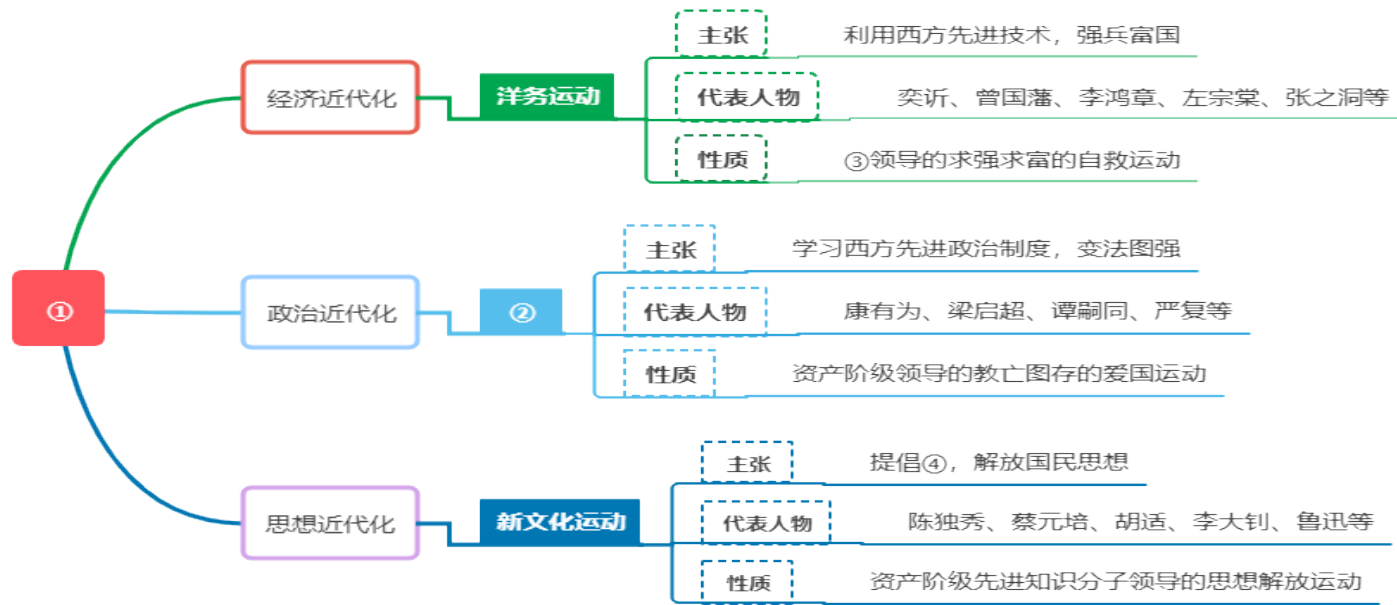
①自强求富 ②三民主义 ③变法图强 ④民主与科学

A. ①②③④ B. ②①③④ C. ③①②④ D. ①③②④

5. (2021·湖南衡阳·8) 近代以来先进的中国人为了挽救民族危亡, 先后提出了“师夷长技以自强”、“君主立宪”、“民主共和”、“民主和科学”的思想, 这反映出中国学习西方的历程是 ()

A. 学制度→学技术→学思想 B. 学思想→学制度→学技术
C. 学技术→学制度→学思想 D. 学制度→学思想→学技术

6. (2022·四川成都·11) 绘制思维导图是学习历史的有效方法。下列选项与图中序号对应完全正确的是 ()



- A. ①近代的屈辱与抗争②戊戌变法③地主阶级④三民主义
- B. ①近代的屈辱与抗争②辛亥革命③资产阶级④民主与科学
- C. ①近代化的探索②辛亥革命③资产阶级④三民主义
- D. ①近代化的探索②戊戌变法③地主阶级④民主与科学

一、中国早期现代化探索历程

(四) 社会领域：文明化和开放化

1. 新式教育： 京师同文馆、京师大学堂、废除科举考试等
2. 新闻出版： 《申报》 《大公报》 《解放日报》 等； 商务印书馆、中华书局、新华书店等
3. 文学艺术： 鲁迅、巴金、老舍、郭沫若、齐白石、徐悲鸿等
4. 交通工具： 火车、轮船、电车等
5. 社会习俗： 剪发辫、易服饰、改称谓等

总体来看，呈现出新旧并呈、多元发展的特征。

真题演练

1. (2020·四川眉山·7) 1912年, 中华民国政府颁行法令, 要求废除满式的官服顶戴, 以新礼服代替旧式官服, 不分级别高低任职的官员, 一概统一着装, 民间争相效仿。这说明当时 (**B**)
- A. 人人享有充分自由
B. 政治影响社会生活
C. 实现社会民主平等
D. 借鉴西方文官制度
2. (2022·山东青岛·19) 20世纪20年代初期一次民意测验表明, 爱吃中餐者占77%, 爱吃西餐、中式西餐、兼食中餐者占23%。中西餐交相辉映, 共同构成了民国饮食业的新格局。材料反映了民国时期 ()
- A. 民主共和的进程
B. 新式教育的出现
C. 文学艺术的发展
D. 社会生活的变化 **D**

真题演练

3. (2022·浙江湖州·14) 20世纪初, 中国人的社会生活思想观念悄然发生变化。以下情景可能出现在1906年上海的有 (C)
- ①男子纷纷剪去辫子 ②学生在新式学堂学习外语
③《申报》刊登《狂人日记》 ④市民在电话公司拨打电话
- A. ①② B. ①③ C. ②④ D. ③④
4. (2022·安徽·5) “男女平权, 公说公有理, 婆说婆有理; 阳历你过你的年, 我过我的年。”这幅对联所反映的社会风貌是 (B)
- A. 男尊女卑 B. 新旧并呈 C. 封闭保守 D. 自由博爱
5. (2020·四川宜宾·9) 20世纪20年代初, 上海旗袍率先吸收欧美服装特点, 由传统 (A) 松肥大、线条平直向窄腰短袖、时髦适体变化。这变化表明上海 ()
- A. 观念开放, 崇洋逐新 B. 政治改良, 革除陋习
C. 全盘西化, 倡导民主 D. 洋布流行, 土布淘汰

一、中国早期现代化探索历程

(五) 总结提升

1. 早期现代化探索历程特点：

- (1) 动力：是在西方殖民侵略的外在压力下被动进行的；
- (2) 过程：从器物到制度再到思想，由表及里，层层深入；
- (3) 目的：以救亡图存，实现中华民族伟大复兴为目的。

2. 影响早期现代化探索历程的因素：

- (1) 推动因素：有识之士的探索；改革或革命；西方先进科技、思想文化的传入。
- (2) 阻碍因素：帝国主义的侵略；封建主义的阻碍；官僚资本主义的破坏。

以上内容仅为本文档的试下载部分，为可阅读页数的一半内容。如要下载或阅读全文，请访问：
<https://d.book118.com/267135066150006102>