



## 选择题

下列图片符合北京人生活特征的是（ ）



【答案】B

【解析】

依据课本所学，北京人生活在距今约七十万年至二十万年的北京西南周口店的山洞里，他们会直立行走，使用打制石器，过群居生活，共同劳动（采集、狩猎）共同分享劳动成果；会使用天然火，他们用火烧烤食物、驱赶野兽，照明、防寒，火的使用增强了人们适应自然的

能力。B 项符合题意；半坡人的房屋是半地穴房屋，屋内有灶炕。A 项不合题意；河姆渡人开始了原始农耕生活，开始种植水稻。C 项不合题意；半坡人的生活的陶器，最具特色的彩陶。D 项不合题意。由此可知 ACD 三项不合题意，故选择 B。

### 选择题

歌曲《国家》中唱到“一玉口中国，一瓦顶成家……家是最小国，国是千万家”。我国早期国家产生的标志是（ ）

- A. 有了人文始祖 B. 大禹治水
- C. 学会用火 D. 夏王朝建立

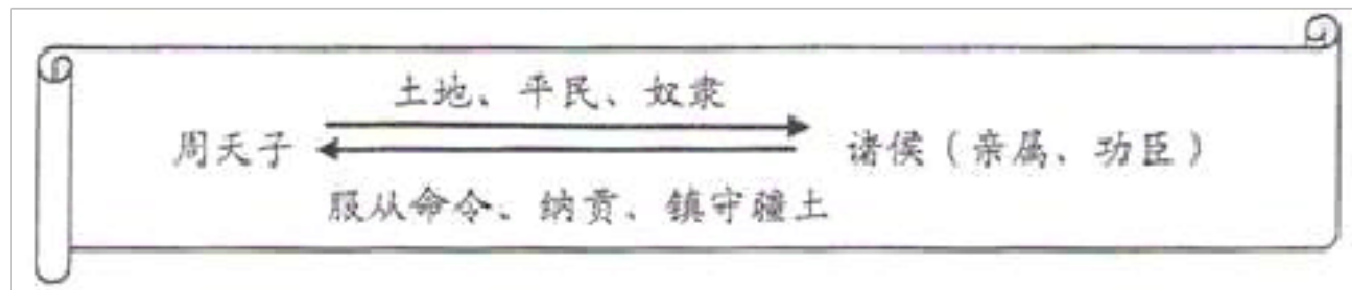
**【答案】** D

**【解析】**

依据课本所学，约公元前 2070 年，禹建立我国历史上第一个王朝 - 夏朝，夏朝是我国的早期国家。禹死后，启继承父位。从此，“世袭制”代替“禅让制”，“公天下”变成了“家天下”。我国漫长的原始社会到此结束，奴隶社会开始了。D 项符合题意。ABC 三项不合题意，故选择 D。

## 选择题

为了方便记忆，某同学画了下面这张示意图，此示意图反映的内容是（ ）



A. 禅让制 B. 分封制 C. 郡县制 D. 行省制

**【答案】** B

**【解析】**

试题本题主要考查西周的分封制。为了巩固统治，西周实行分封制，周天子把土地和平民、奴隶，分给亲属、功臣等，封他们为诸侯。诸侯必须服从周天子的命令，向周天子交纳贡品，平时镇守疆土，战时随天子作战。故选 B。

## 选择题

史学界将有文字可考的历史称为“信史”。依此标准，中国的“信史”可以追溯到

A. 夏朝 B. 商朝 C. 西周 D. 秦朝

**【答案】** B

**【解析】**依据所学可知，清末发现的刻在龟甲和兽骨上的文字被称为甲骨文。甲骨文主要记载商朝的政治、经济、祭祀等活动。甲骨文是

一战比较成熟的文字，目前所知，我国有文字可考的历史从商朝开始。所以中国的“信史”可以追溯到商朝。B项符合题意故此题选B。

### 选择题

屈原在《离骚》中言“朕皇考曰伯庸（我的父亲字伯庸）”。而到秦朝后，只有天子才能自称为“朕”。这一变化源于秦朝建立的（ ）

A. 分封制 B. 三公九卿制 C. 郡县制 D. 皇帝制度

**【答案】**D

**【解析】**

依据所学可知，秦朝统一后，为了加强对全国的统治，创立了一套封建专制主义的中央集权制度。建立皇帝制度，国家最高统治者称皇帝。经过秦朝君臣议定，以后皇帝自称为“朕”，表示皇帝身份的高贵。D项符合题意；为了巩固统治，西周实行分封制，A项不合题意；三公九卿制是秦朝的中央机关，B项不合题意；秦朝在地方推行郡县制。C项不合题意。由此可知ABC三项不合题意，故选择D。

### 选择题

如果你生活在秦朝时期，遇上了当时一个官吏，你认为这位官吏说的

哪些话是可信的（ ）

① 我刚刚拜会了我县的县令② 我下个月送儿子去太学读书③ 朋友送给我一部佛经④ 官府用小篆字体发布了一个告示

A. ①② B. ①④ C. ②③ D. ③④

**【答案】** B

**【解析】**根据材料中涉及的秦朝结合知识分析选项可知，秦朝在地方实行郡县制，郡下设县，所以①符合题意；太学是在汉武帝时期开始兴办的，所以②不符合题意；佛教最早传入我国是在西汉时期，所以③不符合题意；秦国统一了文字，规定小篆为统一的文字，所以④符合题意。①④符合题意，故选 B。

选择题

“既打老虎又拍苍蝇”是当今社会流行的热词，它反映了党中央在惩治腐败这一大是大非问题上的原则立场和政策措施，既形象又深刻。秦朝在中央负责监察百官的是

A. 丞相 B. 御史大夫  
C. 太尉 D. 郡守

**【答案】** B

**【解析】**根据题干信息“秦朝在中央负责监察百官”，结合所学知识可知，秦始皇在中央设立丞相（主管行政）、太尉（主管军事）、御史大

夫（监察百官），在地方建立郡（郡守）县（县令）制。因此只有选项 B 符合题意，故选 B。

### 选择题

在一次历史活动课上，同学们表演了中国历史上第一次大规模的农民起义。他们的台词是

- A. 时日曷丧，予及汝偕亡！
- B. 王侯将相，宁有种乎？
- C. 治世不一道，便国不法古
- D. 长太息以掩涕兮，哀民生之多艰

**【答案】** B

**【解析】** 依据所学可知，公元前 209 年陈胜吴广大泽乡起义，他们高呼“王侯将相，宁有种乎？”，B 项符合题意；时日曷丧，予及汝偕亡是百姓咒骂夏桀的言论；治世不一道，便国不法古是商鞅的变法主张；长太息以掩涕兮，哀民生之多艰是屈原的名言。由此分析 ACD 不合题意，故此题选 B。

### 选择题

假如你穿越到西汉，可能看到的情景有( )

① 卫青、霍去病反击匈奴凯旋 ② 诸子百家就“推恩令”的利弊各抒己见 ③ 人们使用“蔡侯纸”书写 ④ 一位太学生因学习成绩优秀被朝廷任命为官

A. ①③ B. ①④

C. ②④ D. ③④

**【答案】** B

**【解析】**

依据所学知识可知，公元前 119 年，汉武帝在位时，卫青、霍去病大败匈奴，故① 项正确；汉武帝在长安兴办太学，大力推行儒学教育，在太学中儒学成绩优秀的学生可以直接为官，故④ 项正确。所以，①④ 两项是可能看到的情景，B 项符合题意；汉武帝实行“罢黜百家，独尊儒术”的政策，② 项错误；“蔡侯纸”是东汉出现的，在西汉不可能看到，③ 项错误，需排除含② 或③ 的 ACD 三项。故选 B。

选择题

历史学科具有让后人吸取前人智慧的价值。“文景之治”给我们最大的启示在于( )

A. 大乱之后必有大治

B. 科技进步是经济发展的决定性因素

- C. 兴衰纷乱，循环往复
- D. 统治者可以通过调整政策来推动生产力的发展

**【答案】** D

**【解析】**

依据课本所学，西汉初年统治者吸取秦亡教训，减轻农民的赋税徭役、兵役和赋税负担，注重农业生产发展。文帝和景帝奖励努力耕作的农民劝诫百官关心农桑，提倡节俭，并以身作则，重视“以德化民”。文景时期，社会比较安定，百姓富裕，社会比较安定，国家的粮仓丰满，历史上称这一时期的统治为“文景之治”。统治者可以通过调整政策推动生产力发展是“文景之治”给我们的最大启示。D 项符合题意。ABC 三项不合题意，故选择 D。

选择题

某同学在学习“东汉的兴亡”时，做了如下笔记，其中错误的是

- A. 开始建立——刘秀公元 25 年称帝
- B. 兴盛局面——光武中兴促进发展
- C. 走向衰亡——外戚和宦官交替专权
- D. 沉重打击——陈胜吴广农民起义



**【答案】** D

**【解析】**

依据课本所学，由于东汉后期的朝政越来越腐败，时局动荡不安，社会上大批贫农流离失所，加上自然灾害频繁发生，广大人民再也不能忍受这种黑暗统治，反抗的情绪在民间蔓延。184年，张角领导的黄巾起义爆发，黄巾起义是一次有组织、有准备的农民起义，结果被镇压，它沉重打击了东汉的统治，使其一蹶不振。陈胜在公元前209年领导了大泽乡起义。D项符合题意；ABC三项表述正确，不合题意，故选择D。

选择题

宗教似一种文化现象，对人类文明有重要影响。与洛阳白马寺相关的宗教是（ ）

A. 佛教 B. 伊斯兰教 C. 基督教 D. 道教

**【答案】** A

**【解析】**

依据课本所学，佛教宣扬“众生平等”，宣传“忍耐服从”被许多国王利用，大力扶持佛教。佛教被广泛传播，公元前1世纪，佛教经中亚传到中国新疆，在传入中国内地，得到上层统治者的扶持，白马寺是中国最早的佛教寺院。A项符合题意。伊斯兰教、基督教也先后传入中

国，道教是中国土生土长的宗教，但是与白马寺无关。BCD 三项不合题意，故选择 A。

### 选择题

如果古代有微信，那么曹操的微信朋友圈，下列人物最有可能出现的是（ ）

A. 项羽 B. 刘邦 C. 董仲舒 D. 刘备

**【答案】** D

**【解析】**

根据所学知识，公元前 208 年，在赤壁之战中，周瑜指挥孙刘联军用火攻大败曹操，使曹操不敢轻易南下，孙权巩固他在长江中下游的统治，刘备占有四川，为三国鼎立局面的形成奠定了基础。故曹操的微信朋友圈有可能出现的是刘备。D 项符合题意；项羽和刘邦领导了秦朝末年农民的起义。AB 两项不合题意；董仲舒生活的西汉武帝时期，提出“罢黜百家，独尊儒术”的建议。C 项不合题意。由此可知 ABC 三项不合题意，故选择 D。

### 选择题

台湾及附属岛屿，包括钓鱼岛在内，自古以来就是中国领土。历史上大陆政权最早与台湾联系可以追溯到什么时期？（ ）

A. 秦 B. 西汉 C. 三国 D. 东晋

**【答案】** C

**【解析】**

依据课本所学，历史上大陆政权最早与台湾联系可以追溯到三国时期。三国时期，孙权派卫温等，曾到达夷洲（今台湾），加强了内地和台湾地区的联系。C项符合题意。ABD三项不合题意，故选择C。

选择题

小明同学寒假和家人一起出去旅游，回来告诉同学们：“我去的城市号称‘六朝古都’，三国时它叫建业，而东晋时则叫建康。”小明同学去的是

A. 北京  
B. 上海  
C. 南京  
D. 杭州

**【答案】** C

**【解析】** 根据题干中的关键信息“东晋时则叫建康”，结合所学知识可知，建康是今江苏南京。孙吴时名建业，东晋改成建康，故选C项。

### 选择题

黄仁宇在《中国大历史》中写到：“公元 383 年，这流亡政府的弱势军队出人意外地打败了前秦领袖苻坚所统率的绝对优势的北方联军。”这个“流亡政府”是（ ）

A. 东汉 B. 西晋 C. 东晋 D. 北魏


**【答案】** C

**【解析】**

试题本题主要考查淝水之战。根据所学知识可知，题干描述的是前秦和东晋之间的淝水之战，淝水之战发生于公元 383 年，是东晋时期北方的统一政权前秦向南方东晋发起的侵略吞并的一系列战役中的决定性战役，前秦出兵伐晋，于淝水（现今安徽省寿县的东南方）交战，最终东晋仅以八万军力大胜八十余万前秦军。ABD 不符合题意，C 符合题意，故选 C。

### 选择题

小明参观新型农业产业园归来，对高品质的果蔬种植，产生了很大的兴趣，可以介绍他查阅的著作是（ ）



【答案】C

【解析】

依据题干小明参观新型农业产业园归来，对高品质的果蔬种植，产生了很大的兴趣，可以介绍他查阅的著作是《齐民要术》。结合课本所学，北朝贾思勰撰写的《齐民要术》是我国现存最早的一部完整的农书。该书总结了农、林、牧、副、渔等方面的生产技术，内容十分丰

富。贾思勰强调农业生产要遵循自然规律，种植农作物必须因地制宜，不误农时；要改进生产技术和工具，还提出了多种经营和商品生产等宝贵思想。C 项符合题意；《水经注》是一部综合性的地理学专著，详细介绍了江河流经的山川城镇、地形物产、风土人情、历史古迹等。A 项不合题意；东晋画家顾恺之擅长人物画，线条优美活泼，人物传神，富有个性。代表作品有《女史箴图》和《洛神赋图》。BD 两项不合题意。ABD 三项不合题意，故选择 C。

### 选择题

歌曲《龙文》中唱到“一横长城长，一竖字铿锵；一画碟成双，一撇鹊桥上；一勾游江南，一点茉莉香。”这形象地赞誉了我国的

- A. 戏曲艺术
- B. 诗歌艺术
- C. 绘画艺术
- D. 书法艺术

**【答案】** D

**【解析】** 根据题干信息“一横长城长，一竖字铿锵；一画碟成双，一撇鹊桥上；一勾游江南，一点茉莉香”等，结合所学知识可知，“一横，一竖；一画，一撇；一勾，一点”，体现出中国汉字书写的艺术特点，形象地赞誉了我国的书法艺术，选项 D 符合题意；而其余 ABC

三项不符合题意，故选 D。

### 选择题

传说象棋是舜的弟弟象发明的，所以叫“象棋”。假如这种说法成立，那么中国象棋最早应出现于

- A. 原始社会
- B. 西周
- C. 夏朝
- D. 商朝

**【答案】** A

**【解析】** 试题分析：传说象棋是舜的弟弟象发明的，所以叫“象棋”。如果这种说法成立，那么中国象棋最早应出现于舜所生存的年代，即原始社会，故选 A。

### 选择题

2018 年春晚上的《丝路山水地图》引起公众极大关注，丝绸之路的功臣 - 张骞一时成为新年“网红”。张骞第一次出使西域距今（2018

以上内容仅为本文档的试下载部分，为可阅读页数的一半内容。如要下载或阅读全文，请访问：<https://d.book118.com/277000032165010003>