

## 二年级上册数学应用题 100 道

### 一. 解答题(共 100 题, 共 648 分)

- 小朋友去春游. 一(1)班有 29 人, 一(2)班有 28 人, 一(3)班有 27 人. 李老师买来 100 只面包, 每人分 1 只, 还能剩几只?
- 华侨农场有两个牛圈, 每个牛圈养 48 头牛. 兴隆农场有 77 头牛. 华侨农场的牛比兴隆农场的牛多多少?
- 同学们分成 4 组做风车, 每组做了 8 只, 送给幼儿园小朋友 7 只, 还有多少只?
- 小青有 9 个苹果, 张明比他的 2 倍多 5 个, 张明有多少个苹果? 两人一共有多少个苹果?
- 请你测量一盘磁带的长是多少?宽呢?
- 小明、小强和小红, 各得了 8 朵小红花, 他们共得几朵小红花?
- 阳光小学的学生参加三项体育活动人数的统计表如下. 请你算出跑步人数并填入表内. 然后解决下面两个问题。

跳高	跑步	打球	总计
26 人		18 人	95 人

- 请你算出跑步人数并填入表内.
  - 跑步的比打球的多多少人?
  - 跳高的比跑步的少多少人?
- 
- 第一小组有 9 个同学, 每人浇 6 棵树。
    - 第一小组共浇了多少棵树。
    - 第二小组浇了 50 棵树, 第一小组比第二小组多浇多少棵树。
  - 学校在操场的一边种树, 两棵树之间的距离是 4 米, 5 棵树之间的距离是多少米?
  - 合唱组原来有 19 人, 又有 8 人报名参加, 现在有多少人?
  - 小明拍了 54 下皮球, 小东比小明多拍 28 下, 小娟比小东少拍 9 下。
    - 小东拍了多少下?
    - 小娟拍了多少下?
  - 看图回答。



(1) 买一个台灯和一个乒乓球拍共需多少钱？

(2) 买录音机、牙膏、篮球共需多少钱？

(3) 买一支钢笔、一个闹钟和一个篮球，付了 100 元，应找回多少钱？

13. 小华摘西红柿 67 个，小芳摘茄子 80 个，西红柿比茄子少多少个？

14. 梨子有 8 个，桃子有 17 个，苹果有 12 个？

(1) 梨子和桃子一共多少个？

(2) 梨子和苹果一共多少个？

(3) 桃子和苹果谁多？多多少？

15. 解决问题。

饼干每包 4 元	巧克力每盒 6 元	蛋糕每块 5 元
----------	-----------	----------

(1) 小明买 3 包饼干用了多少钱？

(2) 小亮买 5 块蛋糕用了多少钱？

16. 一只蜗牛一天从地面往墙上向上爬了 3 米，晚上却滑下 1 米，第二天又向上爬了 3 米，现在蜗牛离地面有几米？

17. 器材室里有 35 个排球，足球比排球多 3 个。谁多谁少？有多少个足球？

18. 有 20 件上衣，43 条裤子，服装厂还要做多少件上衣才能和裤子配套？

19. 现在车上有多少人？



20. 蝴蝶和鸽子一共有多少只？



32 只



9 只

21. 玩具商店。



(1) 买 1 辆玩具汽车和 1 只玩具熊猫，需要多少钱？

(2) 小丽买了 4 只玩具狗和 1 部玩具电话，共需要多少钱？

(3) 请你再提出一个用乘法解决的问题并解答。

22. 二(1)班全体同学做早操, 班长发现今天有2人生病没有来。队伍正好站了6排, 每排8个人。二(1)班一共有多少人?

23. 一个小熊玩具5元, 小明用20元钱可以买几个小熊玩具?

24. 小刚拿了50元买一架玩具飞机用去38元, 应找回多少元?

25. 小东星期二画了6张画, 星期三、四、五画的张数和星期二同样多, 小东从星期二到星期五共画了几张画?

26. 购物。



(1) 大伟有60元钱, 可以买哪三件玩具?

(2) 一把玩具手枪比一个洋娃娃便宜多少钱?

(3) 大明买一辆玩具汽车, 售货员找回5元, 大明付了多少元?

(4) 小军的钱正好买一辆汽车, 你猜猜, 他最多有多少张10元的?

27. 小明搬砖, 每次可运5块。共有25块砖, 需要几次才能搬完?

28. 有3窝蚂蚁, 每窝4只, 有一只出去找食物了, 现在窝里还有几只蚂蚁?

29. 书架上再放5本书就有17本书了, 书架上原来有多少本书?

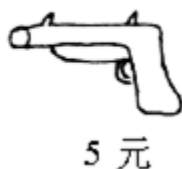
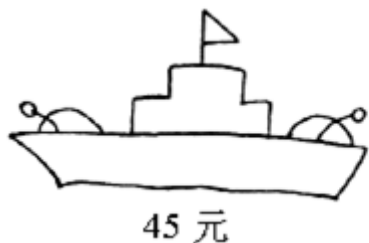
30. 小松鼠摘松果, 每个筐里放了5个松果, 一共放了9筐, 小松鼠一共摘了多少个松果?

31. 动物园里有13只狮子, 老虎比狮子少4只。谁多谁少? 有几只老虎?

32. 小林计算48加一位数时, 一不小心加到十位上去了, 结果是88, 你认为正确的结果应是多少?

33.

各买一个，共需多少钱？



34. 看图回答。



(1) 洋洋买了一件上衣和一条裙子，一共花了多少钱？

(2) 妈妈买了一件上衣和一顶帽子，付给售货员 100 元，应找回多少钱？

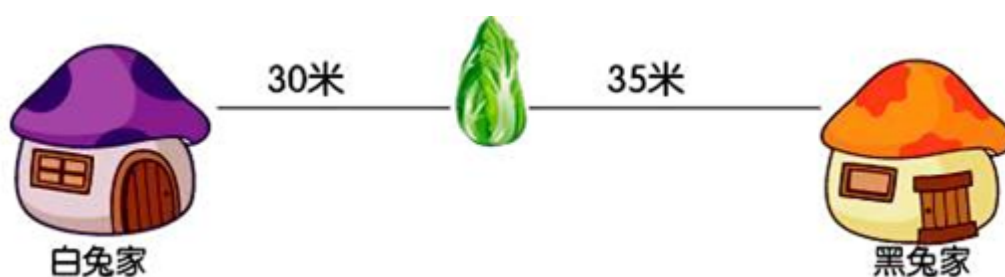
35. 商店运来 80 袋奶糖，上午卖了 24 袋，下午卖了 9 袋，一天一共卖了多少袋奶糖？

36. 给你 100 元去购物。




- (1) 你想买哪两种物品？还剩多少钱？
- (2) 买哪两种物品剩下的钱最多？剩下多少？
- (3) 正好可以买哪几样物品？

37. 从白兔家走到黑兔家，一共要走多少米？请提出其他问题并解答。



38. 小明不小心将一把尺子折成了两段，一段是 65 厘米，另一段是 35 厘米，这把尺子原来有多长？
39. 哥哥身高是 96 厘米，弟弟身高是 69 厘米，两人身高相差多少厘米？
40. 二年级（1）班上体育课，老师让 24 名同学做操，剩下的 18 名同学打篮球。全班共有多少名同学？打篮球的同学比做操的同学少几名？
41. 一盒牙膏 9 元 9 角，小红有 10 元钱，买这盒牙膏钱够用吗？如果够，还剩多少钱？如果不够，还差多少钱？
42. 看图解决问题。



- (1) 母鸡和小鸡共有多少只？
- (2) 小鸡比鹅多几只？

(3) 请你提出一个数学问题，并试着解答。

43. 马上就要过年了，同学们开始剪窗花，有 5 个同学一起剪，每人剪 7 朵，还有 5 朵没有剪，一共要剪多少朵窗花。

44. 有 20 名运动员和 6 名教练，一箱矿泉水共有 24，每人 1 瓶，够吗？

45. 一本故事书共有 80 页，小明看了一个星期，每天看 6 页，还剩多少页没有看？

46. 小丽、小明、小红、小兰去书店买书，他们每人买了 8 本，一共买了几本书？

47. 超市的一些物品标价如下。

物品	饼干	汽水	蛋糕	果汁
标价	每包 5 元	每瓶 2 元	每块 3 元	每瓶 4 元

(1) 笑笑买了 2 包饼干，花了多少钱？

(2) 爷爷买 3 瓶汽水和一瓶果汁，一共要付多少钱？

48. 一(2)班共有 15 个小朋友参加表演，其中有 8 个小朋友合唱，还有几个小朋友表演其他节目？

49. 我们已经认识了锐角、直角和钝角，在角的大家族中，是否还有其他的角呢？它们又有哪些特征呢？

50. 舞蹈队有 9 人，田径队的人数是舞蹈队的 7 倍。田径队有多少人？

51. 小兔跑 200 米用了 37 秒，小猫跑 200 米用了 29 秒，谁跑得快？快多少秒？


52. 路边有一行电线杆，共 7 根，每两根之间相隔 16 米，从第一根到第七根电线杆之间一共有多少米？



53. 小华去书店买书，买了一本《十万个为什么》花去 18 元，《骆驼样子》花去 28 元。问小华一共花去多少钱？（列竖式计算）


54. 一本书有 90 页。



55. 商店里有水彩笔 6 盒，文具盒是水彩笔的 3 倍，文具盒有多少个？
56. 商店里上星期卖出圆珠笔 42 支，比卖出的钢笔多 24 支，卖出钢笔多少支？  
卖出的圆珠笔和钢笔一共有多少支？
57. 小明这星期得了 9 朵小红花，小军得的小红花是小明的 2 倍，两人这个星期一共得了多少朵小红花？
- 58.



- (1) 乐乐买 1 个  和 1 个  ，一共要用多少钱？

- (2) 玲玲有 50 元，买 1 个  ，应找回多少钱？

59. 星期天，乐乐和爷爷一起去宠物市场，买回来 5 只大乌龟和 1 只小乌龟。每只乌龟有 4 条腿，这些乌龟共有多少条腿？
60. 同学们种了 60 棵月季花，又种了 4 行菊花，每行 8 棵。种的月季花比菊花多多少棵？
61. 小军有 58 元钱。买文具盒用了 20 元，买彩笔用了 8 元，还剩多少元钱？
62. 小军喜欢收集邮票，下面是他收集邮票的种类和数量。风景邮票和人物邮票一共有多少枚？

种类	风景	人物
枚数	42	35

63. 李老师给一（1）班的 57 人发跳绳，如果每人一根跳绳，还差 7 根，李老师有多少根跳绳？

64. 我们身体上有很多“尺子”可以助我们测量。

（1）比如聪聪的指甲盖宽约为 1 厘米，他正在用指甲盖量图中铅笔的长度。请

你估计这支铅笔的长度大约是\_\_\_\_\_厘米。



（2）下面是与明明身体有关的一些数据。现在明明想要测量绕篮球场一圈的长

度，你觉得选择下边哪个“尺子”最合适？如何测量？（写出测量过程）



足长大约20厘米 步长大约60厘米 臂展大约150厘米

65. 一把破损的直尺，最小刻度是 5 厘米，最大刻度是 18 厘米，这把尺一次最长可以量多少厘米？

66. 一个人做一道难题要用 3 分钟，那么他做 8 道难题要用多少分钟？


67. 把 10 米长的绳子剪成 1 米长的小段，需要剪几次？一共剪了几根 1 米长的绳子？

68. 二年级 3 个班在种树，二甲班种了 45 棵，二乙班比二甲班少种了 8 棵，二丙班比二甲班多种了 6 棵。二乙班种了多少棵？二丙班种了多少棵？

69. 书架上 29 本科技书，故事书比科技书少 16 本，故事书有多少本？

70. 王爷爷家养了 8 只鸭，还养了 4 笼鸡，每笼鸡 8 只。王爷爷家有鸡和鸭共多少只？

71. 大公鸡喔喔啼，从村里走出了 43 个人。27 个人去上工，9 个人去上学，大约还有几个人去做其他事？先估计一下再计算。

72. 兰兰摘了多少个  ?

以上内容仅为本文档的试下载部分，为可阅读页数的一半内容。如要下载或阅读全文，请访问：

<https://d.book118.com/277150064051010032>