

# 中国古代政治制度单元练习题- 及答案

## 中国古代政治文明专题训练

出题：曹红英 审题：殷德锋 时间：2021/2/16

### 一、选择题

1. “古代的住宅，东偏是祠堂，即庙，西偏是家屋，即寝。古代的家庭，最重要的……祭祖自属大事。”材料揭示了

- A. 分封制的稳固
- B. 宗法制的影晌
- C. 宰相制的实行
- D. 内朝制的推行

2. 宗法制和分封制是西周重要的政治制度。以周封伯禽于鲁国，鲁国内部又再度分封假设干小国为例，以下有关分封制与宗法制关系的说明，最适当的是

- A. 周天子为鲁国大宗，鲁国内部再分封诸国也以周天子为大宗
- B. 鲁国国君是鲁国内部诸国的大宗，周天子那么为鲁国小宗

C. 周天子是包括鲁国在内各封国的大宗，鲁国国君那么是鲁国内部诸国的大宗

D. 周天子为一族，伯禽另为一族，在宗法上二者并无关系

3. 封泥又叫“泥封”，它不是印章，而是古代用印的遗迹。封泥中隐含着诸多历史信息。下图是西汉时期关于地方制度的封泥，从中不能获取的结论是



汝南郡项县“项长之印”

河间王刘辟疆“河间王玺”

- A. 西汉继承秦朝的地方制度
- B. 西汉初年分封同姓王
- C. 西汉初年实行郡国并行制
- D. 中央和地方矛盾激化

4. 汉武帝时的?出界律?规定：诸侯王只能在自己的封地活动，绝对不能私出国(诸侯国)界。

这一规定的根本目的是( )

A. 强化君主专制 B .加强思想控制 C .防止诸侯割据 D . 加强中央集权

5. 虎符是古代的兵符，是帝王或将帅授予下属兵权或调动军队的凭证。以下选项中能够表达后世统治者替代虎符作用的制度设计是

A. 秦朝设立太尉 B. 唐朝设立三省  
C. 宋代设枢密院 D. 清代设军机处

6. 以下关于监察制度的表达，正确的选项是

A. 秦朝的御史大夫专门负责监察  
B. 明朝时御史台是国家最高监察机关  
C. 汉武帝时，中央派刺史监察地方，其是地方最高长官

D. 北宋时通判负责监督知州

7. 有学者评论说：“贞观年间，在三省六部制中，政权中心是政府而不是皇帝个人，皇帝实际上成为政府的最高负责人。”对此理解正确的选项是

- A. 专制皇权得到空前的加强
- B. 政府拥有了最终的决策权
- C. 皇权受到政府的制约
- D. 政府独立于皇权之外

8. 美国历史学家包弼德在《唐宋转型的反思——以思想的变化为主》中认为宋代标志着中国历史现代性的开端，但同时也出现了逆现代性的因素。以下属于宋代“逆现代性”的表现的是

- A. 跻身仕途的平民取代了门阀家族，成为社会的领导阶层
- B. 佛道的虚无和消极让位于儒家思想的积极、

理性和乐观

C. 士族政治领袖所提供的对王室权威的制衡丧失

D. 商业对国家的财政政策至关重要，政府稳步提高货币的供应

9. 魏晋时期的九品中正制规定：“州郡皆置中正，以定其选，择州郡之贤有识鉴者为之，区别人物，第其高低。”由此可见，其与察举制相比

A. 一定程度上缩小了选官的范围

B. 有利于提高儒生的地位

C. 为庶族地主的崛起创造了条件

D. 打破了世卿世禄制度

10. 有人说：“夫以无权之官，而欲强做有权之事，那么势固必败；以有权之事，而必责于无权之官，其望更难酬，此从来阁臣之所以无



完名也。”这里的“阁臣”是指

A. 秦朝的三公

B. 唐代的三省长官

C. 明代的大学士

D. 清朝的军机大臣

11. 史载：嘉庆十年，有个叫何元琅的御史，给皇帝上了一个“请酌改军机处名目”的奏折，理由是“军机处承办一切事务，与兵部之专司戎政者不同……似应更改名目，以纪偃（停止）武之隆”。此事反映了军机处（ ）

A. 与兵部的职能相互重叠

B. 已演变为一个综合政务机构

C. 其地位特殊引起朝臣不满

D. 已成为国家最高军事机关

12. 光绪《大清会典》载：“谕军机大臣行者，既述，那么封寄焉。凡有旨存记者，皆书于册而藏之，届时那么提奏。议大政，谳（审）大狱，得旨那么与。”材料说明军机处

A. 地处内廷，专管军务

B. 参与政务，秉旨办事

C. 设有官衙，机构完备

D. 专理刑狱，职能单一

13. 以下对古代的分封制和郡县制比拟的表述最为恰当的是

A. 都突出了最高统治者的中心地位，强化了最高统治者的权力

B. 都属于地方管理制度，但长官的任免方式不同

C. 都淡化了血缘宗族色彩，长官都由最高统治者任免

D. 都适应了统治的需要，有利于中央对地方的有效控制

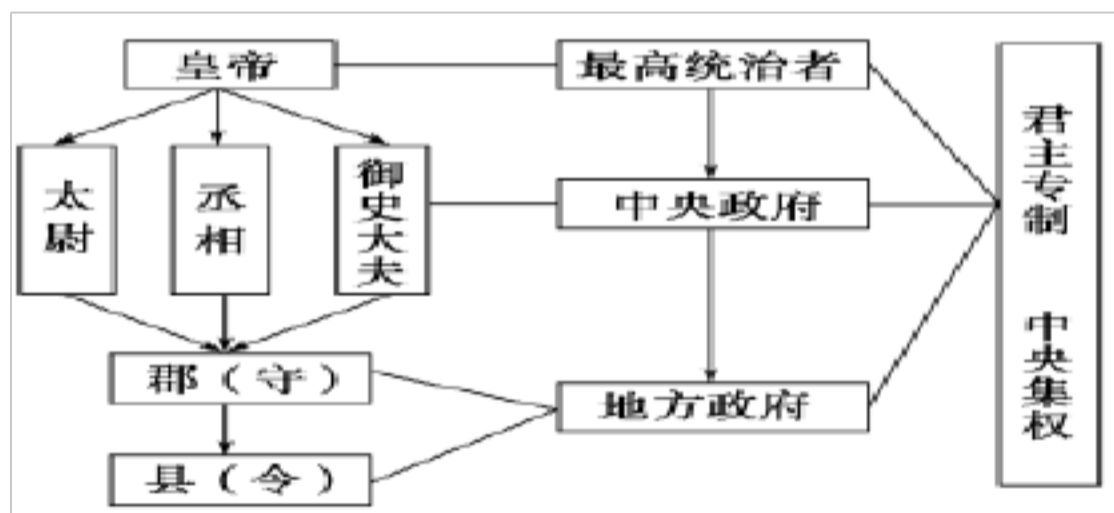
14. “卿大夫朝考其职，昼讲其庶政，夕序其业，夜庀其家事而后即安。”？国语？里的这一



## 记述说明卿大夫

- A. 在所处的诸侯国实现了权力的高度集中
- B. 由所在诸侯国的国君考察其才德而任命
- C. 在其“家”内，世代掌握所属都邑的军政大权
- D. 是西周、春秋时国王、诸侯及士所分封的臣属

15. 张老师讲解以下知识结构图时最有可能得到的认识是



- A. 形成了贵族统治阶层的内部的森严等级
- B. 形成了从中央到地方的垂直管理体系
- C. 郡国并行，造成封国与中央分庭抗礼局面

· 通过分割地方权力和削弱相权稳固了统治

16.. 有的史学家认为：从秦汉起，官僚体制就是中国政治制度的核心问题，它可分成两个子问题，一是官僚的选拔问题，二是官僚体系内部的权力制衡问题。隋唐时期统治者解决“官僚体系内部的权力制衡问题”的重要举措是

A. 废分封，置郡县

B. 组成

决策机构“中朝”

C. 中央设立“三公”

D. 确立三省六部制

17. ?剑桥中国史?写道：“在唐代，科举考试不过产生一批官僚精英分子而已。其数量可能略多于全部官僚集团的 10% 。总之，其中大局部人出身于名门望族，都来自书香门第。在唐朝灭亡以前，这种情况没有改变。”材料反映

了

A . 九品中正制依然存在

B. 科举考试有利于人才选拔

C . 唐代官员都是科举出身

D. 唐代门阀势力依然不小

18. 有学者在评论中国某一制度时说，它“导致……获取官职的时机对任何人开放，只要他们能证明自己有足够的学养”，并可以“培植全国人民对政治之兴味”。这一制度是指

A. 郡县制

B . 科 举 制

C. 察举制

D. 内阁制

19. 嘉定二年(1210年)，南宋著名诗人陆游临终前写下了那首千古绝唱：“死去元知万事空，但悲不见九州同。王师北定中原日，家祭无忘告乃翁。”按两宋中央官制，负责筹划“王师

北定”事务的是

- A. 尚书省                      B. 参知政事                      C. 枢密院  
D. 军机处

20. 《清史稿·职官志一》：“初设议政处，令巩阿岱等为议政大臣，参画军要。……用兵西北，虑倖直者洩机密，始设军机房，后改军机处。”

以下关于军机处表达正确的选项是

- A. 起迄年间为清朝雍正到咸丰  
B. 是正式统率六部百司的中央政治机构  
C. 军机大臣只能秉承皇帝旨意办事  
D. 由官品较低官员组成，专门“参画军要”

21. 秦始皇当年即秦王位时只有 13 岁，大权操纵在相国吕不韦手里，



在他 22 岁那年除掉吕不韦后，才真正掌握了秦国的政权。这段痛苦的经历在秦始皇心中是难

以抹去的，所以设立右图所示官职以制约相权，确切地说，其主要职责还有

- A. 负责宗庙、礼仪和教化  
B. 下达诏令并监察百官  
C. 协助皇帝管理军务  
D. 负责租税和国家财政

22. 唐太宗说：“中书所出诏敕，颇有意见不同，或兼错失而相正以否。元置中书、门下，本拟相防过误。人之意见，每或不同，有所是非，本为公事……卿等特须灭私徇公，坚守直道，庶事相启沃，勿上下雷同也。”对这段话的理解，正确的选项是

- ①说明了实行三省六部制的目的 ②形成了中央机构间的监督制约机制 ③三省六部制有利于减少决策失误 ④皇权置于相权的制约之下，形成了集体决策的局面

. ①②③

B

. ①②④

C. ②③④

D. ①③④

23. 利玛窦在《中国札记》中说：“虽然我们已说过中国的政府形式是君主制，但它在一定程度上是贵族政体……所有的文件都必须由大臣审阅呈交皇帝。”利玛窦认为中国明朝时

A . 已经跨越了君主政体

B. 内阁在一定程度上制约着君权

C . 君主与内阁大臣拥有同等决策权

D. 内阁掌握着明朝的行政大权

24. 明朝文官钱宰有诗写道：“四鼓咚咚起着衣，午门朝见尚嫌迟。何时得遂田园乐，睡到人间饭熟时。”这首诗从根本上反映了

A . 封建官僚的勤政和从善如流



·君主专制强化带来的政治压力和危机

C. 封建官场的腐败和官僚的交恶

D. 封建文人安贫乐道、崇尚自然的志趣

25. ?元史·百官志?:“国初,有征伐之役,分任军民之事,皆称行省,未有定制。中统、至元间,始分立行中书省,因事设官,官不必备,皆以省官出领其事。”据材料可知,元行省

A. 最初是中央派出机构

B

. 长官

官不再由朝廷任命

C. 削弱了中央集权

D

. 辖区广阔且权力较大

26. 在 2021 年进行的全国 1%人口抽样调查显示,我国男女人口比例为 106.30:100。新生儿性别比例失调,这说明重男轻女观念仍然存在。以下关于这种观念形成的历史原因表述中最恰当的是

A. 宗法制

B

. 科举制

C

. 近代新式教育的推广

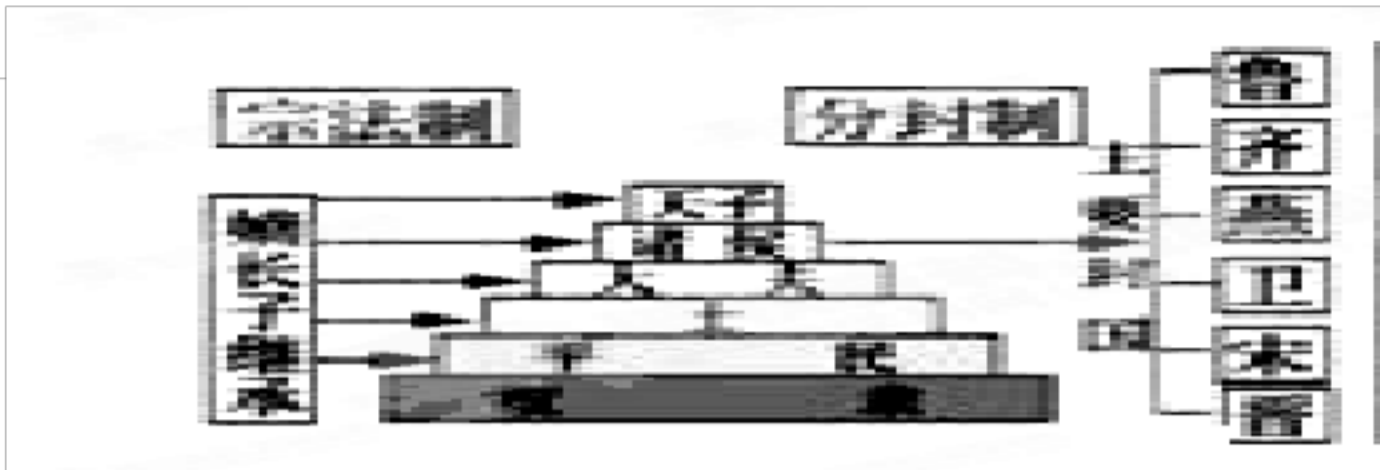
D

. 郡县制

27. 下图反映的是周朝的政治制度及其关系,



有关说法错误的选项是



- A. 宗法制和分封制互为表里
- B. 宗法制以嫡长子继承制为核心
- D. 整套制度维系奴隶主正常统治，保证了社会性质的平稳转型

28. 《史记·楚世家》载：“楚之先祖出自帝顓项高阳。……(楚庄王)八年，伐陆浑戎，遂至洛，观兵于周郊。……庄王曰：‘子无阻九鼎；楚国折钩之喙，足以为九鼎。’”上述材料反映的历史信息有

- ①楚国国君是先代贵族的后代
- ②楚国拥有自己的军队
- ③楚王有随从周天子作战的义务
- ④周王室已经衰弱

A. ①②

B. ②④

C. ①

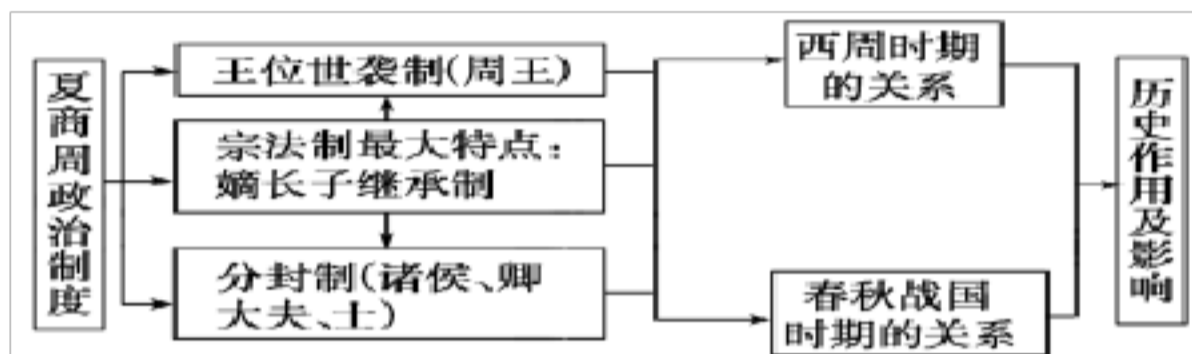
③④

D. ①②③④

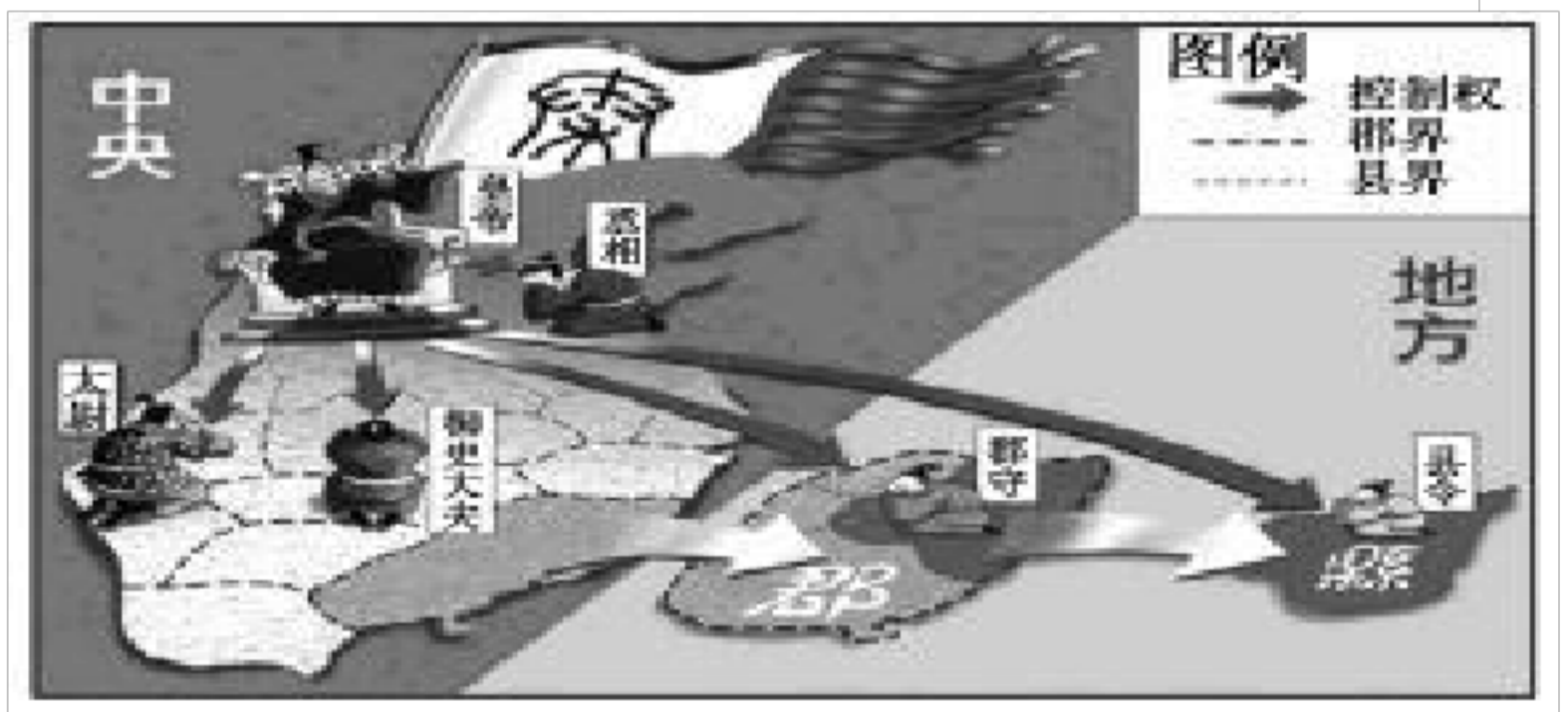
二、非选择题(第 29 题 20 分, 第 30 题 20 分, 共 40 分)

29. 阅读材料, 答复以下问题。

材料一 ?夏商周的政治制度?知识结构示意图



材料二 ?秦朝中央集权制度的形成?图示



请答复:

(1)结合所学知识, 如果对材料一中“西周时期的关系”理解为“宗法制与分封制的

以上内容仅为本文档的试下载部分，为可阅读页数的一半内容。如要下载或阅读全文，请访问：<https://d.book118.com/278032027047006130>