

2022 年广东省中考道德与法治试卷

一、选择题：本大题共 20 小题，每小题 3 分，共 60 分。在每小题给出的四个选项中，只有一项是最符合题目要求的。

1. 2022 年广东省推出“强国复兴有我——少年说”系列视频，分享了“小小红线女”、智造小创客、奇迹篮球手等十位南粤少年的成长故事。这些少年各有梦想，也都在为实现梦想而努力。分享他们的故事可以（ ）


- ①引导青少年热爱生活
- ②激励青少年立志成才
- ③塑造完美无瑕的榜样
- ④展现青春向上的力量

A. ①②③ B. ①②④ C. ①③④ D. ②③④

2. 中国航天员王亚平在给学生的回信中写道：“每每飞临祖国上空……我的内心升腾起的除了震撼，更多的是为生在伟大祖国感到骄傲、生逢伟大时代感到幸运。”她的话引发了学生的共鸣。这说明（ ）

- A. 美好的情感能够传递正能量
- B. 只有积极情绪才会引发共鸣
- C. 情感总是短暂而且不稳定的
- D. 情绪随着年龄的增长而改变

3. 如图告诉我们（ ）



《所有疲惫都化解》（改编自李强原创漫画）

- A. 彼此欣赏是交友的前提
- B. 与人为善体现国家形象
- C. 相互尊重促进社会和谐
- D. 文明有礼是个人的选择

4. “感动中国 2021 年度人物”江梦南半岁时双耳失聪，她凭借不懈努力考上了清华大学的博士。江梦南说：“我从来没有因为自己听不见，就把自己看成一个弱者。”江梦南带给我们的感动在于她（ ）

- A. 体现了个性的张扬
- B. 展现了生命的韧性
- C. 规划了成长的路径
- D. 发展了自身的特点

5. 九年级小杨同学最近很苦恼，中考填报志愿，他想选择自己喜欢的学校，父母则希望他选择离家近的学校。他不愿被父母干涉，但又特别希望获得父母的支持。针对小杨的苦恼，最恰当的建议是（ ）

- A. 学习独立思考，挑战父母权威
- B. 参加集体活动，消除心中烦恼
- C. 体谅孝敬父母，服从长辈安排
- D. 积极有效沟通，争取父母理解

6. 小孙同学从小跟着爸爸学习厨艺，现在已经能在学校劳动课上向同学们传授做菜技巧了。小孙说：“爸爸妈妈非常辛苦，所以想为他们减轻负担。”这告诉我们（ ）

- ①要树立正确的劳动价值观
- ②要积极承担家庭责任
- ③要坚持在实践中学习
- ④要摒弃书本知识的学习

- A. ①②③
- B. ①②④
- C. ①③④
- D. ②③④

7. 2022年北京冬奥会吉祥物“冰墩墩”受到热捧，相关奥运纪念商品销售火爆，陆某借机销售假冒“冰墩墩”等相关商品，最终受到了法律惩处。这警示我们要（ ）

- ①坚守诚信原则
- ②做到爱岗敬业
- ③维护自身利益
- ④尊法学法守法用法

- A. ①②
- B. ①④
- C. ②③
- D. ③④

8. 2022年5月，某社区开展以“送法进万家，家教伴成长”为主题的《中华人民共和国家庭教育促进法》宣传活动。宣传栏前，家长们议论纷纷。以下观点你赞同的是（ ）

- A. 这为老师管教孩子提供有力的法律保障
- B. 教训不听话的孩子还得靠我的“家法”
- C. 这部法律彻底解决了家庭教育中的问题
- D. 这部法律为我国的家庭教育提供了指导

9. 如图体现了法律保障公民的（ ）



- A. 平等权 B. 隐私权 C. 监督权 D. 名誉权

10. 2022年3月，第十三届全国人民代表大会第五次会议期间，某校九年级同学学习了部分国家机关的工作报告。下列内容出自《政府工作报告》的是（ ）

- A. 深化刑事诉讼监督
B. 制定乡村振兴促进法
C. 审结乱占耕地案件 7251 件
D. 着力保障和改善民生

11. 某校八年级开展了“宪法在我心中”的主题活动。以下同学的说法正确的是（ ）

- ①小涛：我们谁都没有超越宪法的特权
②小乐：宪法距离中学生的生活非常遥远
③小蕾：宪法在我国法律体系中地位最高
④小叶：宪法原则需要落实在实际行动上

- A. ①②③ B. ①②④ C. ①③④ D. ②③④

12. 新冠肺炎疫情冲击下，市场主体尤其是中小微企业和个体工商户面临较大困难。根据中央部署，各地各部门出台减税降费等助企纾困政策，帮助企业解决生产经营中的困难。这表明（ ）

- A. 党和政府坚持以人民为中心的发展思想
B. 国家巩固和增强中小微企业的主导地位
C. 个体工商户是公有制经济的重要组成部分
D. 我国坚持以市场为主体的基本经济制度

13. 请你概括如表新闻报道反映的共同主题（ ）

2021年，我国加大农村义务教育薄弱环节建设力度，提高学生营养改善计划补助标准。	2022 - 2024年，我国拟实现城乡新增残疾人就业100万人。	2021年，司法机关健全常态化扫黑除恶机制，防止黑恶势力“死灰复燃”。
--	-----------------------------------	-------------------------------------

- A. 大力发展教育事业
- B. 关心关爱弱势群体
- C. 高举扫黑除恶利剑
- D. 维护社会公平正义

14. 2022年4月，在“中国这十年”系列主题新闻发布会上，全国人大常委会法制工作委员会负责人表示，十年来，共有205件次法律草案向社会公开征求意见，参与人次超过119万，提出350多万条意见。这说明（ ）

- A. 立法过程体现民意、集中民智
- B. 法律对全体社会成员具有普遍约束力
- C. 全国人大是最高国家权力机关
- D. 公民直接参与国家和社会事务的管理

15. 节假日期间，人们在绿地公园、河滩湖岸、露营地搭起帐篷，与亲朋好友一起露营、烧烤，休闲娱乐，但同时也产生了植被损伤、环境污染、用火隐患等问题。对此，正确的选择是（ ）

- ①发自内心地尊重他人的人格
- ②在日常生活中践行绿色发展理念
- ③主动融入社会促进自身发展
- ④享受权利的同时要承担相应义务

- A. ①②
- B. ①③
- C. ②④
- D. ③④

16. 据国家统计局数据显示，2021年广东农村居民人均可支配收入比2013年增加了11238元，年均增长9.2%，同时期城镇居民人均可支配收入年均增长8%。广东城乡居民收入比由2013年的2.67:1缩小到2021年的2.46:1，这一变化意味着广东（ ）

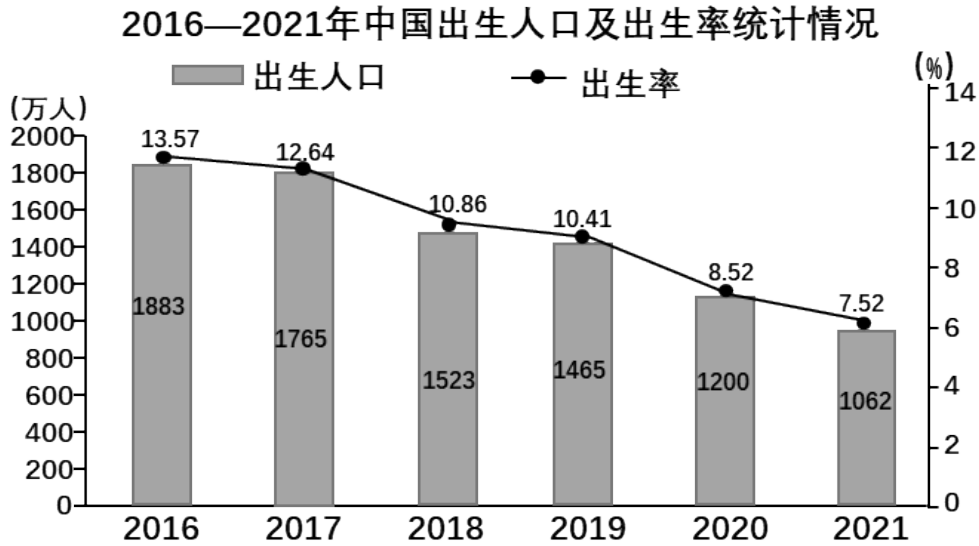
- A. 城乡同步富裕取得成效
- B. 城乡收入差距正在缩小
- C. 城乡已经实现均衡发展
- D. 城乡居民生活水平无差距

17. 《广东省革命遗址保护条例》自2022年3月1日起施行，广东是近代民主革命的策源地和先行地，是全国革命遗址延续年代最长、序列最完整、种类最齐全的省份之一。该《条例》的施行（ ）

- ①为全国各地的革命遗址保护提供了法律依据
- ②可以根治各类破坏、损毁革命遗址的犯罪行为
- ③可以加强对广东革命遗址的保护管理和合理利用
- ④有利于充分发挥广东红色资源的社会教育功能

- A. ①②
- B. ①③
- C. ②④
- D. ③④

18. 对如图解读正确的是 ()



- A. 人口基数逐年减少
- B. 劳动力人口严重不足
- C. 人口增长速度趋缓
- D. 人口老龄化程度加深

19. 近年来,我国博物馆利用新媒体、新技术开展“云展播”,结合馆藏文物开发文创产品,不断创新展示和传播手段,让馆藏文物“活”了起来,为文化遗产走近大众、走向国际提供了重要助力。博物馆展示和传播手段的创新 ()

- ①能够推动中华优秀传统文化的传承和发展
- ②有利于扩大中华优秀传统文化的影响力
- ③能够推动中外文化的融合与统一
- ④丰富了中华优秀传统文化的内涵

- A. ①②
- B. ①③
- C. ②④
- D. ③④

20. “食为政首,粮安天下”。2022年的中央一号文件明确提出,我们要牢牢守住保障国家粮食安全这条底线。守住这条底线是 ()

- A. 保证公民参与民主生活、安居乐业的重要途径
- B. 推动国际秩序公正合理、互利共赢的有效行动
- C. 实现经济发展、社会稳定、国家安全的重要基础
- D. 促进人与自然和谐共生、解决社会矛盾的有效方式

二、非选择题: 本大题共 3 小题, 第 21 小题 10 分, 第 22 小题 14 分, 第 23 小题 16 分, 共 40 分。

21. 阅读材料, 回答问题。

材料一 近年来，网络直播迅速兴起，但网络平台主体责任缺失，主播良莠不齐，直播打赏乱象频发，部分主播诱导未成年人参与直播打赏的现象多发频发，导致不少未成年人沉溺其中，带来一些社会问题。八年级学生小佳沉迷打赏主播，不仅学习受影响，情绪和交友也出现障碍，甚至在一个月将自己的零花钱和父母的血汗钱偷偷打赏给了主播。

材料二 2022年5月，根据《中华人民共和国网络安全法》《中华人民共和国未成年人保护法》等法律法规，中央文明办、国家网信办等四部门联合发布《关于规范网络直播打赏 加强未成年人保护的若干意见》，强调：禁止网站平台为未成年人提供现金充值、“礼物”购买、在线支付等各类打赏服务。

(1) “禁止网站平台为未成年人提供各类打赏服务”这一举措体现了对未成年人的什么保护？请指出这一保护的作用。

(2) 小佳认为，打赏自己崇拜的主播是我个人的自由，与他人无关。请你对小佳的言行进行评析。

22. 阅读材料，回答问题。

2022年5月，中国共产主义青年团成立100周年，习近平总书记发表重要讲话并指出，实现中国梦是一场历史接力赛，当代青年要在实现民族复兴的赛道上奋勇争先。

材料一 时代各有不同，青春一脉相承。中国共青团团结带领广大团员青年，把光荣镌刻在历史行进的史册里。

<p>新民主主义革命时期</p> <p>广大团员青年踊跃投身革命运动，打倒军阀，抗日救亡，推翻国民党反动统治，在枪林弹雨中经受住了生与死的考验。</p>	<p>社会主义革命和建设时期</p> <p>广大团员青年喊出“把青春献给祖国”的响亮口号，向困难进军，为改变祖国“一穷二白”的面貌，艰苦创业，忘我劳动。</p>
<p>改革开放和社会主义现代化建设新时期</p> <p>广大团员青年发出“团结起来、振兴中华”的时代强音，在现代化建设中解放思想，奋发图强，勇立潮头，敢闯敢干。</p>	<p>中国特色社会主义新时代</p> <p>广大团员青年在脱贫攻坚战场摸爬滚打，在科技攻关岗位奋力攀登，在保卫祖国哨位威武守护，在各条战线上砥砺前行。</p>

材料二 1922年5月，在中国共产党直接关怀和领导下，中国共产主义青年团宣告成立，一百年来，由先进青年组成的共青团作为中国共产党的后备力量，团结带领广大团员青年投身到党和人民的事业中。党有号召，团有行动始终是一代代共青团员的政治信念，与党同心、跟党走，把青春播撒在民族复兴的征程上，成为当代广大团员青年的历史使命。

(1) 请简要分析材料一体现了广大团员青年哪些共同的精神品质。

(2) 结合材料二，谈谈你对“党有号召、团有行动”这一政治信念的理解。

23. 阅读材料，回答问题。

某校九年级（1）班开展“崇尚科学，立志创新”的主题探究活动，请你参与期中。

【探究一】搜集资料，常理归纳

•筑梦天宫，神舟飞船接续冲天，神舟十二号、神舟十三号、神舟十四号载人航天任务相继实施，中国人进入了自己的空间站。

•抢占深海、深空等领域的科技制高点。“海斗一号”完成万米海试，“奋斗者”号成功坐底，“长征五号”遥三运载火箭成功发射。

•科技助力抗击新冠肺炎疫情，中国成功分离出世界上首个新冠病毒毒株，完成病毒基因组测序，开发一批临床救治药物，检测设备和试剂，研发应用多款疫苗。

(1) 从以上资料中你能得出什么结论？

【探究二】提出问题，交流探讨

当前，我国科技创新依然面临一些突出问题，如集成电路、高端制造、关键材料、基础软件等领域，一些关键核心技术依然受制于人。

习近平总书记反复强调，关键核心技术是要不来、买不来、讨不来的，要尽快突破关键核心技术，努力实现关键核心技术自主可控，把创新主动权、发展主动权牢牢掌握在自己手中。

(2) 有同学问：“为什么要把创新主动权、发展主动权牢牢掌握在自己手中呢？”请结合上述材料，运用所学知识加以说明。

【探究三】分享感悟，立志创新

<p>感悟一： 实现高水平科技自立自强，归根结底要靠高水平创新人才。青年一代有理想、有本领、有担当，科技就有前途，创新就有希望！</p>	<p>感悟二： 初中的学习和生活即将结束。面向未来，我们要关切国家发展，开放自信地融入世界。抓住机遇，迎接挑战，让我们一起向未来！</p>
--	---

(3) 立足国家的需要和个人的发展，我们中学生应该如何做好自己的人生规划？

2022 年广东省中考道德与法测试卷

一、选择题：本大题共 20 小题，每小题 3 分，共 60 分。在每小题给出的四个选项中，只有一项是最符合题目要求的。

1. 2022 年广东省推出“强国复兴有我——少年说”系列视频，分享了“小小红线女”、智造小创客、奇迹篮球手等十位南粤少年的成长故事。这些少年各有梦想，也都在为实现梦想而努力。分享他们的故事可以（ ）

- ①引导青少年热爱生活
- ②激励青少年立志成才
- ③塑造完美无瑕的榜样
- ④展现青春向上的力量

A. ①②③

B. ①②④

C. ①③④

D. ②③④

【答案】B

【解析】

【详解】本题考查青春飞扬。

①②④：题干表述了广东省推出“强国复兴有我——少年说”系列视频，分享励志少年的成长故事。这样做可以引导青少年热爱生活，激励青少年立志成才，展现青春向上的力量。

①②④说法正确，符合题意；

③：错误，人无完人，榜样身上有闪光点，但也不可能是完美的人，排除；

故本题选 B。

2. 中国航天员王亚平在给学生的回信中写道：“每每飞临祖国上空……我的内心升腾起的除了震撼，更多的是为生在伟大祖国感到骄傲、生逢伟大时代感到幸运。”她的话引发了学生的共鸣。这说明（ ）

- A. 美好的情感能够传递正能量
- B. 只有积极情绪才会引发共鸣
- C. 情感总是短暂而且不稳定的
- D. 情绪随着年龄的增长而改变

【答案】A

【解析】

【详解】该题考查传递情感正能量。

A：题文材料中，中国航天员王亚平在给学生的回信中的话引发了学生的共鸣，结合所学知识可知，这说明美好的情感能够传递正能量；A 符合题意；


B：错误，“只有……才能”说法太绝对；

C：错误，情绪是短暂而且不稳定的，情感是相对稳定的；

D: 不符合题意, 材料没有体现情绪随着年龄的增长而改变;

故本题选 A。

3. 如图告诉我们 ()



《所有疲惫都化解》(改编自李强原创漫画)

A. 彼此欣赏是交友的前提

B. 与人为善体现国家形象

C. 相互尊重促进社会和谐

D. 文明有礼是个人的选择

【答案】C

【解析】

【详解】本题考查尊重的重要性。

C: 漫画表述了一声谢谢使所有的疲惫都化解, 这说明了相互尊重促进社会和谐。C 说法正确, 符合题意;

A: 漫画没有表述交友的内容, 不符合题意;

B: 错误, 文明有礼体现国家形象, 排除;

D: 错误, 文明有礼不仅是个人的选择, 文明有礼促进社会和谐, 文明有礼体现国家形象, 排除;

故本题选 C。

4. “感动中国 2021 年度人物”江梦南半岁时双耳失聪, 她凭借不懈努力考上了清华大学的博士。江梦南说: “我从来没有因为自己听不见, 就把自己看成一个弱者。”江梦南带给我们的感动在于她 ()

A. 体现了个性的张扬

B. 展现了生命的韧性

C. 规划了成长的路径

D. 发展了自身的特点

【答案】B

【解析】

【详解】本题考查生命的韧性。

ACD: 个性张扬、规划成长路径、发展自身特点等都不是江梦南感动我们的原因, 故排除

ACD;

B: 题文中江梦南双耳失聪, 凭借不懈努力考上清华大学博士, 说明她积极面对挫折, 磨砺坚强意志, 展现了生命的韧性, 故 B 说法正确;

故本题选 B。

5. 九年级小杨同学最近很苦恼, 中考填报志愿, 他想选择自己喜欢的学校, 父母则希望他选择离家近的学校。他不愿被父母干涉, 但又特别希望获得父母的支持。针对小杨的苦恼, 最恰当的建议是 ()

- A. 学习独立思考, 挑战父母权威
- B. 参加集体活动, 消除心中烦恼
- C. 体谅孝敬父母, 服从长辈安排
- D. 积极有效沟通, 争取父母理解

【答案】D

【解析】

【详解】本题考查学会与父母沟通。

D: 小杨有自己的想法, 不愿被父母干涉, 他又特别希望获得父母的支持。所以建议他积极有效沟通, 争取父母理解。D 说法正确, 符合题意;

A: 错误, 我们要学会与父母沟通, 不能挑战父母权威, 这是不尊重父母的做法, 排除;

B: 错误, “消除”的说法过于绝对了, 排除;

C: 错误, 我们可以听听父母的意见, 可以参考, 但服从长辈安排是缺乏主见的表现, 排除;

故本题选 D。

6. 小孙同学从小跟着爸爸学习厨艺, 现在已经能在学校劳动课上向同学们传授做菜技巧了。小孙说: “爸爸妈妈非常辛苦, 所以想为他们减轻负担。”这告诉我们 ()

- ①要树立正确的劳动价值观
- ②要积极承担家庭责任
- ③要坚持在实践中学习
- ④要摒弃书本知识的学习

A. ①②③

B. ①②④

C. ①③④

D. ②③④

【答案】A

【解析】

【详解】该题考查劳动、在实践中学习等。

①②③: 题文材料中, 小孙同学从小跟着爸爸学习厨艺, 现在已经能在学校劳动课上向同学们传授做菜技巧了, 结合所学知识可知, 这告诉我们要树立正确的劳动价值观; 要坚持在实践中学习; 小孙说: “爸爸妈妈非常辛苦, 所以想为他们减轻负担。”结合所学知识

可知，这告诉我们要积极承担家庭责任；①②③符合题意；

④：错误，我们要坚持书本知识的学习；

故本题选 A。

7. 2022 年北京冬奥会吉祥物“冰墩墩”受到热捧，相关奥运纪念商品销售火爆，陆某借机销售假冒“冰墩墩”等相关商品，最终受到了法律惩处。这警示我们要（ ）

①坚守诚信原则

②做到爱岗敬业

③维护自身利益

④尊法学法守法用法

A. ①②

B. ①④

C. ②③

D. ③④

【答案】B

【解析】

【详解】本题考查诚信和守法。

①④：题文中陆某销售假冒“冰墩墩”等相关商品受到法律惩处，警示我们要坚守诚信原则，尊法守法学法用法，故①④说法正确；

②③：爱岗敬业、维护自身利益在题文中没有体现，故排除②③；

故本题选 B。

8. 2022 年 5 月，某社区开展以“送法进万家，家教伴成长”为主题的《中华人民共和国家庭教育促进法》宣传活动。宣传栏前，家长们议论纷纷。以下观点你赞同的是（ ）

A. 这为老师管教孩子提供有力的法律保障

B. 教训不听话的孩子还得靠我的“家法”

C. 这部法律彻底解决了家庭教育中的问题

D. 这部法律为我国的家庭教育提供了指导

【答案】D

【解析】

【详解】该题考查未成年人保护。

D：题文材料中，某社区开展以“送法进万家，家教伴成长”为主题的《中华人民共和国家庭教育促进法》宣传活动；结合所学知识可知，《中华人民共和国家庭教育促进法》为我国的家庭教育提供了指导；D 符合题意；

A：错误，《中华人民共和国家庭教育促进法》为家长管教孩子提供有力的法律保障；

B：错误，家长教育孩子要依法依规；

C：错误，说法太绝对；

故本题选 D。

9. 如图体现了法律保障公民的（ ）

以上内容仅为本文档的试下载部分，为可阅读页数的一半内容。如要下载或阅读全文，请访问：<https://d.book118.com/285230334043011113>