


备考 2023 年吉林省通化市公务员省考行政 职业能力测验真题二卷(含答案)

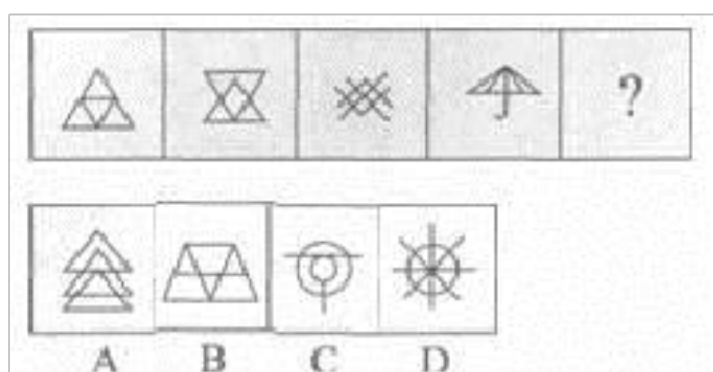
学校:_____ 班级:_____ 姓名:_____ 考号:_____

一、图形推理(6 题)

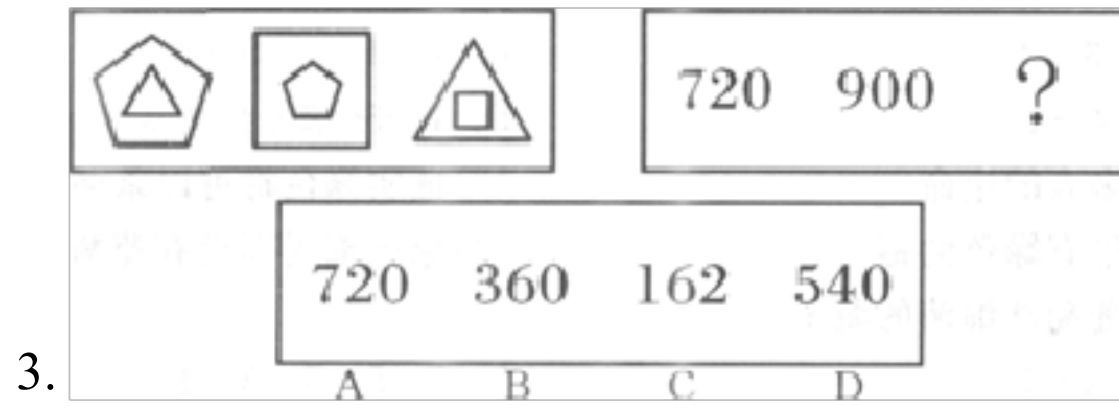
1. 从所给的四个选项中, 选择最合适的一个填入问号处, 使之呈现一定的规律性:



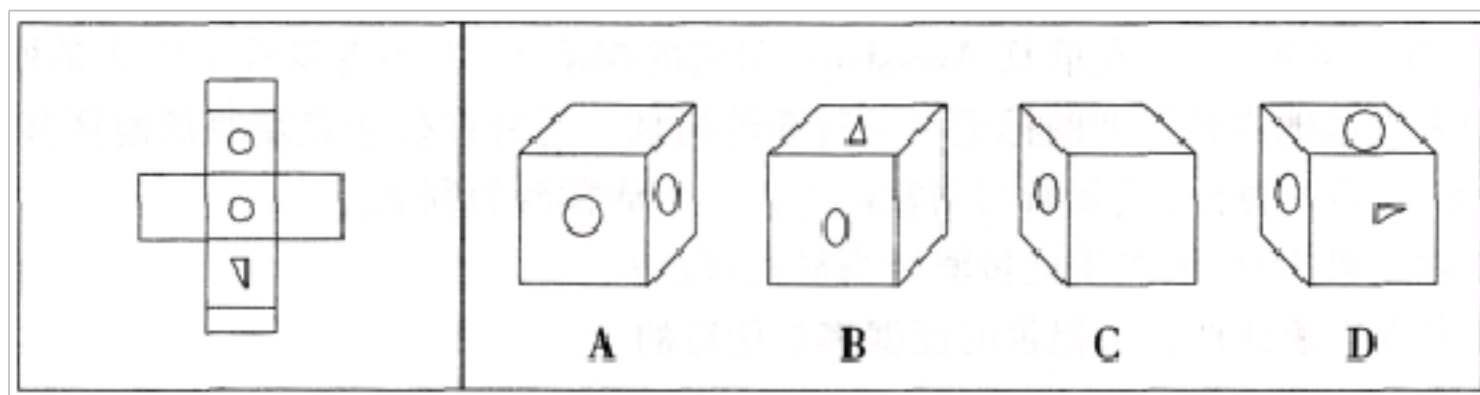
2. 请从所给的四个选项中, 选择最合适的一个填入问号处, 使之呈现一定的规律性。()



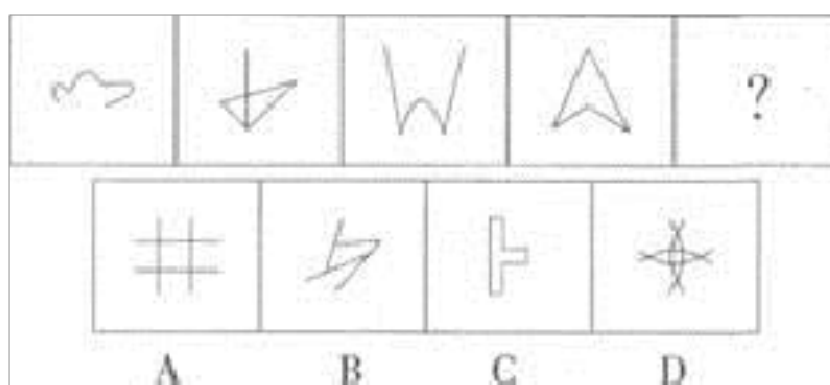
A.①②⑤, ③④⑥ B.①③⑤, ②④⑥ C.①④⑤, ②③⑥ D.①④⑥, ②③⑤



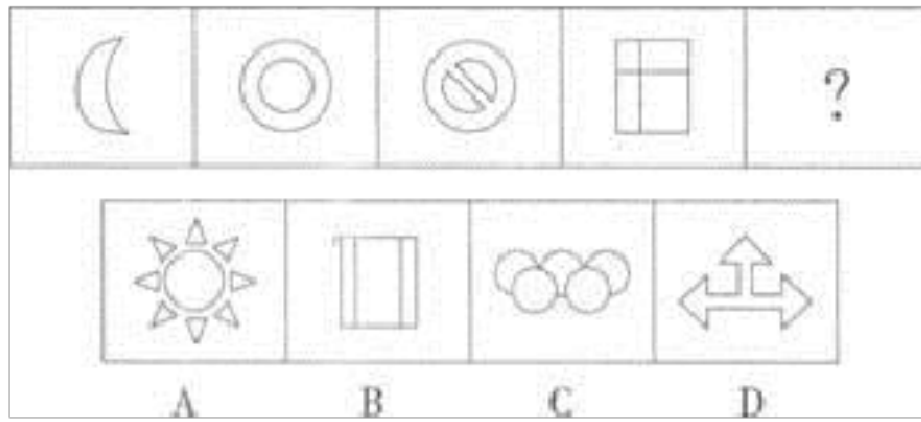
4. 左边给定的是正方体纸盒的外表面。右边哪一项不可能由它折叠而成?



5. 从所给的四个选项中, 选择最合适的一个填入问号处, 使之呈现一定的规律性。



6. 从所给的四个选项中, 选择最合适的一个填入问号处, 使之呈现一定的规律性。



二、定义判断(10 题)

7.

再社会化指的是正常的社会化中断或失败后重新开始的社会化过程。特点是全面、迅速地改变原有的思想、价值体系和生活方式，接受新的社会化内容。 根据上述定义， 以下哪项涉及再社会化？

- A.退休后的老王报名进了老年大学， 开始系统学习书法
- B.移居中国的史密斯夫妇随着时间的推移， 越来越喜欢中国文化了
- C.工作多年的王某考上了研究生。重新走进校园， 他有种重回故里的感觉
- D.小刘因盗窃财物被送进了少管所， 出来后他改过自新， 自食其力

8.流言即在人们之间相互传播的有关某种社会现实问题的不确切消息。

在社会心理学中， 人们把流言对个人心理与行为造成消极影响的现象， 称之为流言效应。

根据上述定义， 下列属于流言效应的是：

- A.日本核电站泄漏事故发生后， 有网民称核辐射会污染海水导致以后生

产的盐无法食用，而且吃含碘的食用盐可防核辐射，随着消息被不断转载，引起一些市民疯狂抢购食盐

B.某知名公司在网络上撰写、炒作虚假消息，诋毁竞争对手的产品存在质量缺陷，煽动消费者抑制购买该产品，从而使该产品的销售量直线下降

C.某市地震局根据预案进行地震应急演练，部分市民误以为该地区将发生破坏性地震，纷纷赶到空旷地区躲避即将发生的地震

D.法网开赛前专家预测李娜是最有可能被提前淘汰出局的种子选手，引起了不少中国球迷的担忧，但事实并非如此，李娜一路杀进了决赛，最后捧起了冠军奖杯

9.角色混同，是指将自己所具有的不同角色相混淆，而发生的导致背离角色期待和角色规范的行为。

根据上述定义，下列属于角色混同的是：

A.李主任对儿子寄予厚望，对自己单位的青年骨干小王也十分器重，常常将儿子想象成小王，又常常将小王想象成自己的儿子

B.小孙是个戏剧票友，戏剧中经常扮演王子，有时候甚至自己不知道自己究竟是自己还是王子

C.农村青年张某进城后学得一口流利的普通话，春节回家过年，还是说起家乡话

D.小强是某公司大楼保安，他严格执行“凭牌进入”制度，任何人没有公司发的工作牌不得进入大楼，有时休息日，同事去他家串门，小强开门

后也常会不自觉的问“有工作牌吗?”为此没少受到同事和妻子的嘲笑

10. 破窗现象()一个房子如果窗户破了,没有人去修补,隔不久,其他的窗户也会莫名其妙地被人打破,所以环境中的不良现象如果被放任存在,会诱使人们仿效,甚至变本加厉。根据上述定义,下列不属于破窗现象的是()

A.一面墙出现了一些涂鸦没有被清除,很快,墙上就布满了乱七八糟、不堪人目的东西

B.一个干净的地方,人们不好意思丢垃圾,但是一旦地上有垃圾出现,人们就会毫不犹豫地跟着丢,丝毫不会惭愧

C.一个村落发生了传染性疾病,由于没有及时隔离,结果很快整个村落的人都被传染上了

D.一个教室里,有两个学生偷偷讲话,老师没有制止,很快大半个班级的学生都在聊天了

11. 辐射效应是以中心力量发挥作用为根本,通过向外围和周边扩散影响,逐步实现整体进步。经济辐射效应是指以城市为经济发展的基点,通过其较强的经济、文化、科技、教育、人才等资源优势,带动周围乡村经济、文化、教育、科技的发展。

根据上述定义,下列属于经济辐射效应的是()。

A.奥运会的举办促进了金融保险业、租赁和商务服务业、批发和零售贸易业以及信息传输、计算机服务和软件业等行业的发展,使之逐渐成为

北京主导行业

B.在构建和谐社会的过程中，充分发挥城市基层党组织的作用，通过组织凝聚党员，党员服务群众，然后再通过群众来推动整个社会，共创和谐

C.我国实施西部大开发，依托主要交通干线，充分发挥中心城市作用，以线串点，以点带面，带动其他地区发展

D.近年来，随着促进海峡两岸交流合作的各项政策措施的落实，海峡两岸在人员往来及经贸、文化等各方面交流不断深入

12.“诱饵效应”就是指人们对两个不相上下的选项进行选择时，因为第三个新选项(诱饵)的加入，会使某个旧选项显得更有吸引力。被“诱饵”帮助选项通常称为“目标”，而另一选项则被称为“竞争者”。

根据上述定义，以下属于“诱饵效应”的是：

A.某水果店。把散装的水果重新包装，制成礼品篮的形式很受顾客欢迎

B.某酒吧安排“服务员”上网与人聊天，以交朋友等理由为诱饵，诱骗他人至酒吧消费高价酒水

C.卖场里的帽子和毛衣是摆放在一起的，标签上标出的价格分别是：帽子49元，毛衣299元。最后还有一行字：帽子+毛衣=299元

D.货架摆放陈列，一些利润较大的商品大都摆放在和消费者视线平行的位置，这样能促进不少销售量

13. 民事单方法律行为是指根据民事主体一方的意思表示即可成立的法

律行为。

依据上述定义，下列属于单方法律行为的是：

- A.美国公民约翰在中国某大学访学期间。租用该大学学术中心406房间，租期为三个月
- B.王一在自动存款机上，将4500元现金存进去了
- C.王二发现洗发精用完了，到设在楼下超市的自动售货柜上付款后，取走了一瓶洗发精
- D.小张搬家时，将一套旧沙发和一台四成新洗衣机，丢弃在小区垃圾分类回收处

14. 执行回转：指执行完毕后，因据以执行的法律文书被撤销，执行人员采取措施，将被执行人的财产恢复到执行前的状况。

下列属于执行回转的是（ ）。

- A.人民法院制作的先予执行的裁定，在执行完毕后，被本院的生效判决或者二审法院的终审判决所撤销，因先予执行而取得财物的一方当事人应将执行所得返还给对方当事人
- B.作为一方当事人的法人或者其他组织终止，尚未确定权利义务承受人
- C.执行的标的物是其他法院或仲裁机构正在审理的案件争议标的物，需要等待该案件审理完毕确定权属
- D.作为被执行人的公民因生活困难无力偿还借款，无收入来源，又丧失劳动能力

15.社会惰化是指个人与群体其他成员一起完成某种事情时,或个人活动有他人在场时,往往个人所付出的努力比单独时偏少,不如单干时出力多,个人的活动积极性与效率下降的现象。

根据上述定义,下列不属于社会惰化的是()。

- A.一个和尚挑水吃,两个和尚抬水吃,三个和尚没水吃
- B.在群体拔河比赛中,每个人所用的力量不及一对一拔河比赛中个人所用的力量
- C.某库房组织工作人员卸货,如果规定每个人搬完 20 箱货物即可先休息,则大多数人每次至少搬两箱货物,如果规定所有工作人员在 1 个小时内搬完 300 箱货物,则大多数人每次只搬一箱货物
- D.小红考试的时候,如果监考老师站在她旁边,她的考试成绩就会下降

16.信用货币是指在信用高度发达的条件下,与贵金属不直接发生联系的新的货币形式。信用货币是从货币作为支付手段的职能中产生的。但它产生之后,既可以作为支付手段,又可以作为流通手段。电子货币是指以电子形式储存于消费者持有的电子设备,依现行的货币单位计算的货币价值。下列属于信用货币的是()。

- A. 人民币 B. 支票 C. 黄金 D. 信用卡

三、常识判断(10 题)

17.李某将与其有私仇的王某打昏在地后逃跑,此时张某路过,见王某不省人事,遂将其所戴手表、钱物偷走。本案中()。

- A.李某、张某构成共同犯罪
- B.李某构成故意伤害罪， 张某构成盗窃罪
- C.李某构成故意伤害罪， 张某构成抢劫罪
- D.李某、 张某共同构成故意伤害罪、 盗窃罪

18. 公文的作者是指：

- A.签发人 B.审核人 C.发文机关 D.撰写人

19.

在国际金融问题上进行协商与协作， 促进国际货币合作； 促进国际贸易的扩大和平衡发展； 纠正国际收支的失调， 而不采取危害本国或国际繁荣的措施， 缩短成员国国际收支不平衡的时间， 减轻不平衡的程度。 以上是下列哪个国际组织的主要职能（ ）。

- A.世界贸易组织 B.国际货币基金组织 C.世界银行 D.经济合作发展组织

20.我国古诗词意境丰富， 著名诗人孟郊的《感怀》：“举才天道亲， 首阳谁采薇。 去去荒泽远， 落日当西归。” 文中的“采薇”借指的是：

- A.隐居生活 B.田园生活 C.游子思乡 D.重阳怀故

21.我国民间竞技体育存在着明显的地域差异， 下列对应关系正确的是：

- A.赛龙舟——水量大、水流急的河流上游 B.赛马、飞马拾银——藏北高原
- C.赛骆驼——黄土高原 D.赛牦牛——东北平原

22.下列有关地球的说法不正确的是()。

- A.地球的历史可划分为 5 个地质时代
- B.迄今为止地球的年龄约有 46 亿年
- C.地球上的六大板块时刻都在运动
- D.地球上的氧气最初来自地球内部

23.下列不属于绝缘体的是：

- A.陶瓷 B.干木头 C.铁棒 D.玻璃

24.第 4 题 在工作和生活中如果不了解基本的科学常识，往往会引发严重的后果。遇到下列情况，正确的做法是（ ）。

- A. 厨房煤气泄漏，迅速开启排风扇
- B. 进入久未开启的菜窖前，先要做灯火试验
- C. 煤矿井下停电，赶快引燃火把照明迅速离开现场
- D. 室内起火，立即敞开门窗

25.1980 年 9 月，中共中央发布《关于进一步加强和完善农业生产责任制的几个问题》，我国农村绝大部分地区都建立和稳定了家庭联产承包责任制。1998 年 4 月，新修订的《土地管理法》首次以法律的形式明确农村土地承包 30 年不变。2008 年 10 月十七届三中全会通过的《中共中央关于推进农村改革发展若干重大问题的决定》对土地承包关系是如何规定的？

- A. 现有土地承包关系要保持稳定并长久不变
- B. 将农村土地的承包期从现在的 30 年延长到 70 年
- C. 允许农民以转包、出租、股份合作等形式流转土地

D. 培育农民新型合作组织，发展农业龙头企业

26.我国古代著名科学家沈括和郭守敬在下列哪些领域中作出了卓越贡献()

A.天文和历法 B.数学和水利 C.天文和数学 D.历法和数学

四、数量关系(10 题)

27. 某招聘会在入场前若干分钟就开始排队，每分钟来的求职人数一样多，从开始入场到等候入场的队伍消失，同时开 4 个人 13 需 30 分钟，同时开 5 个人 13 需 20 分钟。如果同时打开 6 个入口，需多少分钟？

()

A.8 B.10 C.12 D.15

28.

甲、乙、丙、丁四个人去图书馆借书，甲每隔 5 天去一次，乙每隔 11 天去一次，丙每隔 17 天去一次，丁每隔 29 天去一次，如果 5 月 18 日他们四个人在图书馆相遇，问下一次四个人在图书馆相遇是几月几号？

()。

A.10 月 18 日 B.10 月 14 日 C.11 月 18 日 D.11 月 14 日

29. 某班共有 48 人，喜欢打乒乓球的有 30 人，喜欢打羽毛球的有 25 人，既喜欢打乒乓球又喜欢打羽毛球的至少有多少人？

A.5 B.7 C.10 D.18

30.第 114 题 原先甲、乙、丙、丁四人分别坐在 1、2、3、4 号位子上(如图示)。后来不停地调换位子。第一次是前后两排交换，第二次是在第

一次交换后再左右两排交换，第三次再前后交换，第四次再左右交换……问第七十三次交换位子后。甲坐在第几号位子上？（ ）。

1号甲	2号乙
3号丙	4号丁

- A. 1
- B. 2
- C. 3
- D. 4

31. 货轮上卸下若干只箱子，总重量为 10 吨，每只箱子的重量不超过 1 吨，为了保证能把这些箱子一次运走。至少需要多少辆载重 3 吨的汽车？（ ）

A.3 B.4 C.5 D.6

32. 小孙和小林正要从宿舍门口沿马路向东去办事处，而他们回公司要从宿舍门口沿马路西行，于是他们讨论是先回公司取车再骑车去办事处省时间，还是直接从宿舍门口步行向东去办事处省时间，结果发现两者所用时间相等。已知骑车与步行的速度之比是 4 : 1，从宿舍门口到达办事处的距离超过 2 千米时，回公司取车才划算。那么，宿舍门口到公司的距离有多少千米？（ ）

A.1 B.1 . 2 C.1 . 3 D.1 . 8

33.

第 13 题 下列各句中，有语病的一项是（ ）。

- A. 众所周知，房地产行业是个资源耗费型行业，对土地、水泥、钢铁耗费巨大，同时它也是一个资本密集型行业，对利率比较敏感
- B. 农业、农村和农民问题，是关系全面建设小康社会和现代化事业全局的重大问题
- C. 某些司法部门的这种做法不利于公民宪法权利的保护，也不利于宪法作为国家根本大法的最高权威
- D. 今年是本届政府任期的最后一年，我们要以更加昂扬的精神状态，努力把各项工作做得更好，向人民交出满意的答卷

34.

59.从一瓶浓度为 20%的消毒液中倒出 $\frac{2}{5}$ 后,加满清水,再倒出 $\frac{2}{5}$,又加满清水,此时消毒液的浓度为()。

- A.7.2%
- B.3.2%
- C.5.0%
- D.4.8%

35. 某商店的两件商品成本价相同,一件按成本价多 25%出售,一件按成本价少 13%出售.则两件商品各售出一件时盈利为多少? ()

- A.6% B.8% C.10% D.12%

36. 小周有一杯浓度为 27%的红糖水 800 克,小蔡有一杯浓度为 33%的红糖水 1200 克,现在小周和小蔡分别取出相同重量的红糖水,小周把他所取出的红糖水倒入了小蔡的杯中,小蔡把她所取出的红糖水倒入小周杯中,此时,两人杯中的红糖水浓度相同,现在红糖水的浓度是多少? ()

- A.30 . 6% B.30% C.29 . 6% D.29 . 1%

五、7.逻辑判断(3 题)

37. 为防止利益冲突,国会可以禁止政府高层官员在离开政府部门后三年内接受院外游说集团提供的职位。然而,一个这种类型的官员得出这样的结论,这种禁止将阻止高层政府官员在这三年里谋求生计。 这个官员的结论,从逻辑上讲,依赖于以下哪一项假设?()

- A.院外游说集团主要是那些以前曾担任过政府高层官员的人

以上内容仅为本文档的试下载部分，为可阅读页数的一半内容。如要下载或阅读全文，请访问：<https://d.book118.com/285322122340011043>