

山东名校考试联盟

2023—2024 学年高一年级下学期期中检测

地理试题

2024.05

注意事项:

1. 答卷前，考生务必将自己的姓名、考生号等填写在答题卡和试卷指定位置。
2. 回答选择题时，选出每小题答案后，用铅笔把答题卡上对应题目的答案标号涂黑。如需改动，用橡皮擦干净后，再选涂其他答案标号。回答非选择题时，将答案写在答题卡上。写在本试卷上无效。
3. 考试结束后，将本试卷和答题卡一并交回。

一、选择题：本大题共 25 题，每小题 2 分，共 50 分。每小题只有一个选项符合题目要求。

人口重心是描述一个国家或地区人口分布的中心点，东北地区的人口重心位于吉林省辽源市。图 1 示意辽源市地理位置，图 2 示意 2003—2014 年东北地区人口重心移动轨迹。完成下面小题。



图1


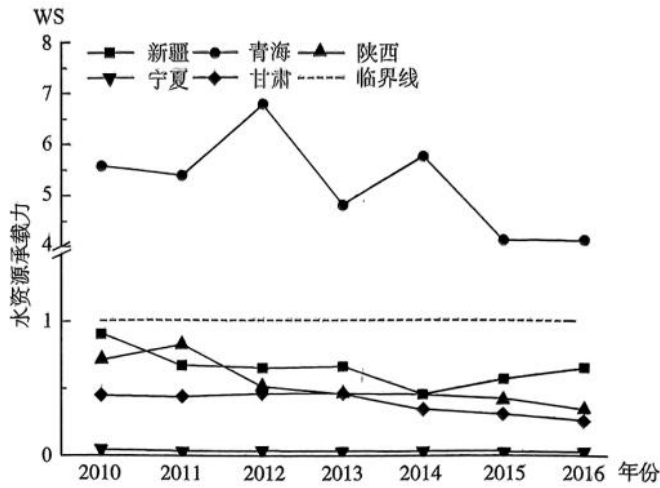


图2

1. 关于东北地区人口分布和迁移的分析，正确的是（ ）
 - A. 人口重心向东南移动
 - B. 西部地区人口密度大
 - C. 辽源市是人口最稠密区域
 - D. 人口分布的宏观格局稳定
2. 东北地区人口重心移动的主要原因是（ ）
 - A. 东部地区人口出生率高
 - B. 西部地区自然环境改善
 - C. 南部地区经济发展较快
 - D. 北部地区人口密度降低

根据国际通行标准，区域水资源总量的 60% 为生态需水，开发利用若超过 40%，就可能引起生态环境的恶化。水资源承载力的计算公式为： $WS=0.4WA/WFP$ 。WS 为水资源承载力，WA 为水资源总量，WFP 为一个区域生产和消费所需要的实际水资源数量。如图示意西北各省区的水资源承载力状况。完成下面小题。



3. 西北地区的水资源承载力和利用状况，分析正确的是（ ）

- A. 承载力的总体状况良好
- B. 挤占生态需水现象普遍
- C. 承载力呈逐年降低趋势
- D. 青海省的超载问题严重

4. 宁夏的水资源承载力与其他省区存在显著差异，主要原因是（ ）

- ①年降水量多
- ②农业用水比重高
- ③过境水资源丰富
- ④人口密度大

- A. ②④
- B. ①③
- C. ①②
- D. ③④

通勤是指人们从家中往返工作地点的过程。图1为“住在上海、工作在江浙的通勤示意图”，KS表示昆山方向。图2为“住在江浙、工作在上海的通勤示意图”，SH₁表示上海中心城区方向，SH₂表示上海非中心城区方向。图中箭头粗细表示比例大小。完成下面小题。

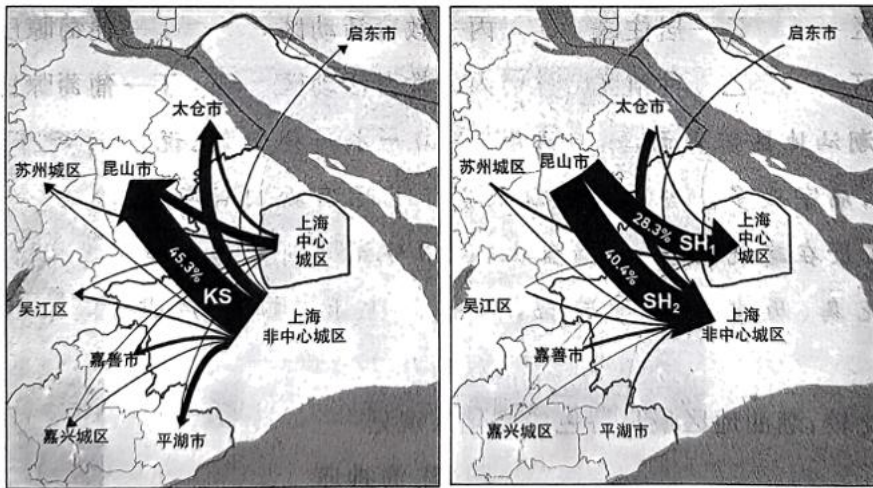


图1

图2

5. 下列分析正确的是（ ）

- ①KS方向的通勤人数多于SH₂方向
- ②昆山与上海距离最近，通勤时间短
- ③昆山与上海的联系更紧密
- ④SH₁方向的服务业通勤者比重高于SH₂方向

- A. ①③
- B. ②④
- C. ③④
- D. ①②

以上内容仅为本文档的试下载部分，为可阅读页数的一半内容。如要下载或阅读全文，请访问：<https://d.book118.com/288142136005006100>