

第1单元综合素养测评 B卷


素养形成与创新

时间:70分钟 满分:100分+10分



一 认真审题，填一填。（每空1分，共24分）

1. 【山西省晋中市】“旭日东升”说明每天早上太阳从(东)方升起；“夕阳西下”说明每天傍晚太阳从(西)方落下；面对南方，背对的方向是(北)方，(南)和(北)相对。



2. **跨学科**·语文

弃疾写的词，意思是“我向西北方向眺望长安，可惜只看到无数青山。”此时辛弃疾在长安的(**东南**)方向。

【点拨】结合所学知识，根据方向的相对性分析，西对东，南对北，东南对西北，西南对东北。辛弃疾向西北眺望，就是以他本人为中心，向西北长安方向望去，那么他对于长安来说就是在西北的相对面，即东南方向。



3. **跨学科**·语文

风由(**东**)向(**西**)吹。

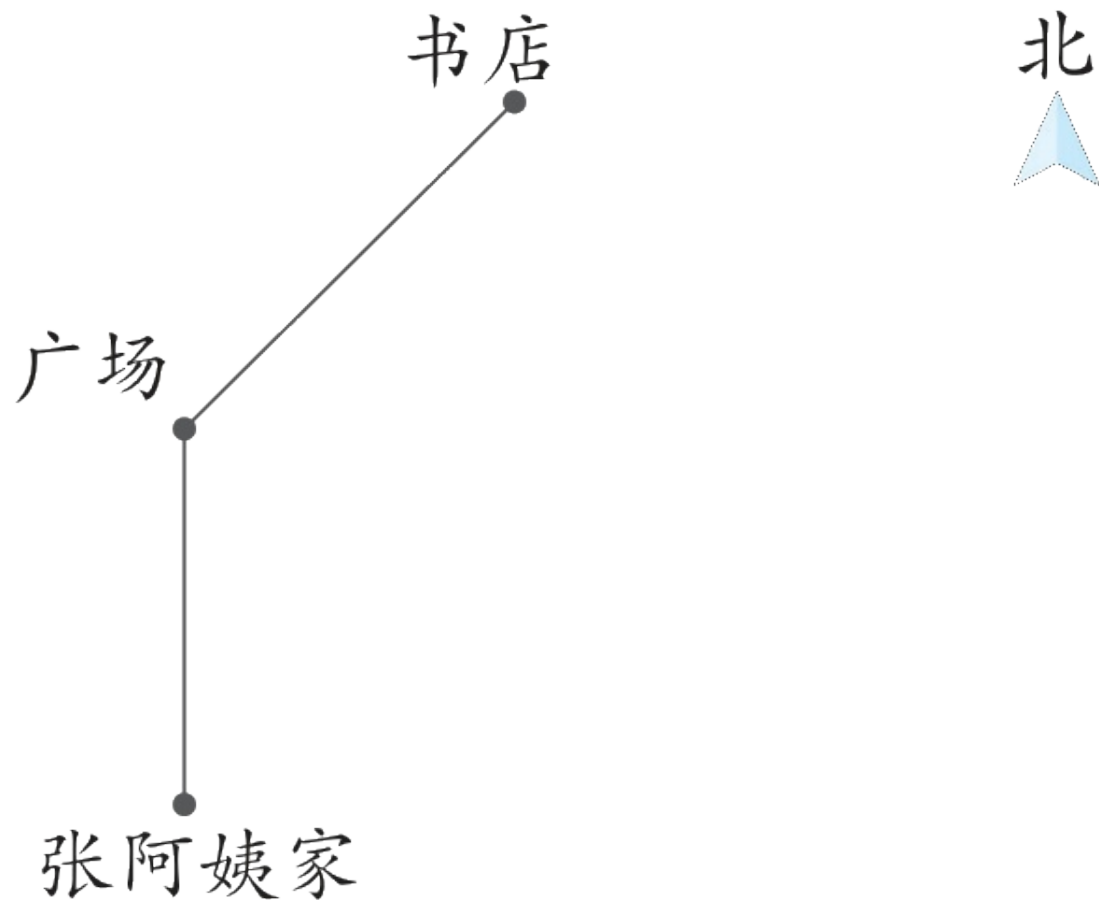
【点拨】气象上把风的来向定为风的方向，东风就是从东向西吹的风，据此解答即可。



4.张阿姨去书店上班，她从家出发先向北走到广场，再向东北方向走到书店。她下班后原路返回，应先向(**西南**)方向走到广场，再向(**南**)走到家。



【点拨】根据“上北下南，左西右东”可知，广场应该在张阿姨家的北面，书店应该在广场的东北方向。如下图。张阿姨下班后原路返回，应先向西南方向走到广场，再向南走到家。



5. 【湖北省孝感市】 指南针是我国古代四大发明之一，人们使用指南针来辨别方向。指南针一头指向(南)方，另一头指向北方。



6. **跨学科·科学**

阳转动，它的花盘早上朝(**东**)，傍晚朝(**西**)。



7.想一想，填一填。

厦门方特梦幻王国，是一个以高科技为主要表现形式的文化科技主题公园，坐落于美丽的海滨城市厦门，是国家4A级景点。以科幻和互动体验为最大特色，被誉为“东方梦幻乐园”“亚洲科幻神奇”。如图是奇幻之旅的部分游览路线图。



北



丛林故事

决战金山寺

秦陵历险

聊斋

生命之光

宇宙博览会



(1) 秦陵历险在丛林故事的(东南)方向 , (决战金山寺)在聊斋的西北方向。



(2) 请在



路线是：

西北

西南

东南

秦陵历险 → 丛林故事 → 决战金山寺 →

东南

东北

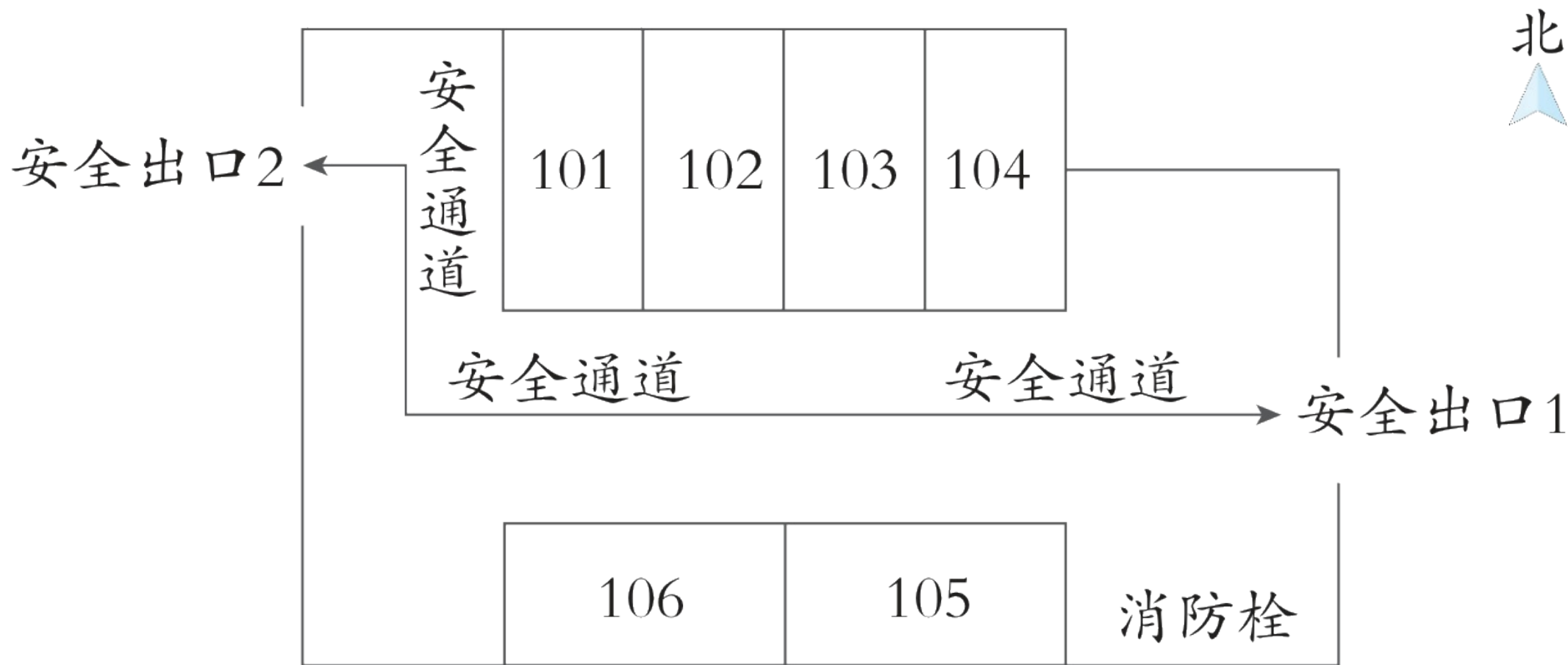
聊斋 → 宇宙博览会 → 生命之光



【点拨】“上北下南，左西右东”，左上为西北方向，左下为西南方向，右上为东北方向，右下为东南方向，据此填空即可。



8.如图是荣德小学教学楼一楼的消防疏散示意图。



(1) 106教室在104教室的(西南)方向，消防栓在105教室的(东)面。

(2) 典典正在103教室上课，遇到紧急情况需要疏散时，应快速离开教室，可沿着安全通道向(东)面走直接到达安全出口1；也可先沿着安全通道向(西)面走，再向(北)面走到达安全出口2。



 仔细推敲，选一选。（将正确答案的序号填在括号里）
（每题3分，共15分）

1. 龙龙面向南方，他先向后转，再向左转了2次，这时龙龙面向
(C)方。

A. 西

B. 东

C. 南



2. **跨学科·科学**

代利用太阳投射的影子来测量时间的一种方法。如果影子在“拐杖”的西面，那么太阳在“拐杖”的(**A**)。

- A.东面 B.南面 C.西面


【点拨】根据生活经验，物体影子的方向总是和光照的方向相反。



立竿测日影



3. 学科素养·推理意识 在中央气象台的天气预报中，风向用类似



北风

A.西北



西风



东风

B.西南



南风


C.东北



? 风

B

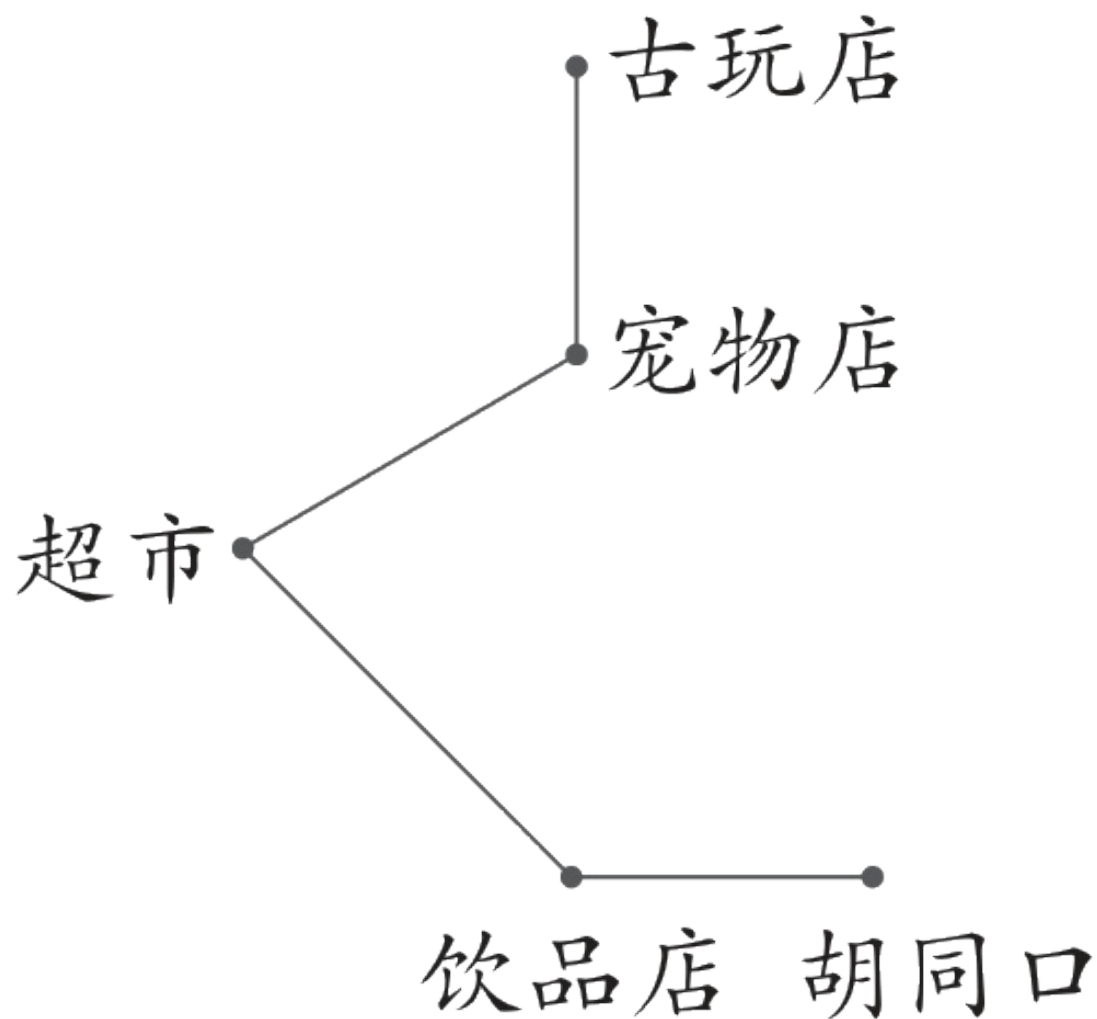


【点拨】根据题意可知，风向用类似“竖线表示风向，最长的竖线从哪个方位来就代表什么风，据此选择即可。



4.北京的胡同蕴含着浓郁的文化气息，记录了历史的变迁。暑假期间，聪聪骑着共享单车从某个地点出发，先向东南方向骑了一段路，再向正东骑到胡同口。他是从(A)出发的。

A.超市 B.宠物店 C.古玩店



以上内容仅为本文档的试下载部分，为可阅读页数的一半内容。如要下载或阅读全文，请访问：
<https://d.book118.com/297031154044010010>