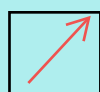







SOLD

@备考首选

通关无忧 轻松拿下考试

-  基础阶段—专业知识
-  刷题阶段—重点题库
-  冲刺阶段—押题点睛
-  考点覆盖—精编习题
-  紧扣考纲—直击考点
-  历年真题—押题抢分

本封面内容仅供参考，实际内容请认真预览本电子文本

祝您考试顺利

## 最新四年级下册数学期末考试试题

### 一、填空题。

1、任何数加 0 等于 (                    )，任何数乘 0 等于 (                    )，  
0 除以任何非零数等于 (                    )。

2、一个等腰三角形的一个内角是  $44^\circ$ ，这个等腰三角形的三个内角  
分别是 (                    )。(有几种情况写几种情况)

3、一个三位小数保留两位小数后是 3.99，这个三位小数最大是  
(                    )，最小是 (                    )，这样的三位小数有  
(                    )种可能性。

4、把数 3.14、 3.41、 3.104、 3.401、 3.014 和 3.041 中，最大的是  
(                    )，最小的是 (                    )，按从小到大排列，  
右边第二个数是 (                    )。

5、 5.6 时 = (                    ) 时 (                    ) 分

4039 吨 = (                    ) 吨 (                    ) 千克

3.9 平方分米 = (                    ) 平方米 = (                    ) 平方厘米

890 分米 = (                    ) 千米 = (                    ) 厘米。

6、如下图，是一个小数的一部分，按要求回答，

①这个小数最大是 (                    )，


②如果这个小数接近 80，这个小数是 (                    )。

$\square 0.\square 8$

7、根据三角形的内角和,推测四边形的内角和是( ),  
五边形的内角和是( ),六边形的内角和是  
( )。

8、在进行百米赛跑时,小宇跑了 9.78 秒,小鹏跑了 9.87 秒,小明跑了 9.807 秒,小红跑了 9.708 秒,小青跑了 9.078 秒,他们几个人中,  
( )跑的最快,( )跑的最慢。

9、我们规定  $m \star n = 45.9 - n + m$ ,则  $23.89 \star 15.89$  等于( )。

10、有( )个三角形,( )个四边形,  
( )个梯形。

## 二、判断题。

1、一个三角形最多有 3 个锐角,2 个钝角,1 个直角。( )

2、大于 0.4 同时小于 0.6 的小数只有 0.5。( )

3、甲在乙的南偏西  $34^\circ$ ,也可以甲在乙的西偏南  $34^\circ$ 。( )

4、一个小数的位数越多,这个小数越大。( )

5、 $34.56 + 7.8 - 34.56 + 7.8 = 0$ 。( )

6、盒子中有 5 个黑球,3 个白球和 1 个蓝球,摸到黑球的可能性最大,摸到蓝球的可能性最小。( )

## 三、选择题

1、下列数中: 300.045、 28.500、 800.56、 609.45、 4.90 中,其中  
一个零也不读的有( )个。

A、1

B、2

C、3

D、4

2、如果  $a+c=a-c$ ，下列说法正确的是（ ）

A、 $a$  一定是 0

B、 $c$  一定是 0

C、 $a$ 、 $c$  一定都是 0

D、无法确定

3、下列三根小棒不能构成三角形的是（ ）。

A、6 厘米、6 厘米、6 厘米

B、4 厘米、6 厘米、2 厘米

C、5 厘米、5 厘米、8 厘米

D、7 厘米、6 厘米、5 厘米

4、如果一个三角形的两个锐角的和是  $91^\circ$ ，则这个三角形一定是（ ）。

A、锐角三角形

B、直角三角形

C、钝角三角形

D、等腰三角形

5、我们看一组图形：▲、□、○、☆、▲、□、○、☆……，则第 2040 个图形是（ ）。

A、▲

B、□

C、○

D、☆

#### 四、计算题。

##### 1、直接写出答案。

$0.38+0.06=$

$(155+20)-65=$

$64.2+5.7=$

$543-27-73=$

$0.97-0.09=$

$12.8-9.86=$

$17.05-4.58 =$

$9800 \div 25 \div 4=$

$3.5+0.6=$

$5-0.15=$

$4.35+5.36=$

$99 \times 66+66=$

$0.81+0.09=$

$0 \div 78=$

$50-20 \div 5=$

$35 \times 25 \times 4=$

##### 2、列竖式计算。

$56+12.98=$

$34.1-34.23.899=$

$$45.67+89.675=$$

$$34.89-12.997=$$

### 3、能简便的要简便。

$$86.7-(14.3-4.8)+60.3-(12.34-8.79)$$

$$6.74+12.62+24.38+13.26-34.56-2.44$$

$$345\times 238-345+763\times 345$$

$$88888\times 5555+8890\times 44444$$

以上内容仅为本文档的试下载部分，为可阅读页数的一半内容。如要下载或阅读全文，请访问：<https://d.book118.com/308137063014006070>