

## 目录

考点 01 食物生产与社会生活 生产工具与劳作方式.....	1
考点 02 商业贸易与日常生活 村落、城镇与居住环境.....	27
考点 03 交通与社会变迁 医疗与公共卫生.....	54

(按住 Ctrl, 点击目录里的考点, 可直接跳到对应考点)

### 考点 01 食物生产与社会生活 生产工具与劳作方式



## 2023年高考真题

1. (2023 年山东卷) 私有财产是生产力发展到一定程度的产物。下列与陶器相关的考古发现中, 可以用来作为私有财产已出现证据的是 ( )

- A. 遗址出土有陶器和较多陶器碎片
- B. 多人合葬墓随葬品有陶钵、陶罐、骨器等
- C. 单人墓随葬品有陶器、石磬、玉钺等百余件
- D. 陶器上绘有丰富多彩的几何图案和动植物纹样

【答案】C

【解析】本题是单类型单项选择题。据本题主题干设问词, 可知这是正向题。据本题时间信息可以得出准确时空是古代世界。据所学可知, 人类早期生产力水平较低, 过着集体生活, 随着生产力的发展, 出现了私有财产, 私有财产归贵族所有, 材料中单人墓随葬品有陶器、石磬、玉钺等百余件, 说明当时贫富差距已经出现, 私有制产生, C 项正确; 仅凭遗址出土的陶器无法证明当时人类出现私有财产, 因为陶器和较多陶器碎片究竟属于个体所有还是集体所有, 材料没有明确告知, 排除 A 项; 多人合葬墓主要反映当时人类过着集体生活, 没有贫富差距, 排除 B 项; D 项说明当时人类的陶器制作具备一定的水平, 但是不能证明当时出现私有制, 排除 D 项。故选 C 项。

2. (2023 年新课标卷) 中国新石器时代晚期, 南方的良渚文化与北方的龙山文化都呈现出向更高社会阶段

发展的迹象，这主要表现在（ ）

- A. 公共墓地出现
- B. 农业的产生
- C. 贫富分化加剧
- D. 文字的使用

【答案】C

【解析】本题是单类型单项选择题。据本题主题干的设问词，可知这是本质题。据本题时间信息可知准确时空是：新石器时代晚期（中国）。据本题材料“南方的良渚文化与北方的龙山文化都呈现出向更高社会阶段发展的迹象”并结合所学知识可知，新石器晚期生产力的发展和进步，生产力的进步推动了生产关系的变化，引发贫富分化和阶级分化，促使新石器时代的文化向更高社会阶段发展，C项正确；进入新石器时代后，人们有了比较固定的农业聚落，开始出现氏族的公共墓地，氏族墓地的出现是氏族血缘观念的集中体现之一，与材料内容不符，排除A项；农业的产生意味着新石器时代的开始，排除B项；汉字的产生首先是为政治和宗教服务的，文字的使用不是新石器时代的文化向更高社会阶段发展的主要表现，排除D项。故选C项。




3. (2023年全国乙卷)孟子说：“五亩之宅，树之以桑，五十（岁）者可以衣帛矣；鸡豚狗彘之畜，无失其时，七十（岁）者可以食肉矣；百亩之田，勿夺其时，数口之家可以无饥矣。”这一观点所依托的时代背景是（ ）

- A. 休养生息政策的实施
- B. 井田制度的繁荣
- C. 农业生产技术的发展
- D. 商业活动的衰退

【答案】C

【解析】本题是单类型单项选择题。根据主题干设问词可知本题是背景题。时空是：战国时期（中国）。根据材料可知，材料主要内容是小农生产生活的景象，这一观点是孟子提出的，孟子生活在战国时期，结合所学知识可知，孟子能够提出这一观点是因为战国时期出现铁犁牛耕，农业生产技术得到极大发展，使小农生产取代了井田制下集体生产，C项正确；休养生息政策是源于道家无为而治顺其自然的观点，排除A项；这一时期井田制走向瓦解，排除B项；这一时期，工商食官不断崩溃，私营工商业不断发展，商业活动较之前而言是发展的，排除D项。故选C项。

4. (2023年湖北卷)象形文字在一定程度上可以反映创字时的生态环境、经济生活和思想观念等。下表是“农”字的演变历程，其创意是在树木众多的地方以蜃（蚌壳）制工具从事劳作。“农”字的创制可反映当时（ ）

商 甲骨文	周 金文	秦 小篆	现代 楷书
			<p>农</p> <p>(農、𧣾)</p>

- A. 天人合一的宇宙观念
- B. 渔猎采集的劳动方式
- C. 形神兼备的书画艺术
- D. 原始农耕的生产状况

【答案】D

**【解析】**本题是单类型单项选择题。据本题主题干的设问词，可知这是本质题。据本题时间信息可知准确时空是：从虞夏时代起，经商、西周迄春秋止（中国）。据本题材料“在树木众多的地方以蜃(蚌壳)制工具从事劳作。”并结合所学知识可知，在原始的自然条件下，采用简陋的石器、棍棒等生产工具，从事简单农事活动的农业。这一时期木石工具仍在广泛使用，耒耜和锄耨是当时的主要农具，“农”字的创制可反映当时原始农耕的生产状况，D项正确；材料内容没有涉及天人合一的宇宙观念，排除A项；渔猎采集的劳动方式最为主要的工具是石头工具和草绳木叉等，群居生活，围捕渔猎，而材料反映的是原始农耕的生产状况，排除B项；因“形神兼备的书画艺术”与本题材料主要结论“原始农耕的生产状况”不一致，排除C项。故选D项。

5. (2023年海南卷) 据《史记·周本纪》载，周武王“率戎车三百乘，虎贲三千人，甲士四万五千人，以东伐纣”。而战国晚期，秦、齐、楚等诸侯国都拥有人数近百万的军队，连七国中最小的韩国也有30万兵力。这一变化主要是因为（ ）

- A. 军事理论的形成
- B. 生产方式的变革
- C. 政治制度的演进
- D. 地形地势的利用

**【答案】B**

**【解析】**本题是单类型单项选择题。据本题主题干设问词，可知这是原因题。据本题时间信息可知准确时空是：西周、战国晚期（中国）。材料显示周武王时期，军队较少，战国晚期各诸侯国军队数量大为增加，据所学可知，这是因为战国时期社会经济得到发展，在人口迅速增加的基础上，军队的数量也必然增加，B项正确；题干涉及时段是周武王至战国晚期，据所学可知，周武王时期也有军事理论只不过战国时期伴随着兵家的出现，军事理论更系统，排除A项；据所学可知，“政治制度的演进”说法笼统，指代不明，政治制度与军队数量的多少没有必然关系，排除C项；材料仅显示周武王至战国晚期军队数量明显增加，据材料无法得出是因为战国时期战争中人们对地形地势的利用导致军队数量增加，排除D项。故选B项。

6. (2023年浙江卷1月) 生产工具的进步是生产力发展的重要标志。河南辉县出土的战国铁犁铧，人们耕地时把它安装在犁上，用来破土，省力易行。据此可知，战国时期（ ）

- A. 铁犁铧用灌钢法制成
- B. 中国人率先掌握了冶铁技术
- C. 铁农具已经在农业生产中使用
- D. 铁犁牛耕已经成为农业的主要耕作方式

**【答案】C**

**【解析】**根据材料“战国铁犁铧，人们耕地时把它安装在犁上，用来破土，省力易行”可知，铁农具已经在农业生产中使用，C项正确；灌钢法是南北朝出现，排除A项；公元前15世纪小亚细亚赫梯人最早掌握冶铁技术，排除B项；材料未涉及牛耕，排除D项。故选C项。

7. (2023年浙江卷6月) 历史上的技术变革层出不穷，人类社会生活也因此变得越来越丰富多彩。下列项中，关于技术进步与人类社会生活变化的对应关系，最为密切的是（ ）

- A. 铁犁耕作技术——从迁徙过渡到定居
- B. 钢筋混凝土技术——创造了城市新的夜生活方式
- C. 杂交育种新技术——一年四季都能买到生鲜食品

D. 移动通信技术——与外界沟通更加便捷

【答案】D

【解析】本题是单类型单项选择题。据本题主题干设问词，可知这是正向题。据本题时间信息可以得出准确时空是古代至现代世界。据所学可知，移动通信技术主要方便人类之间更好地交流与沟通，因此D项正确；铁犁耕作技术提高了耕作效率，促进了生产力的发展，但是它的作用并不是让人类从迁徙过渡到定居，据所学可知，促进人类从迁徙过渡到定居的是原始农业的出现，排除A项；钢筋混凝土技术有助于提高房屋的质量，与城市夜生活之间没有必然关联性，排除B项；杂交育种新技术能改良作物品种，同时增加作物产量，生鲜食品涉及到的技术是食物储存技术，排除C项。故选D项。

8. (2023年新课标卷) 如表是中国民族资本构成比重表(%)，如表可以反映出( )

	1894年	1913年	1920年	1936年(不包括东北)
产业资本	2.28	11.64	14.84	21.36
商业资本	74.89	67.30	58.87	50.55
金融业资本	22.83	21.06	26.29	28.09

- A. 民族工业呈现发展趋势  
B. 商业贸易日益萎缩  
C. 近代金融体系臻于完善  
D. 经济结构逐渐失衡

【答案】A

【解析】本题是单类型单项选择题。据本题主题干的设问词，可知这是本质题。据本题时间信息可知准确时空是：近代中国。据材料数据可知1894年至1936年中国“产业资本在民族资本中所占比重”总体上呈现上升趋势，结合所学，甲午战后、辛亥革命后、一战期间、南京国民政府统治前期，中国民族工业获得了多次发展机会，民族工业有了很大的发展，所以表格可以反映出民族工业呈现发展趋势，A项正确；表格中商业资本所占比重有所下降，但不等于这一时期中国“商业贸易”日益“萎缩”，排除B项；在半殖民地半封建社会的国情下，中国近代金融体系没有臻于完善，C项不符合史实，排除C项；材料仅涉及了民族资本，不能得出经济结构是否逐渐失衡，而且结合所学“产业资本不断发展”会减轻产业结构的失衡问题，排除D项。故选A项。

9. (2023年北京卷) 1998年，“广播电视村村通工程”启动。此后，“村村通”在公路、电力、饮用水、电话网、有线电视网、互联网等领域陆续展开，成为一个系统工程。这一工程( )

- A. 成为推进城乡一体化的重大举措  
B. 标志农村经济体制改革取得突破  
C. 为开展三线建设做好了充分准备  
D. 为农业社会主义改造奠定了基础

【答案】A

【解析】本题是单类型单项选择题。据本题次题干的设问词，可知这是影响题。据本题时间信息可知准确时空是：现代中国。材料强调的是“村村通”工程，即在农村发展公路、电力、饮用水、电话网、有线电视网、互联网，这有利于加强农村和农村以及农村和城市之间的联系，有力的推动了城乡一体化进程，A项正确；

农村经济体制改革主要是 1978 年到 1983 年，材料不涉及经济体制改革问题，排除 B 项；三线建设的时间是 20 世纪 60~70 年代，目的是加强国防为中心的战略大后方建设，材料和三线建设无关，排除 C 项；社会主义改造早在 1956 年底就已经完成，排除 D 项。故选 A 项。

10. (2023 年北京卷) 近年来，随着信息技术不断发展，各种类型的历史资料数据库相继建立。有学者认为，“大数据使历史资料利用产生革命性变革”，历史研究进入“e-考据”时代。对此理解正确的是 ( )

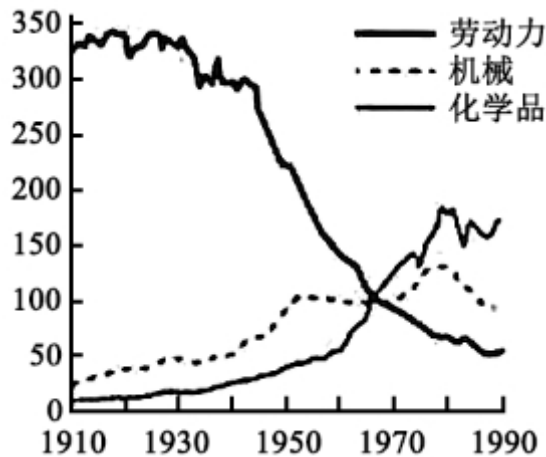
- ①大数据的应用改变了史料运用的原则
- ②数字化史料丰富了史学家的研究手段
- ③历史资料数字化提高了史料利用效率
- ④“e-考据”指历史学与考古学的结合

A. ①③                      B. ②④                      C. ①④                      D. ②③

**【答案】D**

**【解析】** 本题是组合选择题。时间是当代。根据材料可知，大数据可以使历史资料共享，提高了利用率，但并不是变革史料运用的原则，史料运用仍然要坚持孤证不立、无征不信、实事求是等原则，排除①；根据材料“各种类型的历史资料数据库相继建立”“大数据使历史资料利用产生革命性变革”可知，数字化史料可以通过大数据将史料分类，数字化文献检索可以使史料的搜集极其快捷而且相对完备,可以快速检索到大量资料，由此可见，历史资料数字化丰富了史学家的研究手段，提高了史料利用效率，②③正确；“e-考据”指的是充分利用电子资源进行考据的方法，是信息技术和历史考据的结合，并非是历史学与考古学的结合，排除④。综上，D 项正确，排除 ABC 项。

11. (2023 年湖南卷) 对下图的合理解释是 ( )



美国农业的投入使用量 (以 1967 年指数为 100)

- A. 机械投入减少反映农业集约化程度降低
- B. 农业技术变迁呈现出节约劳动力的倾向
- C. 化学品广泛使用导致生态环境遭到破坏
- D. 劳动力的减少意味着农业逐步走向衰落

**【答案】B**

**【解析】**本题是单类型单项选择题。据本题主题干的设问词，可知这是本质题。据本题时间信息可知准确时空是：近现代（世界）。根据曲线图可以看出，1910-1990年间，美国劳动力的使用量指数总体呈下降趋势，机械、化学品的使用量指数总体呈上升趋势，并结合所学可知，农业生产中机械化可以节约劳动力，提高生产效率；化学肥料的使用使得农民不再需要大量的人力进行耕作和照管农作物，大大缩短了生产时间，提高生产效率。机械化、农业科技助推农业节约劳动力，B项正确；机械化作业有利于农业集约化程度的提高，不断提高土地生产率和劳动生产率，排除A项；生态环境问题是多种因素影响的结果，不单单是化学品造成的，排除C项；美国“农业逐步走向衰落”的表述不符合史实，劳动力的减少是现代农业发展的趋势，排除D项。故选B项。

12. **（2023年湖北卷）**13世纪时，英格兰的一则小品剧中，庄园领主在法庭上公开讨论小麦、奶酪、鸡蛋和小乳猪的价格。无独有偶，《田庄总管职责》也提醒领主和总管，羊毛应该论包或以一只羊一次所剪的毛为单位出售，怎样卖收益最大、好处最多，就怎样卖。上述材料反映英格兰（ ）

- A. 封建庄园制度已濒临崩溃
- B. 庄园农产品获利丰厚
- C. 农业的经济转型趋势初显
- D. 圈地运动正迅速开展

**【答案】**B

**【解析】**本题是单类型单项选择题。据本题主题干设问词，可知这是本质题。据本题时间信息可知准确时空是13世纪英国。根据唯物史观的基本原理，一定社会的文化是对一定社会的政治和经济的反映可知，13世纪英国的小品剧和《田庄总管职责》中的规定均能一定程度反映英国当时的政治和经济，据材料可知，小品剧中，庄园领主讨论小麦等农产品价格，是因为市场上小麦等农产品较多；《田庄总管职责》保护羊毛的价格，同样是因为当时羊毛作为庄园的产品较多，这些都折射出当时庄园农产品获利丰厚，B项正确；题干涉及时间13世纪，当时封建庄园并未崩溃，排除A项；材料信息未涉及农业转型问题，排除C项；据所学可知，圈地运动是工业革命时期的重要历史事件，时间不符，排除D项。故选B项。

13. **（2023年海南卷）**17世纪，欧洲贵族男性穿着华美、妆容精致，且以戴假发和编发辫为时尚。从19世纪中叶开始，工业资产阶级引领服装潮流，男装简洁而实用。这一变化主要体现了（ ）

- A. 科技进步提高生活水平
- B. 思想解放推动政治变革
- C. 工业革命促进经济发展
- D. 社会变迁影响流行风尚

**【答案】**C

**【解析】**本题是单类型单项选择题。据本题主题干的设问词，可知这是本质题。据本题时间信息可知准确时空是：17—19世纪（欧洲）。根据材料“17世纪，欧洲贵族男性穿着华美、妆容精致，且以戴假发和编发辫为时尚。从19世纪中叶开始，工业资产阶级引领服装潮流，男装简洁而实用。”可知，17世纪，欧洲贵族引领服装潮流，而到了19世纪中叶，随着工业革命的推进，工业资产阶级实力大增，转变为工业资产阶级引领潮流，从侧面反映了工业革命对经济的促进，以及推动工业资产阶级地位的提升，C项正确；材料中描述的是引领服装潮流，没有体现生活水平的提高，排除A项；材料中没有体现思想解放，也没有体现社会变革，排除B项；社会变迁影响流行风尚，是社会现象，而非本质，排除D项。故选C项。

14. **（2023年北京卷）**柑橘与《橘录》

材料一 中国是最早栽培柑橘类果树的国家之一。宋代，柑橘的产销扩大。南方出现了温州、苏州、荆州和福州等多个柑橘生产中心，有众多专门贩运柑橘的商人。开封的酒肆内有温柑、金橘等多个品种，临安有专门售卖柑橘的市场“柑子团”。士大夫喜爱歌咏“橙黄橘绿”，苏轼自称“能手自接果木，尤好栽橘”。南宋韩彦直总结了柑橘栽培技术，撰成世界第一部柑橘专著《橘录》。该书将柑橘类果树分为3大类27种，分述植株、果实、食味和产地等，并介绍了栽培、去病、浇灌、采摘、收藏和入药等各项环节。

材料二 15世纪以后，中国的甜橙传入欧洲，哥伦布将其带到美洲。在甜橙基础上培育出的脐橙成为美洲重要品种。18世纪，瑞典植物学家奥斯贝克在广州记录了当地柑橘品种，并把标本带回国。19世纪初，英国从广州引进宽皮柑橘。

中国良种的引进，使欧美柑橘从药用、装饰转向食用为主，并形成商品化消费。西班牙在18世纪末就出现了商业化柑橘种植园。20世纪初，美国植物学家施永格在中国发现了宜昌橙等耐寒柑橘品种，将其引入美洲，用于改良品种。

《橘录》在欧、美、日均有流传。1923年，《橘录》英文版在欧洲最具影响力的汉学杂志《通报》上发表，法国汉学家伯希和为其撰写引言。世界柑橘业权威著作《柑橘产业》也多次引用《橘录》。

(1)概述宋代柑橘产销扩大的历史条件。

(2)阅读材料，结合所学，简述中国柑橘品种和《橘录》在世界传播的影响。

**【答案】**(1)[参考答案]城市经济、商品经济的繁荣发展；士大夫的推动；柑橘栽培专著的出现。

(2)[参考答案]促进了新的物种的出现；改变了欧美饮食格局、并形成商品化消费；为世界柑橘著作的发展奠定基础。

**【解析】**(1) 本题属于原因类材料分析题。根据材料“南方出现了温州、苏州、荆州和福州等多个柑橘生产中心，有众多专门贩运柑橘的商人。开封的酒肆内有温柑、金橘等多个品种，临安有专门售卖柑橘的市场‘柑子团’。”可得城市经济、商品经济的繁荣发展；根据材料“士大夫喜爱歌咏‘橙黄橘绿’，苏轼自称‘能手自接果木，尤好栽橘’。”可得士大夫的推动；根据材料“南宋韩彦直总结了柑橘栽培技术，撰成世界第一部柑橘专著《橘录》。”可得柑橘栽培专著的出现。

(2) 本题属于影响类材料分析题。根据材料“15世纪以后，中国的甜橙传入欧洲，哥伦布将其带到美洲，在甜橙基础上培育出的脐橙成为美洲重要品种。18世纪，瑞典植物学家奥斯贝克在广州记录了当地柑橘品种，并把标本带回国。19世纪初，英国从广州引进宽皮柑橘。”可知促进了新的物种的出现；根据材料“使欧美柑橘从药用、装饰转向食用为主，并形成商品化消费。西班牙在18世纪末就出现了商业化柑橘种植园。”可知改变了欧美饮食格局、并形成商品化消费；根据材料“《橘录》在欧、美、日均有流传。1923年，《橘录》英文版在欧洲最具影响力的汉学杂志《通报》上发表，法国汉学家伯希和为其撰写引言。世界柑橘业权威著作《柑橘产业》也多次引用《橘录》。”可知为世界柑橘著作的发展奠定基础。

15. (2023年浙江卷1月) 阅读材料，完成下列要求。

材料一



(虚线代表1492年哥伦布探险以前, 实线代表16世纪以后)

马铃薯主要传播路径示意图

——据〔日〕21世纪研究会编《食物的世界地图》

材料二 在16-18世纪繁荣的中欧贸易中,瓷器、漆器、织物、壁纸、家具和玩具等各式各样的中国特产涌入欧洲,饮茶成为一种新的生活方式,丝绸与瓷器的魅力促使欧洲人致力于将其生产本土化。

1753年7月24日,瑞典王后收到国王赠送的一件特殊生日礼物:一座木结构的中国屋。她描述道:“我的长子穿得像个中国王子一样在入口处恭候,随侍的王室侍从则扮成中国文官的模样……里面有一个令人赏心悦目的印度风格装饰成的大房间,四角各有一只大瓷花瓶。……欣赏过所有东西之后,国王陛下下令演出一场配土耳其音乐的中国芭蕾。”

——摘编自张国刚《中西文化关系通史》

材料三 为加强对印度的统治,1853年,英国议会通过一个新特许状法案,规定印度文官应向全体英国臣民开放,实行公开竞争考试。但印度人进入印度文官殿堂的大门非常狭窄。……印度成为主权共和国后,肯定了当时已存在的印度行政官等系统,并根据宪法有关规定制定了全印文官法。文官分为全印文官、邦文官和中央文官。

——整理自程汉大《英国政治制度史》等

(1)根据材料一,写出马铃薯的洲际传播路径。结合所学,概括马铃薯成功跨洋传播的必备条件。

(2)参考材料一二三,自选一个角度,运用18和19世纪的相关史实,围绕文明互鉴主题写一则历史短文,题目自拟。(要求:观点明确,史实准确,条理清晰,表述成文)

**【答案】(1)路径:从美洲到欧洲,再到亚洲等洲。条件:新航路的开辟;人口跨洋迁移;马铃薯适应性强;**

**(2)举例:**

**论题:东西方经济联系促进文化交流。论述:随着新航路开辟之后,世界市场逐渐形成,东西方的经济联系也得到进一步加强,作为东方商品之一的茶叶在西方的传播也得到逐渐加强。17世纪上半叶茶传入英国,此时饮茶仅局限于社会上层,消费量较为有限;至18世纪中叶,英国东印度公司茶叶进口量猛增,其影响范围从17世纪的社会上层扩展至18世纪的几乎所有家庭,逐渐形成了英式饮茶的习惯性做法。“下午茶”也在英国社会日渐流行起来。此后,饮茶逐渐发展成为英国人的生活习惯之一,形成英国自身的茶文化特**



点。这说明随着经济联系的加强，东方文化随之传播到西方，并逐渐与西方本土文化结合，从而呈现出文化的交流与融合的局面。综上，世界经济的联系对文化的发展会产生推动作用，推动文化多元化的形成和发展。

**【解析】**(1) 路径：根据材料一地图马铃薯原产于美洲，欧洲殖民者到美洲后把马铃薯运输到欧洲，再带到亚洲。条件：结合所学从新航路的开辟、人口跨洋迁移、马铃薯适应性强角度分析。

(2) 此问是开放式问题。论题：根据材料一从物种交流分析。根据材料二“瓷器、漆器、织物、壁纸、家具和玩具等各式各样的中国特产”可知产品交流；根据材料二“饮茶成为一种新的生活方式，丝绸与瓷器的魅力促使欧洲人致力于将其生产本土化”可知茶文化丝绸、瓷器本土化的文化交流互鉴。根据材料三“印度成为主权共和国后，肯定了当时已存在的印度行政官等系统，并根据宪法有关规出定制定了全印文官法”可知，制度的交流互鉴。综上材料分析，可从物质、思想文化和制度三个方面来拟定东西方的交流。论述：史料举例：物质类：如马铃薯、茶叶等。思想文化类：如茶文化、印度风格等。制度类：如文官制度、《拿破仑法典》等。阐述角度：结合物质类史料、思想文化类史料和制度类史料来阐述文明互鉴。



## 2022年高考真题

1. (2022年北京卷) 19世纪70—80年代，美国商人斯威夫特创办了肉类加工厂，把屠宰和包装分成几道独立工序，利用传送带进行流水作业，并雇佣工程师设计冷冻车厢，以便长途运输鲜肉。他还陆续开办工厂，利用肉类加工的下脚料生产肥料、肥皂和甘油等。斯威夫特的经营模式( )

- ①体现了产业分工不断细化                      ②得益于铁路交通业的发展  
③成为近代机械生产的开端                      ④为农业现代化提供了范本
- A. ①②                      B. ③④                      C. ②③                      D. ①④

**【答案】**A

**【解析】**“把屠宰和包装分成几道独立工序，利用传送带进行流水作业”体现了产业分工的不断细化，①正确；“并雇佣工程师设计冷冻车厢，以便长途运输鲜肉”说明当时铁路运输业得到发展，能够长距离的运输货物，②正确；通过材料无法证实斯威夫特创办的肉类加工厂是近代机械生产的开端，而且肉类加工本身不属于机械生产，也不属于现代农业，③④错误。根据以上分析可知，A项正确，排除B、C、D项。故选A项。

2. (2022年重庆卷) 1895年，马克斯·韦伯在谈及帝国东部地主中占据领导地位的普鲁士容克阶层时说“他们自己负担劳动，如今陷入经济上的殊死搏斗，没有任何国家经济政策可以帮助他们脱离苦海并将其带回到旧日的社会角色当中。”据此可知，当时德国( )

- A. 工业化引起社会结构的深刻变化                      B. 普鲁士贵族阶层丧失了政治权力  
C. 区域间的经济结构发生重大改变                      D. 社会福利改革落后于经济的发展

**【答案】**A

【解析】1895年，马克思·韦伯在谈及普鲁士容克阶层时认为，“没有任何国家经济政策可以帮助他们脱离苦海并将其带回到旧日的社会角色当中”，结合所学知识可知，伴随着第二次工业革命的进行，德国资本主义经济的发展，推动了资产阶级力量的壮大，冲击了作为封建势力的普鲁士容克贵族的地位，反映了工业化引发了德国社会结构的深刻变化，A项正确；普鲁士贵族阶层地位受到冲击，但并没有丧失政治权力，排除B项；材料反映的是德国内部整体工业化产生的影响，并非区域间的经济结构变化，排除C项；材料体现了工业化冲击了普鲁士容克贵族的地位，并没有体现社会福利改革的内容，排除D项。故选A项。

3. (2022年全国甲卷) 蒸汽机发明后，日益成为欧美国家雇佣大农场机器动力的重要来源，需要多人协同操作。20世纪初，农业机械的使用变得个人化、小型化，家庭农场在劳动生产率方面缩小了与雇佣大农场的差距，后者日趋衰落。这一系列变化表明( )

- A. 内燃机的应用改变农业生产组织形式
- B. 农业技术发展导致失业人口大量增加
- C. 蒸汽机成为农业生产的机器动力来源
- D. 农业生产效率的提高依赖于生产规模

【答案】A

【解析】根据材料可得出，20世纪随着第二次工业革命的开展，内燃机的使用，使农业的机械化的逐步实施，传统的农业生产方式及组织形式发生变化，A项正确；材料不能体现人口增长，排除B项；材料反映的是内燃机的影响，排除C项；农业生产效率依赖于科技，排除D项。故选A项。

4. (2022年全国甲卷) 宋朝海外贸易中，输出的商品主要是丝织品、瓷器、漆器、铁器等，输入的商品以香料、犀角、象牙、珊瑚、珍珠等为大宗。政府每年从海上进口贸易中获利颇丰。这表明，在宋朝( )

- A. 进口商品成为基本生产资料
- B. 开辟了海上丝绸之路
- C. 外贸成为国家税收主要来源
- D. 手工业生产较为发达

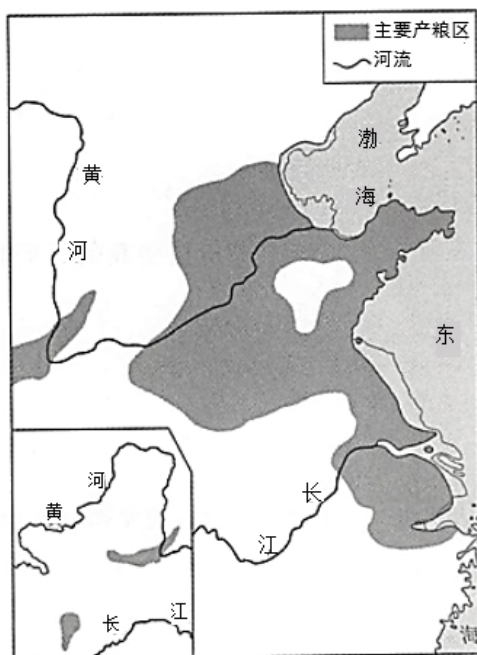
【答案】D

【解析】宋朝海外贸易中，输出商品多为手工业制成品，而输入产品多为奢侈品，最终政府每年从海上进口贸易中获利颇丰，意味着当时贸易出口量较大，说明手工业生产较为发达，D项正确；进口商品是奢侈品，不是基本生产资料，排除A项；汉代开辟了海上丝绸之路，排除B项；通过材料无法看出外贸在国家财政中所占比重，排除C项。故选D项。



## 2021年高考真题

1. (2021年山东卷) 如图是中国古代某一历史时期主要产粮区示意图。该时期是



- A. 秦汉时期      B. 隋唐时期      C. 宋元时期      D. 明清时期

**【答案】B**

**【解析】**根据图示内容可以看出，这一时期的主要产粮区主要是在黄河中下游，结合所学内容可知此时应该是隋唐时期，故选 B；秦汉时期主要产粮区应该是在黄河中游，特别是关中地区，排除 A；宋元和明清时期经济重心已经转移到南方，长江中下游成为粮食的主要产区，与图示内容不符，排除 CD。



## 2020年高考真题

无



## 2019年高考真题

无



## 2018年高考真题

1. (2018 年浙江卷 4 月) 有学者指出：作为对人类最重要献礼之一的马铃薯，最初其实是颇低贱的食物，根本不受投资者青睐。一系列的战争、饥荒替马铃薯打入欧洲，打开了一个更大更长久的开口。下列表述

正确的是

- ①马铃薯原产于美洲
- ②马铃薯由葡萄牙人带回欧洲
- ③马铃薯的“发现”得益于新航路的开辟
- ④马铃薯等作物的传播一定意义上也是一次文明的链接

A. ①②③      B. ①②④      C. ①③④      D. ②③④

**【答案】C**

**【解析】**马铃薯原产于美洲，是在新航路开辟后由西班牙殖民者带到欧洲的，这种作物的交流本身也是文明链接的方式，所以②错误，排除所有含②的选项。故C项正确。

2. (2018年浙江卷4月) 古诗有云：“岂料山中有遗宝，磊落如磬万车炭(煤)……为君铸作百链刀，要斩长鲸为万段。”中国古代以煤作为燃料冶铁开始于

A. 战国      B. 西汉      C. 南北朝      D. 北宋

**【答案】B**

**【解析】**结合所学知识可知，在冶铁业中，西汉开始用煤，北宋时普遍使用煤，南宋末年我国开始用焦炭冶铁，明朝广泛流行。综上可知，B项符合史实和题意；A项早于汉代，CD项晚于汉代，不符合“开始于”这一条件，故排除ACD。



## 2017年高考真题

1. (2017年海南卷) 明清时期，在江南、华南的一些地区，经济作物的种植面积扩大，传统的粮食生产比重降低。这一现象表明，明清时期上述地区

- A. 农业生产出现衰退
- B. 人口变动导致粮食需求减少
- C. 普通农户收益锐减
- D. 农产品商品化趋势明显

**【答案】D**

**【解析】**材料信息“经济作物的种植面积扩大，传统的粮食生产比重降低”说明农业和市场联系加强，这体现了农产品商品化程度的提高，故D正确；“传统粮食生产比重降低”不能说明农业生产出现衰退，故A错误；明清时期，人口大大增长，粮食需求应该加大，故B错误；经济作物的广泛种植会带来农业收益的增加，故C错误。

2. (2017年天津卷) 1830年，英国正式启用第一条商业铁路，十年后公布火车时刻表。因为火车比马车快太多，所以各地时间的微小差异就造成了巨大的困扰。1880年，英国首次立法规定全国的时刻表都须以格林尼治时间为准，这就要求人们依据人工的时钟而非依据当地日升日落周期来过生活。这段材料重在说明

( )

- A. 工业革命带来社会生活的变化      B. 技术发展对人类生活有所制约  
C. 时间的精确成为日常生活的必要      D. 统一的时间有利于国家管理

**【答案】B**

**【解析】**本题是单类型单项选择题。据本题主题干的设问词“说明”，可知这是本质题。据本题时间信息可知准确时空是：1830年的英国。根据材料内容，英国启用商业铁路后，对全国时间的统一有了迫切需求，促使英国立法规定全国以格林尼治时间为标准，人们不能再和过去一样以日升日落周期为参照生活，而“必须依据法律规定的标准时间”，可见技术的发展对人类生活产生了一定程度的制约，B项正确；工业革命确实带来了社会生活的变化，但是材料重在说明技术发展对人类生活有所制约，排除A项；C项没有涉及“工业革命”“技术发展”等引发因素，C项不能全面概括材料信息，排除C项；材料重点在于统一时间有利于人们搭乘火车、发展商业、方便生活，不体现是否有利于“国家管理”，排除D项。故选B项。

3. (2017年全国I卷) 根据表格可知，在工业革命期间，英国

英国国民总收入变化表			
年份	约 1770	约 1790~1793	约 1830~1835
数额(百万英镑)	140	175	360
英国工人实际工资变化表(即按实际购买力计算的工资，1851年为100。)			
年份	1755	1797	1835
指数	42.74	42.48	78.69

- A. 工人实际收入与经济发展同步增长      B. 经济快速发展依赖于廉价的劳动力  
C. 工人生活条件愈发恶劣      D. 社会贫富差距进一步拉大

**【答案】D**

**【解析】**对比表中英国国民总收入和工人实际工资的数据变化，可知工人工资水平提高速度赶不上国民总收入增加速度，说明社会贫富差距进一步拉大，D项正确；依据表中的英国国民总收入和工人实际工资的数据变化分析，可以看出英国工人实际工资的增长赶不上国民总收入的增长，且1755—1797年甚至没有增长，所以工人实际收入与经济发展并不同步增长，排除A项；表中涉及的数据变化是在英国工业革命期间，工人使用机器生产，经济快速发展主要依赖于生产工具的改进，不是依赖于廉价的劳动力，排除B项；工人工资在1797—1835年有较大幅度增长，说明工人生活在一定时期内有明显改善，排除C项。故选D项。

4. (2017年天津卷) 对如图信息的解读，表述正确的是



从材料中提取两条或两条以上信息，拟定一个论题，并对所拟论题进行简要阐述。（要求：明确写出所拟论题，阐述须有史实依据。）

**【答案】论题：钟表功能的多样化受多种因素的影响**

阐释：钟表最早的功能是计时，随着科技的发展和社会生活的需要，钟表的功能逐渐多样化。从科技的发展对钟表功能多样化的影响来看，伽利略时代力学物理学取得的成就，到原子物理学和信息技术的发展均推动了钟表功能的多样化。从简单的计时到成为装饰品，一直到具有计时、信息处理、导航、监测等多种功能，反映了在科技影响下钟表功能的变化。钟表功能的变化还受到经济发展水平和社会生活方式的影响，钟表功能的多样化也是人类社会生活变化的结果。

**【解析】【答案参考】论题：科技的发展推动钟表功能的多样化。**

钟表最早的功能就是计时，随着科技的发展，钟表的功能逐渐多样化。从伽利略时代力学物理学取得的成就，到原子物理学和信息技术的发展均推动了钟表功能的多样。从简单的计时到成为装饰品，一直到具有计时、信息处理、导航、监测等多种功能，反映了在科技影响下钟表功能的变化。

首先根据材料中的“伽利略”、“原子物理技术”、“信息技术”，可以看到科技进步对钟表功能多样化的影响，然后联系有关史实来说明（如答案参考）。也可从“社会生活的需要推动钟表功能的多样化”的角度拟定论题并进行阐述，如材料反映的“1850年前后英国社会各个阶层都拥有了钟表”、“20世纪初原为女性装饰品的手表逐渐为男性所接受，在户外运动、驾驶汽车时都可佩戴”等信息说明钟表功能的多样化也是人类社会生活变化的结果。



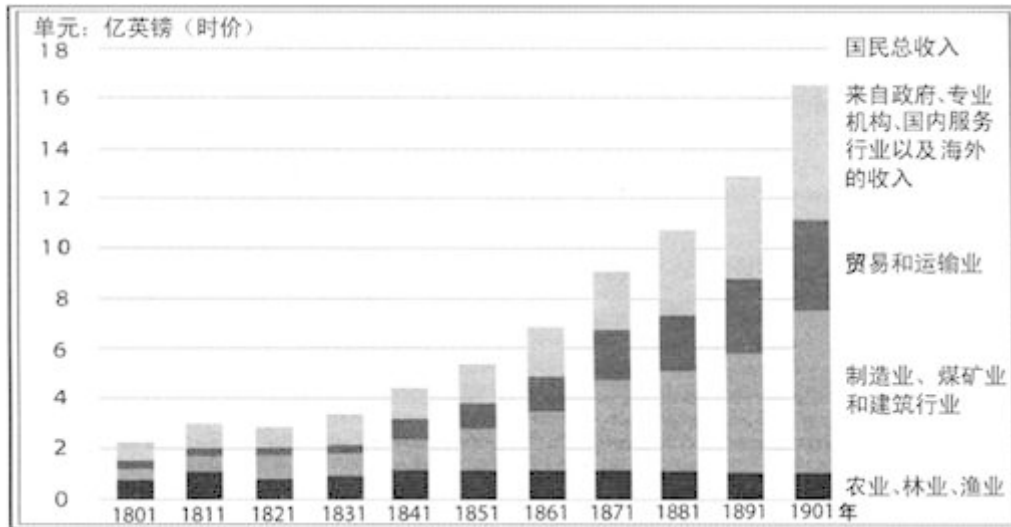
## 2016年高考真题

1. (2016年浙江卷10月)发现美洲以来，许多诞生于动荡之中的宝藏就在新大陆和传统的欧洲大陆之间穿梭。美洲品种多样的植物更是别具一格。由印第安人培植的，对缓解世界粮食供应紧张，促进人口快速增长起重要作用的作物是
- A. 马铃薯、玉米 B. 小麦、甘薯 C. 玉米、水稻 D. 烟草、可可

**【答案】A**

**【解析】**根据材料及所学知识可知，马铃薯和玉米是美洲作物，产量比较高，能够缓解世界粮食供应紧张状况，促进人口快速增长，故选A项；两河流域是最早培植小麦的地区，排除B项；水稻最早是由中国人培植的，排除C项；烟草和可可不能缓解世界粮食供应紧张状况及促进人口快速增长，排除D项。

2. (2016年江苏卷)下图是19世纪英国国民总收入来源示意图。对该图解读正确的是



- A. 19世纪英国农业、林业和渔业处于稳定增长阶段
- B. 第二产业收入的增长与其发展的阶段特征不相符
- C. 第三产业收入的增长并未体现工业化阶段的特征
- D. 经济收入与国民经济在结构的变化上呈现出一致

**【答案】D**

**【解析】**A项的表述与图表中19世纪的英国农业、林业、渔业在国民总收入中的比重大幅度下降的现象不符，故排除；图表中的信息一定程度上反映了19世纪的英国，工业化进程不断加快，致使第二产业收入在国民总收入中的比重不断上升的史实，故B项的表述错误；图表中的信息一定程度上反映了19世纪的英国，由于工业化的进程不断加快，相当多的劳动力因机器的采用被迫脱离工业生产，为第三产业的发展准备了条件的史实，故C项的表述错误；图表中的19世纪的英国，第一产业在国民总收入中的比重不断下降，第二、三产业在国民总收入中的比重不断上升的现象反映了19世纪的英国因工业化进程不断加快导致国民经济结构发生变化的史实。故D项的表述正确。

3. (2016年全国I卷) 下图为汉代画像砖中的农事图。此图可以用来说明当时



- A. 个体农户的生产劳作状态
- B. 精耕细作农业的不断发展
- C. 土地公有制下的集体劳作
- D. 大地主田庄上的生产情形

**【答案】D**

**【解析】**由题干中的“汉代画像砖”和画像砖中集体劳作的场景可知应选D；个体农户人数一般较少，A排除；精耕细作表现在生产技术和生产工具上，材料未体现，B排除；一般认为，汉代实行土地私有制，C排除。



4. (2016年浙江卷10月) 下图信息, 最能体现古代中国农业经济基本特点的是



- A. ①②                      B. ①③                      C. ②③                      D. ②④

【答案】C

【解析】本题据材料图片, 结合所学知识可知, 古代中国农业经济基本特点的是男耕女织、精耕细作、自给自足, 材料图片①体现了水力鼓风冶铁技术, 与农业无关, 故①排除。图片②体现了铁犁牛耕、精耕细作, 故②正确。图片③体现了男耕女织, 故③正确。图片④体现了教育讲学, 与农业无关, 故④排除。故①②组合错误, 故A排除。①③组合错误, 故B排除。②③组合正确, 故C正确。②④组合错误, 故D排除。



## 2015年高考真题

1. (2015年海南卷) 据统计, 1850年德国的专利授予数目为243项, 1870年为4132项, 1900年达到8784项。这反映出德国( )

- A. 海外市场的拓展主导着科技发明                      B. 在整体科技实力上遥遥领先于他国  
C. 政府在科技发展中扮演重要角色                      D. 从欧洲其他国家大量引进技术发明

【答案】C

【解析】本题主要考查灵活运用所学知识解决历史问题的能力。A项中海外市场主导着科技发明的说法本身错误; 材料只是叙述德国的科技专利, 未涉及其他国家, B项错误; 材料中从1850年到1870年再到1900年, 这个时间段涉及到德国统一, 统一后数目激增, 说明统一的政府对推动科技的发展起着重要的作用, C项正确; 引进技术发明不属于专利, D项错误。

2. (2015年浙江卷10月) 唐代出现了结构更为完备, 可根据实际需要, 改变牵引点高低, 控制耕土深浅的农业生产工具。它是

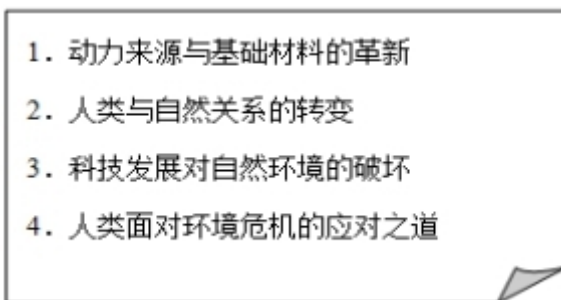
- A. 耦犁    B. 曲柄锄  
C. 曲辕犁    D. 翻车

【答案】C

【解析】根据所学知识可知, 唐代出现了结构更为完备的曲辕犁, 可根据实际需要, 改变牵引点的高低, 控制耕土的深浅, 故C项正确; 耦犁出现在东汉, 故A项排除; 曲柄锄出现在汉代, 故B项排除; 翻车是

灌溉工具，故 D 项排除。

3. (2015 年上海卷) 某同学为写历史小论文设计了下面提纲，据此判断这篇论文的主题是

- 
1. 动力来源与基础材料的革新
  2. 人类与自然关系的转变
  3. 科技发展对自然环境的破坏
  4. 人类面对环境危机的应对之道

- A. 能源革命与人类生活  
B. 物质文明与环境问题  
C. 科学进步与征服自然  
D. 工业革命与社会转型

**【答案】B**

**【解析】**论文四个提纲一方面反映了人类物质文明的进步，另一方面反映了随之而来的环境问题，以及人类的应对措施，这总体上反映出物质文明与环境问题的关系；能源革命对人类生活的影响，没有完整体现论文的主题，故 A 项不太准确；“征服自然”是人类对待自然的错误态度，故 C 项错误；工业革命只是人类物质文明进步的一部分，人类应对环境问题只是推动社会转型的因素之一，故 D 项不太准确。所以本题最佳答案为 B 项。

4. (2015 年海南卷) 20 世纪 20 年代，西欧出现一种新现象：刚刚从事基础科学研究的人可以从国家有关机构、学会或者工业公司得到研究资助。这一现象反映出

- A. 爱因斯坦相对论推动基础科学研究发展到新的阶段  
B. 民主体制的普遍建立为人的发展提供了良好的环境  
C. 人民认识到科学对技术和生产发展的巨大推动作用  
D. 已经形成了以知识经济为基础的新的经济增长模式

**【答案】C**

**【解析】**本题主要考查灵活运用所学知识解决历史问题的能力。爱因斯坦相对论在材料中没有体现，A 项错误；材料强调的是政府对科技的支持，与政体无关，B 项错误；第二次工业革命以来，科学与技术紧密结合，材料中从事基础科学研究的人可以得到研究资助反映出基础科学的重要性和人们的重视，C 项正确；知识经济为基础的新的经济增长模式出现于 20 世纪 90 年代，D 项时间不符。

5. (2015 年四川卷) 阅读材料，回答问题。

材料一



(1) 结合所学知识，以“交流与联系”为主题，解读材料一。

材料二 明朝中期，玉米、番薯等美洲粮食作物通过多种途径传入中国，逐渐得到推广。番薯“或可得数千斤，胜五谷几倍”，玉米“种一收千，其利甚大”，大大缓解了“民食问题”。人们能腾出更多的时间、劳力和土地等去发展经济作物，社会生活的许多方面也因此深受影响。粮食生产革命和人口爆炸互为因素，清代以来，人口压力不断增加，原本人烟稀少的广大山区因为“老林初开，包谷不糞不获”和番薯“备荒第一物”的特性。玉米、番薯等栽种遍野，“生齿日繁”。“棚民租山垦种，阡陌相连，将山土刨松，一遇淫霖，少随水落，倾注而下，溪河日淀月淤，不能容纳”。

——摘编自何炳棣、陈树平等的研究成果

(2) 据材料一、二，结合所学知识，概述美洲作物传入对明清中国的影响。

**【答案】**(1) 解读：新航路开辟；新旧世界（或新旧大陆）之间物种交流、疾病传播；物种交流密切了各地区联系；疾病传播给人类带来灾难。

(2) 影响：促进了农业、手工业和商业的发展。促进了人口增长和人口流动。改变了人们饮食结构及生活习惯。土地资源过度开发，破坏了自然环境。

**【解析】**(1) 根据题干要求，本问主要考查学生识别图片等历史素材，获取有效信息，并结合所学知识对历史事物进行正确认知和解读，旨在考查学生的知识迁移与灵活运用能力。本问需要学生具备一定的分析、认知能力，从而，本问在总体上具有一定难度。审题时候，注意抓住“交流与联系”主题，图示信息主要有三点：A.“新世界”和“旧世界”；B.双向交流的品种，既有动植物品种，也有疾病品种；

C.新航路开辟时代所特有的三桅杆帆船。即可知，本题是在考查资本主义世界市场形成与发展相关内容——15至16世纪新航路开辟的历史影响。结合图片，围绕以上主题，从积极和消极两个层面展开解读，把握住“新航路开辟加强了世界不同地区的交流，但也给落后地区带去了灾难”。重在强调积极影响，以体现题干材料立意。

6. (2015年江苏卷) 生产流水线是美国工业生产组织形式的一种创新。阅读下列材料：

材料一 亨利·福特的创新是用于生产的流水线。放上零件的人不去固定它，放上螺栓的人不用装上螺帽，装上螺帽的人不用去拧紧它。正因为流水线有如此的速度，福特才得以在以后的十年中每年的生产量成倍地增长，并使零售价降低了三分之二。到1914年，路上行驶的每两辆汽车中就有一辆是福特汽车。

——摘编自韦尔奇《美国创新史》

材料二 流水作业法的普遍采用推动了汽车时代的到来，从而引起了居住方面的革命……汽车的普及推动了一场社会革命，遏制了人口进一步向城市集中，从而使人口得以从饱和的城市向郊区扩散。

——李庆余《美国现代化道路》

材料三 1921年，喜剧大师卓别林兴冲冲地参观了海蓝公园的福特工厂，并与福特在总装流水线旁微笑合影。当时人们把福特看作一个创造奇迹的大师，但在15年后，他已经成为劳动者的公敌。在《摩登时代》里，卓别林毫不客气地讽刺了他的这位资本家朋友和残酷的流水线。这部默片时代的经典电影也是迄今为止对大机器生产的非人性批判得最深刻的一部。

——杜君立《历史的细节》

请回答：

- (1) 据材料一并结合所学知识，从工业发展的角度，指出福特“创新”产生的原因，简析其影响。
- (2) 据材料二并结合所学知识，分别说明工业革命以来汽车普及前后的人口移动趋势。
- (3) 据上述材料并结合所学知识，就“大机器生产的非人性”这一观点，从客观公正的立场写一篇小论文。（要求：观点明确；史论结合；逻辑严密；表述清晰；280字左右）

**【答案】**(1) 原因：大规模工业生产的需要。影响：劳动生产率提高，成本降低；产量增加，更多人使用汽车；有助于垄断组织产生。

(2) 普及前：由农村向城市移动（向煤铁生产地区移动）。普及后：由城市向郊区移动。

(3) 大机器生产的人性表现在：①可以达到质量更好更稳定的物品；提高了生活质量。②可以更快地获得这些物品，提高了生活质量。③只需要更少的人就可以达到同样的产出，所以更多的人解放出来去从事第三产业，从而间接地提高了人们的生活质量。大机器生产的非人性表现在：机械化的生产，让工人疲于应付，人的思维和动作走向机械，增加工人劳动强度，许多工人疲于应付产品的检测、过关等，容易引发神经病，是不人道的。

**【解析】**第(1)题主要考查工业革命。旨在考查学生在相应的材料中寻找有效信息并结合所学答题的能力。第一小问“原因”可从第二次工业期间生产和资本的高度集中这一角度思考作答；第二小问“影响”，由材料一中的信息“流水线有如此的速度……每年的生产量成倍地增长，并使零售价降低了三分之二”即可得出“劳动生产率提高，产量增加，成本降低”的结论。

第(2)题主要考查工业革命。旨在考查学生在相应的材料中寻找有效信息并结合所学答题的能力。由材料二中的信息“遏制了人口进一步向城市集中，从而使人口得以……向郊区扩散”即可得出“普及前，由农村向城市流动。普及后，由城市向郊区移动”的结论。

第(3)题结合所学，从大机器生产的人性、非人性或兼而有之等角度论述，注意史论结合，逻辑严密。如据材料一中“十年中每年的生产量成倍地增长，并使零售价降低了三分之二”，据材料二“推动了汽车时代的到来，从而引起了居住方面的革命”，据材料三“当时人们把福特看作一个创造奇迹的大师”等得出大机器生产的人性，如据材料三“15年后，他已经成为劳动者的公敌。在《摩登时代》里，卓别林毫不客气地讽刺了他的这位资本家朋友和残酷的流水线”得出大机器生产的非人性。

7. (2015年全国I卷) 阅读材料, 完成下列要求。

材料 有历史学者为说明近代以来科学技术在生产力发展中的作用, 引用了如下公式: 生产力=科学技术×(劳动力+劳动工具+劳动对象+生产管理) 这一公式表明, 科学技术有乘法效应, 它能放大生产力诸要素。

——摘编自齐世荣总主编《世界史》

运用世界近现代史的史实, 对上述公式进行探讨。(说明: 可以就科学技术与公式中一个或多个要素之间的关系进行论证; 也可以对公式进行修改、补充、否定或提出新公式, 并加以论述。要求观点明确、史论结合、史实准确)

**【答案】** 示例 1 就科学技术与公式中多个要素之间的关系进行论证。

表明观点: 科学技术在生产力发展中确实具有乘法效应, 能放大生产力诸要素(劳动力、劳动工具、劳动对象、生产管理等)。

论述观点: 第一次工业革命时期, 牛顿力学、热学等科技进步, 促使了蒸汽机的出现和机器的广泛使用(生产工具的改进); 进一步推动工厂制的产生和发展(生产管理水平的提高); 进而促使煤炭大量开采、交通运输等新兴行业的产生和迅速发展, 促使了“蒸汽时代”的来临。(劳动对象的扩展)。

可见, 在科学技术的推动下, 生产工具的改进速度加快, 生产管理更加科学高效, 劳动对象扩展迅速, 科学技术放大了生产力诸要素, 在生产力发展中确实具有乘法效应。

示例 2 就科学技术与公式中一个要素之间的关系进行论证。

表明观点: 科学技术与生产管理具有相互促进、相互推动的作用。

论述观点: 第一次工业革命时期, 随着机器生产的发展和推广, 工厂制应运而生。工厂制的产生和发展, 大大提高了生产管理, 进而促进了生产力的发展; 第二次工业革命时期, 科学技术的发展促使了电气时代的到来, 电气时代的到来为流水线生产创造了条件, 进一步促进了生产管理的科学化, 如流水线生产在汽车工业中的发明应用, 大大提高了汽车生产效率, 流水线生产进而促进生产力的发展。

综上, 科学技术的进步有助于促进生产管理的科学化和效率提高, 生产管理的科学化和效率提高又进一步推动生产力的发展和进步。

示例 3 就科学技术与公式中一个要素之间的关系进行论证。

表明观点: 科学技术有助于促进劳动对象的范围进一步扩大, 劳动对象的多样化又促一生产力的迅速发展。

论述观点: 第一次工业革命时期, 科学技术促进了蒸汽机的发明和广泛运用, 进而推动了煤矿开采、交通运输的发展, 劳动对象范围扩大。第二次工业革命时期, 电磁感应的发现、发电机、内燃机等科技发明, 促进了汽车工业、石油化学工业的产生发展, 劳动对象范围进一步扩大。第三次工业革命时期, 相对论、量子力学等科学突破, 为原子能时代、信息时代的到来创造了条件, 进而推动了航空航天、计算机新兴行业的产生发展, 劳动对象更加多样化。劳动对象更加多样化反过来又促进生产力在更多领域的深入发展。

**【解析】** 本题是开放性试题, 是今年新课标卷的一大亮点。解答时既可以就科学技术与公式中一个或多个要素之间的关系进行论证; 也可以对公式进行修改、补充、否定或提出新公式, 并加以论述。解答时可结

合三次科技革命来解答，比如可选择第一次工业革命中牛顿力学体系与瓦特改良蒸汽机或工厂制度的关系；第二次工业革命中电磁感应理论与电力的广泛应用（电动机）、生产流水线、公司等关系；第三次科技革命与“经营者革命”等关系。无论哪种必须观点明确、史论结合、史实准确。



## 2014年高考真题

1. (2014年广东卷) 欧美国率先实现了从有机物经济向无机物经济的转变，即生产活动中的动力来源从动植物向矿物的转变，直接推动这一转变的是

- A. 蒸汽机
- B. 计算机
- C. 牛顿经典力学
- D. 达尔文进化论

【答案】A

【解析】由“生产活动中的动力来源从动植物向矿物的转变”和“直接”可以看出是第一次工业革命的作用，因为蒸汽机的使用和推广使得煤和铁这些矿物质得以出现较大的需求，因而直接推动了上述转变，故选A。

BCD 三项都不符合这一题意，故被排除。

2. (2017年浙江卷4月) 20世纪上半期，有科学家认为：假如宇宙中所有的物质都消失了，时间和空间会与物质一同消失。支撑其观点的科学理论是

- A. 自由落体定律
- B. 天演论
- C. 加速度定律
- D. 相对论

【答案】D

【解析】自由落体定律是指物体自由下落的规律，与题干无关，故A错误。天演论主要观点是物竞天择、适者生存，与题干无关，故B错误。加速度定律是指物体在受到合外力的作用会产生加速度，加速度的方向和合外力的方向相同，加速度的大小与合外力的大小成正比，与物体的惯性质量成反比，与题干无关，故C错误。相对论的两个基本原理是相对性原理和光速不变原理，爱因斯坦认为时间和空间都是物质存在的形式，所以假如宇宙中所有的物质都消失了，时间和空间会与物质一同消失，故D正确。

3. (2014年海南卷) 1923~1929年，美国的企业普遍使用流水线等先进生产管理方式，提高了劳动生产率，同时在少数企业中工业可以领取养老金，享受带薪休假。这反映出当时在美国

- A. 工人分享的经济成果有限
- B. 科技未对经济发展发挥重大作用
- C. 供给与需求保持基本平衡
- D. 国家干预促进了经济发展

【答案】A

【解析】科技未对经济发展发挥重大作用说法错误，所以B不正确，材料无从体现供需关系问题，所以C错误，国家干预经济是在罗斯福新政时开创的，所以D不正确，依据材料“在少数企业中工业可以领取养老金，享受带薪休假”可以得出A项正确

4. (2014年江苏卷) 在英国现代化过程中，以圈地运动为发端的农业变革与工业革命存在着密切的关系。

阅读下列材料：

材料一 开阔的和公有的土地和公有草地分布得如此零散和混杂，以致不能方便地和有效地加以利用；再者，这些土地……采取圈围就能获得很大的改良。同时，如将上述（土地）……加以分开、圈围，并在有关人员中按其各自的产业，对公有地的权利和其他利益进行分配，那就会对上述有关人员均有好处。但是这一点如无议会的帮助和授权就不可能做到。

——辜燮高等选译《一六八九——一八一五年的英国》

材料二 地主们土地上的矿产和农产品需要运到城市和工业区去，他们所需要的农业设备和工业品也需要运进来，因此对修建公路、运河和铁路表现出了很大的兴趣。……18世纪，英国的圈地运动促进了乡村银行的发展，地主和农民手中的游资通过银行的渠道集中起来，为蓬勃发展的棉纺织业和金属加工业提供了资本。

——王章辉《工业化历程》

材料三 正是由于一系列纺织机器的发明，使用旧式纺车和织机的手工业者遭到了排挤，他们破产之后，便成为雇佣工人。……产生了一批租用五十英亩、一百英亩、二百英亩或者更多的土地的大佃农，他们建立起大农场……（那些小自耕农）或者流入城市出卖劳动力，或者成为农场主的雇工……随着冶铁工业和机器制造业的发展，农业机械日益增多。

——许永璋《世界近代工业革命》

请回答：

- （1）据材料一，归纳“圈地者”圈地的理由，并指出影响圈地运动扩大的关键因素。
- （2）据材料二，结合所学知识，分析圈地运动对工业革命的作用。
- （3）据材料三，概括工业革命推动英国农业变革的具体表现。
- （4）综观英国现代化的基本过程，工业革命与农业变革之间的关系纵横交错。综合上述材料，从纵横两方面说明它们的关系。

**【答案】**（1）理由：圈地有利于有效利用土地；进行土地改良；土地权益的再分配。

因素：议会立法。

- （2）作用：为工业革命提供了原料、资本、市场、劳动力等条件。
- （3）推动：促进英国农村封建生产关系的进一步瓦解；有利于资本主义大农场的发展；推动农业机械化。
- （4）关系：横向关系：工业革命与农业变革彼此促进。

纵向关系：在不同时期，彼此关系的体现方式不同，但贯穿了现代化基本进程。

**【解析】** 本题考查学生解读分析史料并综合解决问题的能力。

第（1）问中第一小问从材料一中“采取圈围就能获得很大的改良，对公有地的权利和其他利益进行分配”的信息从圈地运动是暴力使农民离开土地，从而为工业革命提供了劳动力和国内市场的角度概括答案；第二小问结合所学从英国议会立法的视角去分析原因。

第（2）问从材料二中“需要的农业设备和工业品”“修建公路、运河和铁路”“促进乡村银行的发展，为棉纺织业和金属加工业提供了资本”等信息并结合所学从原料、资本、市场以及劳动力等角度综合分析作答。

第(3)问对应材料三,据材料进行概括,材料三中“使用旧式纺车和织机的手工业者遭到了排挤,他们破产之后,便成为雇佣工人,产生了一批大农场,农业机械日益增多”等信息从生产关系变革以及资本主义发展等视角概括答案。

第(4)文属于开放型试题,回答时依据所给材料结合所学围绕“工业革命与农业变革之间的关系纵横交错”的信息,还要注意“横向”是指不同行业的关系;“纵向”是指不同时期的联系及主线,依据这两个方面分别阐述作答即可。

5. (2014年山东卷) 奴隶贸易对英国和世界经济发展都产生了十分重要的影响。阅读材料并结合所学知识,回答问题。

史实

1501年,第一批非洲奴隶运抵西印度群岛。

1562~1563年,英国人约翰·霍金斯第一次贩奴至美洲。

1631年,英国在西非建立了第一个贩奴堡垒,英国政府贩奴活动正式开始。

1670~1776年,英国贩卖到美洲大陆的奴隶总数超过其他国家贩奴数量的总和。

1807年,英国议会通过了《废除奴隶贸易法案》。

1833年,英帝国废除了奴隶制。

——据杨瑛《英国奴隶贸易的兴衰》等

史论

就欧洲的工业化历史而言,“世界视野”对于欧洲的意义远不如“欧洲视野”对于世界的意义大。对于核心地区的经济增长来说,亚洲、非洲和南美洲等边缘地区的作用微不足道。

——据帕特里克·奥布莱恩《欧洲经济发展》等

(1) 指出英国在世界奴隶贸易中逐渐占据主导地位的国际、国内因素。

(2) 说明奴隶贸易对世界经济发展产生的影响。

(3) 分析指出英国废除奴隶贸易的经济原因。

(4) 对帕特里克·奥布莱恩的观点加以评述。

**【答案】**(1) 国际条件: 西班牙、葡萄牙等老牌殖民国家衰落, 英国在海外殖民争夺中逐渐取得优势地位; 国内条件: 英国资本主义制度确立和经济迅速发展。

(2) 影响: 为欧洲资本主义发展提供了资本原始积累, 加剧了世界经济发展的不平衡性; 客观上推动了世界各地间的经济联系和交流, 资本主义世界市场进一步扩大。

(3) 原因: 随着工业革命的进行, 英国需要更广阔的商品销售市场和原料产地, 商品输出成为英国对外侵略的主要目的和手段。

(4) 帕特里克·奥布莱恩站在欧洲的立场上, 过分强调欧洲在世界历史发展中的中心地位, 无视亚非拉等地区对世界发展做出的贡献, 其观点具有片面性。

近代欧洲制度的创新、经济发展和思想进步对世界历史发展具有重要影响, 但奴隶贸易等史实表明, 欧洲的“中心”地位及其对世界的贡献, 在很大程度上是建立在对世界其他国家和地区的剥削和血腥掠夺基础之上



的。

自新航路开辟以来，世界逐渐成为一个不可分割的整体。各地区、各民族在政治、经济、文化等领域的联系和交流不断加强，共同促进了人类文明的发展与进步。

**【解析】**(1) 本题主要考查的英国经济势力增强的原因。从材料“英国政府贩奴活动正式开始”并结合所学知识，国际上老牌殖民国家逐渐衰落，英国逐步取得殖民优势，拥有广阔殖民地；新航路开辟后，英国位置优越，处于大西洋航运的交通线上，便于其开展海外奴隶贸易。国内主要从政治经济两个角度回答。

(2) 本题主要考查学生对材料的理解能力。本题要从正反两个角度来分析奴隶贸易对世界经济发展产生的影响，并且要注意奴隶贸易对于欧美国家资本主义经济发展的影响、亚非拉地区影响、资本主义世界市场影响等方面来分析。

(3) 本题主要考查的是学生对史料信息准确获取能力。材料“1807年，英国议会通过了《废除奴隶贸易法案》”“1833年，英帝国废除了奴隶制”中“1807年”“1833年”两个时间点需要注意，19世纪初英国处于工业革命过程之中，英国此时对外经济侵略的主要方式是商品输出，掠夺商品倾销市场和原料产地。

(4) 本题主要考查的是学生论证和探讨问题的能力。从材料中可以看出帕特里克·奥布莱恩的观点是站在欧洲是世界中心这一立场上的，否定世界其它地区对世界发展所起到的作用。小论文应该是批判这一观点，应该持有全球史观，肯定世界发展是世界各地区共同作用的结果。

## 6. (2014年上海卷) 文明的代价

1962年，科学家蕾切尔·卡森在《寂静的春天》里预言了一个没有鸟鸣的世界，引发了当代环境保护运动。试以“人与环境”为主题，叙述人类在工业进程中所付出的代价。

**【答案】** 史实：水平1：能围绕与问题相关性较强的核心知识进行回答（9分）

工业革命在英国发生后，煤炭作为生产和生活的主要燃料被大规模使用，造成了对空气的污染；随着城市化进程的加快，人口大量集中于城市，环境污染问题显现。第二次工业革命以后，随着电力的广泛使用和汽车的发明，对于煤炭和石油等资源的消耗加剧，化学工业的产生也使环境污染问题进一步加深。第三次科技革命以来，能源枯竭与生态恶化问题日益突出。核能的利用是一把双刃剑，在缓解能源危机的同时，也会给自然环境造成难以挽回的破坏。《京都议定书》的签订表明气候变迁已经成为人类共同面对的严峻问题。总之，随着工业化在世界范围内的推进和经济全球化的加深，环境问题已经从区域问题演变为全球性问题，威胁到了人类的生存。

水平2：仅运用与问题缺乏关联度的边缘知识进行回答（按与题意相符程度赋分）

组织：

水平1：叙述体现时序感（2分）

水平2：叙述时序跳跃（1分）

水平3：叙述缺乏时序感（0分）

**【解析】**

在农业文明时代，人类基本上能与自然和谐相处。人类进入工业文明后，对抗自然地能力增强。

工业革命在英国发生后，煤炭作为生产和生活的主要燃料被大规模使用，造成了对空气的污染；随着城市

化进程的加快，人口大量集中于城市，环境污染问题显现。

第二次工业革命以后，随着电力的广泛使用和汽车的发明，对于煤炭和石油等资源的消耗加剧，由于煤炭和石油成分复杂，排放出大量气体，当超过自然地净化能力，便造成污染；化学工业的产生也使环境污染问题进一步加深。

第三次科技革命以来，能源枯竭与生态恶化问题日益突出。核能的利用是一把双刃剑，在缓解能源危机的同时，也会给自然环境造成难以挽回的破坏。因此，可持续发展，人与自然的和谐成了人类共识，《京都议定书》的签订表明气候变迁已经成为人类共同面对的严峻问题。工业化、城市化带来的大气污染、水污染、固体废弃物污染，威胁着人类的生存环境。

总之，随着工业化在世界范围内的推进和经济全球化的加深，环境问题已经从区域问题演变为全球性问题，威胁到了人类的生存。

#### 7. (2014年海南卷) 根据材料并结合所学知识回答问题

材料一 19世纪初，德意志仍然是一个政治分裂、经济落后的封建农奴制国家。1807年，德意志邦国之一的普鲁士进行了农奴制改革，率先踏上资本主义发展道路，其他一些邦也相继进行了类似改革。1834年，以普鲁士为首的德意志关税同盟宣告成立，促进了统一市场的形成，德意志的工业化进程由此开始，并对政治统一提出了迫切要求。

——摘编自李工真《德意志道路：现代化进程研究》

材料二 1870年以后，德国工业化进程加快，通过普法战争，德国从法国夺取了矿产资源丰富的阿尔萨斯-洛林地区，并获得50亿法郎的战争赔款，统一后的德国继续扩大军费支出，大大刺激了与军火生产有关的重工业。军事上的需要使铁路和海运获得迅速发展，进而带动了钢铁、机器制造等一系列重工业部门的发展。由于德国工业化起步较晚，这使得它能够集中力量投资于新兴产业，因此电气、化工等现代化工业部门遥遥领先于其他国家。19世纪后半期，德国在学习外国先进科技的基础上，完成了科学研究向应用转变的重大突破，新的科学发现很快就能应用于生产、转化为生产力。

——摘编自孙炳辉、郑寅达《德国史纲》

(1) 根据材料一并结合所学知识，指出与英国相比，德国工业化启动的特点。

(2) 根据材料一、二并结合所学知识，简析1870年后德国工业化迅速发展的原因。

**【答案】**(1) 自上而下推行改革为工业化创造重要条件；主要依靠内部进行资本积累；缺乏有利的政治条件。

(2) 原因：德国统一及君主立宪制的确立，为工业发展提供了统一市场和制度保障；通过普法战争获得煤矿区及巨额赔款，为工业发展提供了资源和资金；交通运输与军事工业推动重工业的发展；科学技术成果直接应用于生产。

**【解析】**(1) 依据“1807年，德意志邦国之一的普鲁士进行了农奴制改革，率先踏上资本主义发展道路，其他一些邦也相继进行了类似改革”可以得出自上而下推行改革为工业化创造重要条件；此时的德国四分五裂所以工业化缺乏稳定的政治环境，同时没有大规模的对外侵略，缺乏资本的原始积累，因此资金主要来自于内部的积累。

(2) 结合所学可知 1870 年左右德国通过三次王朝战争实现了国家的统一，走上了资本主义发展的道路；依据“德国从法国夺取了矿产资源丰富的阿尔萨斯—洛林地区，并获得 50 亿法郎的战争赔款”可以得出通过普法战争获得煤铁矿区及巨额赔款，为工业发展提供了资源和资金；依据“军事上的需要使铁路和海运获得迅速发展，进而带动了钢铁、机器制造等一系列重工业部门的发展”可以得出交通运输与军事工业推动重工业的发展；依据“德国在学习外国先进科技的基础上，完成了科学研究向应用转变的重大突破，新的科学发现很快就能应用于生产、转化为生产力”可以得出充分利用了科技革命的成果。

## 考点 02 商业贸易与日常生活 村落、城镇与居住环境



# 2023年高考真题

1. (2023 年全国甲卷) 民众日常生活能够反映时代特点。下列情景中，可能出现于北宋都城市民日常生活的是 ( )

- A. 早晨在家喝红薯玉米粥
- B. 晚上去夜市听人说书
- C. 到指定市场用银元购物
- D. 出门时穿件黄色棉袍

**【答案】B**

**【解析】**根据所学知识可知，中唐以后，随着坊市制和宵禁制度的松弛，夜市，这一经济形态才在夹缝中逐渐萌芽。到了北宋时期，坊市制终于成为过去，这极大地促进了经济的发展。政治的稳定，经济的繁荣，造就了夜市的产生。历史上夜市的真正开放并形成规模是在宋代。据《宋代商业史研究》载：乾德三年（公元 965 年）四月十三，太祖赵匡胤下令开封府：“京城夜市，至三鼓已来，不得禁止。”所以可能出现于北宋都城市民日常生活中的是晚上去夜市听人说书，B 项正确；玉米在 1531 年最早传到广西，红薯进入中国约为 1593 年，而北宋的存续时间是 960 年—1127 年，排除 A 项；中国历史上大量使用银子做货币开始于明朝中期，此时欧洲殖民者携带这海量白银从美洲来到中国沿海，这些银子的涌入才让中国市场上白银的储量达到了可以支持日常交易的地步，排除 C 项；宋朝仁宗之时规定不准一般人身着黄色为底色和配图花样，排除 D 项。故选 B 项。

2. (2023 年浙江卷 6 月) 庄票是由钱庄签发的有若干金额的票据，可以代替现金。1846 年，洋商在与华商的交易中首次接受上海钱庄的庄票。19 世纪 50 年代之后，庄票已经成为外商普遍接受的结算工具。1869 年，汇丰银行首次接受钱庄以庄票作为抵押，向其提供贷款。据此可知 ( )

- A. 现金快速退出了中外贸易结算
- B. 庄票在中外商业往来中获得认同
- C. 钱庄资本主要来自于外国银行
- D. 帝国主义对华经济侵略日益加深

**【答案】B**

【解析】本题是单类型单项选择题。据本题主题干设问词，可知这是推断题。据本题时间信息可知准确时空是 1846 年至 1869 年（中国）。据材料可知，在近代的中外经济交往中，外商最终接受了庄票，B 项正确；外商接受了庄票不代表现金退出了中外结算，同时现金快速退出了中外贸易结算也不符合史实，排除 A 项；据材料无法得出钱庄资本主要来自于外国银行，材料主要反映了近代外商最终接受了庄票，排除 C 项；D 项表述符合题干时空，但是据材料信息无法看出列强对中国经济侵略加深，排除 D 项。故选 B 项。

3. (2023 年全国乙卷) 19 世纪 70 年代之前，伦敦市场上中国茶叶价格的日常波动很难影响到中国国内的茶叶出口价格。随着中英间电讯联系的建立，中国茶叶的出口价格随着伦敦市场的标价而变动，销售数量也随着世界经济的变动而波动，这（ ）

- A. 导致中国茶叶出口衰落
- B. 改变了中国对外贸易的入超状况
- C. 促成了世界经济一体化
- D. 削弱了中国茶叶的国际市场地位

【答案】D

【解析】本题是单类型单项选择题。据本题主题干的设问词，可知这是影响题。据本题时间信息可知准确时空是：近代（中国）。据材料可知，由于中国产茶，中国出口的茶叶价格高低影响伦敦市场茶叶价格高低，19 世纪 70 年代后，随着电讯联系的建立，中国茶叶的价格和销量深受国际市场的影响，特别是印度和日本茶叶进入市场，使中国茶叶面对的竞争对手增多，客观上削弱了中国茶叶的国际市场地位，D 项正确；材料强调的是中国茶叶出口的价格和销售数量受到国际市场的影响，表明中国被迫卷入资本主义世界体系中，中国茶叶出口的数值在材料中无法得知，排除 A 项；材料反映了中国茶叶出口的销量“随着世界经济的变动而波动”，但没有涉及其他出口商品的数量，也没有涉及中国进口商品的总数量，不能反映中国对外贸易入超状况是否改变，且据所学知识可知，19 世纪 70 年代前后，中国对外贸易入超状况并非改变，排除 B 项；世界经济一体化是指世界各国和地区之间的经济活动相互依存、相互关联，形成世界范围内的有机整体，此时期不是促成世界经济一体化，排除 C 项。故选 D 项。

4. (2023 年全国乙卷) 1960~1970 年，发展中国家对发达资本主义国家的出口额从 197.8 亿美元增加到 397.5 亿美元，从发达资本主义国家的进口额也从 218 亿美元增加到 413.6 亿美元。在国际贸易中，发展中国家出口额比重从 21.4% 下降至 17.6%。据此可知，该时期（ ）

- A. 世界经济格局发生根本性转变
- B. 规范化的世界贸易体系建立
- C. 南北国家之间的经济联系削弱
- D. 发展中国家的经济地位下降

【答案】D

【解析】本题是单类型单项选择题。据本题主题干的设问词，可知这是推断题。根据材料“在国际贸易中，发展中国家出口额比重从 21.4% 下降至 17.6%。”可知发展中国家对发达资本主义国家的出口额和进口额一直在增多，但在国际贸易中，发展中国家出口额比重却在下降，由此可知发达国家的出口额不断增多，在世界出口额比重中占据较高比例，发达国家增加对外出口会挤压发展中国家本民族工业的发展空间，故发展中国家的经济地位下降，D 项正确；此时世界经济格局并未发生根本性逆转，仍然是发达国家主导，排除 A 项；1995 年世界贸易组织的建立，推动了规范化的世界贸易体系的建立，排除 B 项；根据材料“1960~1970 年，发展中国家对发达资本主义国家的出口额从 197.8 亿美元增加到 397.5 亿美元，从发达资本主义国家的

进口额也从 218 亿美元增加到 413.6 亿美元。”可知南北国家之间的经济联系不断增强，排除 C 项。故选 D 项。

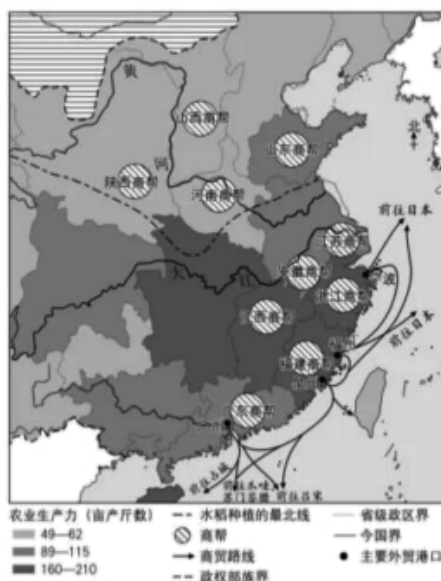
5. (2023 年新课标卷) 我国东南沿海某港口，在 15 世纪只是一个“结茅而居”的渔村，到 16 世纪，已成为“繁华世界”，“宝货塞途，家家歌舞赛神，钟鼓管弦，连飙响答”，时称“小苏杭”。能够说明这一现象的是 ( )

- A. 朝贡贸易繁荣
- B. 农业生产技术进步
- C. 白银大量流入
- D. 海上丝绸之路兴起

【答案】C

【解析】本题是单类型单项选择题。据本题主题干的设问词，可知这是正向题。据本题时间信息可知准确时空是：15-16 世纪（中国）。根据材料可知 16 世纪，我国东南沿海某港口贸易增多，商品经济发展，城市繁荣，结合所学，这一时期，新航路开辟，世界贸易增多，中国手工业产品迅速发展，在对外贸易中占优势，因此白银大量流入中国，促进了东南沿海港口城市的兴起，C 项正确；明朝在朝贡贸易中采取“免征税”“给予赏赐”等优待政策，“厚往薄来”，加重了政府的财政负担，对东南沿海港口城市兴起作用有限，排除 A 项；材料强调明朝的对外贸易，与农业生产技术进步无关，排除 B 项；海上丝绸之路是古代中国与外国交通贸易和文化交往的海上通道，形成于秦汉，兴于唐宋，衰落于明清时期的海禁、闭关锁国政策，排除 D 项。故选 C 项。

6. (2023 年北京卷) 如图是明代经贸示意图（局部）。对图中信息理解正确的是 ( )



- ①商帮都分布于南方稻作农业区
  - ②长江中下游农业生产水平总体较高
  - ③海禁阻断了明代海外贸易路线
  - ④主要外贸港口所在省份都有商帮
- A. ①③                      B. ②④                      C. ①④                      D. ②③

【答案】B

【解析】本题是组合选择题。时空是：明朝（中国）。根据材料“明代经贸示意图（局部）”结合所学知识可知，商帮在南方和北方都有分布，南方居多，①与题意不符；长江中下游农业生产力（亩产斤数）较其他地区高，说明此地农业生产水平总体较高，②符合题意；根据材料信息，此时的海外贸易线路较多，说明

明代海外贸易没有阻断，③不符合题意；根据示意图信息，广州、泉州、福州、宁波等外贸港口所在省份都有商帮，④符合题意。综上所述，②④符合题意，B项正确；其他选项与题意不符，排除A项、C项和D项。故选B项。

7. (2023年山东卷) 下表为1871~1921年中国进口的棉布、棉纱、钢铁、米等四类货物在进口总值中的占比(%)情况。其中甲是( )

比重年份 \ 货物	甲	乙	丙	丁
1871~1873	2.8	30.2	0.9	0.9
1881~1883	5.8	22.8	0.3	1.1
1891~1893	14.6	20.5	5.9	1.8
1901~1903	18.6	19.7	4.2	1.7
1909~1911	12.8	16.7	4.8	3.0
1919~1921	9.6	18.4	2.4	5.0

- A. 钢铁                      B. 棉纱                      C. 米                      D. 棉布

【答案】B

【解析】本题是单类型单项选择题。据设问词可知是推断题。时空是1871~1921年(中国)。据表格信息可知甲从1871~1873的2.8，逐渐上升到18.6，之后逐渐下降，结合所学知识可知19世纪70年代，民族资本主义的产生，对棉纱的需求量增多，同时受甲午中日战争和一战的影响，民族资本主义发展迅速，对棉纱的需求量更多，但是一战后，帝国主义列强卷土重来后，民族资本主义企业受到打击，棉纱的需求量减少，所以甲应是棉纱，B项正确；由于近代中国，仍是传统的小农经济，对钢铁的需求量整体占比较低，但是要比大米占比高，而中国作为传统的种植大国，本身米产量较高，需求量应是最少的，所以丙是钢铁，丁是米，与设问不符，排除AC项；近代中国国门被打开，西方疯狂地向中国倾销商品，所以棉布的进口量应是最高，乙是棉布，排除D项。故选B项。

8. (2023年浙江卷1月) 1896年，盛宣怀上奏：“银行昉(开始)于泰西……各国通商以来，华人不知务此，英、法、德、俄、日本之银行乃推行来华，攘我大利。近年中外士大夫灼见本末，亦多建开设银行之议”“合天下之商力，以办天下之银行，但使华行多获一分之利，即从洋行收回一分之权”。据此可知，盛宣怀建议开设银行的主要目的是( )

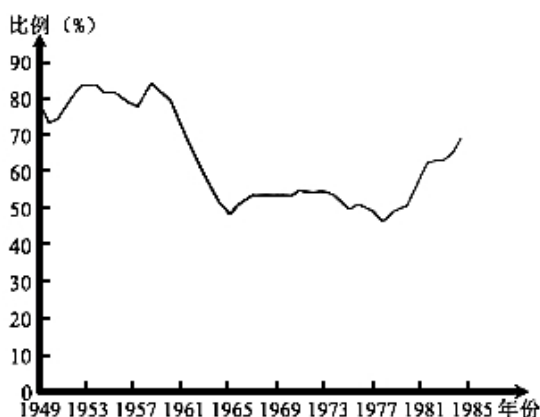
- A. 实现对外贸易垄断                      B. 与外商争夺利权  
C. 抵制洋货、提倡国货                      D. 刺激民族资本主义的产生

【答案】B

【解析】根据材料“合天下之商力，以办天下之银行，但使华行多获一分之利，即从洋行收回一分之权”可知，盛宣怀打算创办银行，抵制洋行的经济侵略，与外商争夺利权，B项正确；材料未涉及垄断对外贸易，排除

A 项；材料未涉及抵制洋货，排除 C 项；民族工业在洋务运动后期就产生了，排除 D 项。故选 B 项。

9. (2023 年山东卷) 下图为 1949~1985 财政年度美国联邦政府研发投资中用于国防研究的占比 (%) 情况影响其变化的主要因素是 ( )



- A. 国内经济的发展状况
- B. 对外战争的频度烈度
- C. 国际科技竞争的压力
- D. 政府外交战略的调整

【答案】A

【解析】本题是单类型单项选择题。据本题主题干设问词，可知这是正向题。据本题时间信息可以得出准确时空是 1949~1985 (美国)。据图可知，美国政府研发投资中用于国防研究的占比在 1949 至 1985 年有一定波动，20 世纪 60 年代以前占比较高，1965 至 1977 年基本处于下降状态，77 年以后又处在上升趋势，据所学可知，美国在 20 世纪 70 年代前后经济遇到严重困难，因此政府研发投资用于国防研究比重下降，A 项正确；据所学可知，在题干涉及时间内，美国对外战争基本没有明显变化，而且 60、70 年代美国在发动越南战争，此时对外战争较之之前频度烈度有所增加，而题干中 70 年代美国国防研究占比下降，不符逻辑，排除 B 项；在题干涉及时间段内，美国并非一直都面临国际科技竞争的压力，主要是在 70 年代以来，而题干涉及时间还保 70 年代以前，排除 C 项；美国政府外交战略的调整与题干中美国国防研究占比变化没有必然的关联性，排除 D 项，故选 A 项。

10. (2023 年湖北卷) 中国加入世界贸易组织经历了 15 年漫长历程。1986 年，中国正式提出“复关”申请，此后数年谈判没有实质性进展。1992 年 10 月以后，前期谈判的核心问题才迎刃而解。出现这种变化的主要原因是 ( )

- A. 世界两极格局的瓦解
- B. 中国特色社会主义理论体系初步形成
- C. 经济全球化快速发展
- D. 中国确立社会主义市场经济体制目标

【答案】D

【解析】本题是单类型单项选择题。据本题主题干的设问词，可知这是原因题。据本题时间信息可知准确时空是：现代 (中国)。根据材料“1992 年 10 月以后，前期谈判的核心问题才迎刃而解。”并结合所学可知，1987 年 10 月 22 日关贸总协定中国工作组第 1 次会议在日内瓦举行，确定工作日程，到 1992 年 10 月，这个阶段主要是审查我国对外贸易制度，由缔约方判断我国的对外贸易制度是否符合关贸总协定的基本要求。虽然我国经济体制改革始终是朝着市场化方向发展的，但直到 1991 年，市场经济的概念在国内还是一个禁

区。直到 1992 年初邓小平同志提出，在社会主义制度下也可以搞市场经济，市场经济不等于资本主义；10 月党的十四大提出建立社会主义市场经济体制的目标，谈判第一阶段的核心问题才迎刃而解，D 项正确；1991 年随着苏联的解体，两极格局走向瓦解，排除 A 项；1982 年党的十二大提出了“建设有中国特色的社会主义”的科学命题，并初步形成了中国特色社会主义理论体系的主要内容，排除 B 项；中国“复关”谈判的核心问题的解决并非由于经济全球化的快速发展，经济全球化的浪潮一直在进行，排除 C 项。故选 D 项。

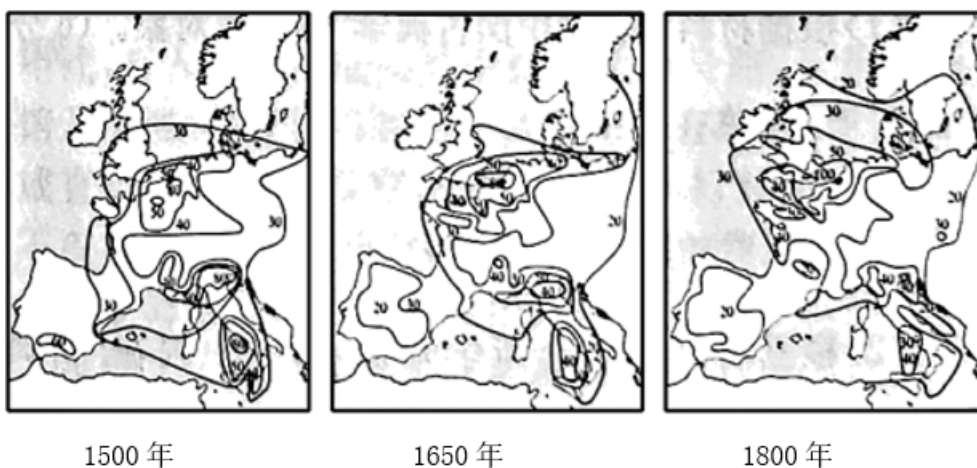
11. (2023 年海南卷) 原产于美洲的可可豆被西班牙殖民者误称为巧克力豆，因物以稀为贵，在中美洲部分地区一度被当作货币使用。16 世纪后传播到欧洲。随着可可树被广泛引种，以及可可豆加工技术和食用方法的不断改进，19 世纪后半叶，巧克力成为大众化商品。引起这一变化的根本原因是 ( )

- A. 新航路开辟促进物种交流
- B. 欧洲的商业格局发生变化
- C. 资本主义世界经济的驱动
- D. 世界殖民体系的初步形成

**【答案】C**

**【解析】**本题是单类型单项选择题。据本题主题干的设问词，可知这是原因题。据本题时间信息可知准确时空是：16—19 世纪（欧洲）。根据材料“16 世纪后传播到欧洲。随着可可树被广泛引种，以及可可豆加工技术和食用方法的不断改进，19 世纪后半叶，巧克力成为大众化商品。”可知，随着新航路的开辟，可可树被广泛引种，而后在工业革命的推动下，世界市场逐渐形成，可可豆由奢侈品逐渐成为大众化商品，综上所述可知，这一变化是在资本主义世界经济的驱动下的结果，C 项正确；新航路开辟促进物种交流是一方面原因，但非根本原因，排除 A 项；新航路开辟后，世界贸易中心由地中海沿岸转移到大西洋沿岸，欧洲商业格局发生变化，与材料信息中引起的变化关系不大，排除 B 项；19 世纪末 20 世纪初，世界殖民体系的初步形成，与材料中时间不符，排除 D 项。故选 C 项。

12. (2023 年海南卷) 下图最大程度地体现了 ( )



(注：图中数字代表欧洲城市潜能高低)

- A. 生产技术的辐射
- B. 经济中心的转移
- C. 贸易格局的变化
- D. 工业城市的发展

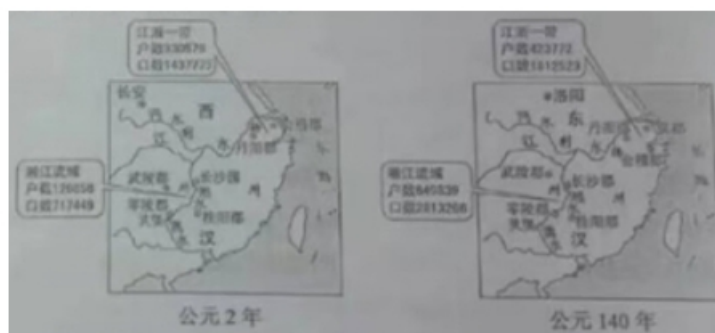
**【答案】C**

**【解析】**本题是单类型单项选择题。据本题主题干的设问词，可知这是本质题。据本题时间信息可知准确



时空是：16——19 世纪（欧洲）。根据材料中地图信息可知，1500 年前后，欧洲贸易中心在地中海沿岸，随着新航路的开辟，世界商品流动的增加，贸易中心逐渐向大西洋沿岸的英国、法国、荷兰、西班牙、葡萄牙等国家转移，因此，材料中体现的是欧洲贸易格局的变化，C 项正确；工业革命前，欧洲生产技术未出现大的发展与变化，排除 A 项；经济中心的转移在材料中没有体现，排除 B 项；工业革命开始后，工业城市才逐步出现，排除 D 项。故选 C 项。

13. (2023 年全国甲卷) 在中国古代，自然环境、社会生产状况、国家政策、灾害以及战乱，都会对人口的区域布局产生影响。下图显示了两汉间江浙一带与湘江流域人口增长的巨大差异。能够解释这种差异的主要因素是 ( )



- A. 土地兼并程度
- B. 经济发展水平
- C. 人口自然增长
- D. 移民流入数量

【答案】B

【解析】据本题图 3 材料信息可知，与公元 2 年相比，江浙一带与湘江流域的户数和口数均出现增长，并结合所学知识可知，西汉末年至东汉初年，北方战乱频繁，大量人口南迁，促进了南方经济的发展，推动了人口的增长，所以能够解释材料差异的主要因素应为东汉时期南方地区经济发展水平提高，B 项正确；材料中没有土地兼并造成南方人口数量增加的相关论述，排除 A 项；发展到公元 140 年，湘江流域的户数、口数相较于公元 2 年出现大幅增长，这是人口的非自然增长现象，排除 C 项；材料图片中人口数量的变化并非推行移民政策的结果，排除 D 项。故选 B 项。

14. (2023 年浙江卷 1 月) 1865 年，上海大英自来火房制成煤气灯。19 世纪 80 年代，有人记云：“地火皆由铁管通至马路，于是各戏馆及酒楼、茶肆俱可接点。其灯每盏有玻罩，或倒悬，或直竖，或向壁上横穿，各随其便。人行其间，真如入不夜城也。”这一时期“煤气灯”在上海的使用 ( )

- ①与上海是通商口岸密切相关
- ②反映了上海对外贸易的繁盛
- ③为居民创造了新的城市夜生活方式
- ④开启了近代上海城市化进程

- A. ①③
- B. ①④
- C. ②③
- D. ②④

【答案】A

【解析】根据“1865 年，上海大英自来火房制成煤气灯”，结合所学可知，与上海是通商口岸密切相关，①正确；根据“于是各戏馆及酒楼、茶肆俱可接点……人行其间，真如入不夜城也”可知，“煤气灯”在上海的使用，为居民创造了新的城市夜生活方式，③正确；①③正确，A 项正确；④错在“开启了”，排除④，排除 BD 项；材料无法体现上海对外贸易的繁盛，排除②，排除 C 项。故选 A 项。

15. (2023 年海南卷) 阅读材料, 完成下列要求。

材料 海上格局指国家力量在海上的对比态势。16—17 世纪, 葡萄牙、西班牙、荷兰先后成为海上霸主。17 世纪中后期, 在与英国海战失利后, 荷兰霸主地位被取代。18 世纪至 19 世纪初, 英国多次击败法国, 维持了海上霸权。两次世界大战之间, 美国海权崛起, 英、美、法、日等海权国家并立。二战结束后, 美国海军成为独一无二的海上力量。21 世纪以来, “海上多极”趋势明显。

海上格局转换的焦点集中在两大方面: 一是关于力量对比的竞争; 二是关于海洋规则的博弈。西方国家强调“基于规则的国际秩序”, 但在对海洋规则的理解上, 各海洋强国存在严重的认识分歧。尤其在主权和安全理念方面, 奉行霸权主义的美国与后发海洋国家中国、俄罗斯和印度等存在着较为尖锐的矛盾。国际秩序的建立或塑造离不开实力的支撑。

随着全球社会的发展, 各海洋强国既需要在经济方面相互依存, 又需要在全球治理上协调一致。由于海洋环境恶化、自然或人为灾害等全球性问题进一步发酵, 人类正在迈入全方位认知、利用和保护海洋的新时代。

——摘编自胡波《从霸权更替到“多极制衡”》

(1) 根据材料, 概括近代以来海上格局演变的特征。

(2) 根据材料并结合所学知识, 简析影响海上格局变化的主要因素。

**【答案】**(1)[参考答案]特征: 由单一国家的霸权趋向多极化制衡趋势; 以西方主要资本主义国家为主。

(2)[参考答案]因素: 国家实力的变化; 多极化趋势的发展; 经济全球化的加强, 全球问题需要各国共同协调。

**【解析】**(1) 本题是特点类材料分析题。时空: 近代西方到当代世界。据材料“16—17 世纪, 葡萄牙、西班牙、荷兰先后成为海上霸主。17 世纪中后期, 在与英国海战失利后, 荷兰霸主地位被取代。18 世纪至 19 世纪初, 英国多次击败法国, 维持了海上霸权。两次世界大战之间, 美国海权崛起, 英、美、法、日等海权国家并立。二战结束后, 美国海军成为独一无二的海上力量。21 世纪以来, ‘海上多极’趋势明显”可知, 由单一国家的霸权趋向多极化制衡趋势; 据材料“葡萄牙、西班牙、荷兰先后成为海上霸主”“英国多次击败法国, 维持了海上霸权”“美国海军成为独一无二的海上力量”可知, 以西方主要资本主义国家为主。

(2) 本题是原因类材料分析题。时空: 近代西方到当代世界。据材料“海上格局指国家力量在海上的对比态势”可知, 国家实力的变化; 据材料“两次世界大战之间”可知, 世界战争的影响; 据材料“奉行霸权主义的美国与后发海洋国家中国、俄罗斯和印度等存在着较为尖锐的矛盾”可知, 多极化趋势的发展; 据材料“随着全球社会的发展, 各海洋强国既需要在经济方面相互依存, 又需要在全球治理上协调一致”可知, 经济全球化的加强, 全球问题需要各国共同协调。

16. (2023 年北京卷) 延续与变迁

材料一 西方传统观点认为, 公元 1500 年前后是欧洲历史的分水岭, 此时欧洲告别中世纪, 进入现代。

材料二 20 世纪后期, 有学者提出, 公元 1500 年前后这一时段固然重要, 但还不能称之为欧洲历史的分水岭, 因为此时欧洲在政治、经济、文化和社会关系等领域并无本质变化。这种状态一直持续到 18 世纪中后期, 此后历史才真正步入现代, 分水岭才真正出现。

历史发展往往是一个延续与变迁交织的过程。从这一角度, 结合 15—18 世纪欧洲历史的重大史实, 评析材

以上内容仅为本文档的试下载部分，为可阅读页数的一半内容。如要下载或阅读全文，请访问：<https://d.book118.com/315022224221011122>