

单选题

1、如表为阿拉伯历史上“百年翻译运动”时期（约750—850年）所翻译书籍的情况。据此可知，百年翻译运动

所译书籍的来源	侧重的领域
波斯	文学
古希腊	科学、哲学
印度	数学，天文学、医学

- A. 旨在融合东西方文化
- B. 以翻译古希腊典籍为主导
- C. 侧重自然科学的研究
- D. 丰富了阿拉伯文化的内涵

答案：D

解析：

据材料信息并结合所学知识可知，阿拉伯百年翻译运动翻译包括波斯、印度、古希腊等国的书籍，能够丰富阿拉伯文化的内涵，D项正确；百年翻译运动主要是为了吸取外部先进文化遗产，不是旨在融合东西方文化，排除A项；材料除了古希腊典籍外，还有印度、波斯典籍，无法看出以翻译古希腊典籍为主导，排除B项；材料体现的不仅有自然科学，也有人文科学，排除C项。故选D项。

2、12世纪，欧洲封建贵族的生活发生了明显变化，金钱已经开始腐蚀领主与封臣的关系，贵族与国王对封臣的依赖越来越少，对商队和领薪官员的依赖越来越大。这主要因为

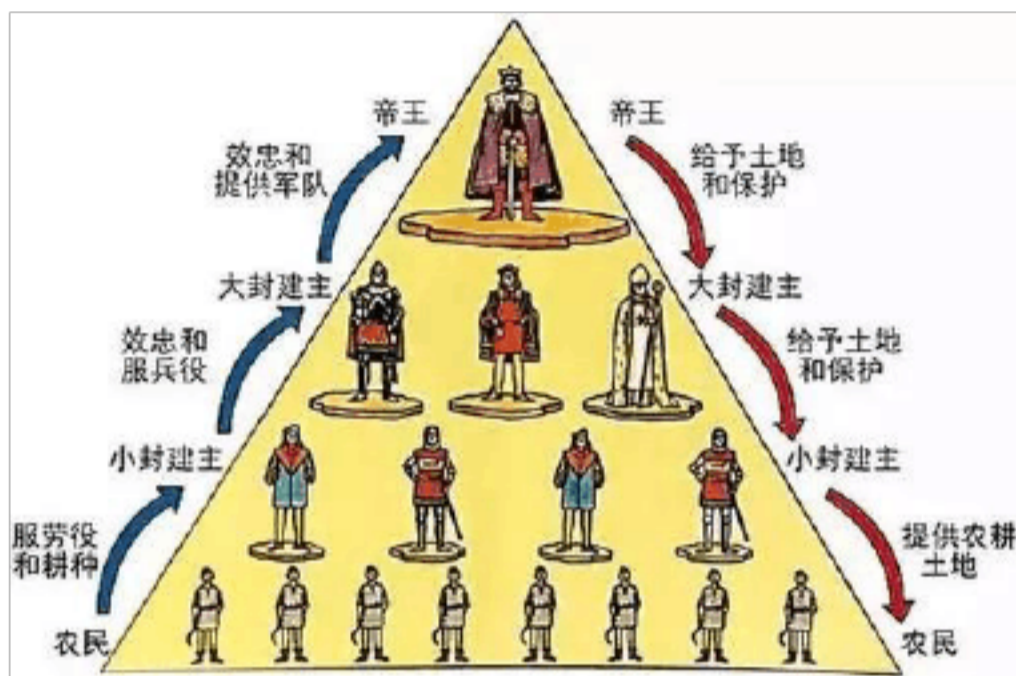
- A. 封君封臣制度的解体
- B. 欧洲城市经济的发展
- C. 地方割据势力的膨胀
- D. 商业革命的发生扩展

答案：B

解析：

根据材料可知，在 12 世纪，贵族和国王“对商队和领薪官员的依赖越来越大”，结合所学知识可知，城市的工商业逐渐复兴和繁荣，商品经济发展比较迅速，市民为取得城市的自治权，他们或者用金钱来赎买封建主，或者用金钱来支持王权，B 项正确；西欧的封君封臣制度于 15 世纪开始解体，排除 A 项；地方割据势力膨胀会导致王权的衰落，材料与“地方割据势力膨胀”没有关系，排除 C 项；商业革命出现在新航路开辟之后，与材料时间不一致，排除 D 项。故选 B 项。

3、如图中各阶层之间联系的纽带是



A. 爵位 B. 金钱 C. 土地 D. 宗教

答案：C

解析：

材料反映的是西欧中世纪的封君封臣制度，8 世纪前期，法兰克王国对土地的分封形式进行了改革，要求得到封地的人必须提供兵役服务。11 世纪时，这种以土地的封赐为纽带而形成的封建制度在西欧已经普遍存在。C 项正确；ABD 项不是纽带，排除 ABD 项。故选 C 项。

4、传说美洲的先人来到特斯科科湖中央的岛屿，他们用 3 条 10 米宽的土路与大陆相连，并用石水槽供应用水。这是一座巨大的人工岛。这个城市就是

A. 君士坦丁堡 B. 雅典 C. 巴比伦 D. 特诺奇蒂特兰

答案：D

解析：

结合所学知识可知，阿兹特克人国家的都城特诺奇蒂特兰位于特斯科科湖中的岛上，面积约 10 万平方千米，人口 20 到 30 万，全城水渠和道路交通纵横，承担着城市的运输，因此根据材料关键信息“美洲先人”湖中人工岛”判断是美洲阿兹特克文明的特诺奇蒂特兰城，D 项正确，ABC 项排除。故选 D。

5、这个独特的民族是文明使者，用嘴巴将东西方文化进行传承，它传播某种数字并使数字因此冠上它的大名。”下面对“独特民族”的介绍你认为可取的是

- A. 四大文明古国之一 B. 建立地跨欧亚非三洲的大帝国
- C. 发明了“浮动园地”农业 D. 形成典型的城邦民主政治

答案：B

解析：

根据所学知识可知阿拉伯是东西方的文化传播的使者，它传播的数字被冠上阿拉伯数字的名称，故“独特民族”是阿拉伯，它建立了地跨欧亚非三洲的大帝国，B 项正确；四大文明古国没有阿拉伯，排除 A 项；阿兹特克人发明了“浮动园地”农业，排除 C 项；形成典型的城邦民主政治的是古希腊，排除 D 项。故选 B 项。

6、《英王亨利二世给予林肯城之特许状》中称：“任何人在林肯城城内按土地保有权购买土地，保有之达一年零一日，无人反对……则予将准许此人在将来安然保有此项土地，一如其过去，不受任何干扰与迫害。”任何人在林肯城之居住期已达一年零一日，且已照章纳税，任何具有申请权之人亦未提出……不利于彼之异议，则予亦将准许彼等与过去一样，继续以市民身份居住于林肯城中。”这意味着林肯城

- A. 获得了自治的权利 B. 实现了经济的独立
- C. 摆脱了教会的束缚 D. 形成了独立的国家

答案：A

解析：

材料中的“土地保有权”是指英国人对其持有的土地不被收回的权利，这在一定程度上限制了封建领主的权力，为中世纪城市发展提供了保障，A 项正确；材料与经济独立的说法无关，B 项排除；中世纪的教会影响深远，C 项说法错误；当时的林肯城仍然是英国的组成部分，成为独立国家的说法错误，D 项排除。

7、在古代非洲，东非建立了一系列城市国家，西非先后崛起了加纳、马里和桑海几个大帝国，南非出现了以建筑“石头城”闻名的津巴布韦文化。这表明（ ）

- A. 各地区文明是独立发展的 B. 各地区文明间缺乏共性
- C. 文明发展具有区域性特征 D. 非洲大陆内部彼此隔绝

答案：C

解析：

从材料可得出，非洲不同地区的文明各不相同，反映出文明发展具有区域性的特征，C项正确；材料没有反映独立性，排除A项；材料不能说明缺乏共性，排除B项；D项太绝对，排除D项。故选C项。

8、“他们发明了‘浮动园地’，把都城建在岛上。16世纪初，他们的国家达到鼎盛时期。”他们创造的文明是

- A. 桑海文明 B. 印加文明
- C. 玛雅文明 D. 阿兹特克文明

答案：D

解析：

结合所学知识可知，阿兹特克人的经济基础是农业，他们发明了“浮动园地”，扩大了耕地面积，因此D项正确，排除ABC项。故选D项。

9、希林顿《非洲史》：“许多民族独立地‘发明’了不同动植物的驯化。事实上，不同地区独立地发明了‘农业’……

我们没有理由认为古代非洲人不会炼铜术……考古证据显示，东非的大湖区和乍得湖之间地区，在公元前1000至前600年期间，存在过早期炼铁活动，这时西亚技术尚未传播到埃及。”这说明

- A. 东非沿岸发展落后于西非地区 B. 自然环境不会影响文明的发展
- C. 人类的古代文明具有多源特征 D. 非洲大陆最早掌握了冶铁技术

答案：C

解析：

根据材料“许多民族独立地‘发明’了不同动植物的驯化。事实上，不同地区独立地发明了‘农业’”等信息可知，不同民族拥有各具特色的文明，体现了人类的古代文明具有多源特征，C项正确；材料不存在东西非之间比较，排除A项；自然环境对文明发展产生重大影响，排除B项；材料信息得不出非洲大陆最早掌握了冶铁技术，排除D项。故选C项。

10、中国的造纸术、印度的数字先后经……传入欧洲，促进了西欧文化的发展。文中省略的是

A. 阿拉伯人 B. 欧洲基督教徒 C. 印度僧侣 D. 奥斯曼土耳其人

答案：A

解析：

结合所学内容可知，中国的造纸术、印度的数字都是通过阿拉伯人传入欧洲的，A项正确；将中国的造纸术、印度的数字传入欧洲的是阿拉伯人，不是欧洲的基督教徒、印度僧侣和奥斯曼土耳其人，排除BCD项。故选A项。

11、东晋时期的高僧法显从长安出发，经西域到达天竺，并在此收集了大批梵文经典。其中“天竺”是指

A. 波斯帝国 B. 德里苏丹国 C. 笈多帝国 D. 阿拉伯帝国

答案：C

解析：

根据题意可知，东晋的法显从长安出发，经西域至天竺，收集了大批梵文经典，“天竺”是指笈多帝国，笈多王朝是中世纪印度的黄金时代笈多王朝时期，大乘佛教盛行，印度教兴起。大乘佛教中心那烂陀寺，成为印度中世纪前期的宗教和学术文化中心，C项正确；波斯帝国是世界历史上第一个横跨亚洲、非洲和欧洲三大洲的大帝国，排除A项；德里苏丹国是13~16世纪突厥人和阿富汗人军事贵族统治北印度的伊斯兰教区域性封建国家的统称，由于先后有5个王朝在德里进行过统治，排除B项；阿拉伯帝国是中古时期时阿拉伯人所建立的伊斯兰帝国，排除D项。故选C项。

12、庄园是中古西欧基本的农业经济组织，耕地由领主自营地和农民份地组成。庄园的主要产业是农业，同时也包括手工业，有木匠、铁匠，庄园自己酿造啤酒，有自己的磨坊和面包师。庄园里的农民除了耕种自己的份地之外，还要为庄园主耕种土地，每周都要有3天为庄园主干活。这段材料说明

A. 庄园里人们的生活水平高 B. 庄园里的村民实行集体劳动

C. 庄园经济自给自足的特点 D. 庄园里的劳动者主要是奴隶

答案：C

解析：

根据材料“庄园的主要产业是农业，同时也包括手工业，有木匠、铁匠，庄园自己酿造啤酒，有自己的磨坊和面包师”可知，庄园涉及生活的各个方面，说明庄园具有自给自足的特点，C项正确；庄园中领主作为庄园的主人，生活水平较高，但是农民和农奴作为被剥削者，生活水平较差，排除A项；根据材料“庄园里的农民除了耕种自己的份地之外，还要为庄园主耕种土地，每周都要有3天为庄园主干活”可知这三天为庄园主干活的时间并不固定，可知集体劳动的说法错误，排除B项；庄园里的劳动者主要是农奴和农民，排除D项。故选C项。

13、中世纪后期的法国，出现了王权借助等级代表会议实施统治的政权形式，实现了贵族和市民阶层等共同参政，这从一定程度上讲属于“分享权力”。该“政权形式”是

A. 议会君主制 B. 等级君主制 C. 立宪君主制 D. 政教合一制

答案：B

解析：

根据材料“出现了王权借助等级代表会议实施统治的政权形式，实现了贵族和市民阶层等共同参政”结合所学知识可知，中世纪的法国的政权组织形式是等级君主制，B项正确；AC项是近代资产阶级代议制发展的表现，排除；法国并未建立政教合一的体制，排除D项。故选B项。

14、俄罗斯与乌克兰爆发冲突以来，俄乌关系引发世界关注。下列关于中古时期俄罗斯的说法，不正确的是

A. 发端于9世纪建立的基辅罗斯 B. 深受拜占庭帝国的影响  
C. 基辅罗斯一度是东欧最强大的国家 D. 17世纪末成为地跨欧亚非的庞大帝国

答案：D

解析：

结合所学可知，俄罗斯帝国是地跨欧亚两洲的大帝国，俄国成为地跨欧亚大帝国是在18—19世纪，D项错误，符合题意；ABC三项均正确，不符合题意。故选D项。

15、1302年，法王菲利普四世为了进一步扩大王权并摆脱罗马教廷的控制，首次召开“三级会议”以争取法国各阶层的支持。三级会议由第一等级的高级教士、第二等级的贵族和第三等级的富裕市民组成，三级会议的召开

A. 巩固了君主专制体制 B. 建立了等级代表制度

C. 使教权成为王权附庸 D. 保障了资产阶级利益

答案：B

解析：

“三级会议”既分等级，又有代表，材料中的“首次”紧扣选项中的“建立”，故B项正确；15世纪后期的葡萄牙和西班牙是西欧最早建立君主专制的大国，A项不符合中世纪的时代特征，故A项错误；三级会议是法王为对抗罗马教皇而召开，但教权与王权的斗争持续了数百年的时间，此举一时达不到使教权成为王权附庸的效果，故C项错误；欧洲资本主义萌芽最早出现于14世纪的意大利，14世纪初的法国尚未有真正意义上的资产阶级，故D项错误。故答案选B。

填空题

16、古代非洲文明：

(1)西非居民\_\_\_\_\_人培育出了甜高粱、\_\_\_\_\_和\_\_\_\_\_等重要农作物，驯养了\_\_\_\_\_,引进了绵羊和山羊等，掌握了\_\_\_\_\_技术，并逐渐扩展到\_\_\_\_\_沙漠以南地区。公元前后，在今埃塞俄比亚地区兴起了\_\_\_\_\_王国，并于4世纪进入鼎盛时期。在西非，8-15世纪，\_\_\_\_\_,\_\_\_\_\_,\_\_\_\_\_等国家先后兴起，这些国家拥有丰富的\_\_\_\_\_资源，其中，马里的\_\_\_\_\_成为西非重要的文化中心。在16世纪达于极盛，确立了在西非的霸主地位，后因遭遇外来入侵逐渐衰落。

(2)在东非，由于农业的进步、环\_\_\_\_\_贸易的发展和\_\_\_\_\_教的传入，10-15世纪，在东非沿海地区产生了一系列国家。\_\_\_\_\_商人从印度、波斯和中国等地把\_\_\_\_\_、纺织品等输入非洲，当地出口\_\_\_\_\_、象牙和奴隶等。

(3)11世纪末，班图人建立了\_\_\_\_\_国家。鼎盛时期，包括今\_\_\_\_\_的部分地区都被纳入它的统治之下。

答案： 班图 西瓜 棉花 牛 冶铁 撒哈拉 阿克苏姆 加纳 马里 桑海 黄金 廷巴克图 印度洋

伊斯兰

阿拉伯

瓷器

黄金

津巴布韦

南非

根据所学知识可知，西非居民班图人培育出了甜高粱、西瓜和棉花等重要农作物，驯养了牛，引进了绵羊和山羊等，掌握了冶铁技术，并逐渐扩展到撒哈拉沙漠以南地区。公元前后，在今埃塞俄比亚地区兴起了阿克苏姆王国，并于4世纪进入鼎盛时期。在西非，8-15世纪，加纳、马里、桑海等国家先后兴起，这些国家拥有丰富的黄金资源，其中，马里的廷巴克图成为西非重要的文化中心。在16世纪达于极盛，确立了在西非的霸主地位，后因遭遇外来入侵逐渐衰落。在东非，由于农业的进步、环印度洋贸易的发展和伊斯兰教的传入，10-15世纪，在东非沿海地区产生了一系列国家。阿拉伯商人从印度、波斯和中国等地把瓷器、纺织品等输入非洲，当地出口黄金、象牙和奴隶等。11世纪末，班图人建立了津巴布韦国家。鼎盛时期，包括今南非的部分地区都被纳入它的统治之下。

## 17、教会专权

(1) 经济：拥有大量\_\_\_\_\_和广袤\_\_\_\_\_，并向信徒征收\_\_\_\_\_。

(2) 政治：是\_\_\_\_\_的有组织的力量，形成了从教皇到各级神职人员的\_\_\_\_\_制度。教皇基本实现了对教会的\_\_\_\_\_统治。

(3) 精神：整个西欧社会的居民几乎都是\_\_\_\_\_教徒，教会控制着他们的\_\_\_\_\_生活，宗教戒律严重束缚了\_\_\_\_\_的发展。

答案： 庄园 土地 什一税 最大 等级 集权 基督 精神 人性

①：结合所学可知，教会经济专权是拥有大量庄园和广袤土地，并向信徒征收什一税，①处填写庄园；

②：结合所学可知，教会经济专权是拥有大量庄园和广袤土地，并向信徒征收什一税，②处填写土地；

③：结合所学可知，教会经济专权是拥有大量庄园和广袤土地，并向信徒征收什一税，③处填写什一税；



④：结合所学可知，教会政治专权是最大的有组织的力量，形成了从教皇到各级神职人员的等级制度。教皇基本实现了对教会的集权统治，④处填写最大；

⑤：结合所学可知，教会政治专权是最大的有组织的力量，形成了从教皇到各级神职人员的等级制度。教皇基本实现了对教会的集权统治，⑤处填写等级；

⑥：结合所学可知，教会政治专权是最大的有组织的力量，形成了从教皇到各级神职人员的等级制度。教皇基本实现了对教会的集权统治，⑥处填写集权；

⑦：结合所学可知，教会精神专权是整个西欧社会的居民几乎都是基督教徒，教会控制着他们的精神生活，宗教戒律严重束缚了人性的发展，⑦处填写基督；

⑧：结合所学可知，教会精神专权是整个西欧社会的居民几乎都是基督教徒，教会控制着他们的精神生活，宗教戒律严重束缚了人性的发展，⑧处填写精神；

⑨：结合所学可知，教会精神专权是整个西欧社会的居民几乎都是基督教徒，教会控制着他们的精神生活，宗教戒律严重束缚了人性的发展，⑨处填写人性。

## 18、阿拉伯半岛的统一

(1) 7世纪初，\_\_\_\_\_创立\_\_\_\_\_教。

(2) 622年，穆罕默德迁居\_\_\_\_\_，在那里建立\_\_\_\_\_，势力范围逐步扩大。到他去世时，阿拉伯半岛基本\_\_\_\_\_。

答案： 穆罕默德 伊斯兰 麦地那 政权 统一

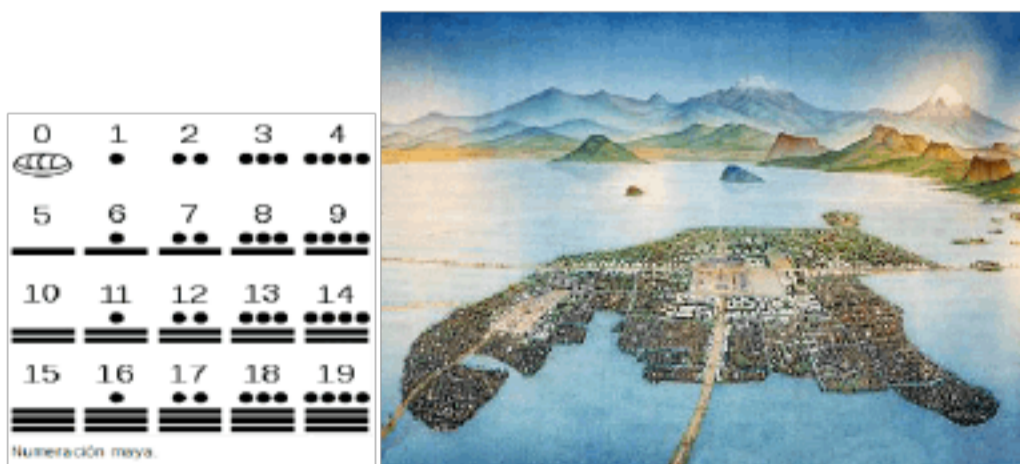
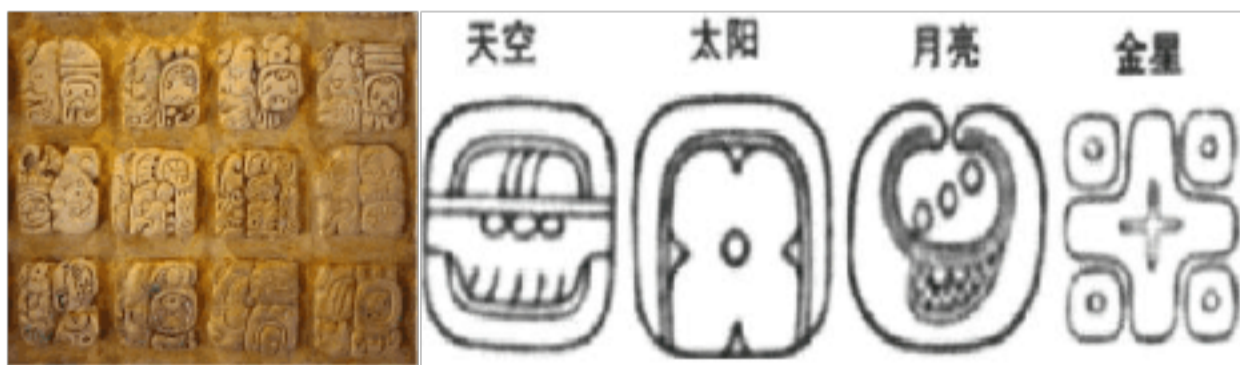
(1) 根据所学，7世纪初，穆罕默德创立伊斯兰教。

(2) 根据所学，622年，穆罕默德迁居麦地那，在那里建立政权，势力范围逐步扩大。到他去世时，阿拉伯半岛基本统一。

19、古代美洲印第安人，独立培育出其他大陆没有的很多农作物，包括\_\_\_\_\_、\_\_\_\_\_、\_\_\_\_\_和\_\_\_\_\_等。在\_\_\_\_\_和\_\_\_\_\_发展的基础上，印第安人先后在中南美洲创造了\_\_\_\_\_、\_\_\_\_\_和印加文明。

美	玛雅文明	阿兹特克文明	印加文明
---	------	--------	------

文明			
兴盛期	约 4 世纪—9 世纪玛雅文明达于极盛，建立众多的城市国家	16 世纪初，阿兹特克国家进入鼎盛时期，建都特诺奇蒂特兰	15 世纪末 16 世纪初，印加国家发展到鼎盛时期
地理范围	中美洲_____半岛	今_____地区	库斯科地区
政治统治	(阶级关系) 氏族首领、贵族和祭司构成_____一般氏族成员成为平民，从事_____和手工业	(1) 上层阶级垄断_____掌握军队； (2) 被征服者由原来的_____首领管理，但需向阿兹特克人缴纳_____如粮食、服装、_____和_____等	(1) 最高统治者是国王，世袭继承，拥有_____和军事大权； (2) 将全国划分为_____大政区，每个政区设一个长官，由_____充任； (3) 帝国修建了完善的_____系统； (4) 被征服地区的部分或全部居民_____到新地区，以防止他们反抗。
社会经济	(1) 农业：以种植玉米为主 (2) 手工业：制造精美的陶器	以农业为主，发明“_____”，扩大耕地面积；	(1) 土地、_____和_____归国家所有 (2) 为征兵和征税，政府编制了_____；
文化	(1) 城市建筑：精美，面积广阔，能建造用于_____的_____庙宇 (2) 发明文字； (3) 用复杂的历法纪年； (4) 采用_____进位制，可能知道“零”的概念	城市建筑： (1) 都城建于特斯科科湖中心的小岛上，面积广阔，人口众多，水渠和道路纵横交错 (2) 都城内有_____供应全城淡水，为方便交通，渠上架设了多座_____	结绳记事



以上内容仅为本文档的试下载部分，为可阅读页数的一半内容。如要下载或阅读全文，请访问：<https://d.book118.com/316010030155010212>