

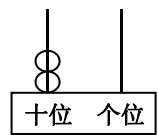
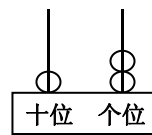

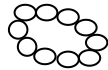
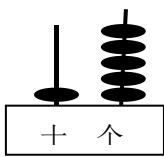
北师大版一年级（上）数学期末测试卷（三）

时间：60分钟 满分：100分

题号	一	二	三	四	五	六	总分
得分							

一、填一填。（20分）

1. 数一数，填一填。



()

()

()

()

()

2. 18 里面有 () 个十和 () 个 (); 6 个一和 3 个十组成的数是 ()。

3. 顺着数，17 前一位是 (); 12 后面第 3 位是 ()。

4. 最大的一位数比最小的两位数少 ()。

5. () 里最大能填几？

() < 9

() < 7 + 8

19 > () + 3

6. 按规律填数。

20	18			
----	----	--	--	--

7. 把下列数从大到小的顺序排一排。（2分）

15 7 10 9 3

二、算一算。（24分）

姓名 _____ 班级 _____ 座位号 _____ 订 _____ 线 _____ 内 _____ 不 _____ 要 _____ 答 _____ 题 _____

(1) $9 - 4 =$ $13 - 10 =$ $6 + 8 =$ $9 - 9 =$

$13 - 8 =$ $16 - 6 =$ $5 - 0 =$ $6 + 7 =$

$7 + 7 - 4 =$ $6 - 3 + 10 =$ $8 - 4 + 9 =$

(2) 在○里填上“+”或“-”。

$9 \circ 4 = 13$ $6 \circ 7 = 13$ $5 \circ 3 = 10 \circ 2$

$7 \circ 5 = 2$ $9 \circ 3 < 12$ $6 \circ 6 \circ 6 = 6$

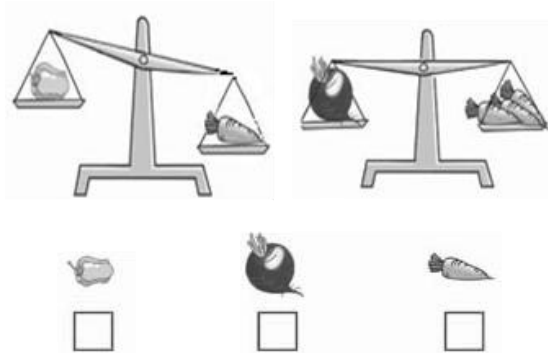
(3) 在()里填上合适的数。

$4 + () = 9$ $7 + () = 13$ $13 - () = 5$


$() = 4 + 7$ $7 + 5 = () - 3 = () + 8 = ()$

三、选一选。(16分)

1. 最重的画“○”，最轻的画“√”。



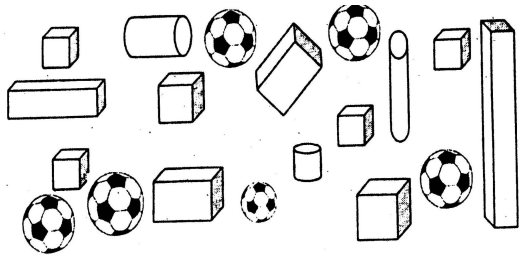
2. 最高的画“○”，最矮的画“√”。



3. 观察下列时钟，正确的打“√”，错误的打“×”。



四、数一数，填一填。(8分)



长方体有()个;

正方体有()个;

圆柱有()个;

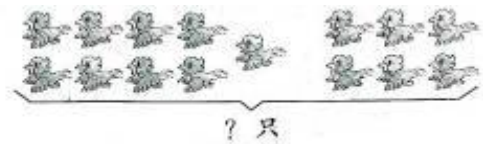
球有()个。

五、看图列式。(12分)

(1)



$$\square \circ \square = \square \text{ (块)}$$



$$\square \circ \square = \square \text{ (只)}$$


(2) 一共有多少只小鸟?



$$\square \circ \square \circ \square = \square \text{ (只)}$$

六、我能解答。(20分)

1.




$$\square \circ \square = \square \text{ (个)}$$

2.



$$\square \circ \square = \square \text{ (只)}$$

3.



$$\square \circ \square = \square \text{ (条)}$$

4.



$$\square \circ \square \circ \square = \square \text{ (人)}$$

参考答案

一、填一填。

1. 15、15、17、12、20

2. 1、8、一、36

3. 16、15

4. 1

5. 8、14、15

6. 16、14、12

7. $15 > 10 > 9 > 7 > 3$

二、算一算。

(1) 5 3 14 0

5 10 5 13

10 13 13

(2) + + + -

- - + -

(3) 5 6

8 11

15 4 12

三、略

四、数一数，填一填。

4 6 3 6

五、看图列式。

(1) $14-3=11$

$9+6=15$

(2) $4+3+3=10$

六、我能解答。

1. $7+6=13$

2. $5+3=8$

3. $10-3=7$

4. $10-3+2=9$


北师大版一年级（上）数学期末测试卷（一）

时间：60分钟 满分：100分


题号	一	二	三	四	五	六	七	八	九	总分
得分										

一、我会填。（共21分）

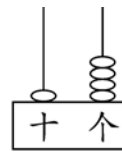
1. (4分)看图写数。



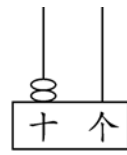
()



()



()



()

2. (5分)填数。

8			11				15				19	
---	--	--	----	--	--	--	----	--	--	--	----	--

3. (1分)个位上是9，十位上是1，这个数是()。

4. (2分)11 里面有()个十和()个一。

5. (3分)给从左数第6朵 涂上颜色，把右边的3朵 圈起来。



6. (4分)看图补充算式。

★ ★ ★ ★ ★ ☆ ☆ ☆ ☆

$$\square + 4 = \square$$

$$10 - \square = \square$$

$$4 + \square = \square$$

$$\square - 4 = \square$$

7. (2分)△△△△△△△

7()10

○○○○○○○○○○

10()7

座位号

班级

姓名

..... 题 答 要 不 内 线 订 装

二、我会算。(共 28 分)

$9 + 8 =$

$17 - 4 =$

$3 + 9 =$

$18 - 6 =$

$10 - 8 =$

$0 + 9 =$

$9 + 9 =$

$8 + 5 =$

$3 + 7 =$

$19 - 6 =$

$17 - 2 =$

$5 + 10 =$

$16 - 4 =$

$14 + 3 =$

$8 + 7 =$

$4 + 8 =$

$7 + 9 - 3 =$

$8 + 7 - 10 =$

$9 - 2 + 6 =$

$9 + 8 - 6 =$

$3 + 5 + 4 =$

$14 - 4 - 3 =$

$6 + (\quad) = 8$

$12 - (\quad) = 10$

$9 - (\quad) = 4$

$4 + (\quad) = 9$

$17 - (\quad) = 13$

$9 + (\quad) = 11$

三、分一分。(共 6 分)

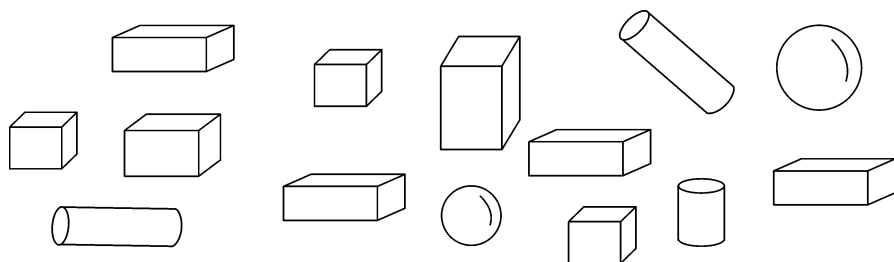
帮妈妈把买的東西分裝在兩個袋里，用線連一連。


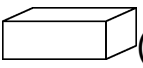




四、認一認。(共 8 分)



五、數一數。(共 6 分)



1. (4分)  ()个,  ()个,  ()个,
 ()个。


2. (2分)一共有()个图形。

六、画一画。(共6分)

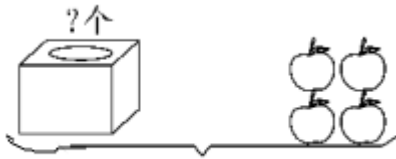

1. (4分)(1)在最短的后面画“○”。 (2)在最矮的下面画“△”。



2. (2分)画□, 使□比☆多4个。



七、看图写算式。(每题3分, 共9分)

1.  

$$\square \bigcirc \square = \square$$

2.  

$$\square \bigcirc \square = \square$$

3. 

$$7 \bigcirc \square \bigcirc \square = \square$$

八、解决问题。(共 12 分)

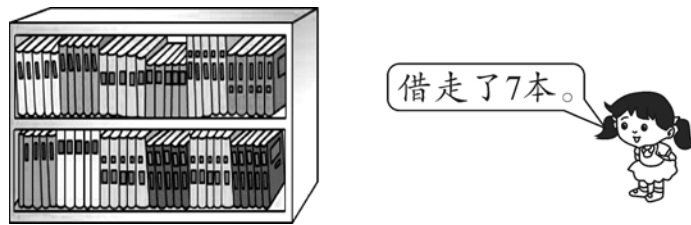
1. (4 分)小明家的果园有 8 棵梨树, 6 棵苹果树。



两种果树一共有多少棵?

$$\square \bigcirc \square = \square$$

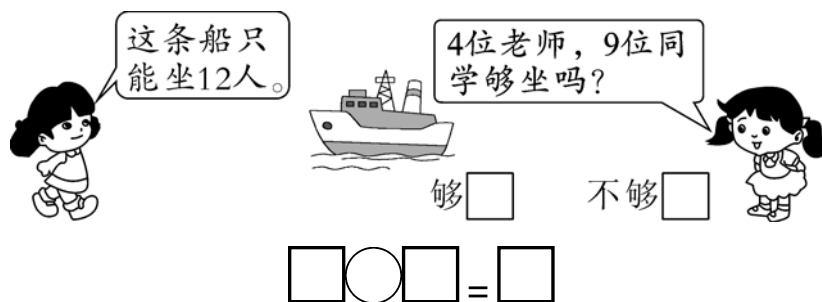
2. (4 分)学校图书馆里原来有 14 本《数学故事》。



还有多少本?

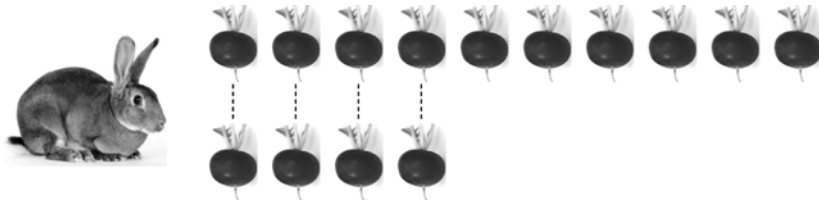
$$\square \bigcirc \square = \square$$

3. (4 分)先列式计算, 再想一想, 够不够? 在你认为正确的答案后的 里打 "√" 。




九、动脑筋。(共 4 分)

小兔子拔的萝卜有两堆。第一堆 10 个, 第二堆有 4 个。从第一堆拿()个放到第二堆后, 两堆一样多。这时每堆有()个。



智力冲浪

(10分)谁最重?画“√”。谁最轻?画“○”。



参考答案

一、1.8 13 14 20

2.9 10 12 13 14 16 17 18 20

3.19

4.1 1

5.涂色略

6.6 10 6 4 6 10 10 6

7.< >

二、17 13 12 12 2 9 18 13 10 13 15 15 12

17 15 12 13 5 13 11 12 7 2 2 5 5 4 2

三、略

四、8:00 4:00 10:30 2:30

五、1.3 6 3 2 2.14

六、1.略 2.略

七、1.16 - 4 = 12 2.6 + 6 = 12 3.7 - 3 + 2 = 6

八、1.8 + 6 = 14 2.14 - 7 = 7 3.4 + 9 = 13

九、3 7

智力冲浪

略

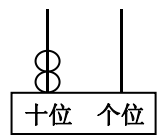
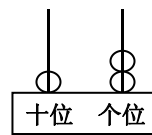

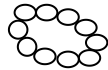
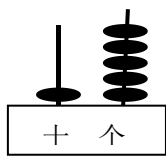
北师大版一年级（上）数学期末测试卷（三）

时间：60分钟 满分：100分

题号	一	二	三	四	五	六	总分
得分							

一、填一填。（20分）

1. 数一数，填一填。



()

()

()

()

()

2. 18 里面有 () 个十和 () 个 (); 6 个一和 3 个十组成的数是 ()。

3. 顺着数，17 前一位是 (); 12 后面第 3 位是 ()。

4. 最大的一位数比最小的两位数少 ()。

5. () 里最大能填几？

() < 9

() < 7 + 8

19 > () + 3

6. 按规律填数。

20	18			
----	----	--	--	--

7. 把下列数从大到小的顺序排一排。（2分）

15 7 10 9 3

二、算一算。（24分）

姓名 _____ 班级 _____ 座位号 _____ 订 _____ 线 _____ 内 _____ 不 _____ 要 _____ 答 _____ 题 _____

以上内容仅为本文档的试下载部分，为可阅读页数的一半内容。如要下载或阅读全文，请访问：<https://d.book118.com/318122075020007011>