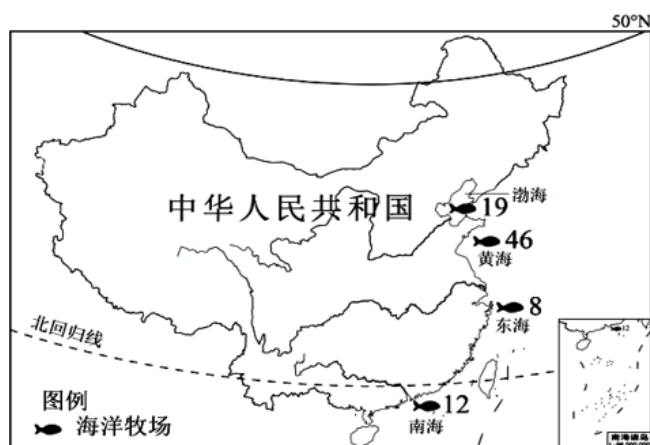


# 吉安市 2024—2025 学年（下）八年级地理第一次阶段性练习卷

一、单项选择题（本大题共 24 小题，每小题 1 分，共 24 分。在每小题给出的四个选项中，只有一项是符合题目要求的，多选、错选、不选均不得分）

2024 年 10 月，中国海洋经济博览会在深圳举办，海洋牧场是指在一定海域内，为了有计划地培育和管理渔业资源而设置的人工渔场。党的二十大报告指出，发展海洋经济，保护海洋生态环境，加快建设海洋强国。图为我国国家级海洋牧场示范区在四大海域的分布图。完成下面小题。

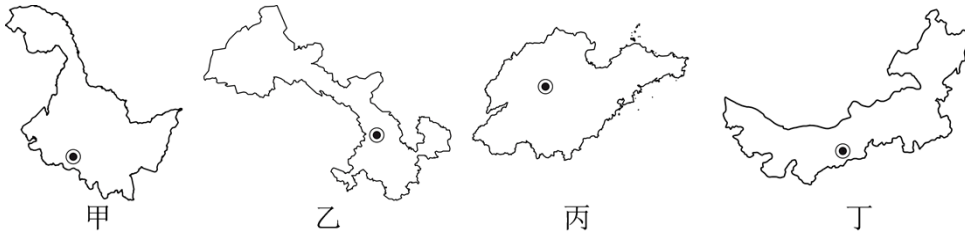


1. 下列关于我国地理位置的叙述，正确的是（ ）  
A. 主要位于北温带      B. 位于亚欧大陆的西部      C. 西临太平洋      D. 地跨南、北半球
2. 国家级海洋牧场示范区数量最多的海域是（ ）  
A. 渤海      B. 黄海      C. 东海      D. 南海

2024 年 9 月 13 日，第十四届全国人民代表大会常务委员会第十一次会议通过关于实施渐进式延迟法定退休年龄的决定。据此，完成下面小题。

3. 渐进式延迟退休政策实施后，带来的影响可能有（ ）  
A. 立刻导致青年人就业困难      B. 致使老年人口比例迅速下降  
C. 缓解劳动力短缺现象      D. 使得劳动力人口数量下降
4. 我国此次调整人口政策，可以看出（ ）  
①人口政策能解决人口增长问题②人口政策要适应社会的发展需求  
③人口政策要适应经济结构的变化④人口政策调整旨在促进人口均衡发展  
A. ①②③      B. ①②④      C. ①③④      D. ②③④

济南市某中学地理社团的同学们制作了我国 34 个省级行政区的“名片”。“名片”正面是省级行政区的轮廓和行政中心，背面是省级行政区的关键词。同学们使用“名片”进行地理竞赛活动。图为其中四个省级行政区的“名片”。据此完成下面小题。



5. 轮廓对应的省级行政区，正确的是（ ）

- A. 甲—吉林省                      B. 乙—青海省                      C. 丙—山东省                      D. 丁—新疆维吾尔自治区

6. “名片”背面有明显错误的是（ ）

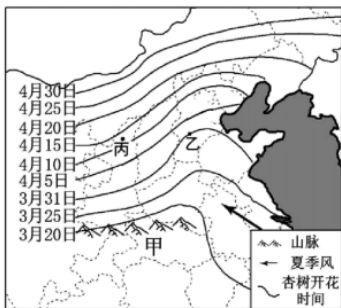
- A. 甲：东北平原、海上米仓、漠河、冰灯                      B. 乙：河西走廊、兰州拉面、敦煌莫高窟  
C. 丙：黄河入海、早作农业、泰山、趵突泉                      D. 丁：温带草原、畜牧业、三河马、三河牛

7. 竞赛中，同学们对其他“名片”进行详细解说，完全正确的是（ ）

- A. 北京是全国的政治、文化、经济、科技创新中心  
B. 上海市所在的长江三角洲地区地处江海交汇之地  
C. 陕西南部有我国 400 毫米年等降水量线穿过的秦岭  
D. 内蒙古自治区大面积种植水稻、甘蔗等农作物

“盼望着，盼望着，东风来了，春天的脚步近了”源于朱自清的《春》，为我们描绘了蓬勃的春景。

图为杏花开放日期变化图。读如图，完成下面小题。



8. 图中甲山脉是（ ）

- A. 南岭                      B. 阴山                      C. 天山                      D. 秦岭

9. “东风”是指来自（ ）

- A. 印度洋的东南季风                      B. 太平洋的东南季风  
C. 印度洋的西南季风                      D. 太平洋的西南季风

10. 杏花开放的时空变化规律是（ ）

- A. 由南向北推迟                      B. 由东南向西北推迟                      C. 由北向南推迟                      D. 由西北向东南推迟

北京时间 2025 年 1 月 7 日 9 时 5 分西藏定日县发生 6.8 级地震。定日县位于我国西南边陲，地处喜马拉雅山脉中段北麓珠峰脚下，县域平均海拔 4500 米，南与尼泊尔接壤。震中周边 200 公里内近 5 年来发

生3级以上地震共29次。据此完成下面小题。

11. 定日县附近区域多地震的原因 ( )

- A. 位于环太平洋地震带
- B. 位于亚欧板块内部, 地壳活跃
- C. 位于亚欧板块与印度洋板块交界处
- D. 位于亚欧板块与太平洋洋板块交界处

12. 此次灾后救援和居民安置有可能遇到的困难是 ( )

- A. 低温
- B. 酷热
- C. 暴雨
- D. 干旱

13. 地震发生时, 有效的避震方法有 ( )

- ①在室内, 不要站在窗边和阳台, 以免被坠落物体伤害
- ②在高层, 立刻乘坐电梯迅速撤离
- ③在户外尽快到开阔地带, 远离高大建筑
- ④坚持“震时就近躲避, 震后快速撤离”原则

- A. ①②③
- B. ②③④
- C. ①②④
- D. ①③④

读“口罩生产及销售过程示意图”, 完成下面小题。



14. 下列与制造口罩的原材料——石油, 同属非可再生资源的一组是 ( )

- ①煤炭
- ②森林
- ③海鱼
- ④花岗岩

- A. ①②
- B. ③④
- C. ①③
- D. ①④

15. 为了保护环境, 下列对矿产资源的做法, 符合“高效利用和超低排放”理念的是 ( )

- A. 扩大资源的进口渠道
- B. 改进技术, 提高资源利用率
- C. 加大矿产资源的开发
- D. 开发新能源, 不使用矿产资源

《北京城市总体规划(2016年—2035年)》对北京的发展提出了“国家首都、世界城市、文化名城、宜居城市”的目标。加快建设“三城一区”(即: 中关村科学城、怀柔科学城、未来科学城及经济技术开发区), 以推进高新技术产业发展。完成下面小题。

16. 为落实规划目标, 北京应 ( )

- A. 迁出所有工厂
- B. 拆除古老建筑
- C. 加强绿化建设
- D. 加大开荒力度

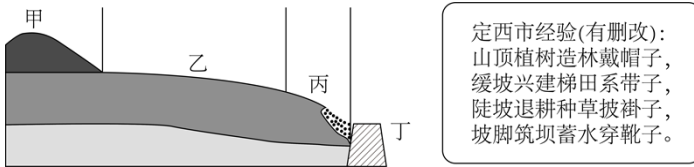
17. “三城一区”的建设体现了北京是我国的 ( )

- A. 政治中心
- B. 文化中心
- C. 科技创新中心
- D. 国际交往中心

18. 北京建设“三城一区”最重要的有利条件是 ( )

- A. 交通便利
- B. 环境优美
- C. 市场广阔
- D. 人才众多

位于黄河支流岸边的甘肃省定西市, 曾经是黄土高原水土流失最严重的地区之一。如今这里已成为水土流失综合治理示范区。读如图, 完成下面小题。



19. 黄土高原水土流失严重的原因有 ( )

- A. 黄土土质疏松                      B. 植被覆盖率高                      C. 黄河结冰期长                      D. 黄河含沙量大

20. 如今, 错落有致的梯田是定西市最动人的风景。图中适于“兴建梯田系带子”的是 ( )

- A. 甲区域                                  B. 乙区域                                  C. 丙区域                                  D. 丁区域

广东东莞一家港资服装厂的老板是香港人, 厂里的技术人员和管理人员多数是从香港过来的, 工人则主要是内地人, 他们按照香港拿过来的设计样品把原材料加工成产品, 并销往美国。据此材料, 完成下面小题。

21. 在案例中与香港经济合作过程中, 广东东莞主要负责的是 ( )

- A. 提供土地、劳动力                      B. 技术和管理                              C. 提供资金                              D. 从事样品研发

22. 东莞所在的珠江三角洲地区发展外向型经济的主要优势是 ( )

①靠近港澳和东南亚 ②人口稀少 ③有许多侨乡 ④海陆交通便利

- A. ①②③                                  B. ②③④                                  C. ①③④                                  D. ①②③④

23. 香港、澳门人多地狭, 为了城市的扩展, 它们都采取的措施是 ( )

- A. 都积极地向外移民                      B. 建设高层建筑和填海造地  
C. 建设海底城市                              D. 鼓励居民到祖国内地工作

24. 下列关于香港、澳门说法不正确的是 ( )

- A. 香港由香港岛、九龙、新界组成  
B. 香港有世界著名的深水良港  
C. 澳门由澳门半岛、路环岛、氹仔岛组成  
D. 香港的经济支柱是博彩旅游业

## 二、综合题 (本大题共 4 小题, 共 26 分)

25. 我国地域辽阔, 农业分布差异明显。读如图我国农业地区分布图, 回答下列问题。



(1) 图中曲线 A 是畜牧业区与种植业区的界线，大致相当于\_\_\_\_mm 年等降水量线。此线以东以种植业为主，其有利自然条件是\_\_\_\_\_。

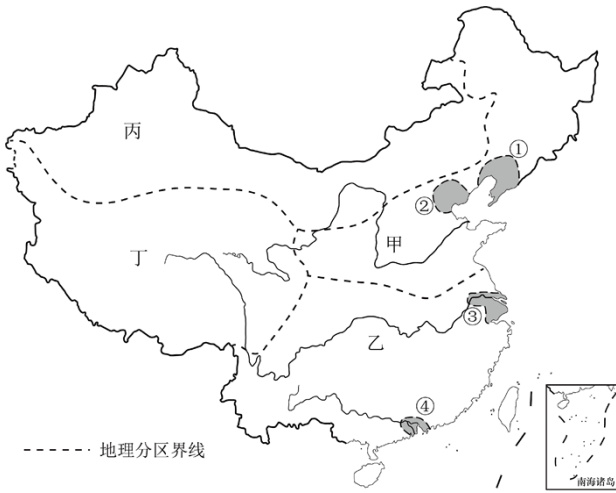
(2) 图中 a、b、c、d 分别代表我国四大牧区，其中 a 是\_\_\_\_牧区，其发展优势条件是\_\_\_\_\_。

(3) 据图可知，珠江三角洲地区种植的糖料作物是\_\_\_\_\_。

(4) 山东鲁花集团生产的花生油的原料主要来自 ( )

- A. 长江中下游平原      B. 华北地区      C. 东北平原      D. 南部沿海地区

26. 读下图，完成下列各小题。



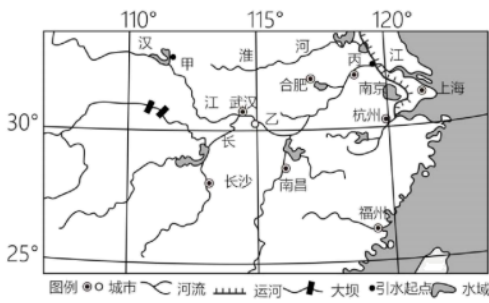
中国四大地理区域图

(1) 我国的人口多集中分布在四大地理区域中的甲和乙区域，原因是\_\_\_\_\_ (从自然条件或人文条件方面回答)。

(2) ①②③④是我国的四大工业基地，\_\_\_\_\_ (填序号) 我国最大的综合性工业基地，其发展的有利条件是\_\_\_\_\_。联系②和③之间的铁路干线是\_\_\_\_\_。

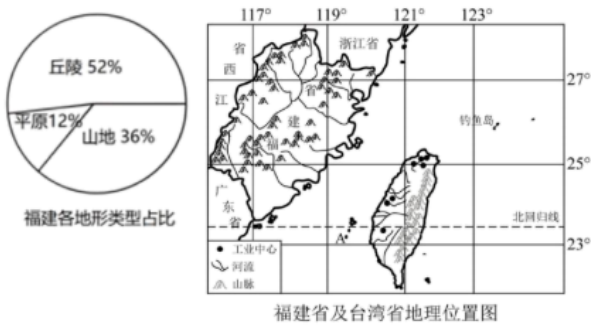
(3) 甲乙丙丁四大地理区域中，甲是\_\_\_\_\_地区，甲和丁划分的主导因素是\_\_\_\_\_；该区域有我国最大的重工业基地\_\_\_\_\_ (填序号)。

27. 读下面我国部分区域略图，回答下列问题。



- (1) 甲、丙两地为南水北调工程引水起点，其中，甲为\_\_\_\_：目前从甲地引水，沿线开挖渠道，自流北上，北达北京、天津。
- (2) 图中，\_\_\_\_是长江三角洲的核心城市，对长江流域乃至全国都有\_\_\_\_作用。
- (3) 假如你要到长江三角洲地区旅游，你想去哪些景点？\_\_\_\_。长江三角洲发展旅游业的有利条件是\_\_\_\_。

28. 福建省依山傍海，海岸线曲折漫长，港口条件优越。东隔台湾海峡与台湾省相望。两岸同胞同祖同根，血脉相连，文化相通。读右图，完成下面小题。

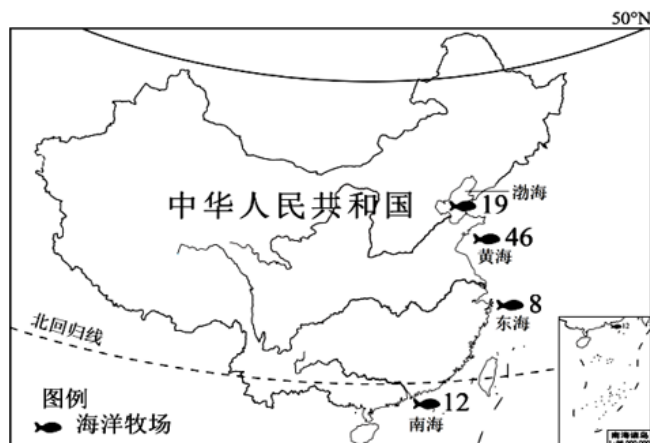


- (1) 福建省与江西省的分界线是\_\_\_\_山脉，台湾省包括台湾岛，以及附近的 A\_\_\_\_、钓鱼岛等许多小岛。
- (2) 福建河流众多，试列举福建河流的水文特征。\_\_\_\_。
- (3) 福建省森林覆盖率达 65.95%，是我国大陆最“绿”’的省份，其自然原因是\_\_\_\_。
- (4) 台湾输入福建的产品可能有（ ）
- ①榴莲、凤梨等热带水果②半导体芯片③优质小麦④煤炭、铁矿石等原料
- A. ①②                      B. ②③                      C. ①④                      D. ②④
- (5) 试从地理位置、交通、劳动力、文化等方面分析福建省吸引台湾企业投资的优势条件\_\_\_\_。

## 吉安市 2024—2025 学年（下）八年级地理第一次阶段性练习卷

一、单项选择题（本大题共 24 小题，每小题 1 分，共 24 分。在每小题给出的四个选项中，只有一项是符合题目要求的，多选、错选、不选均不得分）

2024 年 10 月，中国海洋经济博览会在深圳举办，海洋牧场是指在一定海域内，为了有计划地培育和管理渔业资源而设置的人工渔场。党的二十大报告指出，发展海洋经济，保护海洋生态环境，加快建设海洋强国。图为我国国家级海洋牧场示范区在四大海域的分布图。完成下面小题。



1. 下列关于我国地理位置的叙述，正确的是（ ）  
A. 主要位于北温带      B. 位于亚欧大陆的西部      C. 西临太平洋      D. 地跨南、北半球
2. 国家级海洋牧场示范区数量最多的海域是（ ）  
A. 渤海      B. 黄海      C. 东海      D. 南海

【答案】1. A      2. B

【解析】

【1 题详解】

我国领土南北跨纬度很广，都在北半球，大部分位于中纬度地区，主要属北温带，A 正确、D 错误；位于亚欧大陆的东部、东临太平洋，故 BC 错误。故选 A。

【2 题详解】

读图可知，国家级海洋牧场示范区的数量：渤海 19 个，黄海有 46 个，东海 8 个，南海 12 个，黄海是国家级海洋牧场示范区数量最多的海域，B 正确，ACD 错。故选 B。

【点睛】现代海洋牧场是通过人工鱼礁、增殖放流等生态工程建设，修复或优化生态环境、保护和增殖渔业资源，并对生态、生物及渔业生产进行科学管理，实现可持续发展的海洋空间。

2024 年 9 月 13 日，第十四届全国人民代表大会常务委员会第十一次会议通过关于实施渐进式延迟法定退休年龄的决定。据此，完成下面小题。

以上内容仅为本文档的试下载部分，为可阅读页数的一半内容。如要下载或阅读全文，请访问：<https://d.book118.com/336014051210011101>