

# 一年级下册数学解决问题 100 道

## 一. 解答题(共 100 题, 共 539 分)

1. 根据题意作答。



2. 学校有 10 个足球, 16 个篮球, 足球比篮球少多少个?

3. 李大爷家今年养鸭 78 只, 去年比今年少 20 只。去年有多少只?

4. 一共有 15 人表演大合唱, 他们排成了两排。




(1) 第一排有 6 人, 第二排有几人?

$$\square \bigcirc \square = \square ( \quad )$$

(2) 男生有 7 人, 女生有几人?

$$\square \bigcirc \square = \square ( \quad )$$

5. 停车场有 20 辆 ，开走了 5 辆，还剩多少辆？

6. “六一”儿童节大家一起开展庆祝活动，有 30 名学生和 4 名老师，每人发一个橘子。40 个橘子够吗？

7. 小花和小丽折纸飞机，他们一共折了 17 个，其中小丽折了 8 个纸飞机，小花折了几个纸飞机？

8. 下雪了，一共有 15 人参加了堆雪人活动。



(1) 女生有 9 人，男生有多少人？

(2) 右边有 8 人，左边有多少人？

9. 小灰摘了 10 个松果，小黑摘了 8 个松果，小灰比小黑多摘了几个松果？

10. 小兰做红花和黄花一共 15 朵，红花有 8 朵，黄花有几朵？

11. 1 个打火机 8 角钱，请你在拿出人民币件数最少的情况下付款，并写出如何付款？

12. 小朋友做纸花，小亚和小巧各做了 20 朵，小丁丁做了 15 朵，他们一共做了几朵纸花？

13. 小红买一瓶饮料 3 元，一个汉堡 10 元 4 角。一个汉堡比一瓶饮料多多少钱？

14. 看图回答。



11 元



30 元



8 元 6 角



5 元 8 角

(1) 小红买一个不倒翁和一把雨伞一共花 ( ) 钱。

(2) 明明买一个足球和一桶茶叶一共花 ( ) 钱。

(3) 你能自己提出几个数学问题并解答吗?



桃子比苹果少 ( ) 个, 拿掉 ( ) 个苹果和桃子一样多。

有 12 只猴子, 每只猴子发给一个桃子, 还差几个桃子?

$\square \bigcirc \square = \square$  (个)

16. 看图作答。



17. 今天我购物。



(1) 买一个计算器和一个水杯，要多少元？

$$11+6=\underline{\quad\quad} (\quad\quad)$$

(2) 假如你有 40 元，可以买哪两样东西？列出算式，说说你是怎样计算的？

18. 一支牙膏 2 元 2 角，一把牙刷 1 元，买一把牙刷和一支牙膏需要多少钱？  
 19. 一年级有 52 名同学，准备乘两辆车去公园，一辆车已经坐上了 30 名同学，另一辆车要坐多少人？  
 20. 果园里有苹果树 86 棵，梨树比苹果树少 7 棵。梨树有多少棵？  
 21. 饲养员养了 25 只白兔，又养 8 只黑兔，共养兔多少只？



(1) 小东比小明少射中多少个？

$$\square \circ \square = \square (\quad)$$

(2) 你还能提出什么问题并解答。

□○□=□ (      )

23. 一盒水彩笔 12 元，一个调色盘 4 元，买这两样需要多少钱？我付给售货员 20 元，还要找回多少元？

24. 小敏有 1 元 7 角，买一袋小金鱼要 2 元，小敏的钱够吗？还缺多少？

25. 小刚家养了兔子 50 只，鸡 30 只，鸭 20 只。

(1) 兔子比鸡多多少只？

(2) 鸭子比鸡少多少只？

(3) 兔子、鸡、鸭一共有多少只？

26. 到餐厅吃午饭，给你 10 元钱你可能买哪几种商品？（填序号）

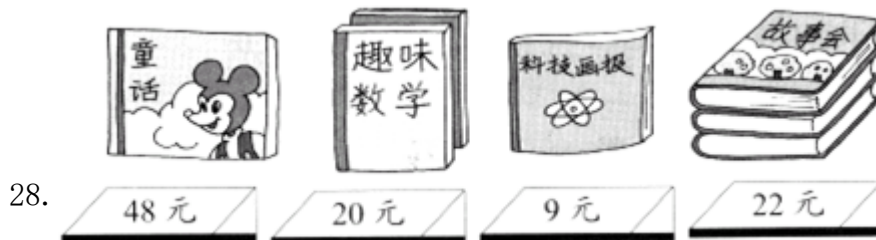


(1) 我可能买\_\_\_\_\_，列式：\_\_\_\_\_

(2) 可能买\_\_\_\_\_，列式：\_\_\_\_\_

(3) 也可能买\_\_\_\_\_，列式：\_\_\_\_\_

27. 小兰做红花和黄花一共 15 朵，红花有 9 朵，黄花有几朵？



(1) 小红买一本《科技画报》，她付了 50 元，应找给她多少钱？

(2) 小华带了 50 元钱，可以买哪两本书？

(3) 你还能提出什么问题？


29. 一（1）班的小朋友去植树。



他们还要植多少棵树？


30. 小红和小明吃了 9 个苹果，还剩 30 个，一共有多少个苹果？



31. 商店进来  玩具 13 只，卖出 8 只，现在还有多少只没卖？

32. 元旦到了，王老师准备了 15 份礼物，已经送出了 8 份，小红得到了 2 份，还剩多少份礼物没有送出？

33. 一本  共 46 页，小红看了 40 页，还剩多少页没看？

34. 母鸡捉了 16 条虫子，小  捉到了 12 条，它们一共捉了多少条？

35. 小文和小东比踢毽子，小文踢了 18 下，小东踢了 9 下。

(1) 小文比小东多踢了多少下？

(2) 小东比小文少踢了多少下？

36. 小丽植了 14 棵树，小文植了 7 棵树，小丽比小文多植多少棵树？小文比小丽少植了多少棵树？

37. 逛商场。



28元



35元



32元



65元

(1) 买一件T恤付2张20元，应找回多少元？

(2) 买哪两样物品正好用100元？

(3) 请你再提出一个数学问题并解答。

38. 3路公共汽车上有42人，停靠一个站后下去10人，又上来8人。公共汽车上现在有多少人？

39. 图书室有78本书，借走8本，还剩多少？

40. 解答题。



8元



6元



4元



3元

(1) 每件物品各买一个，至少要带多少钱？





(2) 用10元钱买了两件物品，买的是什么？(钱正好花完)

41. 小军做了30个，小华做了37个，小军再多少个就和小华同样多？

42. 小军有25本故事书，妈妈又买来8本，小军一共有多少本？

43. 我要洗58件衣服，其中有30件上衣，已经洗了8件，还有多少衣服没有洗？



44. 饲养场共养猫 80 只，有 20 只 ，10 只 ，剩下的是 ，  
 有多少只？

45. 小英比小强多写了几个大字？



$$\square \square \square = \square \quad ( \quad )$$

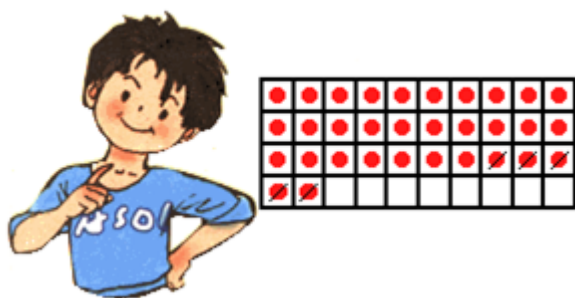
答：小英比小强多写了 ( ) 个大字。

46. 兔子们拔了 18 根萝卜，吃了 9 根，又拔了 6 根。现在有多少根萝卜？

47. 树上结了许多桃子。小猴摘了 9 个，还剩 45 个，树上原来有多少个桃子？

$$\square \square = \square \quad (\text{个})$$

48. 明明有 32 颗弹珠，他拿出 5 颗送给了小胖。他还剩下几颗弹珠？




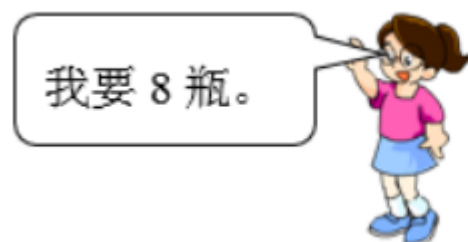
49. 小红和小田一起踢毽子，小红踢了 5 下，小田踢了 13 下，小田比小红多踢了多少下？

50. 池塘里有 15 只鸭子，有 9 只是白鸭子。游走了 8 只，池塘里还有多少只鸭子？

$$\square \square \square = \square \quad (\text{只})$$

答：池塘里还有（     ）只鸭子。

51. 箱子里有 24 瓶矿泉水。还剩下多少瓶？



$$\square \bigcirc \square \square = \square \text{ (瓶)}$$

52. 我拿了 35 根跳绳，发给我们班同学，每人发一根还少 7 根。我们班有多少人？

53. 青青练习毛笔字，已经写了 36 个，还剩下 6 个没写，她一共要写多少个毛笔字？

$$\square \bigcirc \square = \square \text{ (个)}$$

答：她一共要写（     ）个毛笔字。

54. 妈妈带了 90 元，买鞋子花了 56 元，她还想买一条 33 元的裤子，钱够吗？



55.

以上内容仅为本文档的试下载部分，为可阅读页数的一半内容。如要下载或阅读全文，请访问：

<https://d.book118.com/336040030222010132>