

# 邵阳市第二中学 2022 级高三第一次月考数学试卷

时间：120 分钟 满分：150 分

一、单选题（本题共 8 小题，每小题 5 分，共 40 分。在每小题给出的四个选项中，只有一项是符合题目要求的）

1. 若非空集合  $A, B$  满足  $A \subset B$ ， $U$  为全集，则下列集合中表示空集的是（ ）

- A.  $A \cap B$  ;                      B.  $\bar{A} \cap B$  ;                      C.  $A \cap \bar{B}$  ;                      D.  $A \cap \bar{A}$  .

2.  $\sin 40^\circ (\tan 10^\circ - \sqrt{3}) =$

- A.  $-\frac{1}{2}$                       B.  $-1$                       C.  $\frac{\sqrt{3}}{2}$                       D.  $-\frac{\sqrt{3}}{3}$

3. 已知函数  $y = f\left(\frac{1}{2}x + 1\right)$  的定义域是  $[2, 4]$ ，则函数  $g(x) = \frac{f(x)}{\ln(x-2)}$  的定义域为（ ）

- A.  $(2, 3)$                       B.  $(2, 3]$   
 C.  $(2, 3) \cup (3, 6]$                       D.  $(2, 3) \cup (3, 4]$

4. 下列求导数计算错误的是（ ）

- A.  $\left(\frac{1}{x}\right)' = -\frac{1}{x^2}$                       B.  $\left(\frac{x^2}{e^x}\right)' = \frac{x^2 - 2x}{e^x}$   
 C.  $(x \ln x)' = 1 + \ln x$                       D.  $(\tan x)' = \frac{1}{\cos^2 x}$

5. 苏格兰数学家纳皮尔 (*J. Napier*, 1550-1617) 发明的对数及对数表 (如下表), 为当时的天文学家处理“大数”的计算大大缩短了时间. 即就是任何一个正实数  $N$  可以表示成  $N = a \times 10^n$  ( $1 \leq a < 10, n \in \mathbb{Z}$ ), 则

$\lg N = n + \lg a$  ( $0 \leq \lg a < 1$ ), 这样我们可以知道  $N$  的位数. 已知正整数  $M^{31}$  是 35 位数, 则  $M$  的值为( )

$N$	2	3	4	5	11	12	13	14	15
$\lg N$	0.30	0.48	0.60	0.70	1.04	1.08	1.11	1.15	1.18

- A. 3                      B. 12                      C. 13                      D. 14

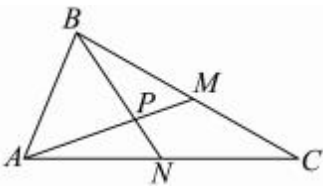
6. 一家商店使用一架两臂不等长的天平称黄金. 一位顾客到店里购买10g 黄金, 售货员先将5g 的砝码放在天平左盘中, 取出一些黄金放在天平右盘中使天平平衡; 再将5g 的砝码放在天平右盘中, 再取出一些黄金

放在天平左盘中使天平平衡；最后将两次称得的黄金交给顾客，你认为顾客购得的黄金（ ）

附：依据力矩平衡原理，天平平衡时有  $m_1L_1 = m_2L_2$ ，其中  $m_1$ 、 $m_2$  分别为左、右盘中物体质量， $L_1$ 、 $L_2$  分别为左右横梁臂长。

- A. 等于10g                      B. 小于10g                      C. 大于10g                      D. 不确定

7. 如图，在  $\triangle ABC$  中，已知  $AB = 2, AC = 5, \angle BAC = 60^\circ$ ， $BC, AC$  边上的两条中线  $AM, BN$  相交于点  $P$ ，求  $\angle MPN$  的余弦值。（ ）



- A.  $\frac{6\sqrt{91}}{91}$                       B.  $\frac{4\sqrt{91}}{91}$                       C.  $\frac{5\sqrt{91}}{91}$                       D.  $\frac{7\sqrt{91}}{91}$

8. 已知直线  $y = kx + b$  是曲线  $y = x^2 - (a + 1)$  的切线，也是曲线  $y = a \ln x - 1$  的切线，则  $k$  的最大值是（ ）

- A.  $\frac{2}{e}$                               B.  $\frac{4}{e}$                               C.  $2e$                               D.  $4e$

**二、多选题（本题共三小题，每小题 6 分，共 18 分。在每小题给出的选项中，有多项符合题目要求的。全部选对的得 6 分，部分选对的得部分分，有选错的得 0 分）**

9. 已知函数  $f(x) = \frac{1}{3}x^3 - x - 1$ ，则（ ）

- A.  $f(x)$  有一个零点                      B.  $f(x)$  的极小值为  $-\frac{5}{3}$   
 C.  $f(x)$  的对称中心为  $(0, 1)$                       D. 直线  $y = -x - 1$  是曲线  $y = f(x)$  的切线

10. 设点  $D$  是  $\triangle ABC$  所在平面内一点， $O$  是平面上一个定点，则下列说法正确的有（ ）

- A. 若  $\overrightarrow{AD} = \frac{2}{3}\overrightarrow{AB} + \frac{1}{3}\overrightarrow{AC}$ ，则  $D$  是  $BC$  边上靠近  $B$  的三等分点  
 B. 若  $\overrightarrow{AD} = \lambda \left( \frac{\overrightarrow{AB}}{|\overrightarrow{AB}| \cos B} + \frac{\overrightarrow{AC}}{|\overrightarrow{AC}| \cos C} \right)$ ， $(\lambda \in \mathbb{R} \text{ 且 } \lambda \neq 0)$ ，则直线  $AD$  经过  $\triangle ABC$  的垂心  
 C. 若  $\overrightarrow{AD} = x\overrightarrow{AB} + y\overrightarrow{AC}$ ，且  $x, y \in \mathbb{R}$ ， $x + y = \frac{1}{2}$ ，则  $\triangle BCD$  是  $\triangle ABC$  面积的一半

D. 若平面内一动点  $P$  满足  $\overrightarrow{OP} = \overrightarrow{OA} + \lambda \left( \frac{\overrightarrow{AB}}{|\overrightarrow{AB}|} + \frac{\overrightarrow{AC}}{|\overrightarrow{AC}|} \right)$ , ( $\lambda \in \mathbb{R}$  且  $\lambda \neq 0$ ), 则动点  $P$  的轨迹一定通过

$\triangle ABC$  的外心 \_\_\_\_\_

11. 设函数  $g(x) = \sin wx$  ( $w > 0$ ) 向左平移  $\frac{\pi}{5w}$  个单位长度得到函数  $f(x)$ , 已知  $f(x)$  在  $[0, 2\pi]$  上有且只有 5 个零点, 则下列结论正确的是 ( )

A.  $f(x)$  的图象关于直线  $x = \frac{\pi}{2}$  对称

B. 在  $(0, 2\pi)$  上, 方程  $f(x) = 1$  的根有 3 个, 方程  $f(x) = -1$  的根有 2 个

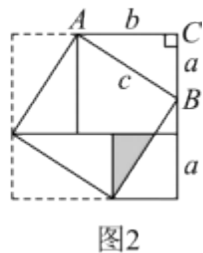
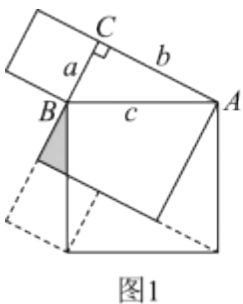
C.  $f(x)$  在  $(0, \frac{\pi}{10})$  上单调递增

D.  $w$  的取值范围是  $(\frac{12}{5}, \frac{29}{10})$

### 三、填空题 (本大题共 3 小题, 每小题 5 分, 共 15 分)

12. 出入相补是指一个平面 (或立体) 图形被分割成若干部分后面积 (或体积) 的总和保持不变, 我国汉代数学家构造弦图, 利用出入相补原理证明了勾股定理, 我国清代的梅文鼎、李锐、华蘅芳、何梦瑶等都通过出入相补原理创造了不同的面积证法证明了勾股定理. 在下面两个图中, 若  $AC = b$ ,  $BC = a$  ( $b \geq a$ ),

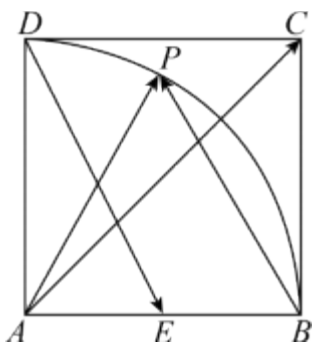
$AB = c$ , 图中两个阴影三角形的周长分别为  $l_1$ ,  $l_2$ , 则  $\frac{l_1 + l_2}{a + b}$  的最小值为 \_\_\_\_\_.



13. 某时钟的秒针端点  $A$  到中心点  $O$  的距离为 5cm, 秒针均匀地绕点  $O$  旋转, 当时间  $t = 0$  时, 点  $A$  与钟面上标 12 的点  $B$  重合, 将  $A, B$  两点的距离  $d$  (cm) 表示成  $t$  (s) 的函数, 则  $d =$  \_\_\_\_\_ 其中  $t \in [0, 60]$ .

14. 如图, 在边长为 1 的正方形  $ABCD$  中,  $E$  为  $AB$  的中点,  $P$  点在正方形内 (含边界), 且  $|\vec{AP}| = |\vec{AB}|$ . ①

若  $|\vec{BP}| = |\vec{AB}|$ ，则  $\vec{AP} \cdot \vec{BP}$  的值是\_\_\_\_\_；②若向量  $\vec{AC} = \lambda \vec{DE} + \mu \vec{AP}$ ，则  $\lambda + \mu$  的最小值为\_\_\_\_\_.



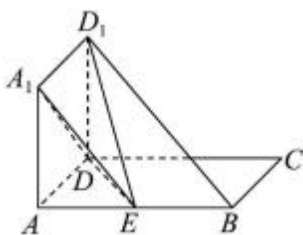
四、解答题（本题共 5 小题，共 77 分，解答应写出文字说明，证明过程或演算步骤）

15. 在  $\triangle ABC$  中，内角  $A, B, C$  的对边分别为  $a, b, c$ ，且  $(12 \sin B - \sin A \cos C)b = a \sin C \cos B$  .

(1) 求  $\frac{b}{a}$  的值；

(2) 若  $a = 6$ ，点  $D$  是线段  $BC$  上的一点， $\angle CAD = \angle BAD$ ， $DA = DC$ ，求  $\cos C$  的值.

16. 如图所示，正方形  $AA_1D_1D$  与矩形  $ABCD$  所在平面互相垂直， $AB = 2AD = 2$ ，点  $E$  为  $AB$  的中点.



(1) 求证： $BD_1 \parallel$  平面  $A_1DE$ ；

(2) 在线段  $AB$  上是否存在点  $M$ ，使二面角  $D_1 - MC - D$  的平面角的大小为  $\frac{\pi}{4}$ ？若存在，求出  $AM$  的长；

若不存在，请说明理由.

17. 已知函数  $f(x) = \frac{e^x}{x} - a(1 - x + \ln x)$ ，其导函数为  $f'(x)$  .

(1) 若  $f(x)$  在  $(1, +\infty)$  不是单调函数，求实数  $a$  的取值范围；

(2) 若  $f(x) \geq 0$  在  $(1, +\infty)$  恒成立，求实数  $a$  的最小整数值. ( $e^2 \approx 7.39$ )

18. 已知函数  $f(x) = x|x - a| + 2$ .

(1) 当  $a = 2$  时，求  $f(x)$  的单调增区间；

(2) 若  $\exists x_1, x_2 \in [0, 2]$ ，使  $|f(x_1) - f(x_2)| > 2$ ，求实数  $a$  的取值范围.

19. 如果数列  $\{a_n\}$  满足： $a_1 + a_2 + a_3 + \dots + a_n = 0$  且  $|a_1| + |a_2| + |a_3| + \dots + |a_n| = 1 (n \geq 3, n \in \mathbb{N}^*)$ ，则称  $\{a_n\}$  为  $n$  阶“归化”数列.

(1) 若某 3 阶“归化”数列  $\{a_n\}$  是等差数列，且单调递增，写出该数列的各项；

(2) 若某 11 阶“归化”数列  $\{a_n\}$  是等差数列，求该数列的通项公式；

(3) 若  $\{a_n\}$  为  $n$  阶“归化”数列，求证  $a_1 + \frac{1}{2}a_2 + \frac{1}{3}a_3 + \dots + \frac{1}{n}a_n \leq \frac{1}{2} - \frac{1}{2n}$ .

# 邵阳市第二中学 2022 级高三第一次月考数学试卷

时间：120 分钟 满分：150 分

一、单选题（本题共 8 小题，每小题 5 分，共 40 分。在每小题给出的四个选项中，只有一项是符合题目要求的）

1. 若非空集合  $A, B$  满足  $A \subset B$ ， $U$  为全集，则下列集合中表示空集的是（ ）

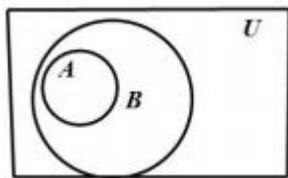
- A.  $A \cap B$ ；                      B.  $\bar{A} \cap B$ ；                      C.  $\bar{A} \cap \bar{B}$ ；                      D.  $A \cap \bar{B}$ 。

【答案】D

【解析】

【分析】根据 *venn* 图，对各个选项逐一分析，即可求得正确答案。

【详解】根据 *venn* 可以看出



对 A， $A \cap B = A \neq \emptyset$ ；

对 B， $\bar{A} \cap B = B \neq \emptyset$ ；

对 C， $\bar{A} \cap \bar{B} \neq \emptyset$ ；

对 D， $A \cap \bar{B} = \emptyset$ 。

故选：D

2.  $\sin 40^\circ (\tan 10^\circ - \sqrt{3}) =$

- A.  $-\frac{1}{2}$                       B.  $-1$                       C.  $\frac{\sqrt{3}}{2}$                       D.  $-\frac{\sqrt{3}}{3}$

【答案】B

【解析】

【分析】利用三角函数的切化弦及化一公式、诱导公式化简即可求解。

【详解】解：  $\sin 40^\circ (\tan 10^\circ - \sqrt{3}) =$

$$= \sin 40^\circ \left( \frac{\sin 10^\circ}{\cos 10^\circ} - \sqrt{3} \right)$$



以上内容仅为本文档的试下载部分，为可阅读页数的一半内容。如要  
下载或阅读全文，请访问：

<https://d.book118.com/348076072042006120>