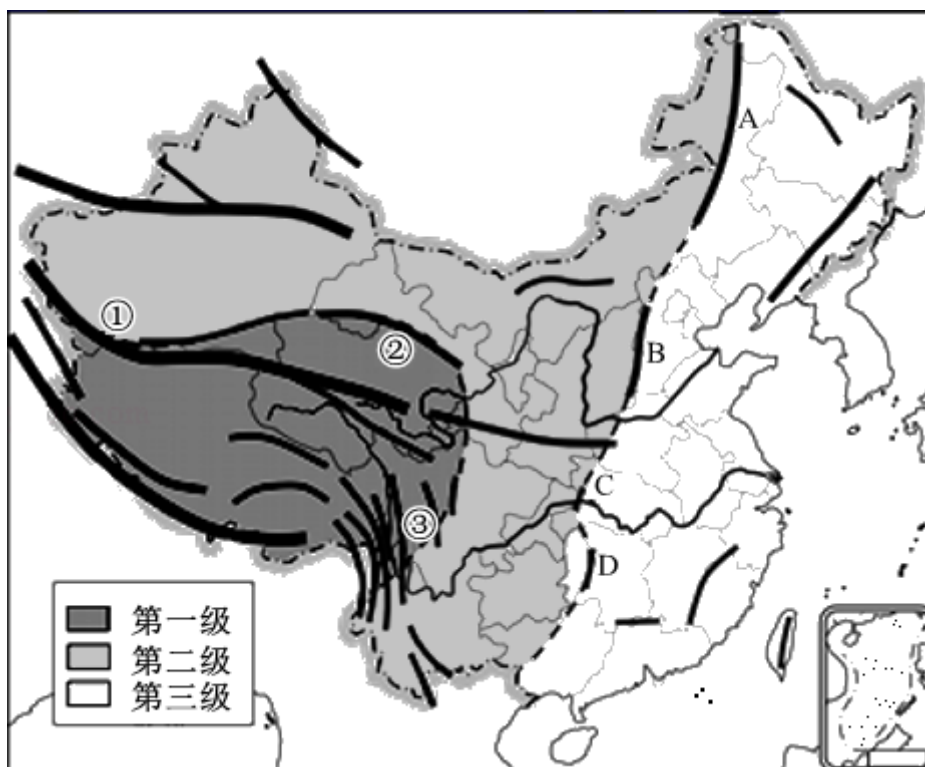


专题 07 地形特征和主要地形区



经典基础题

(2021·全国·八年级期末) 读“中国地势三级阶梯示意图”，完成下列题。

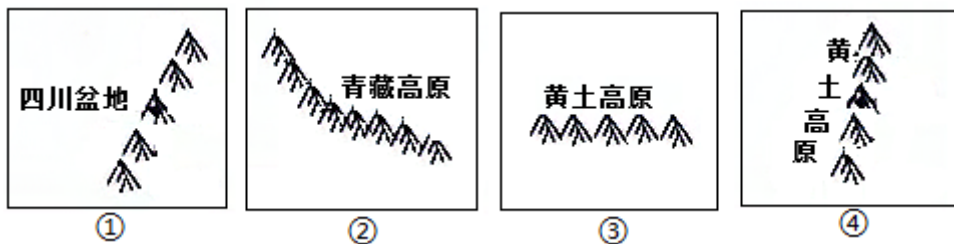


1. A 处山脉东西两侧的地形区分别是 ()
A. 黄土高原、华北平原
B. 四川盆地、长江中下游平原
C. 东北平原、内蒙古高原
D. 华北平原、黄土高原
2. 读图判断 ()
A. ①- ②- ③一线是地势第一级阶梯与第三级梯分界线
B. A- B- C- D 一线是地势第二级阶梯与第三级阶梯分界线
C. 我国地势东高西低，呈阶梯状分布
D. 受地势影响我国第三级阶梯水能资源最丰富
3. 图中①处分布山脉是 ()
A. 太行山脉
B. 大兴安岭
C. 横断山脉
D. 昆仑山脉
4. (2021·河北古冶·八年级期末) 下图省级行政区及相关山脉叙述正确的是 ()



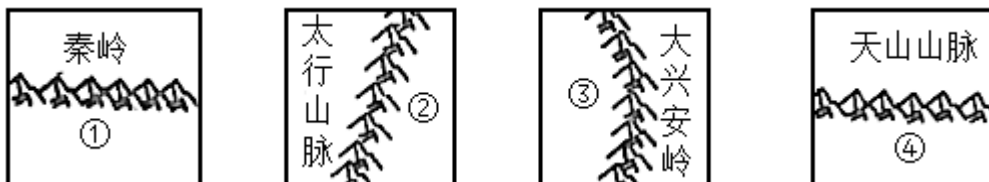
- A. ①西藏自治区，喜马拉雅山 B. ②福建省，武夷山
C. ③陕西省，太行山 D. ④湖南省，巫山

(2021·广东郁南·七年级期末) 读“我国部分山脉分布示意图”，完成下面小题。



5. 长江、黄河共同发源地位于 ()
A. ① B. ② C. ③ D. ④
6. 我国地势第二、三级阶梯的分界线经过的山脉是 ()
A. ①② B. ②③ C. ①④ D. ③④
7. 我国 1 月均温 0°C 等温线经过的山脉是 ()
A. ① B. ② C. ③ D. ④
8. 我国的首都所处的地形区位于 ()
A. ① B. ② C. ③ D. ④

(2021·全国·八年级期末) 我们伟大的祖国，疆域辽阔，自然差异大，人文风情多样，无论从哪个角度看，都有她的美丽。我国不同走向的山脉，就像大地上隆起的一根根脊梁。读下图，完成下面小题。



9. 图中四列山脉中，既是地形区分界线，又是地势三级阶梯分界线，还是省级行政区的分界线的是 ()
A. 秦岭 B. 太行山脉 C. 大兴安岭 D. 天山山脉
10. 太行山脉东西两侧的地形区分别是 ()
A. 黄土高原和华北平原 B. 汾渭平原和海河平原
C. 华北平原和黄土高原 D. 长江中下游平原和四川盆地

以上内容仅为本文档的试下载部分，为可阅读页数的一半内容。如要下载或阅读全文，请访问：<https://d.book118.com/348122130141006124>