

2024 届河北省邢台市科目一模拟考试 100 题加解析答案

1、已持有 C2 准驾车型驾驶证申请增加 C1 准驾车型的，应当考试科目二和科目三。

A、正确

B、错误

正确答案：A

分析：《机动车驾驶证申领和使用规定》规定：机动车驾驶人考试内容分为道路交通安全法律、法规和相关知识考试科目（以下简称“科目一”）、场地驾驶技能考试科目（以下简称“科目二”）、道路驾驶技能和安全文明驾驶常识考试科目（以下简称“科目三”）。已持有小型自动挡汽车准驾车型驾驶证申请增加小型汽车准驾车型的，应当考试科目二和科目三。已持有大型客车、城市公交车、中型客车、大型货车、小型汽车、小型自动挡汽车准驾车型驾驶证申请增加轻型牵引挂车准驾车型的，应当考试科目二和科目三安全文明驾驶常识。已持有轻便摩托车准驾车型驾驶证申请增加普通三轮摩托车、普通二轮摩托车准驾车型的，或者持有普通二轮摩托车驾驶证申请增加普通三轮摩托车准驾车型的，应当考试科目二和科目三。已持有大型客车、重型牵引挂车、城市公交车、中型客车、大型货车、小型汽车、小型自动挡汽车准驾车型驾驶证的机动车驾驶人身体条件发生变化，不符合所持机动车驾驶证准驾车型的条件，但符合残疾人专用小型自动挡载客汽车准驾车型条件，申请变更的，应当考试科目二和科目三。

2、申请人以欺骗、贿赂等不正当手段取得机动车驾驶证的（被撤销的），申请人在多长时间内不得再次申领机动车驾驶证。

A、6 个月

B、1 年

C、2 年

D、3 年

正确答案：D

分析：正确答案：D 以欺骗、贿赂等不正当手段取得机动车驾驶证的（被撤销的），3 年内不得再次申领。

3、交通信号灯由红灯、绿灯和黄灯组成

A、正确

B、错误

正确答案：A

分析：嗯，目前我还没见到过其他颜色的灯。

4、小李驾车经转弯路段时，因操作不当造成车辆倾翻，导致其昏迷，此时路过的行人应该怎么做？

A、连续拍打伤员面部

B、抢救前先检查呼吸

C、马上实施心肺复苏

D、使劲掐伤员的人中

正确答案：B

分析：抢救昏迷的伤员时，应先确认伤员的生命体征，也就是先检查呼吸，然后再根据情况进行施救。

5、驾驶小型载客汽车在高速公路上时速超过 100 公里时的跟车距离是多少？

A、保持 50 米以上

B、保持 60 米以上

C、保持 80 米以上

D、保持 100 米以上

正确答案：D

分析：机动车在高速公路上行驶，车速超过每小时 100 公里时，应当与同车道前车保持 100 米以上的距离，

6、在道路上驾驶机动车与对向来车会车时，可以不注意两车横向间距。

A、正确

B、错误

正确答案：B

分析：在道路上驾驶机动车与对向来车会车时，要注意保持足够的安全横向间距，做到“礼让三先”，即先让、先慢、先停，并注意非机动车和来往行人。

7、这个标志的含义是提醒车辆驾驶人前方是过水路面或漫水桥路段。



A、正确

B、错误

正确答案：A

分析：警告标志过水路面，应当减速慢行。用以提醒车辆驾驶人谨慎慢行。设在过水路面或漫水桥路段以前适当位置。

8、打开机动车车门时，不得妨碍其他车辆和行人通行。

A、正确

B、错误

正确答案：A

分析：这个没有问题。

9、对驾驶人开展日常教育是增强驾驶人社会责任意识，提高安全文明素质的重要手段。

A、正确

B、错误

正确答案：A

分析：增强驾驶人安全文明意识，对驾驶人开展日常教育是增强驾驶人社会责任意识、提高

安全文明素质的重要手段。本题正确，选对。

10、机动车仪表板上（如图所示）这个符号表示什么？



- A、一边车门开启
- B、行李舱开启
- C、发动机舱开启
- D、燃油箱盖开启

正确答案：B

分析：后边为行李舱，前边为发动机舱。

11、车辆行至泥泞或翻浆路段时，应停车观察，选择平整、坚实的路段缓慢通过。

- A、正确
- B、错误

正确答案：A

分析：常识题，注意选择比较坚硬的地方通行，不要选择泥泞地方。

12、驾驶人出现以下哪种情况时，不得驾驶机动车？

- A、驾驶证丢失、损毁
- B、驾驶证接近有效期
- C、记分达到10分
- D、记分达到6分

正确答案：A

分析：《道路交通安全法实施条例》规定：机动车驾驶人在机动车驾驶证丢失、损毁、超过有效期或者被依法扣留、暂扣期间以及记分达到12分的，不得驾驶机动车。

13、这个标志的含义是提醒车辆驾驶人前方是无人看守铁路道口。



A、正确

B、错误

正确答案：B

分析：警告标志有人看守铁道口。用以警告车辆驾驶人注意慢行或及时停车。设在车辆驾驶人不易发现的道口以前适当位置。

14、服用国家管制的精神药品可以短途驾驶机动车。

A、正确

B、错误

正确答案：B

分析：涉嫌服用国家管制的精神药品、麻醉药品后不得驾驶机动车。

15、驾驶机动车在隧道内行驶，遇前方车速过慢时，可选择合适的时机超车通过。

A、正确

B、错误

正确答案：B

分析：隧道内严禁超车超速。

16、这个导向箭头是何含义？



- A、指示前方可左转或掉头
- B、指示前方可直行或左转
- C、指示前方可直行或掉头
- D、指示前方直行向左变道

正确答案：C

分析：直行或者掉头都可以

17、超过机动车驾驶证有效期一年以上未换证被注销，但未超过 2 年的，机动车驾驶人应当如何恢复驾驶资格？

- A、参加道路交通安全法律、法规和相关知识考试合格后
- B、参加场地考试合格后
- C、参加道路驾驶技能考试合格后
- D、参加安全文明驾驶常识考试合格后

正确答案：A

分析：《机动车驾驶证申领和使用规定》被注销机动车驾驶证未超过两年的，机动车驾驶人考试科目一合格后，可以恢复驾驶资格。

18、在高速公路变更车道时，应提前开启转向灯，观察情况，确认安全后，驶入需要变更的车道。

A、正确

B、错误

正确答案：A

分析：安全第一，没问题。

19、这个标志是何含义？



A、两侧变窄

B、右侧变窄

C、左侧变窄

D、宽度变窄

正确答案：C

分析：左侧变窄：用以警告车辆驾驶人注意前方车行道或路面狭窄情况，遇有来车应予减速避让。设在双车道路面宽度缩减为6 m以下的路段起点前方。

20、驾驶机动车与行人之间发生交通事故造成人身伤亡、财产损失的，机动车一方没有过错的，由行人自行承担责任的。

A、正确

B、错误

正确答案：B

分析：行人故意，不负责人；其余情况，有无过错皆要负责。

21、驶近一个设有信号灯的路口，遇到如图所示信号灯亮着，但有行人通过，应该怎么做？



- A、从行人的前方绕行通过路口
- B、在停止线以外停车等待行人通过
- C、鸣喇叭告知行人停止通过路口
- D、可从两个行人中间低速缓慢穿过

正确答案：B

分析：驾驶机动车接近人行横道线时，提前减速观察，注意观察人行横道左右两侧是否有行人通行，随时准备停车礼让行人，即使行人出现不遵守交通规则的行为，驾驶人也要做到文明礼让，优先保证行人的安全。

22、驾驶人在道路上醉酒驾驶机动车的处3年以上有期徒刑。

- A、正确
- B、错误

正确答案：B

分析：我国《道路交通安全法》第91条明文规定：醉酒后驾驶机动车的，由公安机关交通管理部门约束至酒醒，处十五日以下拘留和暂扣三个月以上六个月以下机动车驾驶证，并处五百元以上二千元以下罚款。

23、以下交通标志表示的含义是什么？



- A、禁止机动车驶入
- B、禁止小客车驶入
- C、禁止所有车辆驶入
- D、禁止非机动车驶入

正确答案：A

分析：记住就可以了，图标是什么？去“交通标志”里学习一遍吧。

24、这个标志是何含义？



- A、禁止小型车行驶
- B、机动车行驶
- C、只准小型车行驶
- D、不准小型车通行

正确答案：B

分析：看到小汽车你应该想到的是机动车行驶。

25、在这个位置时怎样使用灯光？



- A、开启左转向灯
- B、开启右转向灯
- C、开启危险报警闪光灯
- D、开启前照灯

正确答案：A

分析：这是高速公路匝道你从匝道上高速，必须打左转向灯

26、路中心黄色虚线的含义是分隔对向交通流，在保证安全的前提下，可越线超车或转弯。



- A、正确
- B、错误

正确答案：A

分析：黄色虚线是中心线，可以跨越；黄色单实线就已经不能跨越了；黄色双实线是严格禁止压线或者跨越

27、机动车驾驶人在实习期内驾驶机动车不得牵引挂车。

- A、正确

B、错误

正确答案：A

分析：识题，小车都开不好，还要牵引挂车，安全第一。

28、以下选项中，车身电子稳定控制系统的英文缩写是什么？

A、GPS

B、ESP

C、LDW

D、ACC

正确答案：B

分析：车身电子稳定系统（ESP），是对旨在提升车辆的操控表现的同时、有效地防止汽车达到其动态极限时失控的系统或程序的通称。电子稳定程序能提升车辆的安全性和操控性。

29、醉酒驾驶机动车在道路上行驶会受到以下哪种处罚？

A、处2年以下徒刑

B、5年内不得重新获取驾照

C、处2年以上徒刑

D、处管制，并处罚金

正确答案：B

分析：《道路交通安全法实施条例》第九十一条，饮酒后驾驶机动车的，处暂扣六个月机动车驾驶证，并处一千元以上二千元以下罚款。因饮酒后驾驶机动车被处罚，再次饮酒后驾驶机动车的，处十日以下拘留，并处一千元以上二千元以下罚款，吊销机动车驾驶证。醉酒驾驶机动车的，由公安机关交通管理部门约束至酒醒，吊销机动车驾驶证，依法追究刑事责任；五年内不得重新取得机动车驾驶证。【醉5】饮酒后驾驶营运机动车的，处十五日拘留，并处五千元罚款，吊销机动车驾驶证，五年内不得重新取得机动车驾驶证。

30、如图所示，在这种情况下只要后方、对向无来车，可以掉头。



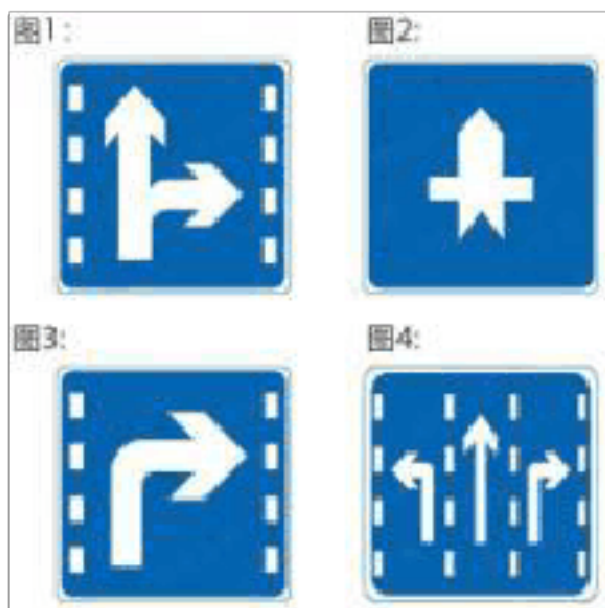
A、正确

B、错误

正确答案：B

分析：道路中央分隔线是实线，不能超车、不能掉头。

31、以下哪个标志，指示车辆直行和右转合用车道？



A、图 1

B、图 2

C、图 3

D、图 4

正确答案：A

分析：记住就可以了，其他图标是什么？去“交通标志”里学习一遍吧。

32、这个标志是何含义？



- A、高速公路收费站预告
- B、高速公路服务区预告
- C、高速公路避险处预告
- D、高速公路客车站预告

正确答案：B

分析：服务如此之多肯定是服务区，还是在高速上的

33、这个标志是何含义？



- A、高速公路公用电话
- B、高速公路报警电话
- C、高速公路紧急电话
- D、高速公路救援电话

正确答案：C

分析：要认真看图，牌子上面有：救援字样的，旁边放有电话的就是救援电话；如果没有那俩个字的话那就是“紧急电话”。。亲，牢记

34、驾驶机动车在高速公路上行驶时，应尽可能避免与其他车辆长时间并行。

A、正确

B、错误

正确答案：A

分析：长时间与其他车辆并排行驶，是一件非常危险的事情，特别是在高速公路上，车速较快，邻道车辆发生突发情况，很容易引发事故以及被事故所波及。本题描述正确。

35、变更车道时只需开启转向灯，便可迅速转向驶入相应的行车道。

A、正确

B、错误

正确答案：B

分析：先开转向灯后观察才可以使入车道

36、在本记分周期内或者上一个记分周期内，机动车驾驶人有二次以上参加满分教育记录的，不得参加学法减分。

A、正确

B、错误

正确答案：A

分析：《道路交通安全违法行为记分管理办法》规定,机动车驾驶人申请接受交通安全教育扣减交通违法行为记分的，公安机关交通管理部门应当受理。但有以下情形之一的，不予受理：（一）在本记分周期内或者上一个记分周期内，机动车驾驶人有二次以上参加满分教育记录的；（二）在最近三个记分周期内，机动车驾驶人因造成交通事故后逃逸，或者饮酒后驾驶机动车，或者使用伪造、变造的机动车号牌、行驶证、驾驶证、校车标牌，或者使用其他机动车号牌、行驶证，或者买分卖分受到过处罚的；（三）机动车驾驶证在实习期内，或者机动车驾驶证逾期未审验，或者机动车驾驶证被扣留、暂扣期间的；（四）机动车驾驶人名下有安全技术检验超过有效期或者未按规定办理注销登记的机动车的；（五）在最近三个记分周期内，机动车驾驶人参加接受交通安全教育扣减交通违法行为记分或者机动车驾驶人满分教育、审验教育时，有弄虚作假、冒名顶替记录的。

37、驾驶机动车通过铁路道口时，最高速度不能超过多少？

- A、15 公里/小时
- B、20 公里/小时
- C、30 公里/小时
- D、40 公里/小时

正确答案：C

分析：凡是题目中没有说是在高速路上，而行驶有麻烦的都是选 30 公里，如果是高速路，题目中有“能见度小于 200 米”，答案就选 60 公里，同样的，看到“能见度小于 100 米”就选“50 米”，“能见度小于 50 米”就选“20 公里”。

38、驾驶机动车下长坡时，利用惯性滑行可以减少燃油消耗，值得提倡。

- A、正确
- B、错误

正确答案：B

分析：发动机制动是利用发动机的牵阻作用减慢车速，档位越低牵阻越明显，制动性越强。在下长坡道路行驶，挂入低速档利用发动机的牵阻作用可以减少制动器的负担和减少制动次数，防止制动过热引起制动力热衰减；在冰雪、泥泞的路面上行驶，应用发动机牵阻制动可以防止侧滑。

39、在这种路口怎样进行掉头？



- A、在人行横道上掉头
- B、进入路口后掉头
- C、从右侧车道掉头
- D、从中心线虚线处掉头

正确答案：D

分析：有交通信号灯的路口是不会准许你进入路口掉头的，选B的应该会有吧，记住了应该选D。虚线位置就是给你压的，在那里掉头是对的。

40、在学习驾驶证明有效期内，申请人科目三道路驾驶技能考试五次考试不合格，已考试合格的其他科目成绩作废。

A、正确

B、错误

正确答案：A

分析：《机动车驾驶证申领和使用规定》规定：在学习驾驶证明有效期内，科目二和科目三道路驾驶技能考试预约考试的次数分别不得超过五次。第五次考试仍不合格的，已考试合格的其他科目成绩作废。

41、机动车仪表板上(如图所示)亮表示什么？



A、前雾灯打开

B、后雾灯打开

C、前照进光灯打开

D、前照远光灯打开

正确答案：B

分析：前雾灯朝左，后雾灯朝右。

42、代替实际机动车驾驶人参加审验教育的，由公安机关交通管理部门处二千元以下罚款。

A、正确

B、错误

正确答案：A

分析：《机动车驾驶证申领和使用规定》规定：机动车驾驶人参加审验教育时在签注学习记录、学习过程中弄虚作假的，相应学习记录无效，重新参加审验学习，由公安机关交通管理

部门处一千元以下罚款。代替实际机动车驾驶人参加审验教育的，由公安机关交通管理部门处二千元以下罚款。组织他人实施前两款行为之一，有违法所得的，由公安机关交通管理部门处违法所得三倍以下罚款，但最高不超过二万元；没有违法所得的，由公安机关交通管理部门处二万元以下罚款。

43、已经持有小型自动挡汽车驾驶证，增加小型汽车准驾车型后的 12 个月为实习期。

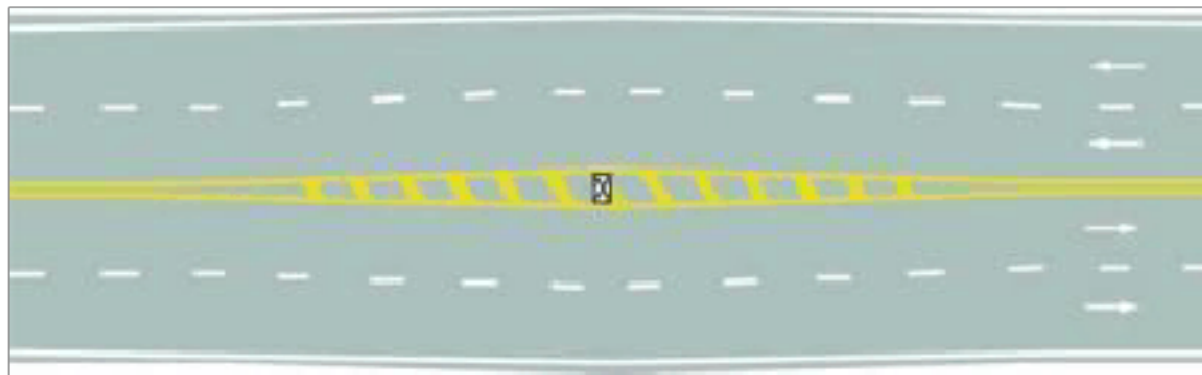
A、正确

B、错误

正确答案：B

分析：《机动车驾驶证申领和使用规定》规定：机动车驾驶人初次取得汽车类准驾车型或者初次取得摩托车类准驾车型后的 12 个月为实习期。持有小型自动挡汽车增驾小型汽车的，不属于初次取得汽车类准驾车型，因此没有 12 个月的实习期。

44、路面上的黄色填充标线是何含义？



A、接近移动障碍物标线

B、加宽隔离带标线

C、接近障碍物标线

D、接近狭窄路面标线

正确答案：C

分析：双黄线就是警告注意越界，“打叉的物体”就是不可移动障碍物。因此选 接近障碍物标线。

45、车辆发生爆胎后，驾驶人在尚未控制住车速前，不要冒险使用行车制动器停车，以避免车辆横甩发生更大的险情。

A、正确

B、错误

正确答案：A

分析：行车制动=制动踏板=脚刹，爆胎后，驾驶人在尚未控制住车速的时候，是不能急踩刹车的，要不然会横甩或者翻车已经后面来车追尾。正确的做法应该是紧握方向盘，控制方向，极力保持直线行驶，利用发动机制动，减档或抢档减速度，轻踏制动踏板缓慢减速，平稳靠边停车。

46、山区狭窄坡路会车时，下坡路的车辆先行，因为下坡速度不好控制更加危险。

A、正确

B、错误

正确答案：B

分析：《道路交通安全法实施条例》第四十八条第三款规定：在山区狭窄的坡路会车时，上坡的一方先行；但下坡的一方已行至中途而上坡的一方未上坡时，下坡的一方先行。因为上坡车由于要克服坡道阻力，必须加大油门，使发动机发出更大的能量和牵引力，一般要一鼓作气才能完成爬坡过程。如果中途减速或停车，就会增加赴困难，甚至车辆要向后溜滑而发生事故。综上，题目说法错误。

47、驾驶机动车在高速公路上遇前方车流行驶缓慢时，以下做法正确的是什么？

A、跟随车流行驶，保持安全车距

B、进入应急车道行驶

C、可以倒车

D、立即停车

正确答案：A

分析：高速公路遇有前方车流行驶缓慢时，应当保持安全车距，跟随车流行驶，不得倒车、停车，以免造成交通事故，更不得违法占用应急车道行驶。所以A选项正确。

48、交通事故的损失是由非机动车驾驶人、行人故意碰撞机动车造成的，机动车一方也要承担赔偿责任。

A、正确

B、错误

正确答案：B

分析：交通事故的损失是由非机动车驾驶人、行人故意造成的，机动车一方不承担责任。

49、驾驶机动车在没有交通信号的路口要尽快通过。

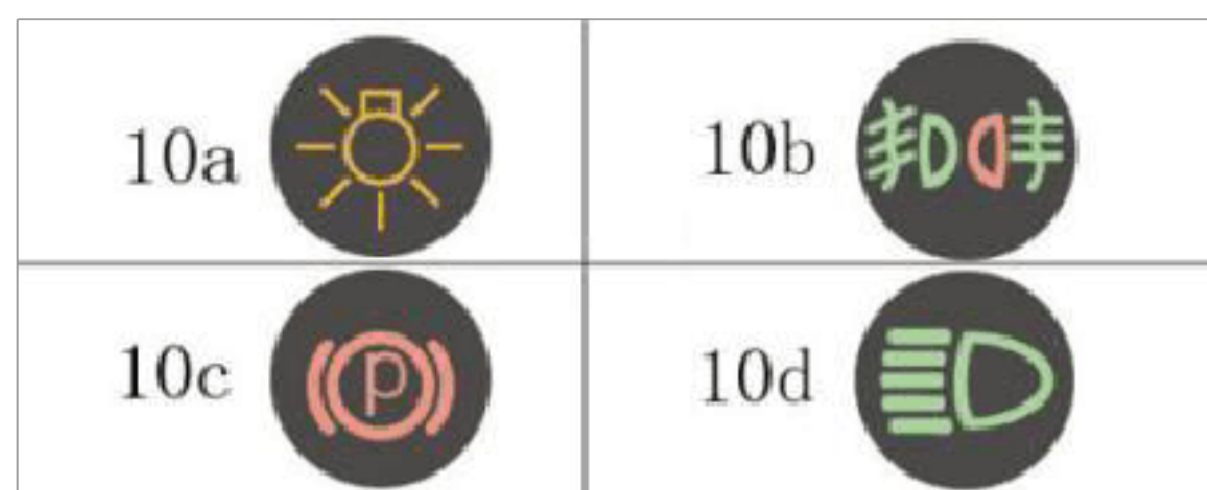
A、正确

B、错误

正确答案：B

分析：一定要注意观察，在通过啊，哪能尽快通过。

50、下列哪个指示灯亮表示车辆在使用远光灯？



A、10a

B、10b

C、10c

D、10d

正确答案：D

分析：C 是驻车指示灯（拉手刹、踩刹车时显示），B 是雾灯，D 是远光灯，A 是啥灯不是很清楚，我的车没有这种灯。

51、连续降雨天气，山区公路可能会出现路肩疏松和堤坡坍塌现象，行车时应选择道路中间坚实的路面，避免靠近路边行驶。

A、正确

B、错误

正确答案：A

分析：请注意，这是山区公路，又是连续降雨天气，如果开外侧，容易掉下悬崖，如果开内侧容易被塌方和落石砸到，这些都是不可控的，你不知道什么时候会发生。而选择在道路中

以上内容仅为本文档的试下载部分，为可阅读页数的一半内容。如要下载或阅读全文，请访问：<https://d.book118.com/356032004031011003>