

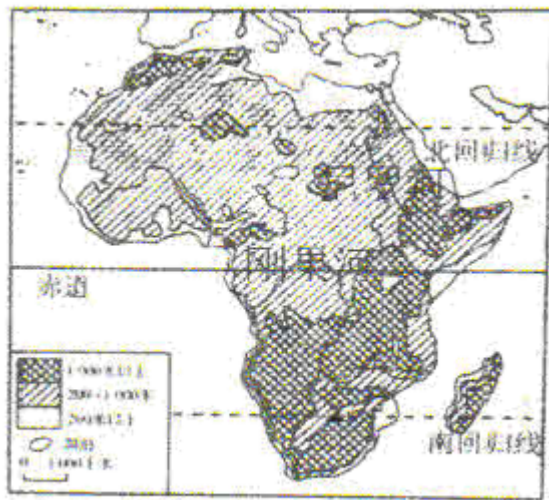
# 聚焦·2022·中考地理·一轮复习

## 专题9 认识大洲：非洲及美洲（专项训练）

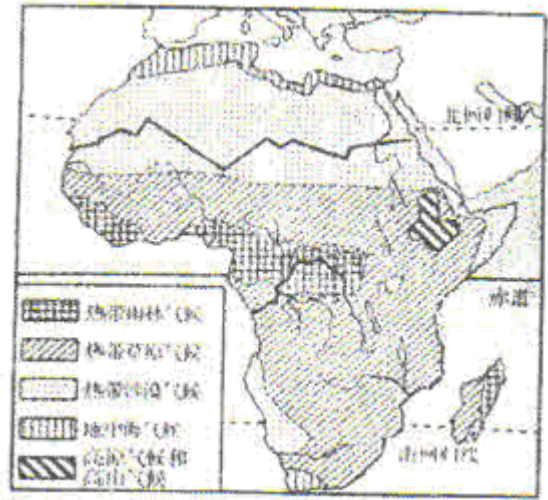
班级\_\_\_\_\_姓名\_\_\_\_\_

### 一、选择题

非洲地域辽阔，有“热带大陆”和“高原大陆”之称，读图完成下面1-2小题。



非洲地形图



非洲气候图

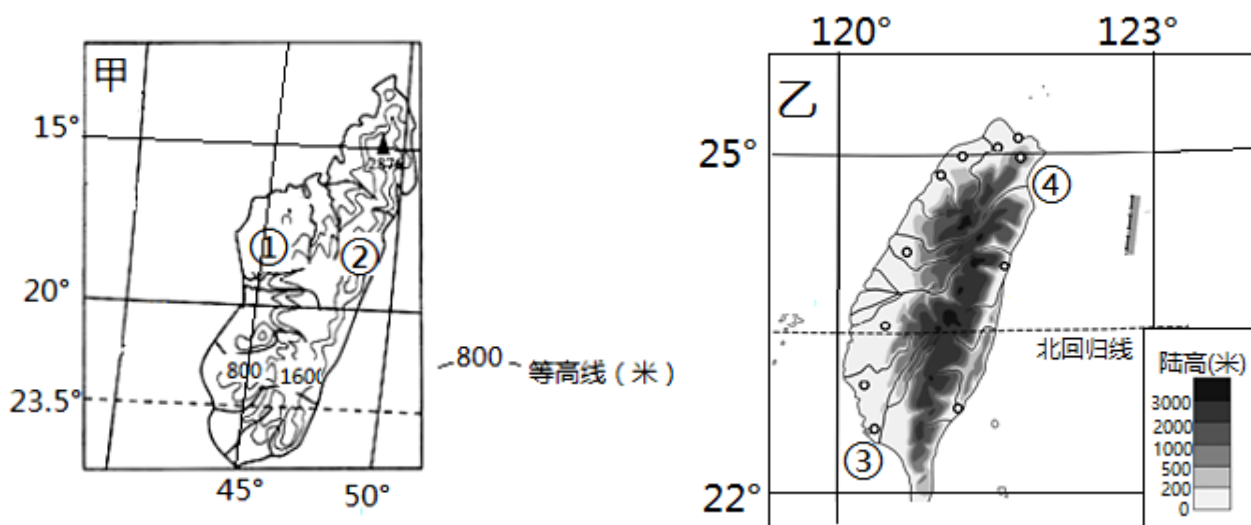
1. 非洲有“热带大陆”之称，图中能支持这一结论的信息是（ ）  
A. 地域辽阔，物产丰富  
B. 半岛、岛屿少，海岸线平直  
C. 大部分位于南北回归线之间  
D. 东临印度洋、西临大西洋
2. 有关非洲地形、气候和河流的说法，正确的是（ ）  
A. 地形以平原为主  
B. 热带沙漠气候分布最广  
C. 地中海气候分布在非洲南北两端  
D. 刚果河水量大，水能贫乏

多肉植物叶小、肉厚，图中的纳马夸兰地区夏季多雾和冬雨使多肉植物疯狂繁殖，其多肉植物出口量已位居世界前列。读图，完成下面3-4小题。

3. 多肉植物叶小、肉厚的原因是（ ）  
A. 昼夜温差大，富含营养物  
B. 气候炎热干燥，储存水分  
C. 降水较多，汁液饱满  
D. 地下水丰富，生长旺盛
4. 纳马夸兰地区的多肉植物出口到世界各地，主要得益于（ ）

- A. 互联网进步      B. 劳动力廉价      C. 政策的支持      D. 交通条件改善

如图为两大岛屿示意图，读图完成下面 5-6 小题。



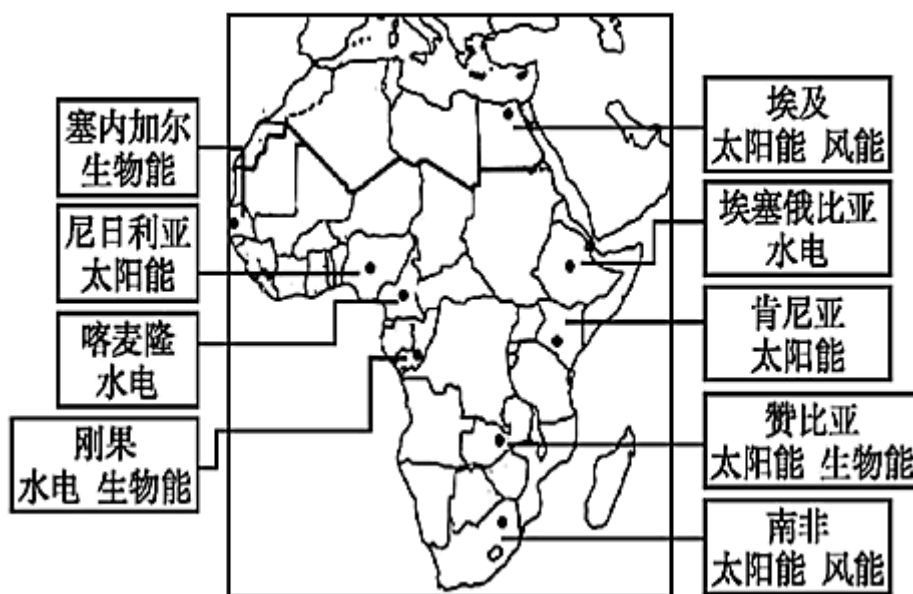
5. 下列关于两大岛屿的叙述，错误的是 ( )

- A. 河流短小，水能丰富      B. 甲岛位于乙岛的西南方向  
C. 两岛均以热带季风气候为主      D. 地势东高西低

6. 晒盐需要气温较高、降水较少的地区，甲、乙岛屿适合晒盐的地区是 ( )

- A. ①②      B. ②④      C. ①③      D. ③④

2020 年 2 月 5 日新华社北京电：2 月 2 日，国家主席习近平致函中非合作论坛非方共同主席国塞内加尔总统萨勒，祝贺中非合作论坛成立 20 周年，并以此为契机，同非洲各国携手努力，推动中非全面战略合作伙伴关系的发展。读图，完成下面 7-8 小题。



以上内容仅为本文档的试下载部分，为可阅读页数的一半内容。如要下载或阅读全文，请访问：<https://d.book118.com/356235051112010220>