

参照秘密级管理★启用前试卷类型：A

泰安市 2024 年初中学业水平考试

地理试题

本试题分第 I 卷（选择题）和第 II 卷（非选择题）两部分，共 8 页，满分 50 分。
考试时间 60 分钟。

注意事项：

1. 答题前，请考生仔细阅读答题卡上的注意事项，并务必按照相关要求作答。
2. 考试结束后，监考人员将本试题和答题卡一并收回。

第 I 卷（选择题共 15 分）

每小题给出的四个选项中，只有一个正确答案。每小题 1 分，共 15 分。

随着科技的进步，车载导航给人们的出行带来了极大的便利。小宇的爸爸乘出租车从杭州富阳站到上城区，下面是车上的车载导航地图。读图完成下面小题。



1. 关于图中信息的表述，正确的是（ ）
 - A. 这次导航的目的地是富阳站
 - B. 图中直线为出行的最短路线
 - C. 到达目的地必须跨过钱塘江
 - D. 上城区位于富阳站的正北方
2. 关于导航提供的三个方案的叙述，正确的是（ ）
 - A. 三个方案中最短路程是 29.3 公里
 - B. 经过的红绿灯最多、费用最高的是方案②
 - C. 经过时代高架路的是方案③
 - D. 距离最短、用时最少、红绿灯最少的是推荐方案①

泰安市某中学初二年级学生分组开展“节日中的地理”实践探究活动。结合图文资料，完成下面小题。

3. 传统节日美食反映当地民俗文化。“地理与美食”小组开展了节日美食制作活动，下列活动为中秋节传统美食制作的是（ ）



4. 脍炙人口的古诗词中蕴含着丰富的地理知识。“地理与诗词”小组搜寻的下列古诗词中，能够在端午节期间看到的景象是（ ）

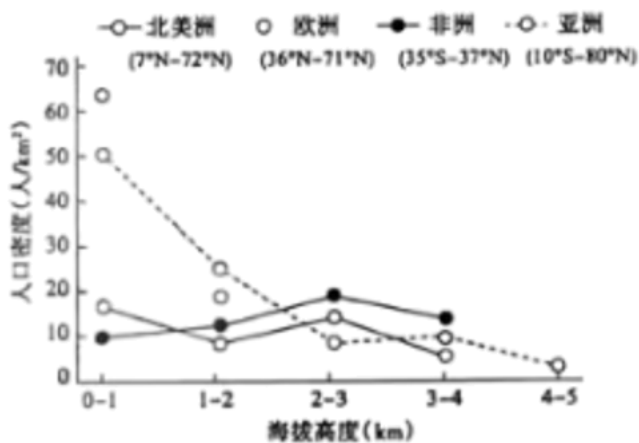
A. 儿童散学归来早，忙趁东风放纸鸢

B. 绿杨带雨垂垂重，五色新丝缠角粽

C. 月落乌啼霜满天，江枫渔火对愁眠

D. 千里黄云白日曛，北风吹雁雪纷纷

5. 读世界四个大洲不同海拔的人口密度分布示意图，下列叙述符合图示信息的是（ ）



A. 亚洲和欧洲的人口稠密区集中在低海拔地区

B. 非洲人口密度最大的区域海拔高度为 1-2km

C. 北美洲 0-1km 海拔区人口密度为 30 人/km²

D. 造成欧洲与非洲人口密度在海拔高度上存在差异的主要因素是海陆因素

6. 海草房以海草为屋顶材料，以石块作为墙体，是山东省沿海地区极具地方特色的生态民居（如图）。下列有关海草房的叙述，不正确的是（ ）



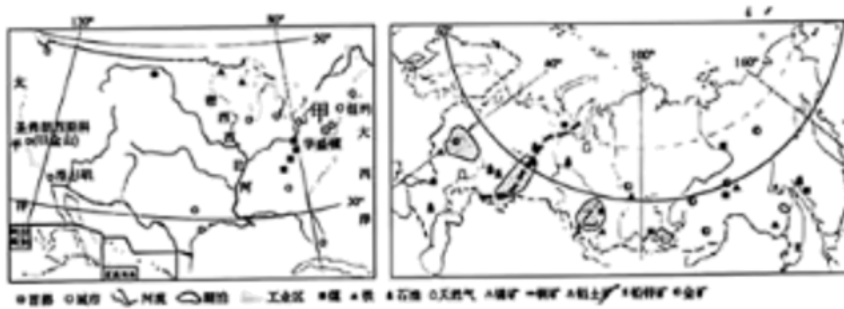
- A. 就地取材用海草作为屋顶材料
- B. 厚实的尖形屋顶便于排雨排雪
- C. 海草房自然村落的减少是因为海陆变迁
- D. 海草房的开发与保护彰显了民俗文化的传承

7. 2024年1月，中国与新加坡、泰国签署互免签证协定后，中国赴东南亚游客大幅增长。下列叙述正确的是（ ）

- ①互免签证是为便两地人们的往来
- ②赴东南亚旅游的主要目的是为了购物
- ③中国游客的到来促进了东南亚旅游业的发展
- ④距离近、语言相通、气候相同是吸引中国游客的优势条件

- A. ①② B. ③④ C. ①③ D. ②④

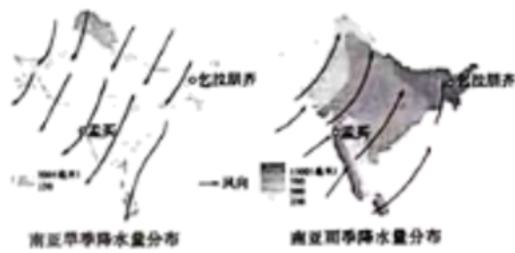
8. 美国和俄罗斯都是世界工业大国，读图结合所学知识，判断下列叙述正确的是（ ）



- ①图中甲、乙工业区发展工业共同的优势条件是矿产资源丰富
- ②俄罗斯乌拉尔工业区主要有石油、钢铁、机械等工业部门
- ③美国旧金山东南部的发展的有利条件是海运便利
- ④两国都是发达国家，经济以重工业为主

- A. ①② B. ③④ C. ②④ D. ①③

9. 气候深受季风影响，读图判断下列叙述正确的是（ ）



- A. 印度旱季受西南季风影响，降水少 B. 印度雨季受东北季风影响，降水多
C. 东北季风不稳定容易造成水旱灾害 D. 西南季风不稳定容易造成水旱灾害

10. 一个城市具有文化价值的著名建筑，往往成为这个城市的符号。下列有关北京符号的叙述，正确的是（ ）

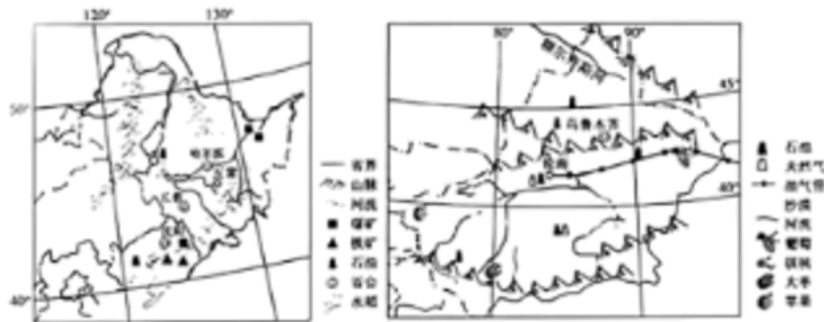
- A. 首都北京的符号是天安门广场、人民大会堂
B. 古城北京的符号是故宫、鸟巢
C. 现代北京的符号是水立方、四合院
D. 科技北京的符号是中关村、长城

11. “普洱景迈山古茶林文化景观”项目于 2023 年 9 月 17 日被列入《世界遗产名录》。读图判断关于普洱景迈山古茶林生长环境及开发利用的叙述，正确的是（ ）



- A. 终年炎热，降水少，适合普洱茶生长
B. 地形以平原为主，地势低平，种植茶树的自然条件优越
C. 为做好古茶林保护，要封山育林，禁止开发
D. 利用《世界遗产名录》资源优势，走茶文旅融合发展之路

东北地区 and 新疆维吾尔自治区地理环境差异显著，读东北地区和新疆简图，完成下面小题。



12. 下列关于东北地区和新疆自然地理特征的叙述，正确的是（ ）

- A. 东北地区比新疆纬度更高，气候更寒冷
- B. 新疆比东北地区距海更远，降水更少，没有外流河
- C. 东北地区和新疆都具有“山环水绕、沃野千里”的山河大势
- D. 新疆和东北地区矿产、森林和水资源等都很丰富

13. 东北地区和新疆农产品品质的共同原因主要是（ ）

- A. 地势高，太阳辐射强
- B. 生长周期长，病虫害少
- C. 降水多，雨热同期
- D. 热量充足，昼夜温差大

14. 以无人机为支撑的新型低空经济，包含物流运输、即时配送、旅游观光（如图）等领域，应用广泛，前景广阔。深圳市大力发展低空经济产业的优势有（ ）



①国家政策扶持②矿产资源丰富③产业基础好④市场需求量大

- A. ①②③
- B. ①③④
- C. ②③④
- D. ①②④

15. 川剧主要流行于川渝云贵地区，昆曲发源于苏州昆山，川剧的高亢与昆曲的细腻形成了鲜明的对比。读图结合所学知识，判断下列叙述正确的是（ ）

以上内容仅为本文档的试下载部分，为可阅读页数的一半内容。

如要下载或阅读全文，请访问：

<https://d.book118.com/358075077042006103>