

2023-2024 学年山东省临沂六中八年级（上）月考地理试卷（10 月份）

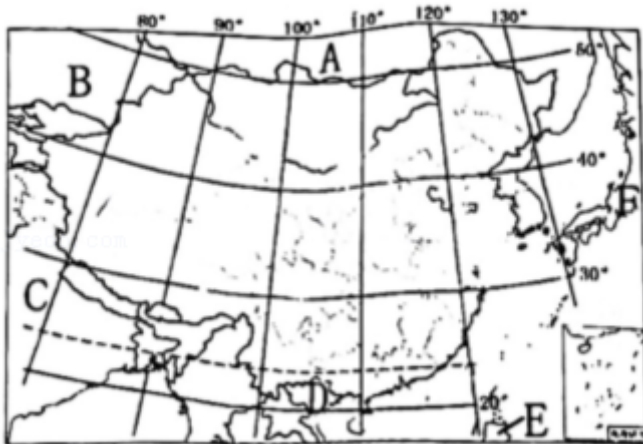
一、单项选择题（本大题包括 35 小题，每小题 4 分，共 70 分。）

如图为某同学在中国地图上填写的中国美食分布示意，据此完成下面小题。



1. 我国少数民族数量最多的省区和我国人口数量最多的少数民族所在省区的特色美食分别是（ ）
 - A. 火锅、螺蛳粉
 - B. 过桥米线、螺蛳粉
 - C. 煎饼、拉面
 - D. 大盘鸡、三杯鸡
2. 特色美食为牦牛肉省区的传统节日是（ ）
 - A. 开斋节
 - B. 雪顿节
 - C. 那达慕节
 - D. 元宵节

伟大的祖国，疆域辽阔，历史悠久，人口众多，物产富饶。读图完成下面小题。



3. 下列关于我国地理位置的叙述，正确的是（ ）
 - A. 地跨南北半球

④社会赡养费用上升

- A. ①②③ B. ①③④ C. ①②④ D. ②③④

8. “全面二孩”政策是继“单独二孩”政策之后的进一步调整和完善。我国调整计划生育政策的主要原因是（ ）

- A. 死亡率逐渐降低，劳动人口增长率提高
B. 人口老龄化加剧，劳动人口增长率降低
C. 人口出生率低，人口自然增长率出现负值
D. 文化教育发展快，人口素质不断提高

云南十八怪一“海鸥也把闹市爱”，作为候鸟的红嘴鸥选择昆明（别称“春城”）周边越冬，与人同乐成为冬日奇观。读“红嘴鸥我国境内迁徙示意图”，完成下面小题。



9. 图中红嘴鸥迁徙停留地位于（ ）

- A. 四川省和山西省
B. 四川省和宁夏回族自治区
C. 云南省和陕西省
D. 云南省和新疆维吾尔自治区

10. 关于红嘴鸥的迁徙线路，说法正确的是（ ）

- A. 由南向北迁徙路线体现我国地势特征从高向低
B. 三条线路途经地区的地形以平原、丘陵为主
C. 三条线路途经地区主要位于我国第二级阶梯
D. 西线走曲线主要是为了绕开干旱的沙漠地带

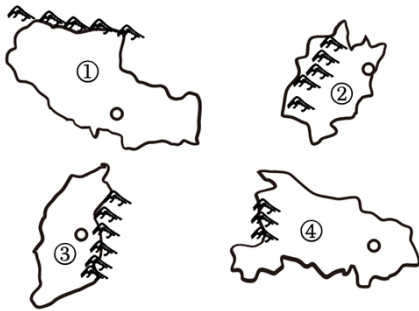
11. 越来越多红嘴鸥选择昆明周边越冬，原因不包括（ ）

- A. 冬季相对温暖，寒潮少
- B. 人们文明观鸟、爱鸟意识不断提高
- C. 湖泊湿地给红嘴鸥提供丰富的食物和庇护场所
- D. 近年来城区不断扩大、高楼增加，给红嘴鸥提供栖息场所

12. (2分) 小明做的暑假旅行攻略中，不可能实现的活动是 ()

- A. 在西安吃肉夹馍
- B. 在内蒙古草原上骑马
- C. 在青藏高原参加泼水节
- D. 在哈尔滨欣赏圣·索菲亚教堂


13. (2分) 读图，以下叙述正确的是 ()



省级行政区轮廓
简图及相关山脉

- A. ①山脉南侧是我国面积最大的盆地
- B. ②山脉是江西省与福建省的分界线
- C. ③山脉属于我国湿润区与半湿润区的分界线
- D. ④山脉属于我国地势第一、二级阶梯的分界线

如图示意中国地势三级阶梯分布 (北纬 36° 剖面)，据此完成下面小题。



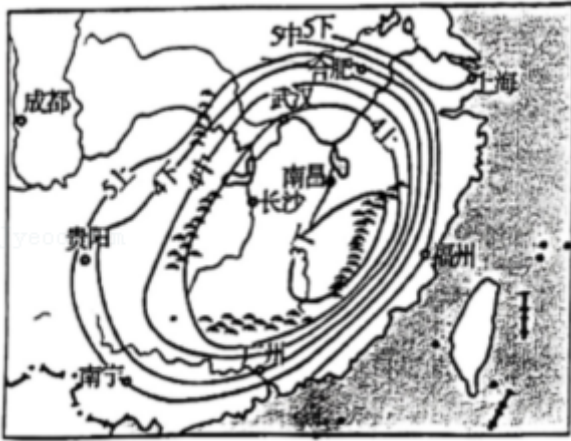
14. 图中①是 ()

- A. 巫山
- B. 太行山
- C. 雪峰山
- D. 祁连山

15. 图中反映我国地势的特点是 ()

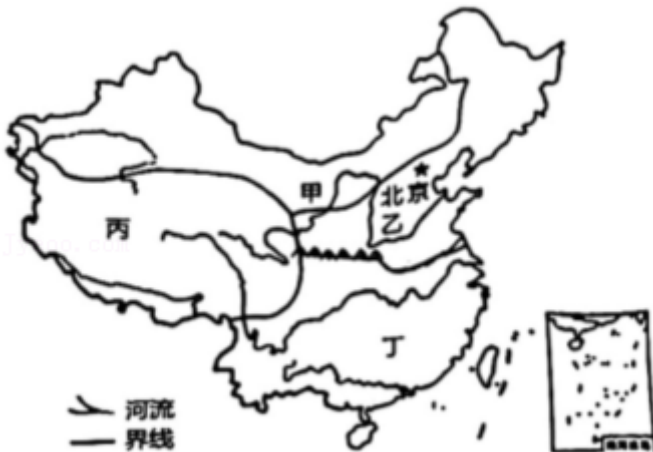
- A. 中部高，四周低
- B. 北高南低
- C. 东高西低
- D. 西高东低

读“我国局部地区春雨开始时间和部分山脉分布图”，如图中“3下”表示3月下旬，“4上”表示4月上旬，以此类推。读图完成下面小题。



16. 图中最早进入春雨期的山脉是 ()
- A. ①南岭
 - B. ②雪峰山
 - C. ③巫山
 - D. ④武夷山
17. “清明时节雨纷纷”所描述的降水时间与下列城市最吻合的是 ()
- A. 武汉
 - B. 合肥
 - C. 上海
 - D. 贵阳

我国疆域辽阔，不同地区的地理环境差异很大，读我国四大地理区域示意图，据此完成下面小题。

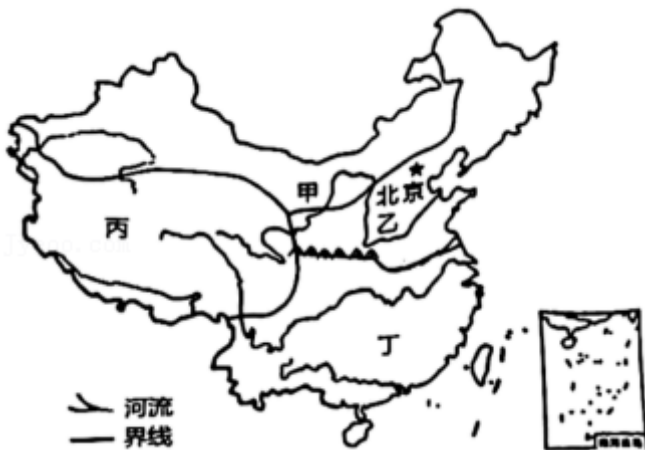


18. 下列关于图中甲地区和乙地区分界线的说法正确的是 ()
- A. 是我国一、二级阶梯的分界线
 - B. 是我国亚热带与暖温带的分界线
 - C. 与我国 400 毫米年等降水量线一致
 - D. 与我国 1 月平均气温 0°C 等温线一致

19. 下列描述与各自的地理环境特征不相符的是 ()

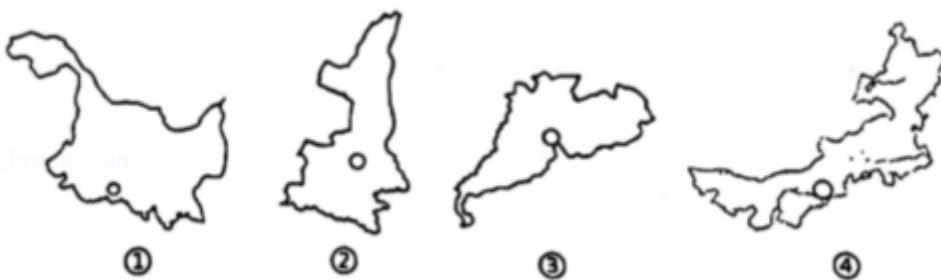
- A. 乙地区居民以面食为主
- B. 丁地区河湖众多，水网密布
- C. 甲地区降水丰富，森林广布
- D. 丙地区海拔高，气候寒冷

20. (2分)《中国诗词大会》点燃了国人对传统文化的热情，某学校地理教师设计了以“春”为关键词的“飞花令”，让学生描述区域景观。下列诗句不符合丁区域景观的是 ()



- A. 草长莺飞二月天，拂堤杨柳醉春烟
- B. 风雨送春归，飞雪迎春到
- C. 春风又绿江南岸，明月何时照我还
- D. 日出江花红胜火，春来江水绿如蓝

“东方第一镇”之称，边境贸易发达。读图回答下，回答下面小题。



21. “东方第一镇”位于 ()

- A. ①图中
- B. ②图中
- C. ③图中
- D. ④图中

22. 边贸市场上集聚的境外商人，最有可能主要来自的国家是 ()

- A. 越南
- B. 俄罗斯
- C. 日本
- D. 韩国

2020年，我国除港、澳、台外，快递量排名前四位的省级行政区依次是粤、浙、苏、鲁，排名后四位的依次是藏、青、宁、新。读“我国省级行政区轮廓图”，完成下面小题。



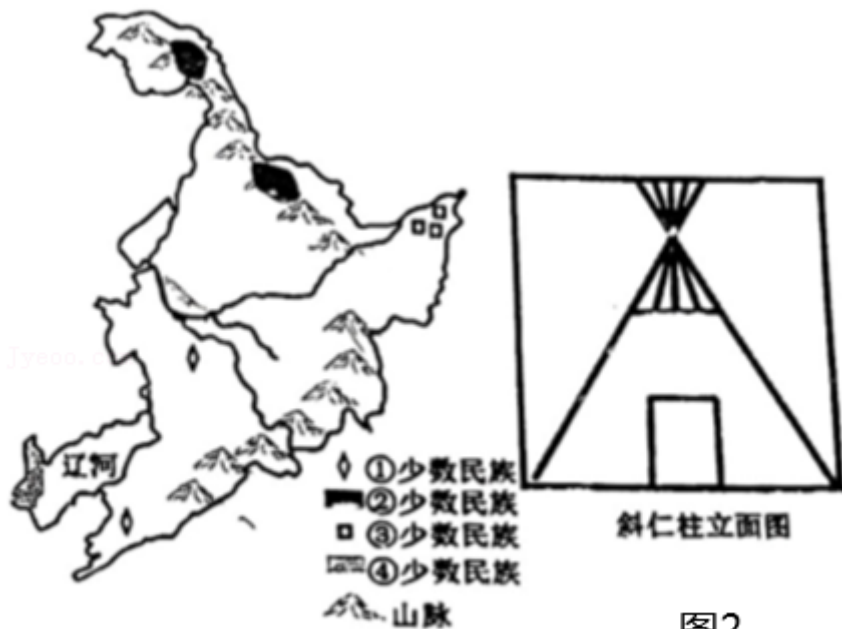
23. 指出 2020 年快递量排名前两位的是 ()
- A. ①② B. ②③ C. ③④ D. ①④
24. 西藏自治区和青海省快递量较少的主要原因可能是 ()
- A. 位于黑河—腾冲一线以西，人口较少，经济欠发达
- B. 位于青藏高原上，海拔高，空气稀薄，快递成本高
- C. 地处我国地势第一级阶梯上，目前还未通铁路
- D. 农牧业发达，自给自足的生活方式导致运输需求小
25. 从图中④省区发出的某快递包裹上印有当地少数民族人物图样，该少数民族最可能是 ()
- A. 蒙古族 B. 藏族 C. 回族 D. 壮族

我国是一个多民族的大家庭，民族文化丰富多彩。读图完成下列小题。



26. 图中序号与其代表的民族和节日匹配正确的是 ()
- A. ①—藏族—长鼓舞
- B. ②—傣族—开斋节
- C. ③—蒙古族—那达慕大会
- D. ④—高山族—雪顿节
27. 关于我国民族的叙述，正确的有 ()
- ①少数民族人口主要分布在东北、西北、东南
- ②各民族不论大小，一律平等
- ③我国尊重和保护少数民族宗教信仰自由
- ④我国共有 56 个少数民族
- ⑤民族分布“大杂居、小聚居、交错居住”
- A. ①③④ B. ①②⑤ C. ③④⑤ D. ②③⑤

“鄂伦春”一词有两种含义，即“使用驯鹿的人”和“山岭上的人”。鄂伦春族的传统民居是便于搭盖的“斜仁柱”。搭盖“斜仁柱”不用钉也不用绳，只用天然树杈，并根据不同的季节选择“斜仁柱”的覆盖物，春至夏初覆盖桦皮，夏季覆盖芦苇帘子，冬季覆盖兽皮。图1示意东北地区赫哲族、回族、鄂伦春族和蒙古族的主要分布区域，图2是“斜仁柱”的结构图。据此完成下面小题。



28. 鄂伦春族对应左图中的 ()
- A. ①少数民族 B. ②少数民族 C. ③少数民族 D. ④少数民族
29. “斜仁柱”的顶端冬夏都不遮盖，主要是为了 ()
- A. 通风采光 B. 增强美观 C. 观测天象 D. 预防积水
30. 根据材料推断鄂伦春族的传统生产方式主要是 ()
- A. 捕鱼 B. 农耕 C. 游牧 D. 狩猎

如图为某地蜂农东线放蜂线路示意图。读图，完成下列小题。



31. 蜂农放蜂线路经过的区域 ()
- A. 主要是我国河流的外流区
 B. 地形以盆地高原为主
 C. 位于我国地势第一阶梯上
 D. 经过高原山地气候区
32. 为了充分利用外地蜜源, 蜂农需要频繁转场放蜂。影响蜂农迁移时间的主要因素是 ()
- A. 地形 B. 降水 C. 气温 D. 市场
33. 蜂农转场过程中, 奔波于各地, 有机会品尝各地美食。我国食材丰富的气候原因是 ()
- A. 气候复杂多样 B. 大陆性气候强
 C. 以热带气候为主 D. 气候终年炎热干燥

“十一”假期过后, 冷空气频繁影响我国, 推进了北方秋冬季节的转换, “你在北方穿貂, 我在南方露腰”一句调侃语道出了南北方气候的差异。据此完成下面小题。

34. “你在北方穿貂, 我在南方露腰”所处季节, 我国气温分布的特点是 ()
- A. 从北向南递减 B. 南北温差大
 C. 从西向东递减 D. 东西部气温相同
35. 相较于秋冬季节多样化的穿衣风格, 我国夏季穿衣风格更趋一致, 最主要的原因是 ()
- A. 地势西高东低, 有利于气温升高
 B. 我国纬度位置很低
 C. 夏季我国各地获得太阳光热普遍较多
 D. 我国各地风俗习惯一致

二、综合题 (本大题包括 3 小题, 共 30 分)

36. (10 分) 读“中国的行政区划简图”, 完成下列问题。



(1) 我国疆域辽阔，东部濒临太平洋，西部深入到亚欧大陆的内部，是一个 _____ 的国家。

(2) 我国共有 34 个省级行政区域，面积最大的省区简称为 _____。我国最东端的是 ① (填省区全称)，最南端为海南省的 _____。

(3) ③ 是台湾省，隔 _____ 海峡与福建省相望，该省主要的少数民族为 _____。我国人口最多的少数民族主要分布在 ② _____ (填省区简称)。

(4) 我国跨经度最广和跨纬度最广的省分别是 _____ 和 _____ (写出简称)。

(5) 我国濒临广阔的海洋，属于我国内海的是 _____ 和琼州海峡。

37. (10 分) 318 国道横跨我国东中西部，全程 5476 千米，是中国最长的国道，揽括了平原、丘陵、盆地、山地、高原景观，包含了江浙水乡文化、天府盆地文化、西藏人文景观，拥有高山峡谷惊、险、绝、美、雄、壮的景观，被评为“中国人的景观大道”。结合资料及读图，完成下列问题。

以上内容仅为本文档的试下载部分，为可阅读页数的一半内容。如要下载或阅读全文，请访问：<https://d.book118.com/358126101007006132>