

# 湖南省湘潭市 2023-2024 科目一模拟考试 100 题加答案版

1、下列哪种情况可以向机动车驾驶证核发地车辆管理所申请补发？

- A、驾驶证被扣押
- B、驾驶证被扣留
- C、驾驶证遗失
- D、驾驶证被暂扣

正确答案：C

分析：驾驶证被扣留、扣押及暂扣都可再次取回，机动车驾驶证遗失、损毁无法辨认时，机动车驾驶人应当向机动车驾驶证核发地车辆管理所申请补发。

2、对发生道路交通事故需要收集证据的事故车，交通警察可以依法扣留。

- A、正确
- B、错误

正确答案：A

分析：警察叔叔是有这个权利滴。

3、在城市快速路上违法占用应急车道，一次记多少分？

- A、1分
- B、6分
- C、3分
- D、12分

正确答案：B

分析：《道路交通安全违法行为记分管理办法》规定，机动车驾驶人有下列交通违法行为之一，一次记6分：（一）驾驶校车、公路客运汽车、旅游客运汽车载人超过核定人数未达到百分之二十，或者驾驶7座以上载客汽车载人超过核定人数百分之二十以上未达到百分之五十，或者驾驶其他载客汽车载人超过核定人数百分之五十以上未达到百分之百的；（二）驾

驶校车、中型以上载客载货汽车、危险物品运输车辆在高速公路、城市快速路上行驶超过规定时速未达到百分之二十，或者在高速公路、城市快速路以外的道路上行驶超过规定时速百分之二十以上未达到百分之五十的；（三）驾驶校车、中型以上载客载货汽车、危险物品运输车辆以外的机动车在高速公路、城市快速路上行驶超过规定时速百分之二十以上未达到百分之五十，或者在高速公路、城市快速路以外的道路上行驶超过规定时速百分之五十以上的；（四）驾驶载货汽车载物超过最大允许总质量百分之五十以上的；（五）驾驶机动车载运爆炸物品、易燃易爆化学物品以及剧毒、放射性等危险物品，未按指定的时间、路线、速度行驶或者未悬挂警示标志并采取必要的安全措施的；（六）驾驶机动车运载超限的不可解体的物品，未按指定的时间、路线、速度行驶或者未悬挂警示标志的；（七）驾驶机动车运输危险化学品，未经批准进入危险化学品运输车辆限制通行的区域的；（八）驾驶机动车不按交通信号灯指示通行的；（九）机动车驾驶证被暂扣或者扣留期间驾驶机动车的；（十）造成致人轻微伤或者财产损失的交通事故后逃逸，尚不构成犯罪的；（十一）驾驶机动车在高速公路或者城市快速路上违法占用应急车道行驶的。

4、在没有交通信号灯的路口遇停车等待时，可以临时占用对面车道，避免造成更大的拥堵。

A、正确

B、错误

正确答案：B

分析：在没有交通信号灯的路口遇停车等待时，为避免造成更大的拥堵，应依次排队等待或缓慢行驶，占用对面车道行驶只会造成更大的交通拥堵。

5、遇有浓雾或特大雾天能见度过低，行车困难时，应怎样做？

A、开启前照灯，继续行驶

B、开启示廓灯、雾灯，靠右行驶

C、开启危险报警闪光灯和雾灯，选择安全地点停车

D、开启危险报警闪光灯，继续行驶

正确答案：C

分析：浓雾或特大雾天,你都看不见了，还能开车？

6、这个标志是何含义？



- A、国道编号
- B、省道编号
- C、县道编号
- D、乡道编号

正确答案：B

分析：乡道是白底 Y 字开头的，县道是白底 X 开头的，省道是黄底的，国道是红底的。

7、驾驶机动车发生交通事故后当事人故意破坏、伪造现场、毁灭证据的，应当承担什么责任？

- A、主要责任
- B、次要责任
- C、同等责任
- D、全部责任

正确答案：D

分析：发生交通事故后当事人逃逸的，故意破坏、伪造现场、毁灭证据的，均承担全部责任。

8、驾驶机动车在道路上违反道路交通安全法的行为，属于什么行为？

- A、违章行为
- B、违法行为

C、过失行为

D、违规行为

正确答案：B

分析：违反道路交通安全法”，明显的是违法，它都暗示了是“违法”行为。

9、这个标志是何含义？



A、两侧变窄

B、右侧变窄

C、左侧变窄

D、宽度变窄

正确答案：A

分析：连续下坡：用以提醒车辆驾驶人小心驾驶。当连续下坡总长大于3 km后，应重复设置。

10、在这段道路上一定要减少鸣喇叭的频率




A、正确

B、错误

正确答案：B

分析：右侧的标志明显是禁止鸣喇叭。

11、这辆小型载客汽车进入高速公路行车道的行为是正确的。



A、正确

B、错误

正确答案：B

分析：此车压实线，不按标线要求行车。

12、机动车在道路边临时停车时，不得逆向或并列停放。

A、正确

B、错误

正确答案：A

分析：《道路交通安全法》第五十六条：在道路边临时停车的，不得妨碍其他车辆和行人通行。因此除了要靠路边之外，还要尽可能留出空间便于其他车辆通行。所以题目说不得逆向或并列停放是正确的。

13、发动机起动后仪表板上（如图所示）亮表示什么？



A、油箱内燃油已到最低液面

B、发动机供油系统出现异常


C、发动机点火系统出现故障

D、燃油泵出现异常或故障

正确答案：A

分析：油箱内燃油已到最低液面 是黄色 发动机供油系统出现异常 是红色

14、机动车仪表板上（如图所示）这个符号表示什么？



A、冷风暖气风扇

B、空调制冷

C、空气循环

D、雪地起步模式

正确答案：A

分析：看它长的多像风扇。

15、这个标志的作用是用以警告车辆驾驶人谨慎慢行，注意横向来车。



A、正确

B、错误

正确答案：A

分析：本题答案:正确，图片分析，警告标志十字路口，驾驶人谨慎慢行，注意横向来车。

16、已注册登记的机动车所有权转让后，现机动车所有人未按照规定的时限办理转让登记的，由公安机关交通管理部门处警告或者一千元以下罚款。

A、正确

B、错误

正确答案：B

分析：《机动车登记规定》规定：已注册登记的机动车所有权发生转让的，现机动车所有人应当自机动车交付之日起三十日内向登记地车辆管理所申请转让登记。现机动车所有人未按规定时限办理转让登记的，由公安机关交通管理部门处警告或者二百元以下罚款。

17、图中这个标志提示前方路口只允许直行。



A、正确

B、错误

正确答案：A

分析：禁令标志，前方路段不允许左转或者右转，左右方向箭头被禁止，只能直行。

18、机动车驾驶人补领机动车驾驶证后，继续使用原机动车驾驶证的，处 20 元以上 200 元以下罚款。

A、正确

B、错误

正确答案：A

分析：根据《机动车驾驶证申领和使用规定》第九十四条规定 机动车驾驶人补领机动车驾驶证后，原机动车驾驶证作废，不得继续使用。如继续使用原机动车驾驶证的，公安机关交通管理部门可处二十元以上二百元以下罚款。

## 19、驾驶人连续驾驶不得超过多长时间

A、4 小时

B、6 小时

C、8 小时

D、10 小时

正确答案：A

分析：《中华人民共和国道路交通安全法实施条例》第六十二条 连续驾驶机动车超过 4 小时应停车休息，停车休息时间不少于 20 分钟。

## 20、未取得机动车驾驶证驾驶机动车，发生负同等以上责任交通事故造成人员重伤或者死亡未满十年的，不得申请机动车驾驶证。

A、正确

B、错误

正确答案：A

分析：《机动车驾驶证申领和使用规定》规定，有下列情形之一的，不得申请机动车驾驶证：（一）有器质性心脏病、癫痫病、美尼尔氏症、眩晕症、癔病、震颤麻痹、精神病、痴呆以及影响肢体活动的神经系统疾病等妨碍安全驾驶疾病的；（二）三年内有吸食、注射毒品行为或者解除强制隔离戒毒措施未满三年，以及长期服用依赖性精神药品成瘾尚未戒除的；（三）造成交通事故后逃逸构成犯罪的；（四）饮酒后或者醉酒驾驶机动车发生重大交通事故构成犯罪的；（五）醉酒驾驶机动车或者饮酒后驾驶营运机动车依法被吊销机动车驾驶证未满五年的；（六）醉酒驾驶营运机动车依法被吊销机动车驾驶证未满十年的；（七）驾驶机动车追逐竞驶、超员、超速、违反危险化学品安全管理规定运输危险化学品构成犯罪的依法被吊销机动车驾驶证未满五年的；（八）因本款第四项以外的其他违反交通管理法律法规的行为发生重大交通事故构成犯罪的依法被吊销机动车驾驶证未满十年的；（九）因其他情形依法被吊销机动车驾驶证未满二年的；（十）驾驶许可依法被撤销未满三年的；（十一）未取得机动车驾驶证驾驶机动车，发生负同等以上责任交通事故造成人员重伤或者死亡未满十年的；（十二）三年内有代替他人参加机动车驾驶人考试行为的；（十三）法律、行政法规规定的其他情形。未取得机动车驾驶证驾驶机动车，有第一款第五项至第八项行为之一的，在规定期限内不得申请机动车驾驶证。

## 21、行车中遇儿童时，应怎样做？

A、长鸣喇叭催促

B、减速慢行，必要时停车避让

C、迅速从一侧通过

D、加速绕行

正确答案：B

分析：请尊老爱幼。

22、驾驶机动车遇到沙尘、冰雹、雨、雾、结冰等气候条件时应降低行驶速度。

A、正确

B、错误

正确答案：A

分析：沙尘、冰雹、雨、雾、结冰等气候条件非常不利于开车，因为视线受到干扰、地湿路滑等原因很容易造成事故，为了安全应该降低行驶速度。

23、在这个路口怎样左转弯？



A、靠路口中心点右侧转弯

B、靠路口中心点左侧转弯

C、不能左转弯

D、骑路口中心点转弯

正确答案：B

分析：左转转大弯，右转转小弯；选右转的话还用靠近中心点吗？！直接转不就行了。所以选左转才是对的呀

24、如图所示，夜间驾驶机动车与同方向行驶的前车距离较近时，以下做法正确的是什么？



- A、使用远光灯，有利于观察路面情况
- B、禁止使用远光灯，避免灯光照射至前车后视镜造成前车驾驶人眩目
- C、使用远光灯，有利于告知前方驾驶人后方有来车
- D、禁止使用远光灯，避免灯光照射至前车后视镜造成自己眩目

正确答案：B

分析：夜间驾驶机动车与同方向行驶的前车距离较近时，禁止使用远光灯，避免灯光照射至前车后视镜造成前车驾驶人眩目。

25、驾驶车辆行至道路急转弯处，应怎样做？

- A、借对向车道行驶
- B、急剧制动低速通过
- C、靠弯道外侧行驶
- D、充分减速并靠右侧行驶

正确答案：D

分析：安全第一，过急转弯当然要减低车速，靠右行驶是为了防止急转弯另一边有车过来导致两车相撞。

26、申请人因故不能按照预约时间参加考试的，应当提前一日申请取消预约，对申请人未按照预约考试时间参加考试的，判定该次考试不合格。

A、正确

B、错误

正确答案：A

分析：本题答案：正确，对申请人未按照预约考试时间参加考试的，判定该次考试不合格。

27、车辆前轮胎爆裂，危险较大，方向会立刻向爆胎车轮一侧跑偏，直接影响驾驶人对转向盘的控制。

A、正确

B、错误

正确答案：A

分析：如果车速过快，很有可能造成事故。碰到这种情况的时候，切忌不要慌张，不要向相反的方向猛打方向盘，要尽量保持车子直线行驶，同时降低车速，切记不可急刹车，要缓慢降低车速，还有打开安全警告灯，注意后方来车，条件允许的话，把车子驶离行车道，靠右边车道停车。碰到这种情况，切记不要慌，首要的就是先稳住车辆。

28、在超越前车时，提前开启左转向灯，变换使用远、近光灯或者鸣喇叭是为了什么？

A、仅提醒前车

B、仅提醒后车

C、提醒后车以及前车

D、提醒行人

正确答案：C

分析：提醒前面的车和后面的车。

29、这个标志是何含义？



- A、提醒车辆驾驶人前方有两个及以上连续上坡路段
- B、提醒车辆驾驶人前方有向上的陡坡路段
- C、提醒车辆驾驶人前方有向下的陡坡路段
- D、提醒车辆驾驶人前方有两个及以上连续下坡路段

正确答案：D

分析：正确答案：D 图片分析，警告标志，前方有两个及以上连续下坡路段。

30、这属于哪一类标志？



- A、警告标志
- B、禁令标志
- C、指示标志
- D、指路标志

正确答案：C

分析：指示标志的颜色为蓝底、白图案；形状分为圆形、长方形和正方形。指路标志用以传递道路方向，地点，距离信息的标志。禁令标志的颜色，除个别标志外，为白底，红圈，红杠，黑图案。图案压杠。警告标志是警告车辆、行人注意危险地点的标志。警告标志的颜色为黄底、黑边、黑图案，形状为等边三角形，顶角朝上。

31、饮酒后驾驶营运机动车依法被吊销机动车驾驶证未满五年的，不得再次申请机动车驾驶证。

A、正确

B、错误

正确答案：A

分析：《机动车驾驶证申领和使用规定》规定，有下列情形之一的，不得申请机动车驾驶证：（一）有器质性心脏病、癫痫病、美尼尔氏症、眩晕症、癔病、震颤麻痹、精神病、痴呆以及影响肢体活动的神经系统疾病等妨碍安全驾驶疾病的；（二）三年内有吸食、注射毒品行为或者解除强制隔离戒毒措施未满三年，以及长期服用依赖性精神药品成瘾尚未戒除的；（三）造成交通事故后逃逸构成犯罪的；（四）饮酒后或者醉酒驾驶机动车发生重大交通事故构成犯罪的；（五）醉酒驾驶机动车或者饮酒后驾驶营运机动车依法被吊销机动车驾驶证未满五年的；（六）醉酒驾驶营运机动车依法被吊销机动车驾驶证未满十年的；（七）驾驶机动车追逐竞驶、超员、超速、违反危险化学品安全管理规定运输危险化学品构成犯罪依法被吊销机动车驾驶证未满五年的；（八）因本款第四项以外的其他违反交通管理法律法规的行为发生重大交通事故构成犯罪依法被吊销机动车驾驶证未满十年的；（九）因其他情形依法被吊销机动车驾驶证未满二年的；（十）驾驶许可依法被撤销未满三年的；（十一）未取得机动车驾驶证驾驶机动车，发生负同等以上责任交通事故造成人员重伤或者死亡未满十年的；（十二）三年内有代替他人参加机动车驾驶人考试行为的；（十三）法律、行政法规规定的其他情形。未取得机动车驾驶证驾驶机动车，有第一款第五项至第八项行为之一的，在规定期限内不得申请机动车驾驶证。

32、驾驶人使用其他车辆检验合格标志嫌疑的，交通警察可依法扣留车辆。

A、正确

B、错误

正确答案：A

分析：交通警察可依法扣留车辆，等他们查清楚车的来由，当场教导让其车在指定时间内接受车辆检验并放行。

33、这个标志表示前方注意双向行驶。



A、正确

B、错误

正确答案：B

分析：此标志为注意潮汐车道。用以警告车辆驾驶人注意前方为潮汐车道。“潮汐车道”是指根据早晚交通流量不同情况，对有条件的道路，试点开辟潮汐车道，通过车道灯的指示方向变化，控制主干道车道行驶方向，来调整车道数。

34、遇到这种情形怎样行驶？



A、停车让对方车辆通过

B、开启左转向灯向左行驶

C、加速超越障碍后会车

D、开前照灯告知对方让行

正确答案：A

分析：人家已经在路上，你在过去，谁都别走了。

35、在路口直行时，遇这种情形如何通行？



- A、让左方道路车辆先行
- B、让右方道路车辆先行
- C、直接加速直行通过
- D、开启危险报警闪光灯通行

正确答案：B

分析：三个先行原则：转弯的机动车让直行的车辆先行，右方道路来车先行，右转弯车让左转弯车先行。

36、如图这种情况下，遇到对面车辆发出左转信号，怎样做是正确的？



- A、只要不影响对面车辆左转就可以向右转弯
- B、不要考虑对面车辆直接向右转弯
- C、等待对面车辆向左转后再向右转弯
- D、如果已经越过停止线就可以加速向右转弯

正确答案：C

分析：车辆行驶中右转车辆让行左转车辆，左转让直行。

37、以下哪种情形已注册登记的机动车会被车辆管理所注销？

- A、机动车属于被盗抢骗的
- B、机动车登记的使用性质改变的
- C、距离达到国家强制报废标准一年以内
- D、机动车登记被依法撤销的

正确答案：D

分析：《机动车登记规定》规定，已注册登记的机动车有下列情形之一的，登记地车辆管理所应当办理机动车注销：（一）机动车登记被依法撤销的；（二）达到国家强制报废标准的机动车被依法收缴并强制报废的。

38、这个标志是何含义？



- A、禁止小型车行驶
- B、机动车行驶
- C、只准小型车行驶
- D、不准小型车通行

正确答案：B

分析：看到小汽车你应该想到的是机动车行驶。

39、如图所示，A 车具有优先通行权。



A、正确

B、错误

正确答案：A

分析：转弯让直行，所以 A 车先行。

40、机动车驾驶证损毁无法辨认的，机动车驾驶人应当在六十日内申请换证。

A、正确

B、错误

正确答案：B

分析：根据《机动车驾驶证申领和使用规定》，第六十条 有下列情形之一的，机动车驾驶人应当在三十日内到机动车驾驶证核发地或者核发地以外的车辆管理所申请换证：（一）在车辆管理所管辖区域内，机动车驾驶证记载的机动车驾驶人信息发生变化的；（二）机动车驾驶证损毁无法辨认的。申请时应当填写申请表，并提交机动车驾驶人的身份证明和机动车驾驶证。题目错在六十日内。

41、造成交通事故后逃逸构成犯罪的人不能申请机动车驾驶证。

A、正确

B、错误

正确答案：A

分析：吊销机动车驾驶证的为二年，撤销机动车驾驶证的为三年，以醉酒吊销五年，因逃跑而吊销是终身，简称“吊二撤三醉五逃终身”。学习了。

42、汽车的制动距离，会随着车速的升高而变短。

A、正确

B、错误

正确答案：B

分析：汽车的制动距离，会随着车速的升高而加长，车速是原来的两倍时，制动距离就会达到原来的4倍。车速越高，车辆惯性越大，发生事故时造成的冲击力就越大，容易加重事故后果。

43、年龄在50周岁以上的机动车驾驶人，应当每年进行一次身体检查，并向公安机关交通管理部门申报身体条件情况。

A、正确

B、错误

正确答案：B

分析：根据《机动车驾驶证申领使用规定》第四十八条规定年龄在60周岁以上或者持有大型客车、牵引车、城市公交车、中型客车、大型货车、无轨电车、有轨电车准驾车型的机动车驾驶人，应当每年进行一次身体检查，在记分周期结束后十五日内，提交县级或者部队团级以上医疗机构出具的有关身体条件的证明。

44、以下选项中，车辆自动刹车辅助系统的英文缩写是什么？

A、FCW

B、AEB

C、BSD

D、ACC

正确答案：B

分析：AEB (Autonomous Emergency Braking) 自动紧急制动系统，能够使得车辆在行驶时自动监测车辆前方有车辆、障碍物或者行人的距离小于安全距离，有可能发生碰撞时，就会自动采取不同程度的制动以至于完全刹停。

45、夜间行车，可选择下列那个地段超车？

A、交叉路口

- B、窄路窄桥
- C、路宽车少
- D、弯道陡坡

正确答案：C

分析：当然路宽车少的地方，路越宽越好，车越少越好，安全嘛。

46、轮胎气压过低时，高速行驶轮胎会出现波浪变形温度升高而导致什么？

- A、气压不稳
- B、气压更低
- C、行驶阻力增大
- D、爆胎

正确答案：D

分析：轮胎气不足，就会造成轮胎与地面的摩擦范围增大，所以会使温度升高，从而爆胎。

47、这个标志的含义是提醒车辆驾驶人前方是桥头跳车较严重的路段。




- A、正确
- B、错误

正确答案：B

分析：警告标志驼峰桥。用以提醒车辆驾驶人谨慎驾驶。设在拱度很大，影响视距的驼峰桥以前适当位置。

48、这个标志是何含义？



- A、紧急停车带
- B、露天停车场
- C、停车位
- D、错车道

正确答案：D

分析：中间有标线的就是紧急停车带，无标线的就是错车道。指的是在单车道道路上，可透视的一定距离内，供车辆交错避让用的一段加宽车道。

49、驾驶机动车由加速车道进入高速公路行驶，以下做法错误的是什么？

- A、在加速车道上加速，同时要开启左转向灯
- B、密切注意左侧行车道的车流状态，同时用后视镜观察后方的情况
- C、充分利用加速车道的长度加速,确认安全后,平顺地进入行车道
- D、经加速车道充分加速后，可直接驶入最左侧车道

正确答案：D

分析：《中华人民共和国道路交通安全法实施条例》第七十八条：高速公路应当标明车道的行驶速度，最高车速不得超过每小时 120 公里，最低车速不得低于每小时 60 公里。在高速公路上行驶的小型载客汽车最高车速不得超过每小时 120 公里，其他机动车不得超过每小时 100 公里，摩托车不得超过每小时 80 公里。同方向有 2 条车道的，左侧车道的最低车速为每小时 100 公里；同方向有 3 条以上车道的，最左侧车道的最低车速为每小时 110 公里，中间车道的最低车速为每小时 90 公里。因此，驾车进入高速公路后，不能直接驶入最左车道，要循序渐进。

以上内容仅为本文档的试下载部分，为可阅读页数的一半内容。如要下载或阅读全文，请访问：<https://d.book118.com/366135134243011003>