

考试总分：135分 考试时间：120分钟

学校：_____ 班级：_____ 姓名：_____ 考号：_____

一、选择题（本题共计 23小题，每题 5分，共计115分）

1. 读我国部分区域图，完成（1）～（2）题。



（1）四川省木里县2019年“330”森林大火发生地（甲地）是我国仅存不多的成片原始林区。该林区主要分布于（ ）

- A. 横断山脉
- B. 武夷山脉
- C. 喜马拉雅山脉
- D. 长白山脉

（2）一段时间以来，乙山脉北麓存在着违法占用大片林地和农田修建别墅的现象，给当地生态环境带来的影响是（ ）

- ①改善环境，促进经济发展
- ②水土流失、泥石流等地质灾害加剧
- ③土地资源得到合理利用
- ④植被遭破坏，干扰和侵占动物的栖息地

- A. ①②
- B. ①③
- C. ③④
- D. ②④

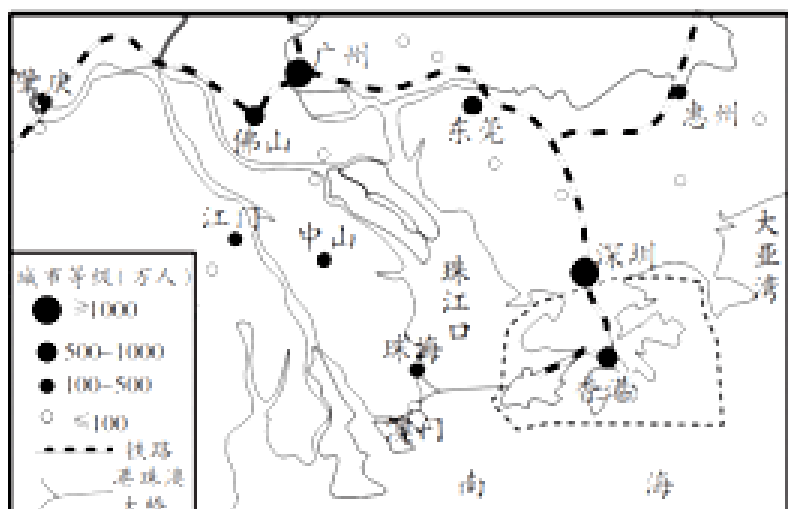
2. 《舌尖上的中国》有这样的描述：中国拥有世界上最富戏剧性的自然景观，……有助于物种的形成和保存，我国有丰富的食物原材料主要是因为（ ）

- A. 海陆兼备，国土面积广大，

- B.南北跨纬度广，热量差异显著
- C.地形多样，以平原为主
- D.河湖众多，有许多源远流长的大江巨川

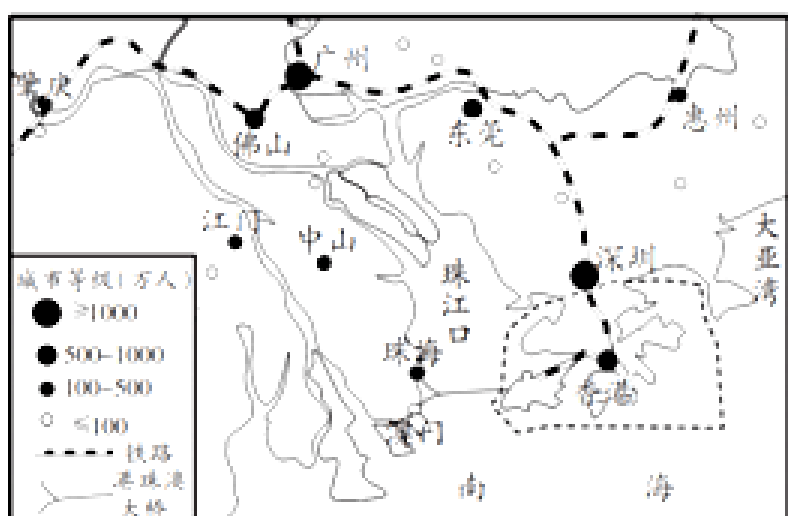
3. 粤港澳大湾区是建设中的世界级城市群，由广州、深圳、珠海等大城市和香港、澳门特别行政区组成。图为粤港澳大湾区城市分布图。读图回答(1)~(2)题。

(1) 在生活中，主要由祖国内地供应香港、澳门的是 ()



- A. 燃料、管理技术
- B. 劳动力、淡水
- C. 原料、资金
- D. 食品、交通工具

(2) 对粤港澳大湾区发展优势的叙述，不正确的是 ()



- A. 香港的金融、信息等服务业水平高
- B. 珠三角地区制造业发达
- C. 澳门是人口超千万的休闲旅游中心
- D. 大湾区铁路运输和海洋运输发达

4. 省级行政区划“两湖两广两河山”这句话中的“湖”和“河”代指 ()

- A. 鄱阳湖和黄河
- B. 洞庭湖和黄河

C.太湖和淮河

D.青海湖和淮河

5.我国少数民族主要集中分布在（ ）

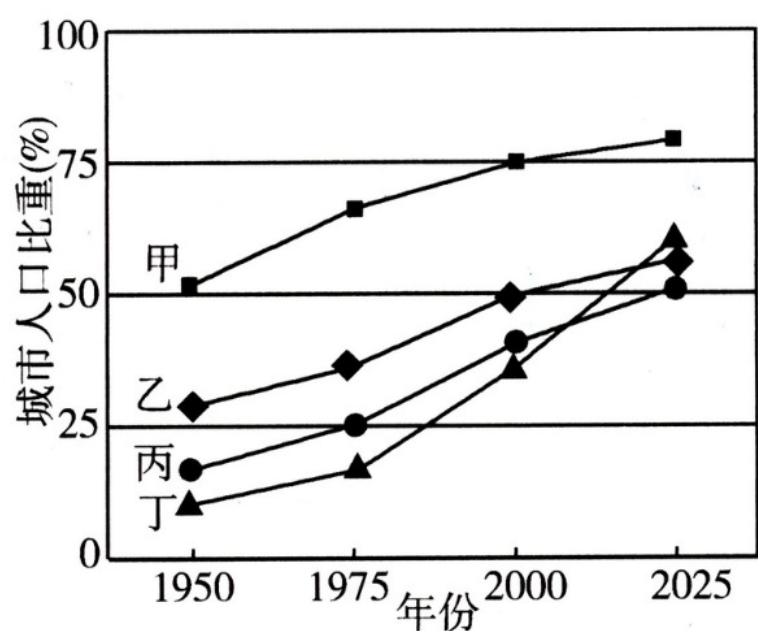
A.西南、东南、中部

B.西北、东北、西南

C.中部、西南、西北

D.西北、东南、东北

6.下图中四条折线示意中国、全世界、发展中国家和发达国家的城市化水平及其变化趋势。读图完成下列2个小题。



(2012福建卷) 图中代表中国城市化进程的折线是（ ）

A. 甲

B. 乙

C. 丙

D. 丁

(2012福建卷) 2000年后，发达国家城市化水平提高带来的主要影响是（ ）

A. 促进区域经济发展

B. 工业产值的比重持续增大

C. 城市环境趋于恶化

D. 城市中心区人口不断增多

7.关于港澳与祖国内地关系的叙述，正确的是（ ）

A. 港澳的经济发展与祖国无关

B. 港澳的发展主要靠自身位置优越，矿产资源丰富

C.祖国内地主要通过澳门与世界各地进行贸易往来

D.港澳与祖国内地的经济合作是互惠互利，优势互补

8.降水量的不同会影响到民居的建筑形式，我国南方的民居一般是（ ）

A.土墙平顶房

B.墙体镂空的晾房

C.砖墙斜顶房

D.窑洞

9.下列属于气象灾害的是（ ）

A.地震

B.泥石流

C.滑坡

D.洪涝

10.关于香港经济地位的说法，不正确的是（ ）

A.香港是国际贸易中心

B.香港地处东南亚地区的中心

C.博彩旅游业是其重要的支柱产业

D.第三产业非常发达

11.有关我国气温的叙述，正确的是（ ）

A.气温由南向北逐渐递增

B.气温由南向北逐渐递减

C.冬季南北气温差异大

D.冬季南北气温差异小

12.关于香港和澳门的说法，错误的是（ ）

A.都是我国的特别行政区，实行资本主义制度

B.地处中国大陆东南端，与广东省相邻

C.澳门位于珠江口西侧，毗邻深圳经济特区

D.人口稠密，第三产业都很发达

13.近日，微博上的一张秦岭航拍照登上了热搜。中国气象局对照片中的现象进行了解释：当山脉阻挡了暖湿气流，则会在出现暖气流的一侧抬升形成云，而另一侧气流下沉，出现晴空。图1为秦岭位置示意图，图2为某日秦岭航拍照片，据此完成下面小题。



图 1



图 2

(1) 秦岭的走向是 ()

- A. 南北走向
- B. 东西走向
- C. 东北——西南走向
- D. 西北——东南走向

(2) 图2照片中 ()

- A. 有云的一侧盛行暖湿气流
- B. 有云的一侧位于暖温带
- C. 晴空的一侧位于秦岭南侧
- D. 晴空的一侧位于湿润区

(3) 照片中秦岭两侧的现象出现明显差异的主要影响因素是 ()

- A. 纬度位置
- B. 海陆位置
- C. 地形因素
- D. 人类活动

14.漫画中表现了我国某地区孩子们户外活动场景。读如图，完成9~11题。

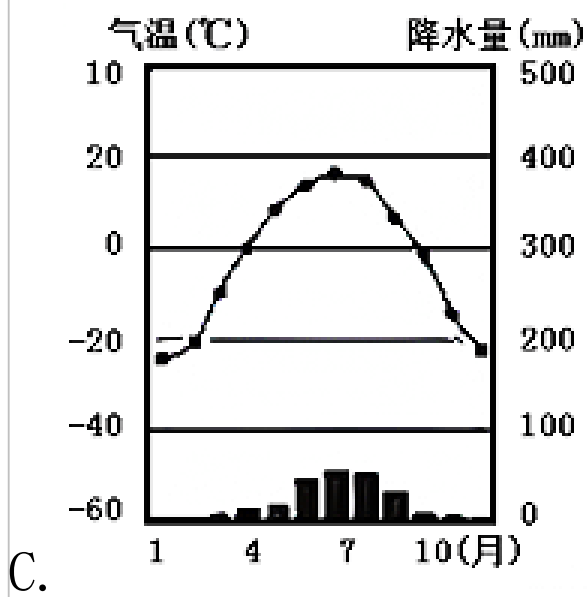
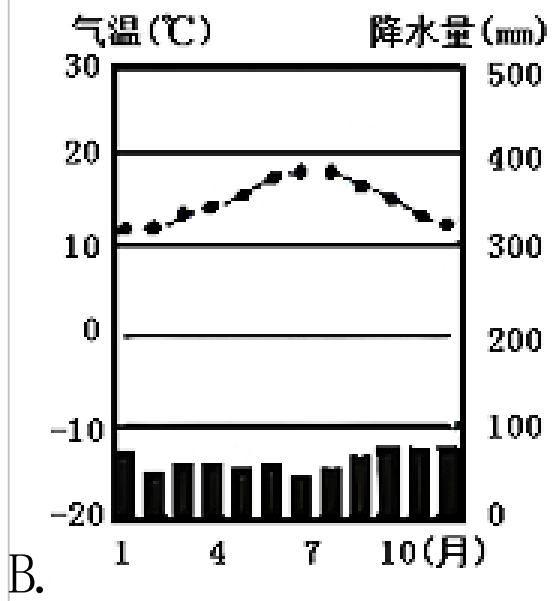
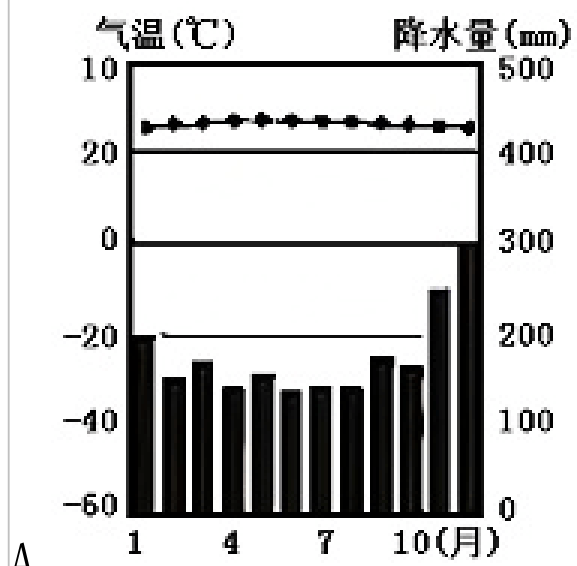


粘知了(“知了”是昆虫蝉的别称)



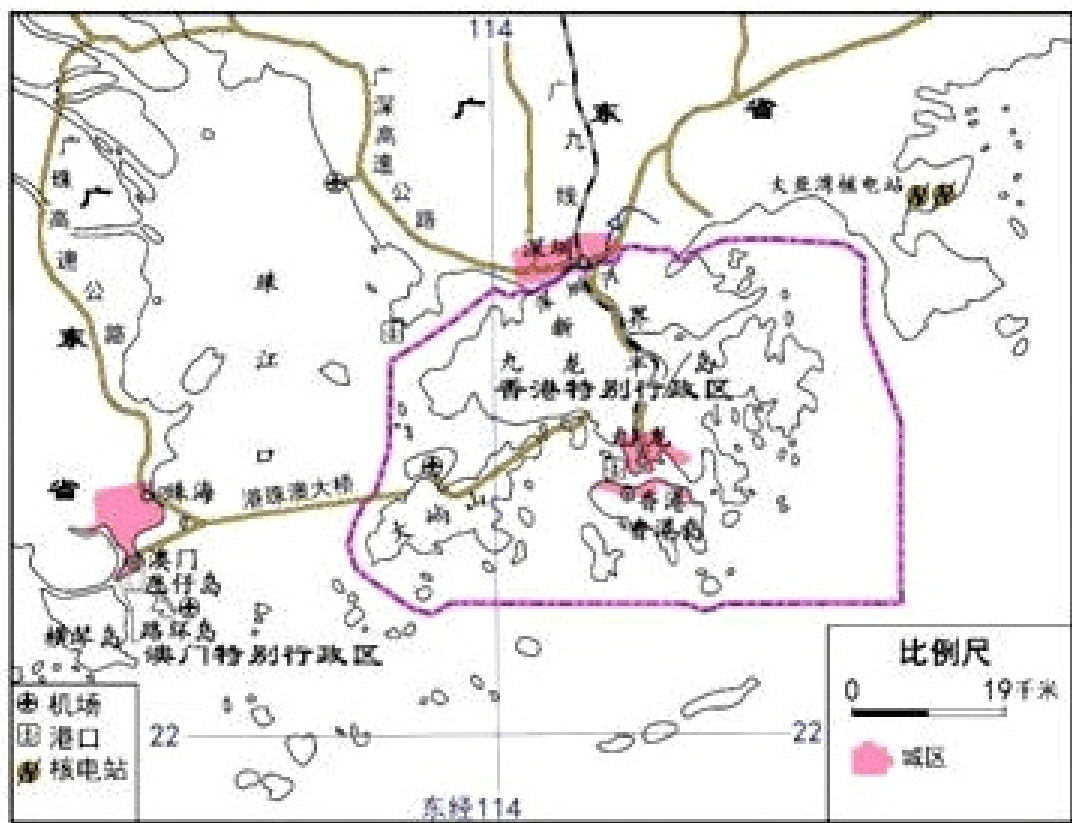
堆雪人

显示“粘知了”、“堆雪人”地区气候特征的是图()



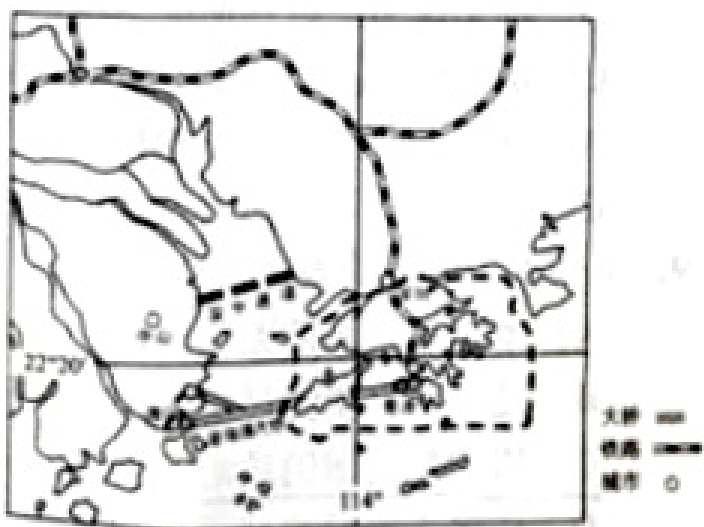


15. 港珠澳大桥建成促进了粤港澳大湾区融合发展，据图回答问题。下列关于香港或澳门特别行政区的叙述，正确的是（ ）



- A. 香港位于珠江口西侧
- B. 港珠澳大桥缩短港、澳公路运输距离
- C. 香港由香港岛和大屿山组成
- D. 澳门位于香港的东北方向

16. 深“中通道”连接深圳市和中山市，2016年12月29日开工建设，计划2024年全线通车，届时珠江两岸可以半小时对接。读“珠江三角洲及港澳地区示意图”，完成下列小题。



(1) 该地区地理环境特点的说法，正确的是（ ）

- A. 平原面积广阔，为我国三大平原之一

- B.环境优美，地广人稀
- C.煤、铁、石油等矿产资源丰富
- D.地理位置优越，水陆交通便利

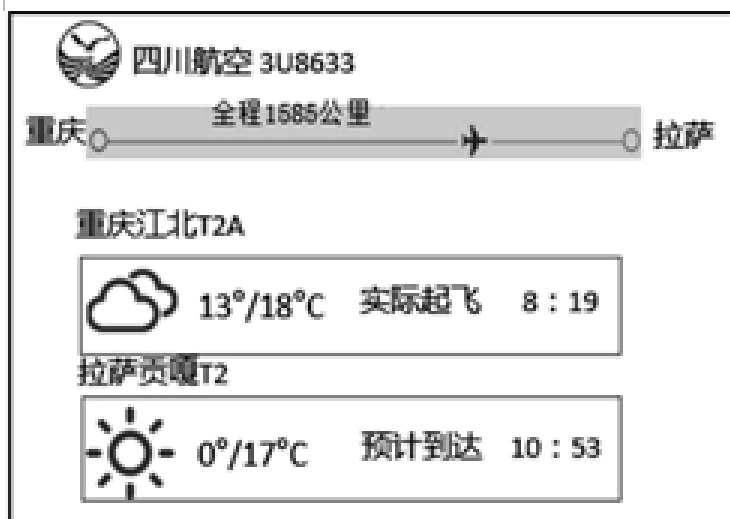
(2) 下列关于香港、澳门的叙述，正确的是 ()

- A. 香港是世界著名的金融中心
- B. 澳门被称为“东方之珠”
- C. 香港博彩旅游业发达
- D. 港澳地区向内地提供资金和劳动力

(3) 下列修建深中通道意义的说法，错误的是 ()

- A. 促进珠江三角洲区域经济的发展
- B. 缩短珠江两岸通行距离和时间
- C. 缓解港珠澳大桥的通行压力
- D. 促进当地农矿产品的出口

17. 电影《中国机长》是根据四川航空3U8633航班机组成功处置特殊情况真实事件改编。下图为观影后小明查找的该航班和航线情况。读图，完成下列小题。



(1) 电影中乘客选择本次航班的主要原因 ()

- A. 价格高
- B. 速度快
- C. 运输量大
- D. 灵活性强

(2) 影片中飞机在遭遇险情时，下面是绵延的雪山。该山最有可能是 ()

- A. 天山山脉
- B. 太行山脉
- C. 秦岭

D. 横断山脉

(3) 小明查阅航班信息时，重庆江北机场的天气情况是 ()

A. 阴

B. 雪

C. 晴

D. 多云

(4) 小明发现重庆和拉萨气温差异大，主要影响因素是 ()

A. 纬度位置

B. 地形

C. 海陆位置

D. 河流

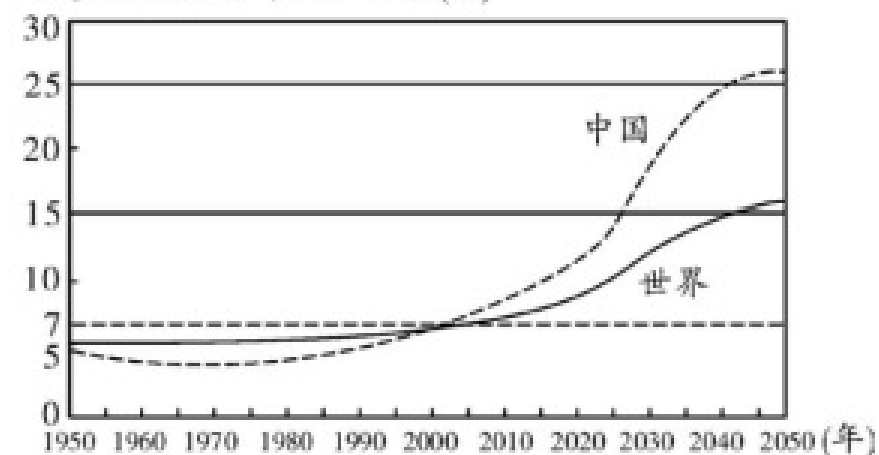
18. 人口老龄化是指一个国家或地区65岁及以上老年人口占总人口比重达到或超过7%。表为“我国第六次人口普查数据统计表”，图为“中国与世界65岁及以上老年人口比重统计与预测”。据此完成(1)~(2)题。

(1)

年龄段	占总人口比重(2010年)	与2000年相比
0-14岁	16.6%	下降6.29%
60-65岁	13.26%	上升2.93%
65岁以上	8.87%	上：升1.91%

根据预测，到2050年中国65岁及以上老年人口比重高于世界大约 ()

65岁及以上老年人口比重(%)



A. 10%

B. 20%

C. 25%

D. 30%

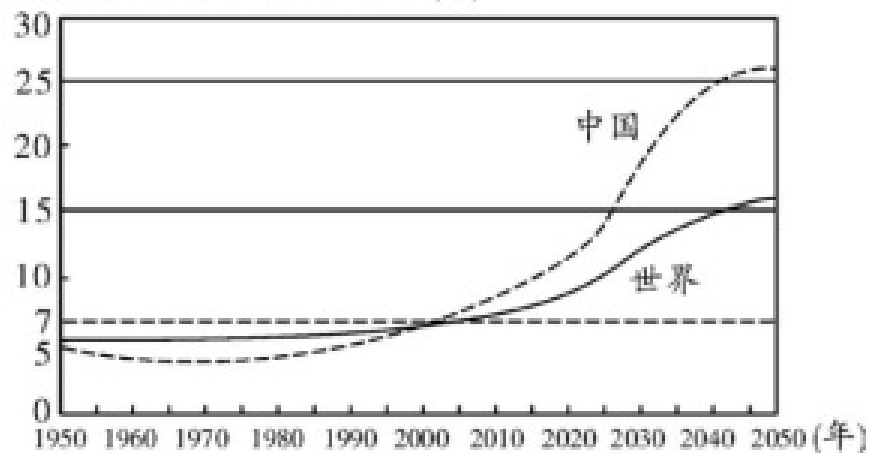
(2)

年龄段	占总人口比重(2010年)	与2000年相比
0-14岁	16.6%	下降6.29%

60 - 65岁	13.26%	上升2.93
65岁以上	8.87%	上：升1.91%

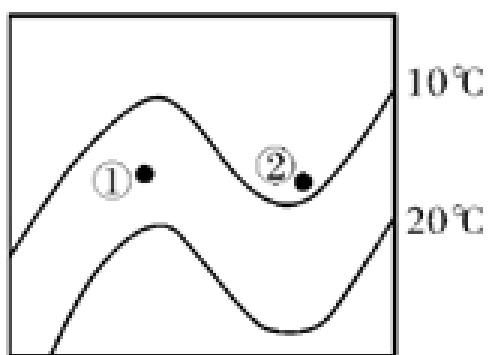
下列说法正确的是 ()

65岁及以上老年人口比重(%)

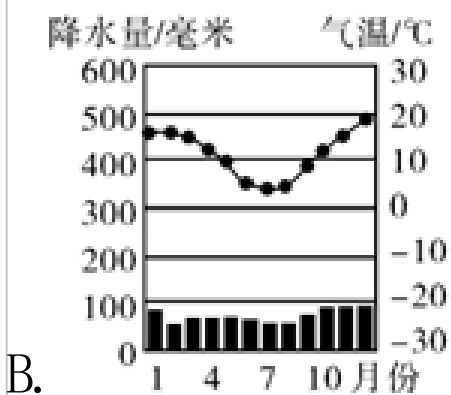
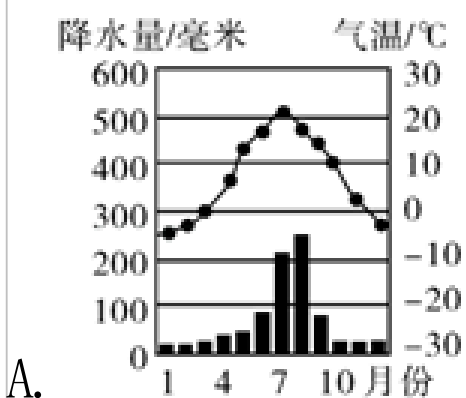


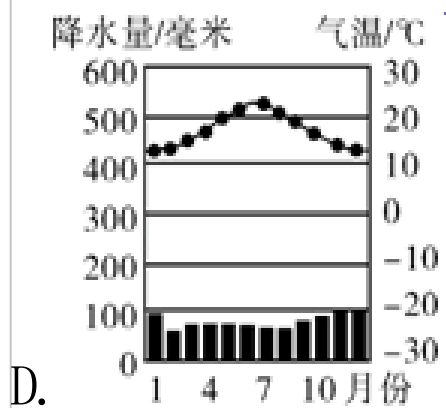
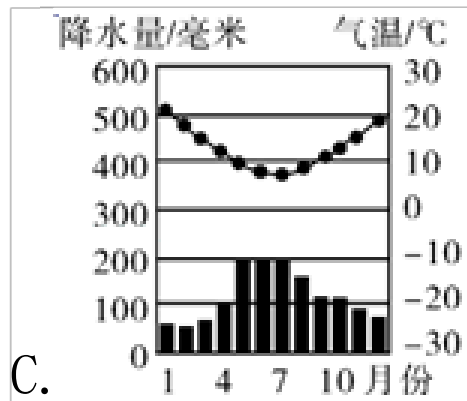
- A. 与2000年相比，2010年我国各年龄段的人口比重都在上升
- B. “二孩政策”的目的是提高0 - 14岁人口比重
- C. 我国65岁以上老年人口比重始终高于世界
- D. 我国65岁以上老年人口比重一直在上升

19. 读图，完成 (1) ~ (2) 题。



(1) 若①地位于纬度 40° - 60° 的北半球的大陆西岸，下列气温和降水资料反映的气候类型与其一致的是 ()





(2) 从图中获得的正确信息是 ()

- A. 若①是陆地，②是海洋，此时该地区是冬季
- B. 由等温线分布情况可知，该地区位于南半球
- C. 图中等温线能反映世界气温随纬度变化的规律
- D. 若①是海洋，②是陆地，此时该地区是夏季

20. 图1是世界某岛屿地形（单位：米）和河流分布图，图2是甲城市降水量分布图。读图，回答（1）～（2）题。

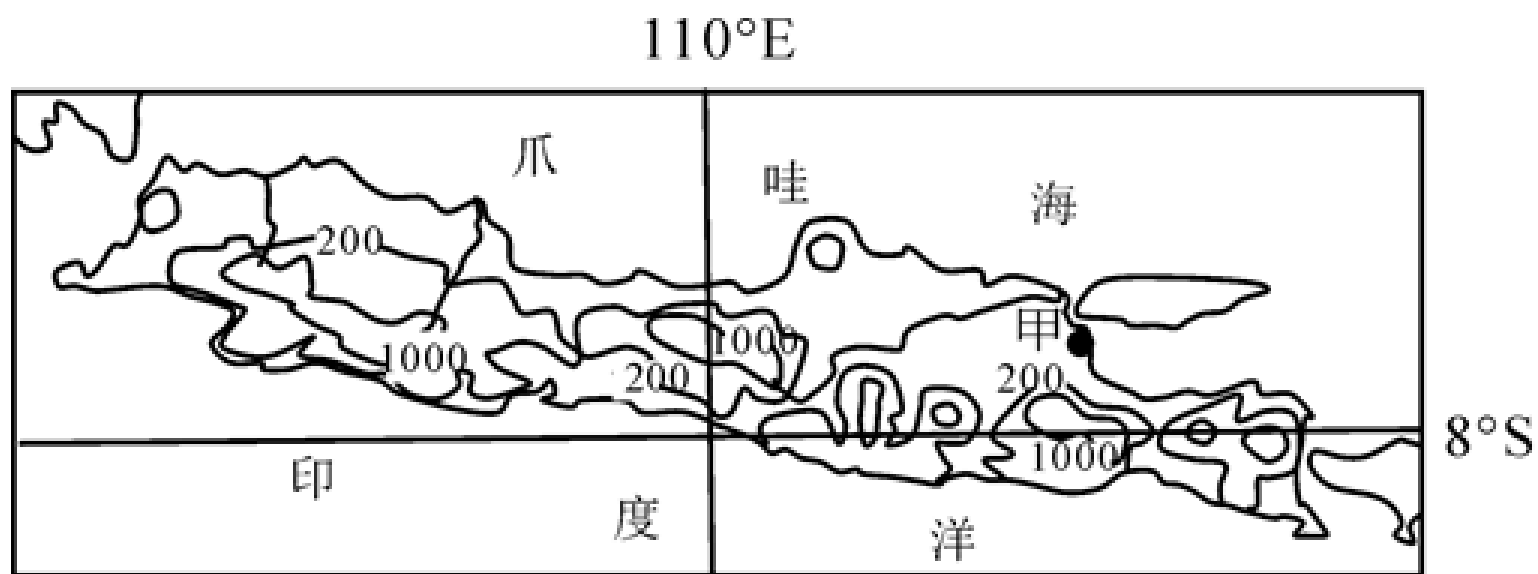


图 1

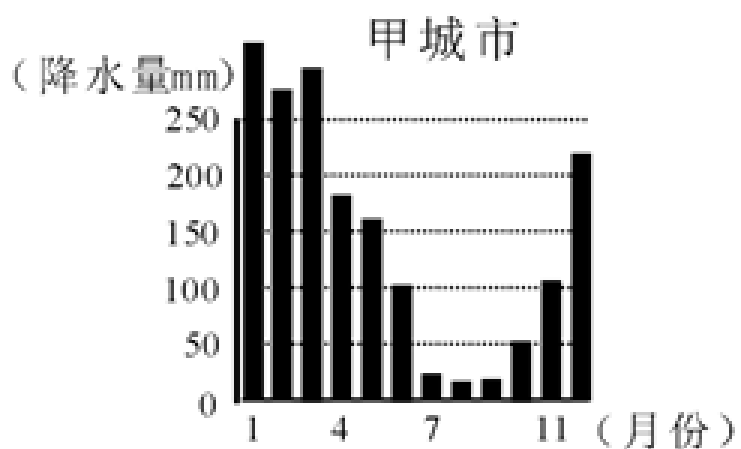


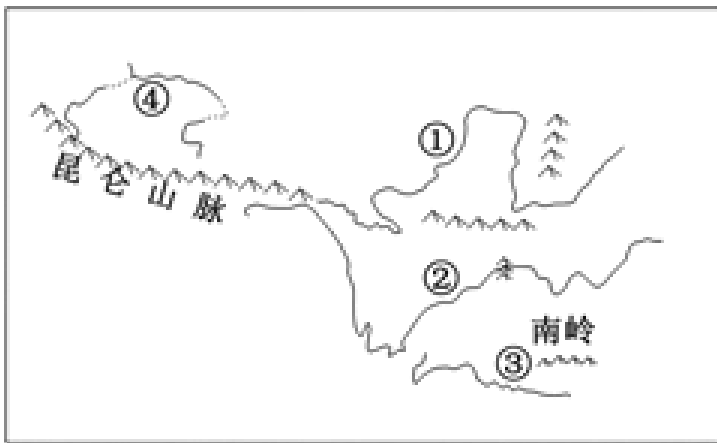
图 2

甲城市的降水特点是 ()

- A. 降水丰富，季节分配均匀

- B.降水丰富，年内变化明显
- C.降水稀少，季节分配均匀
- D.降水稀少，年内变化明显

21.读我国部分重要河流分布图，完成下列小题。

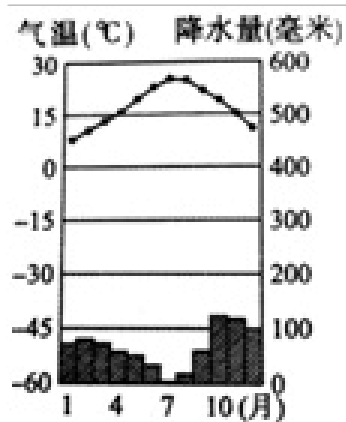


中国部分河流分布图

- (1) 图中四条河流，属于内流河的是 ()
- A. ①
 - B. ②
 - C. ③
 - D. ④
- (2) 图中四条河流，汛期最长的是 ()
- A. ①
 - B. ②
 - C. ③
 - D. ④
- (3) 我国外流河、内流河都有明显的夏季汛期，其主要原因是 ()
- A. 都受夏季风的影响，降水丰富
 - B. 都是因为夏季高温，冰雪融水多
 - C. 外流河主要受夏季风影响，内流河主要受夏季气温高影响
 - D. 外流河主要受夏季高温影响，内流河主要受夏季降水较多

22.如图是某地气温年变化曲线和逐月降水量柱状图，读图完成 (1) ~ (2) 题。

上图气候地可能位于 ()



- A. 南北纬 30° - 40° 的大陆东岸
- B. 南北纬 30° - 40° 的大陆西岸
- C. 南北回归线两侧大陆东岸
- D. 南北回归线两侧大陆西岸

23. 下列关于我国疆域和民族的说法正确的是 ()

- A. 我国少数民族人口主要分布在西南、西北和东北地区
- B. 从纬度位置看，我国地跨热带、温带和寒带
- C. 我国与14个国家隔海相望
- D. 那达慕节是傣族的传统节日

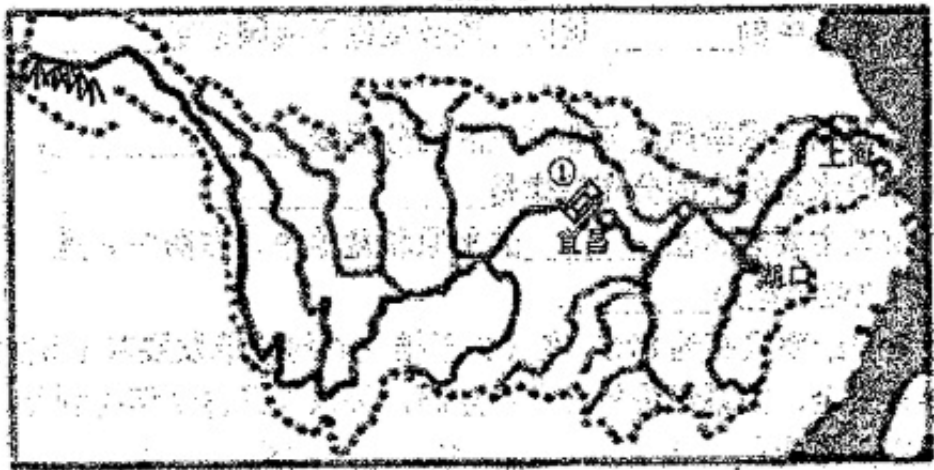
二、解答题 (本题共计 4小题，每题 5分，共计20分)

24. 阅读图文材料，完成下列问题。

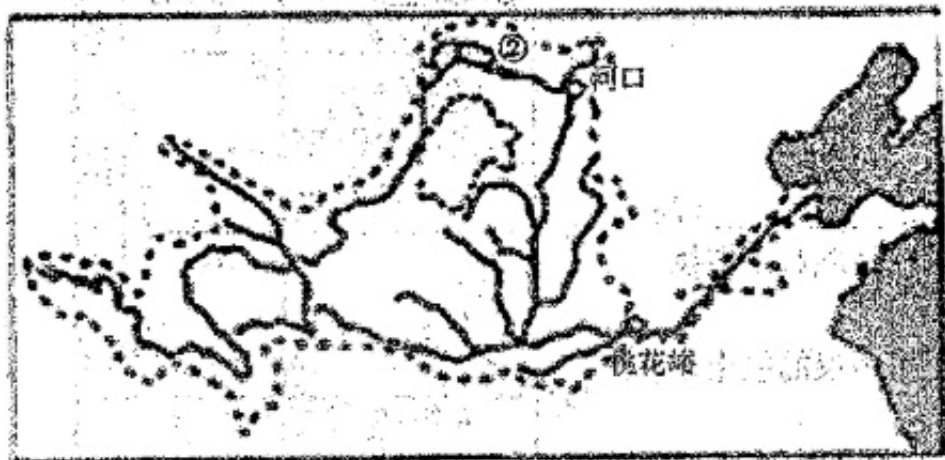
材料一：十九大报告倡导“绿水青山就是金山银山”的发展理念，长江经济带发展必须从中华民族长远利益考虑，走生态优先、绿色发展之路。

材料二：黄河流域的生态治理成效显著。近期，《瞭望》杂志报道：自2000年以来，黄河泥沙含量锐减，悄然出现变清态势。从呼和浩特河口村到郑州桃花峪，黄河中游，已然一河清水：直到开封以下，黄河才呈浅黄色。在非汛期，黄河80%以上的河段是清的。

材料三：下图为“长江与黄河水系示意图”。



图例
 河流 流域 水利枢纽 山脉



- (1) 长江发源于_____山脉，最终从上海市注入_____海，长江是我国巨大的“_____。”从上游、中游、下游来看，水能资源最丰富的是_____。图中①代表世界上最大的_____水利枢纽。
- (2) 黄河在桃花峪以下无支流注入，其原因是_____。在黄河上游干旱的宁夏和内蒙古境内，塑造了宁夏平原与②_____平原，这里由于引黄灌溉便利，所以农业较发达。
- (3) 根据材料一，从地理角度分析建设长江经济带应注意的问题有_____。
- (4) 根据材料二，黄河变清的主要人为原因是_____。

25. 读我国与世界纬度相近地区气温(C)比较资料，完成下列问题。

地点	纬度	1月平均气温	7月平均气温	气温年较差
齐齐哈尔	47°23' N	19.6	22.6	42.2
巴黎	48°58' N	3.1	19.0	15.9
北京	39°54' N	4.5	26.4	30.9
纽约	40°40' N	0.8	22.8	23.6

- (1) 计算四城市的气温年较差，并填入表中。
- (2) 四城市中，气温年较差最大的是_____，最小的是_____。
- (3) 1月份，北京的气温比纽约低_____C；7月份，齐齐哈尔比巴黎高_____C。
- (4) 由上表可以看出：冬季，我国是世界上同纬度气温最_____的地区；夏季，我国大部分地区是世界上同纬度除沙漠地区以外气温最_____的地区。

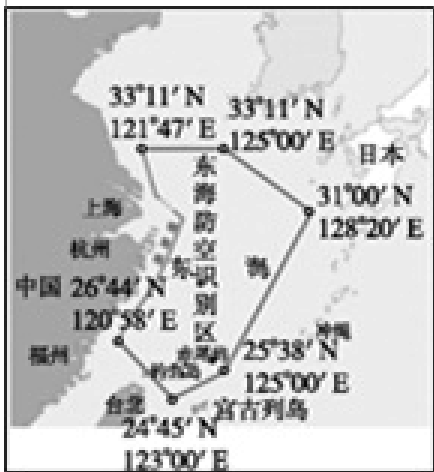
26. 读图，完成(1)~(2)题。

- (1) 该识别区主要位于我国与()之间()



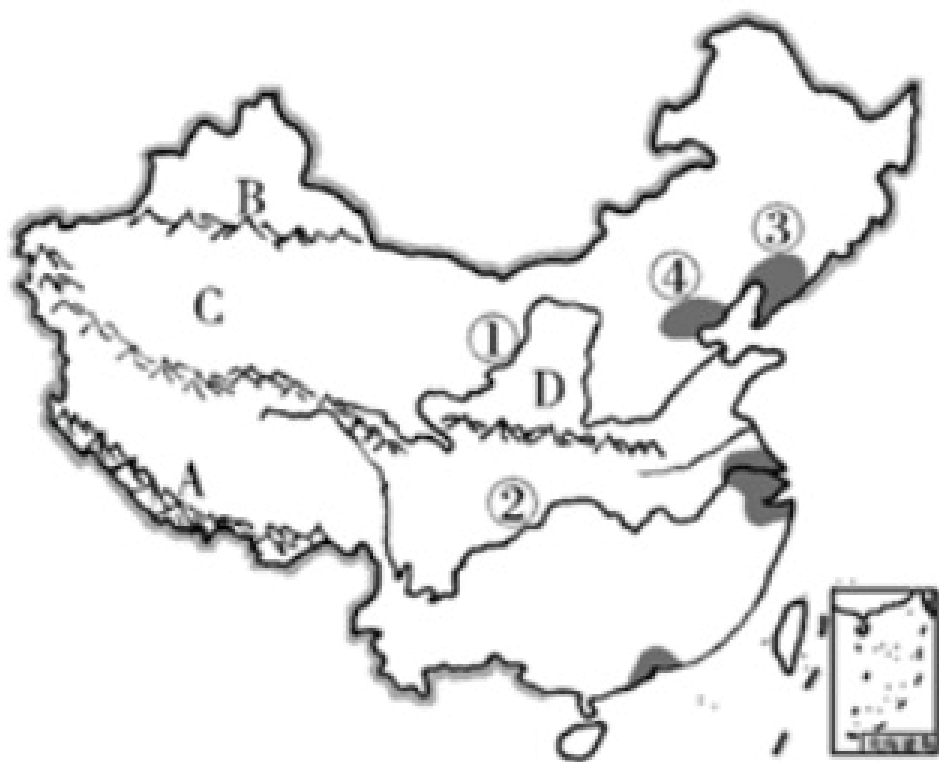
- A. 日本
- B. 俄罗斯
- C. 朝鲜
- D. 菲律宾

(2) 该识别区范围包括 ()



- A. 钓鱼岛
- B. 台湾岛
- C. 海南岛
- D. 冲绳岛

27. 读图，回答问题。



(1) 请填出图中字母所代表的地理事物名称。
 山脉B: _____, 盆地C: _____, 高原D: _____。

(2) 河流①②均发源于_____高原，向东注入太平洋，由此可推断我国地势特点是：地势呈阶梯状分布。

(3) 图中阴影部分是我国著名的四大工业基地。

图中③是_____工业基地，其核心城市是沈阳和_____；

图中④是_____工业基地，其核心城市是北京、_____和唐山。全国最大的综合性工业基地是_____。

(4) E高原的农业生产以_____（种植业或畜牧业）为主。

(5) ③④两个工业基地发展的有利条件是：_____。

A、交通便利，森林资源丰富 B、水力资源丰富、矿产资源丰富

C、交通便利、矿产资源丰富 D、劳动力资源丰富、多侨乡可引进外资

以上内容仅为本文档的试下载部分，为可阅读页数的一半内容。如要下载或阅读全文，请访问：<https://d.book118.com/367025022022006136>