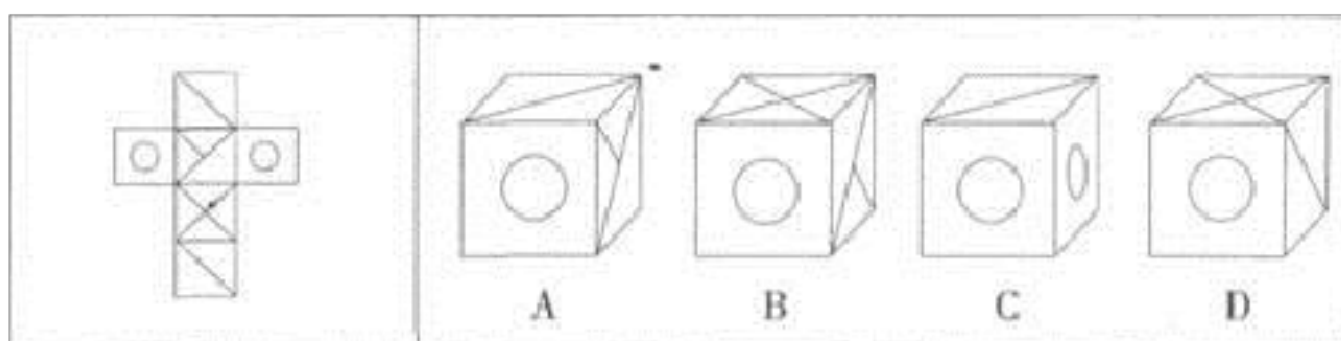


2022-2023 学年安徽省马鞍山市公务员省考 行政职业能力测验真题一卷（含答案）

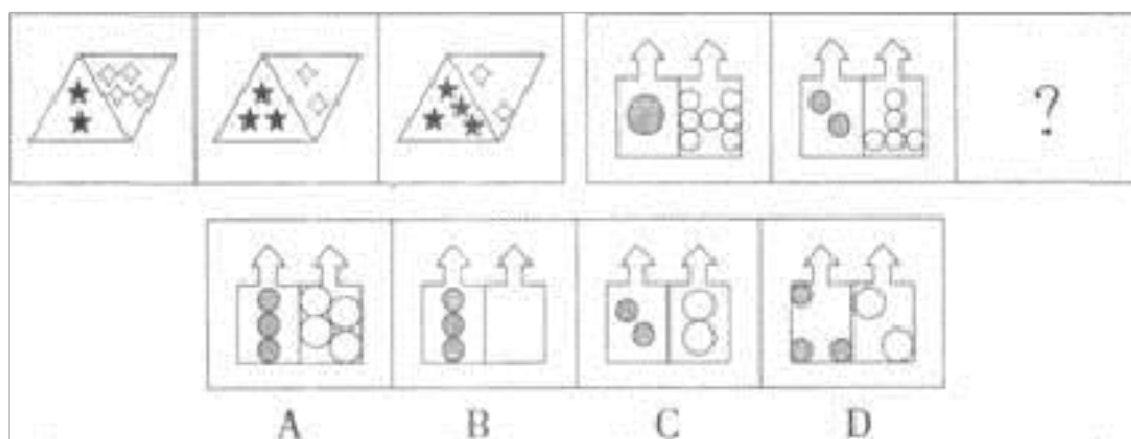
学校:_____ 班级:_____ 姓名:_____ 考号:_____

一、图形推理(6 题)

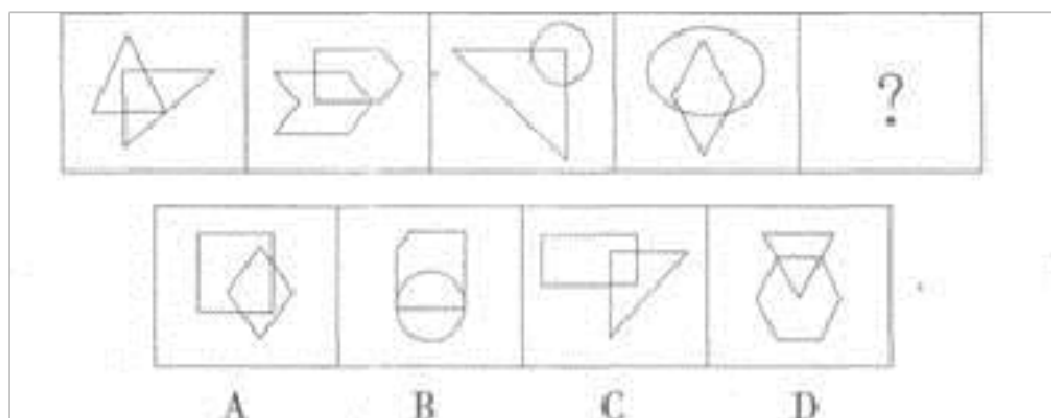
1. 左边给定的是纸盒的外表面, 右边哪一项不能由它折叠而成?()



2. 从所给的四个选项中, 选择最合适的一个填入问号处, 使之呈现一定的规律性。

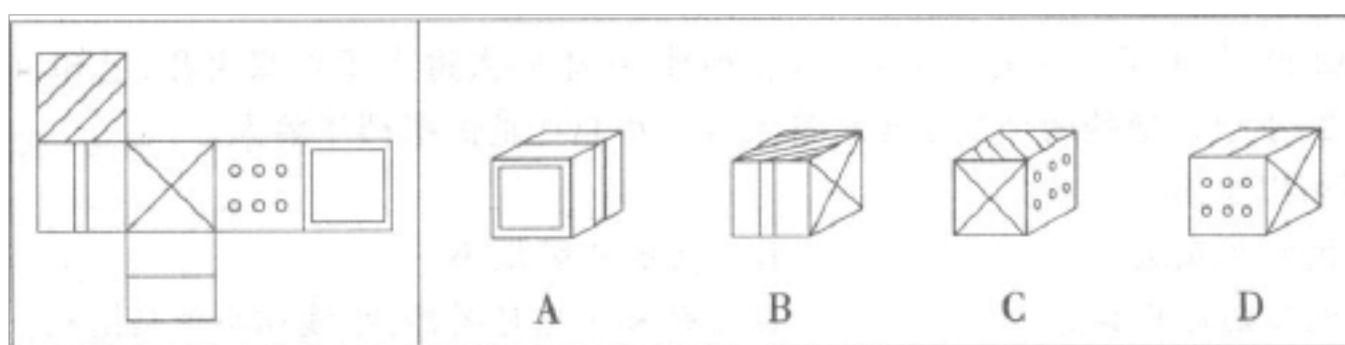


3. 从所给的四个选项中, 选择最合适的一个填入问号处, 使之呈现一定的规律性:

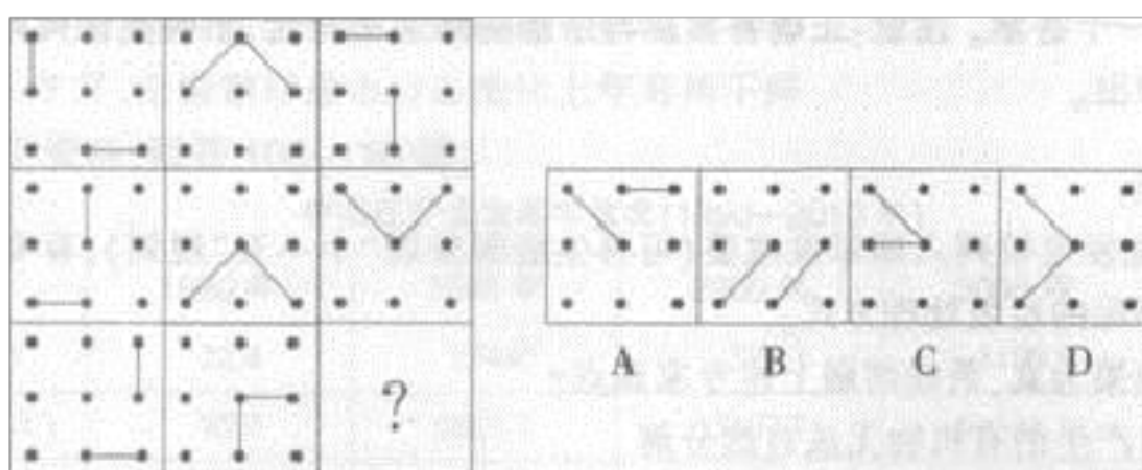


A. ①②③, ④⑤⑥ B. ①③④, ②⑤⑥ C. ①④⑥, ②③⑤ D. ①③⑥, ②④⑤

4. 左边给定的是纸盒的外表面, 下面哪一项不能由它折叠而成?



5. 从所给的四个选项中, 选择最合适的一个填入问号处, 使之呈现一定的规律性:



6. 从所给的四个选项中, 选择最合适的一个填入问号处, 使之呈现一定的规律性:

司	因	吾				
屹	岔	岱	咧	弯	峡	躬
弟	第	?	A	B	C	D

二、定义判断(10 题)

7. 资本输出：是指资本家、资本家集团或资本主义国家政府为了获得高额利润或利息对国外进行投资或贷款。

根据以上的定义，下面哪个不属于资本输出？

A. 在国外投资办工厂、开矿山 B. 私人银行和企业的对外贷款 C. 购买国外企业的有价证券 D. 向海外发行本国企业的股票和债券

8.

自我实现预言是指我们对他人的期望会影响到对方的行为，使得对方按照我们对他的期望行事。

根据上述定义，下列各项中属于自我实现预言的是：

A. 小周从小就希望自己能成为一个工程师。大学毕业后他终于到一家公司当上了软件工程师

B. 今天是小王的生日。她希望爸爸下班时能买生日蛋糕回来，果然爸爸在下班的时候买了一个生日蛋糕

C. 小佳本来是一个很普通的孩子，但他的父母望子成龙，不惜重金让他读市里最好的高中，但最终小佳也只上了一所普通大学

D.小路是沈老师班上一名普通的学生，可是有一天一位智力测量专家告诉沈老师小路很有数学天分，于是以后数学课上沈老师对小路格外关注，终于在半年后的考试中小路的数学成绩有了很大的提高

9. 立法解释：又称法律解释，是立法机关根据立法原意，对法律规范具体条文含义以及所使用的概念、术语、定义所作的说明。作出法律解释的目的是为了更准确地理解和适用法律。

根据以上定义，下列属于立法解释的是（ ）。

- A.全国人民代表大会常务委员会对法律的界限所作出的进一步说明
- B.最高人民法院对审理有关逃汇案件所作出的解释
- C.某知名大学的法学院教授对有关法律所作的解释
- D.国务院对行政法规作出的进一步说明

10.

不作为，是指以消极的没有外部举动的方式表现出来的法律行为。根据上述定义，下列不属于不作为的是：

- A.公安人员看到有人持枪抢劫银行却坐视不管
- B.行政复议机关对老王的复议申请一直拖延。不作任何处理
- C.李某因口角生恨而将迷幻药放入王某杯中
- D.交警对出租车司机违章驾驶熟视无睹

11. 定型是指人们头脑中存在的关于某一类人的固定形象，社会定型是

社会知觉的恒常性的表现，即对人或物抱有一种固定不变的看法与评价。

根据上述定义，下列哪项没有体现社会定型的现象？（ ）

A.在决定派谁去接客户时，领导选择了从没迟到过的王艳，认为让她去接客户比较稳妥

B.某企业在选聘制造精密仪器的员工时，比较偏向于选择德国人

C.当张华得知她的相亲对象是军人的时候，她觉得特别有安全感

D.某镇一大型工厂在举行经理一职的竞聘时，首先筛去了35岁的张某，因为该厂领导认为张某是年轻人，不符合该厂保守的作风

12.

非我所创综合症或 NIH 综合症，是社会、公司和组织中的一种文化现象，人们不愿意使用、购买或者接受某种产品、研究成果或者知识，不是出于技术或者法律等因素，而只是因为它源自其他地方。根据上述定义，下列选项中涉及非我所创综合症的是：

A.每年九一八纪念 E1 时小李都会将自己的日系车标摘下

B.甲国某公司经检验后退回一整批不合格的乙国进口光学器材

C.某国宣布全面禁止进口日本福岛第一核电站周边 8 个县水产品

D.有强烈爱国情结的某国居民只购买本国生产的手机

13. 边境贸易有两种形式：一是边民互市贸易，是指两国双方边境居民在规定的开放点或指定的集市上，以不超过规定的金额，买卖准许交换的商品。二是边境小额贸易，指边境地区的外贸公司，与邻国边境地区

的贸易机构或企业之间进行的小额贸易。

根据上述定义，下列属于边境小额贸易的是（ ）。

- A.中哈两国共同在边境口岸霍尔果斯建立边境经济合作区，为中哈边境企业提供贸易平台
- B.由于香港的许多商品都比内地便宜，住在深圳的小赵经常跟团到香港去疯狂购物
- C.位于中越边境的广西某公司经常会与越南的某公司进行两国特产和生活用品的贸易
- D.王某居住在中蒙边境地区的二连浩特市，经常自己开车到蒙古境内购买一些价格便宜的生活必需品

14.就业歧视是指没有法律上的合法目的和原因，而基于社会出身、性别、户籍、残障或身体健康状况、年龄、身高、语言等原因，采取区别对待、排斥或者给予优惠等任何违反平等权的措施侵害劳动者劳动权利的行为。

根据上述定义，下列属于就业歧视的是（ ）。

- A.某公司技术岗位招聘工程师，小孙在面试中表现突出收到 offer，但后因体检时被查出患有乙肝而被公司拒绝录用
- B.某航空公司招聘空乘人员，要求女性身高达到 168cm，男性身高达到 178cm
- C.某高校招生办招聘工作人员，由于需要经常出差，招聘启示上明确表示男性优先
- D.盲人姑娘董某在北京报名参加播音专业自考时被拒绝发放准考证

15.

社会控制是指运用社会力量使人们遵从社会规范，维持社会秩序的过程。

既指整个社会或社会中的群体、组织对其成员行为的指导、约束和裁判，

也指社会成员间的相互影响、相互监督、相互批评。社会控制可分为内

在控制和外在控制。内在控制是人们学习一定社会群体的行为规则的过程。

外在控制则是通过外部压力使人们遵守一定社会规范的过程。 根

据上述定义，下列属于内在控制的是：

A.社会舆论的监督也是实现领导干部廉洁自律的途径之一

B.三岁的小芳在父母的教育下知道了过马路要走斑马线

C.某地在警方新一轮的整肃之下， 社会秩序明显好转

D.改革开放以来， 国家高度重视并奖励科研， 高水平成果层出不穷

16.公共池塘资源就是同时具有非排他性和竞争性的物品，是一种人们共

同使用整个资源系统但分别享用资源单位的公共资源。

根据上述定义，下列各项属于公共池塘资源的是（ ）。

A.大自然供给的空气

B.社区群体的和平与安全

C.地下水

D.有线电视

三、常识判断(10 题)

17. 《三十六计》体现了我国古代卓越的军事思想。下列不属于《三十六计》的是：

A.浑水摸鱼 B.反戈一击 C.笑里藏刀 D.反客为主

18. 我国食品中三聚氰胺限量值规定中，液态婴儿配方食品三聚氰胺限量应当按照粉状婴儿配方食品的 1 毫克/千克限量折算，国际标准()是一致的。

A.0 . 15mg/kg B.0 . 1mg/kg C.0 . 2mg/kg D.0 . 5mg/kg

19.转基因食品是利用分子生物学技术，将某些生物的基因转移到农作物中去，改造生物的遗传物质，使其在性状、营养品质、消费品质方面向人类所需要的目标转变。但其安全性受到广泛质疑。卖给消费者的第一种转基因食物是：

A.玉米 B.大豆 C.番茄 D.水稻

20. 2012 年农村工作会议指出，2013 年的农村工作要在()中着力促进农民增收。

A.超越城镇居民收入增长速度 B.努力与城镇居民收入同步增长 C.提高整体生活水平 D.收入倍增

21.下列形容天气的语句是：

A.夜来风雨声，花落知多少

B.四季无寒暑，一雨便成秋

- C.人间四月芳菲尽，山寺桃花始盛开
- D.五原春色归来迟，二月垂柳未挂丝

22.

宪法修正案的通过必须有（ ）同意。

- A.全国人大会议出席代表的三分之二
- B.全国人大会议的全体代表的三分之二
- C.全国人大会议的全体代表的过半数
- D.全国人大会议出席的代表的过半数

23.

夏天，打开冰箱冷冻室的门，常常看到冷冻室中冒出一股白雾，这是：

（ ）

- A.冰箱里的冰升华后，又凝结成小水滴
- B.冰箱里原有的水蒸气凝结成的小水滴
- C.冰箱里的水变为水蒸气
- D.冰箱外部空气中的水蒸气凝结成的小水滴

24. 依我国《民法通则》规定，关于委托书授权不明的民事责任，正确的说法是：

- A.由代理人向第三人承担民事责任
- B.被代理人应当向第三人承担民事责任，代理人负连带责任
- C.代理人应当向第三人承担民事责任。被代理人负连带责任

D.由被代理人承担民事责任

25.财政是国家治理的基础和重要支柱,科学的财税体制是优化资源配置、维护市场统一、促进社会公平、实现国家长治久安的制度保障。下列有关深化财税体制改革不正确的是:

A.实施全面规范、公开透明的预算制度

B.完善地方税体系,逐步提高直接税比重

C.逐步建立综合与分类相结合的个人所得税制

D.加快房地产税立法并适时推进改革,加快能源税改革,推动环境保护费改税

26.太阳系的行星中距离太阳最近的是:

A.水星 B.金星 C.地球 D.海王星

四、数量关系(10 题)

27.

一件工作,若由甲单独做 72 天完成,现在甲做 1 天后,乙加入一起工作,合作 2 天后,丙也一起工作,三人再一起工作 4 天,完成全部工作的 $\frac{1}{3}$ 。又过了 8 天,完成了全部工作的 $\frac{5}{6}$,若余下的工作由丙单独完成,还需要几天?

A.4 B.6 C.8 D.9

28.1, 2, 6, 16, 44, () ()

A.66 B.84 C.88 D.120

29.小李乘公共汽车去某地,当行至一半路程时,他把座位让给一位老人,然后一直站着,在离终点还有 3 千米时,他又坐下。在这次乘车

过程中，若他站的路程是坐的路程的三分之一，则小李这次乘车的全程为（ ）。

A. 8 千米 B. 9 千米 C. 12 千米 D. 14 千米

30.某单位招待所有若干间房间，现要安排一支考察队的队员住宿。若每间住 3 人，则有 2 人无房可住；若每间住 4 人，则有一房间不空也不满，则该招待所的房间最多有：

A.4 间 B.5 间 C.6 间 D.7 间

31.第 20 题 有一个四位数，把它从中间分成两半，得到前、后两个两位数，将前面的两位数的末尾添一个零，然后加上前后两个两位数的乘积，恰好等于原来的四位数，又知道原数的个位数字为 5，这个四位数是（ ）。

A.1985 B.1795 C.1895 D.1995

32.两口圆柱形水井，甲井的水深是乙井的一半，水面直径是乙井的 2 倍，蓄水量为 40 立方米。问乙井的蓄水量为多少立方米？

A.20 B.40 C.60 D.80

33.有一块边长 24 厘米的正方形纸片，如果在它的四个角各剪去一个小正方形，就可以做成一个无盖的纸盒。现在要使做成的纸盒容积最大，剪去的小正方形的边长应为几厘米？

A.2

B.3

C.4

D.5

34.一个弹力球从 128 米的高处自由落下，每次着地后又跳到原来高度

以上内容仅为本文档的试下载部分，为可阅读页数的一半内容。如要下载或阅读全文，请访问：<https://d.book118.com/368020130015006027>