

# 第四章 中国的经济与文化

## 第三节 交通运输业

(第1课时)

# 目录

01 课程标准

02 思维导图

03 课前预习

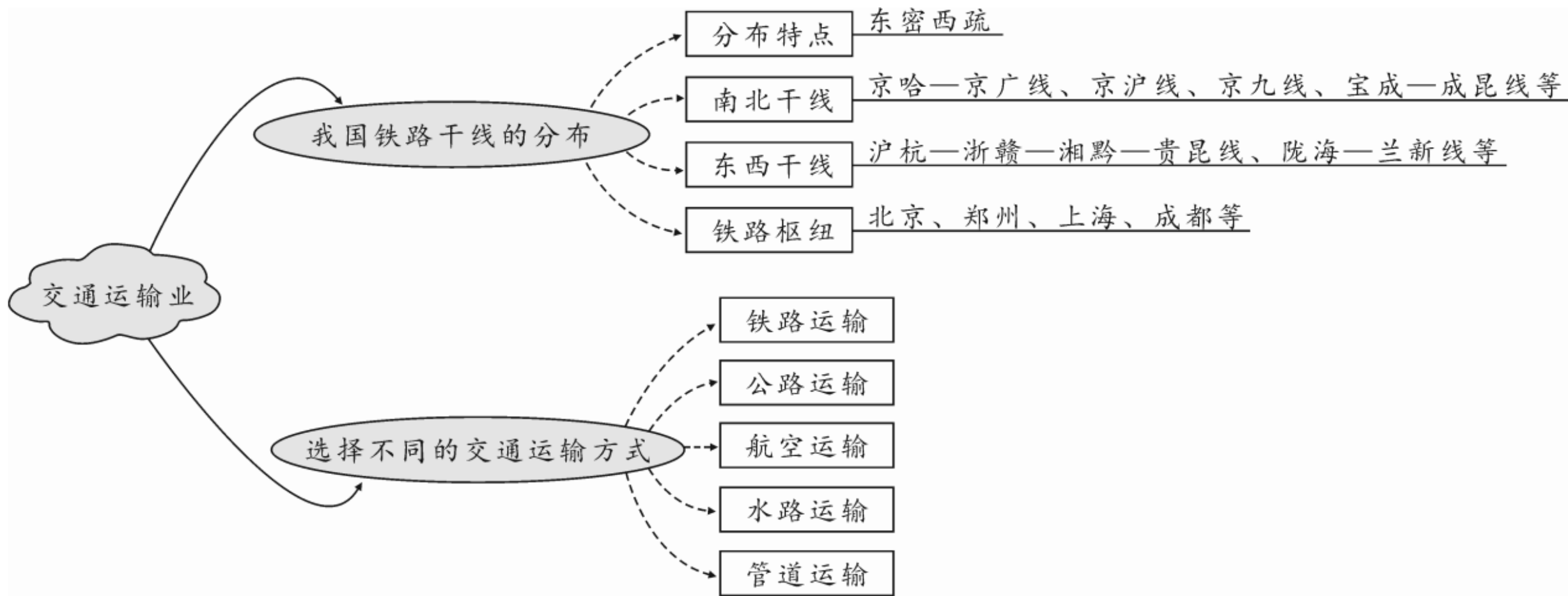
04 精巧点拨

05 同步训练

06 素养提升

1. 比较不同交通运输方式的特点，初步学会选择恰当的交通运输方式
2. 运用地图说出我国铁路干线的分布格局

# 思维导图



## 课前预习

### 铁路运输

1. 在各种交通运输方式中，铁路运输是我国最主要的运输方式。除澳门外，其他各省级行政区都有铁路运行。

## 2. 我国主要铁路干线与铁路枢纽。

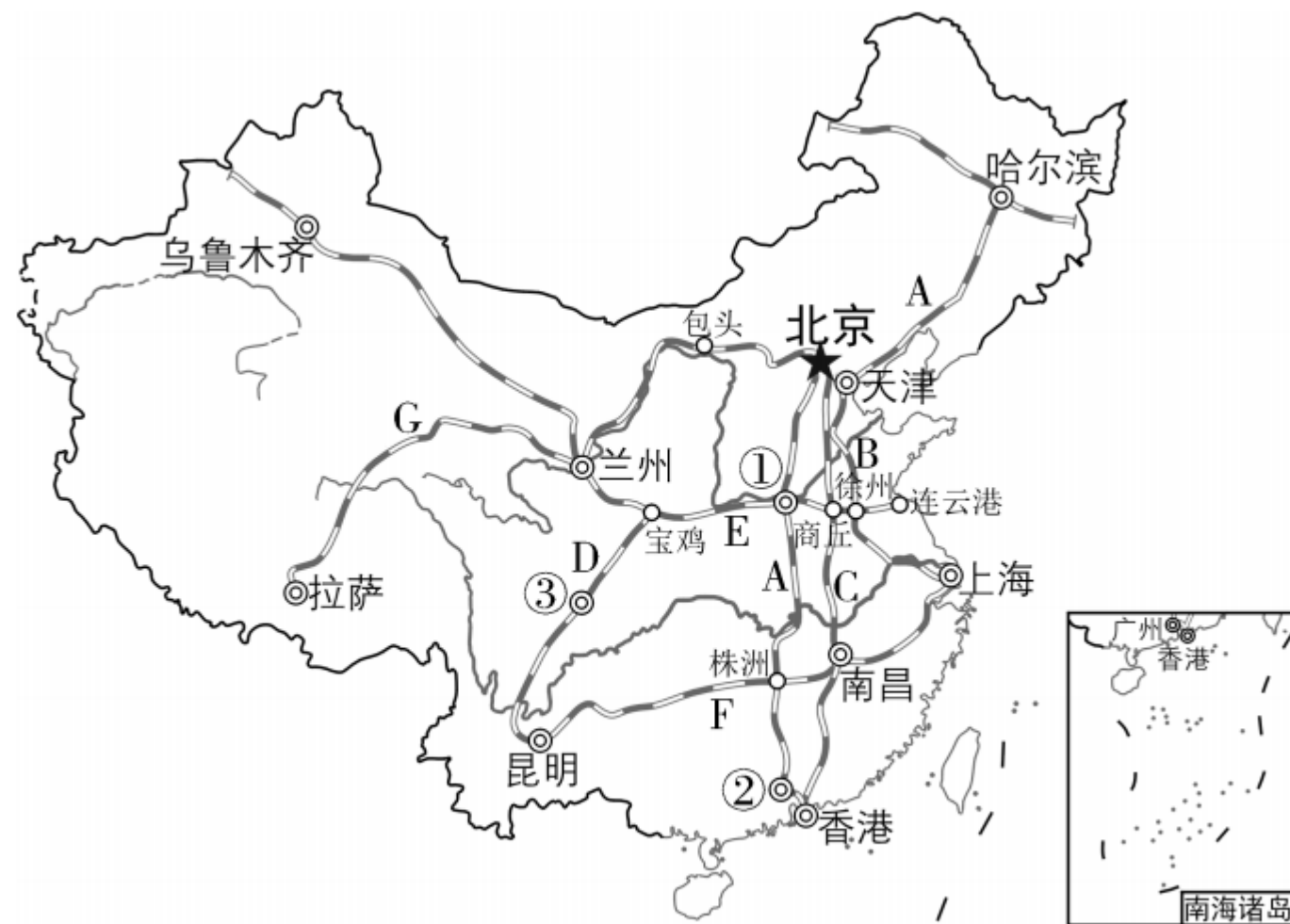


图 4-3-1

(1) 写出图中字母所代表的铁路干线名称。

A: 京哈—京广线 ;

B: 京沪线 ;

C: 京九线 ;

D: 宝成—成昆线 ;

E: 陇海—兰新线 ;

F: 沪杭—浙赣—湘黔—贵昆线 ;

G: 青藏铁路 。

(2) 写出图中数字序号所代表的铁路枢纽名称。

① 郑州； ② 广州； ③ 成都。

(3) 我国铁路干线分布特点：东部密集，西部稀疏。



## 精巧点拨

1. 在各种交通运输方式中，铁路运输是我国最重要的运输方式。

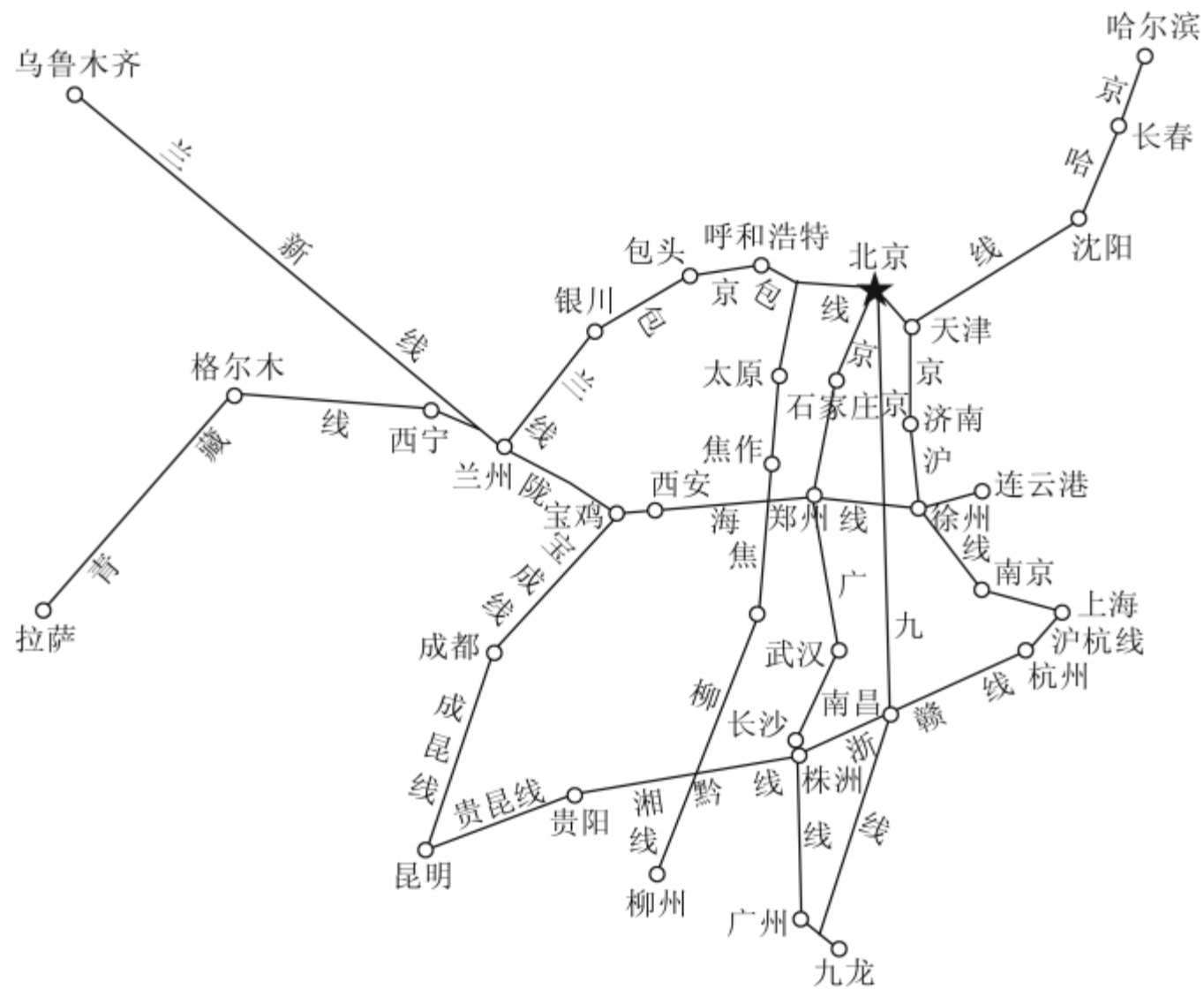


图 4-3-2

## 2. 我国主要铁路干线及其起止点。

表4-3-1

走向	干线名称	起止点
南北干线	<u>京沪</u> 线	北京—上海
	<u>京九</u> 线	北京—香港九龙
	京哈— <u>京广</u> 线	哈尔滨—北京—广州
	宝成— <u>成昆</u> 线	宝鸡—成都—昆明

## 续表

走向	干线名称	起止点
东西干线	京包— <u>包兰</u> 线	北京—包头—兰州
	<u>陇海</u> —兰新线	连云港—兰州—乌鲁木齐
	沪杭— <u>浙赣</u> —湘黔— <u>贵昆</u> 线	上海—杭州—南昌—株洲 —贵阳—昆明

### 3. 我国主要的铁路枢纽。

表4-3-2

铁路枢纽	所属省级行政区域单位	经过该枢纽的铁路干线
北京	北京市	<u>京哈</u> 线、京包线、京沪线、京九线、京广线
<u>郑州</u>	<u>河南</u> 省	京广线、陇海线
<u>徐州</u>	<u>江苏</u> 省	京沪线、陇海线
兰州	<u>甘肃</u> 省	包兰线、陇海线、 <u>兰新</u> 线
<u>株洲</u>	湖南省	<u>京广</u> 线、浙赣线、湘黔线
<u>成都</u>	四川省	<u>宝成</u> 线、成昆线

## 同步训练

### 一、单项选择题

#### 知识点

#### 铁路运输

（核心素养·区域认识）截至2020年年底，全国铁路运营里程达14.6万千米，其中高铁近3.8万千米，铁路建设取得历史性成就，对经济社会发展发挥了重要的支撑作用。据此读中国铁路干线分布简图（图4-3-3），完成1~3题。

1. 2022年北京冬季奥运会将至，武汉的小东和家人计划坐火车去北京观看比赛，他们最有可能经过的铁路线是（ D ）

- A. 宝成线
- B. 京九线
- C. 兰新线
- D. 京广线

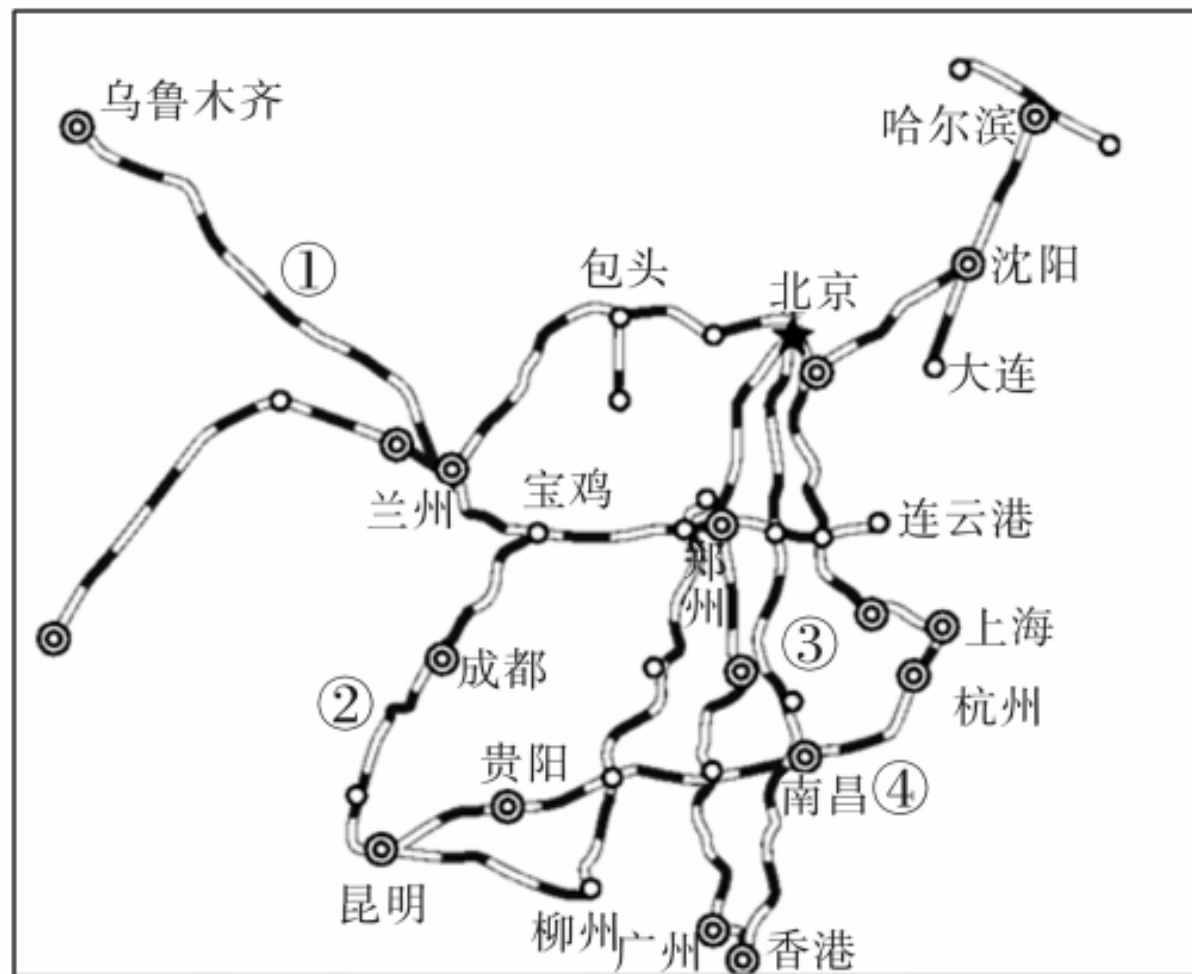


图 4 - 3 - 3

2. 下列关于我国铁路干线分布的描述，正确的是（ D ）

A. 贵昆线呈南北方向延伸

B. 京广线呈东西方向延伸

C. 京沪线经过的铁路枢纽有北京、长沙、上海

D. 从整体上看我国铁路运输网东部稠密，西部稀疏

3. 下列铁路线穿越了“大漠孤烟直”之境地的是（ A ）

A. ①

B. ②

C. ③

D. ④

以上内容仅为本文档的试下载部分，为可阅读页数的一半内容。如要下载或阅读全文，请访问：  
<https://d.book118.com/375321112023012002>