



第5课 中古时代的东亚和西亚





北回归线

赤道

南回归线

陸地と海洋

地球の表面には、大陸と島々からなる陸地と、三からなる海洋がある。陸地と海洋の面積比は約3：広い。また陸地の2/3は北半球にある。海洋には大洋底(海盆)がひろがり、その中を長く連続する海

地殻変動の激しい造山帯

地球の表面部は十数枚のプレートとよばれるかたられていて、これらがさまざまの方向にゆっくりと滑プレートが押しあう境界は、造山運動がおこる帯は

80——第11章 人間と環境



图 17 日本奈良时代服饰

日本奈良时代服饰

日本地理教科书一段课文

思索：日本的文字、古代衣饰与我国文字、衣饰是否有相同之处？



風高雲自天崩
投之國之如指雲漢

日本老式文化无处不洋溢着浓郁的中华文化气息



- 甚至有些日本天皇本身就是杰出的中文书法家



- 优雅漂亮的和服是根据唐王朝的妇女衣饰改良而来





要求改革的中大兄皇子联合
贵族中臣镰足发动政变，刺杀了
把持中央政权的旧贵族苏我入鹿，
拥立孝德天皇，改元大化。

風高雲去自天朝
披瀝潤之如指掌
惠止觀妙門頂戴
之古仙居之舍似

646年1月1日，孝德
天皇颁布改新诏书，仿效
中国隋唐政治经济制度，
进行改革。

材料分析： 阅读课文P29最终自然段，
了解大化改新的内容，请回答：

(1) 这是哪个国家在何时颁布的改革法令？
它是由谁颁布的？

日本 646年 孝德天皇

(2) 这次改革历史上称为？

大化改新

(3) 这次改革的性质是什么？

自上而下的政治改革

(4) 这次改革后日本的中央、地方行政机构是怎样设置的？这次改革是效仿哪国的什么制度进行？

天皇

弹正台

太政官

神祇官

宫内省

大藏省

刑部省

兵部省

民部省

治部省

式部省

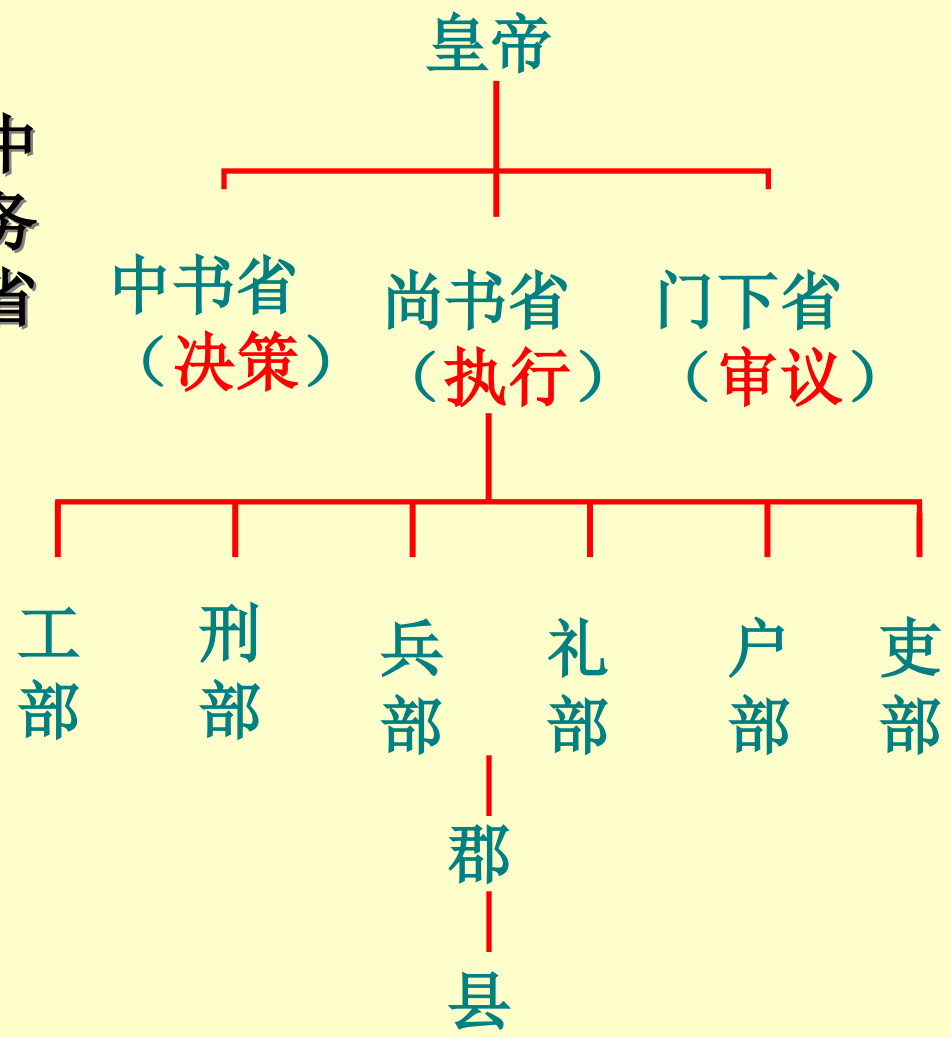
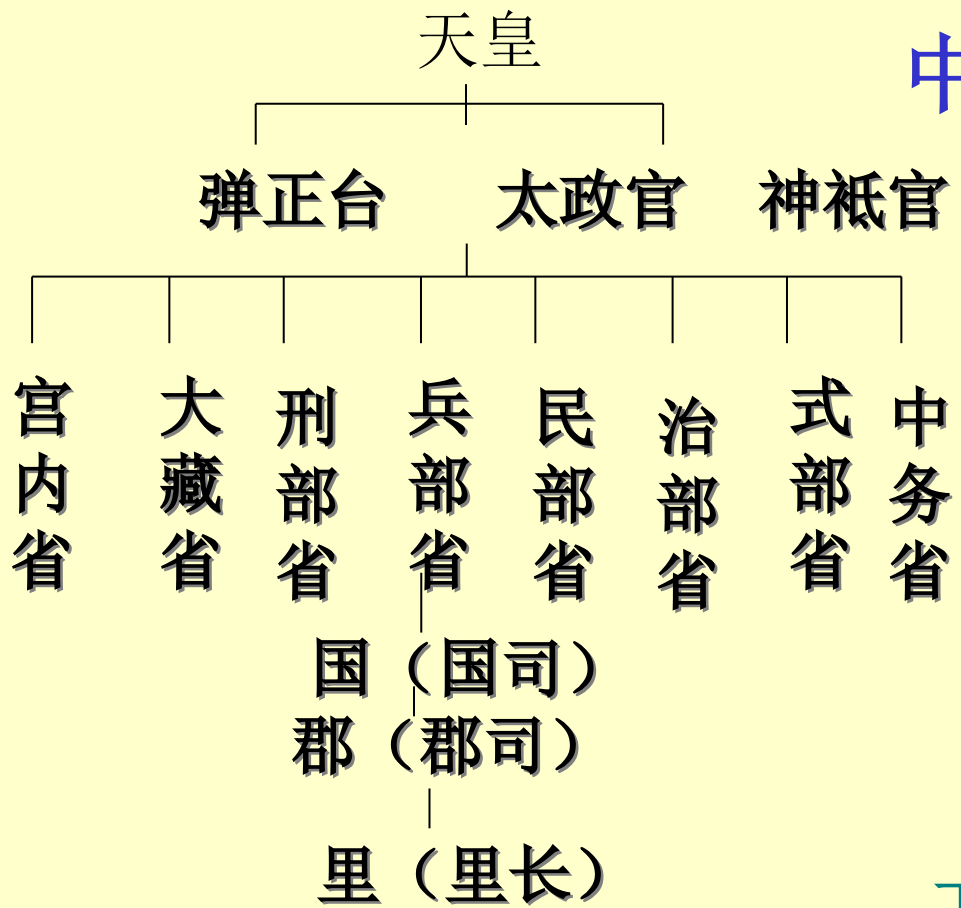
中务省

国 (国司)

郡 (郡司)

里 (里长)

中国 隋唐 三省六部制



(5) 大化革新有何历史意义？从这次改革中我们应受到什么启示？

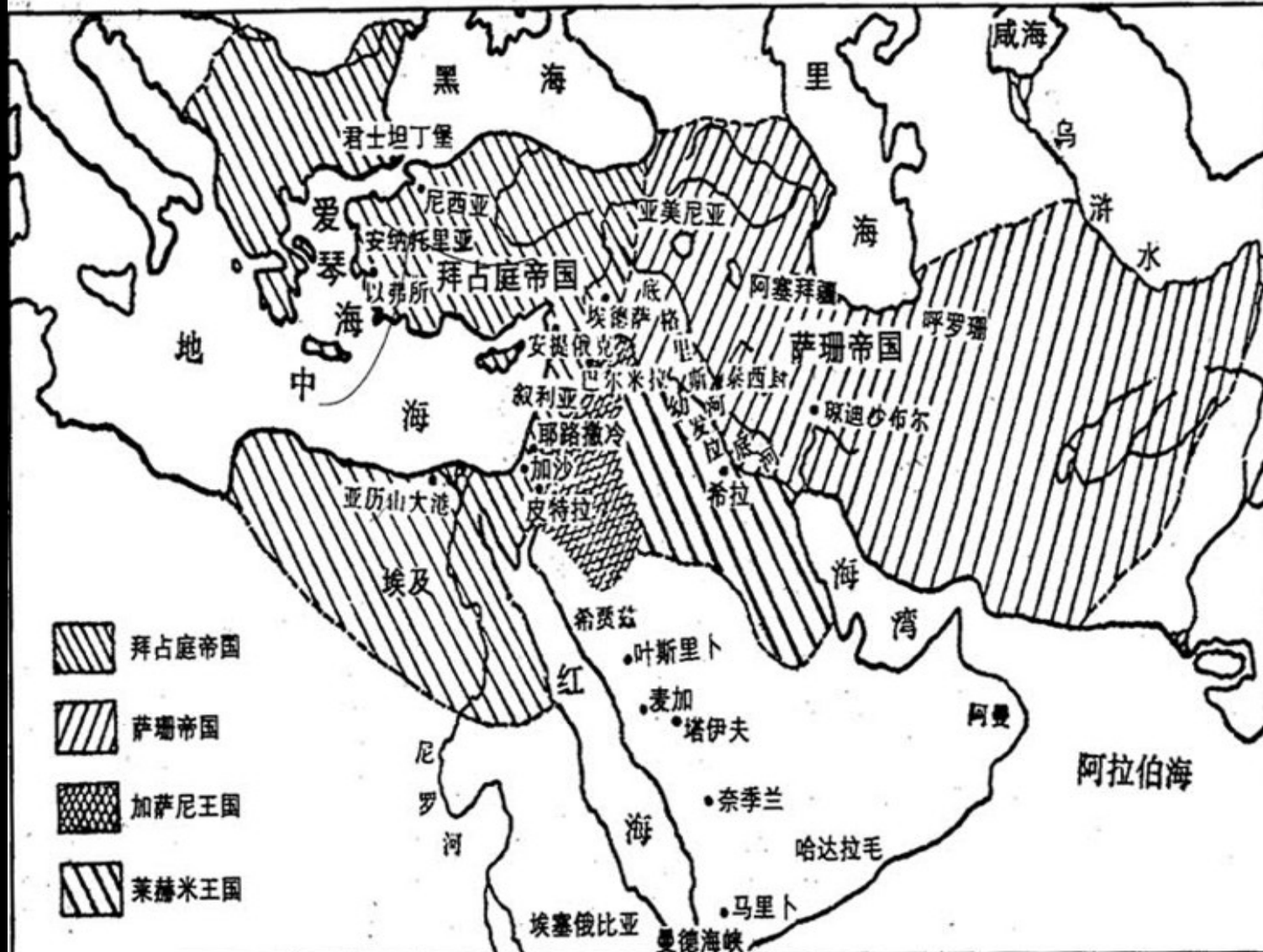
为日本社会经济的进一步发 展开辟了道路。

启示：正视本身落后，仔细学习先进，主动改革求新，与时俱进。



二. 伊斯兰教的兴起

伊斯兰教以前的阿拉伯半岛(约公元600年)




朝拜



旅途中的穆斯林按时礼拜

这是怎样巨大的凝聚力？



以上内容仅为本文档的试下载部分，为可阅读页数的一半内容。如要下载或阅读全文，请访问：<https://d.book118.com/378125025054006131>