

# 2010-2023 历年安徽皖南八校高三上期第一次联考历史试卷（带解析）

## 第 1 卷

### 一. 参考题库(共 25 题)

1.“‘五四’宪法开创新纪元，十年‘文革’遭遇磨难中断，十一届三中全会得以恢复发展，十八大以来制度日趋完善。如今您正充满生机活力，肩负着为人民当家做主的重托，迈着矫健步伐豪迈向前。”该诗赞颂的制度是

- A. 政治协商制度
- B. 民族区域自治制度
- C. 基层民主制度
- D. 人民代表大会制度

2.下表为 19 世纪 70—90 年代中国丝织品出口情况，对于表中数据认识正确的是

年份 绸缎出口值

年份 绸缎出口值

年份 绸缎出口值

年份 绸缎出口值

1873 2433038

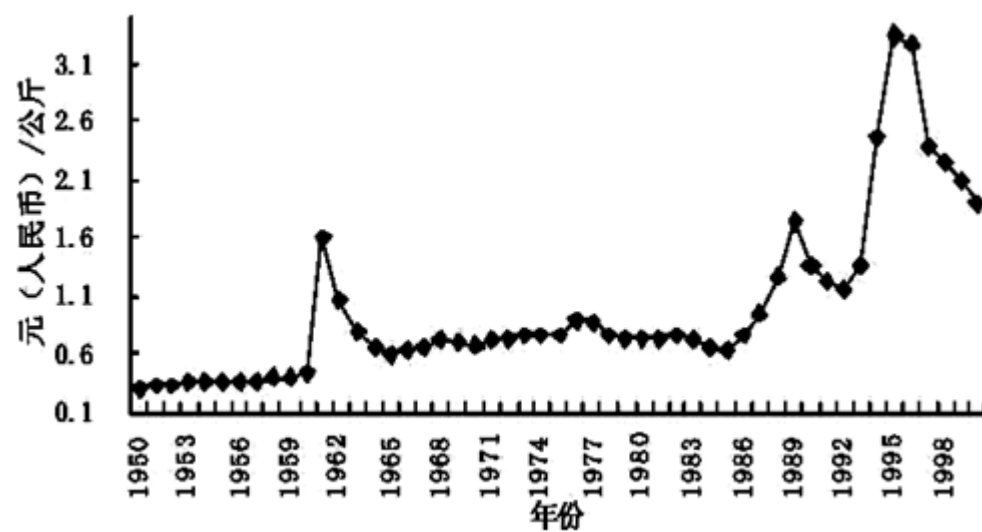
1874 2580142

1875 4198808

1876	4158438
1877	4620296
1878	4749967
1879	4748945
1880	5655488
1881	4851194
1882	3938302
1883	4679427
1884	4876519
1885	4745229
1886	6660559
1887	6743596
1888	8117766
1889	7459201
1890	5563161
1891	6815616
1892	7479073
1893	8382481
1894	8604866

- A. 中国成为西方列强的原料产地
- B. 中国丝织技术仍领先于世界
- C. 国际市场需求推动丝织业发展
- D. 政府放宽对民间设厂的限制

3. 观察下图《解放后市场米价衔接数据图》，分析造成 90 年代中国市场大米价格波动的主要因素是



- A. 建立市场经济体制
- B. 中国加入世贸组织

- C. 城市经济体制改革
- D. 科技兴农成效显著

4.清代学者包世臣在《郡县农政》一书中说：“凡治稻皆宜精，虽地宽之处，广种薄收者多耗本，……可举代田之法，每田一区，分三分，每岁更代，收成过漫种不治者。”“代田之法”最早出现于

- A. 西周时期
- B. 春秋战国
- C. 西汉时期
- D. 明清时期

5. (18分) 阅读材料，回答下列问题：

材料一



图 1

图 2

材料二

政治制度是现实的，每一制度，必须针对现实，时时刻刻求其能变动适应。任何制度，断无二三十年而不变的，更无二三百年而不变的。但无论如何变，一项制度背后的本原精神所在，即此制度之用意的主要处则仍可不变，于是每一项制度，便可循其正常轨道而发展。此即是此一项制度之自然生长。

——摘编自钱穆《中国历代政治得失》

材料三 英国是一个稳重的民族，它注重实际而不耽于空想，长于宽容而不爱走极端，在世界历史的长剧中，属于英国的惊心动魄的场面着实不多见。但正是这个不爱走极端的稳重的民族为现代世界（至少是西方世界）奠定了好几块基石。

——钱乘旦、陈晓律《在传统与变革之间——英国文化模式溯源》

请回答：

(1) 比较材料一中的图 1 和图 2，提取两幅图所反映出的历史变迁的信息。（4 分）

(2) 结合古代中国政治制度演变的史实，对材料二中的“变动”与“不变”的内涵加以解读。（8 分）

(3) 根据材料三和所学知识，指出英国为现代世界奠定“基石”的主要表现。（6 分）

6. 巴黎公社会议决定，在市政厅开设公共食堂。公社委员因时间紧张或公务缠身，就在食堂自己掏钱买定价份饭吃。饭菜的价格和花样都是有规定的，午餐标准 1.5 法郎，晚餐 2 法郎，每人只准喝半瓶劣质葡萄酒。就是这样一个公共食堂，也严禁公社委员们的家属使用。材料主要反映了

A. 公社因财政紧张提倡节俭

B. 巴黎公社倡导公仆意识

C. 公社的公共食堂管理规范

D. 公社实行平均主义原则

7.马汉在《海权论》中指出：“谁拥有了长江流域这个中华帝国的中心地带，谁就具有了最可观的政治权威。出于这些原因，外部海上国家应积极、有效地对长江流域施加影响。”以下能印证作者观点的事件是

- A. 《北京条约》的签订
- B. 八国联军发动侵华战争
- C. 《马关条约》的签订
- D. 武昌起义后列强猛攻武汉

8.下幅漫画反映的是某一时期的对外政策，这一政策



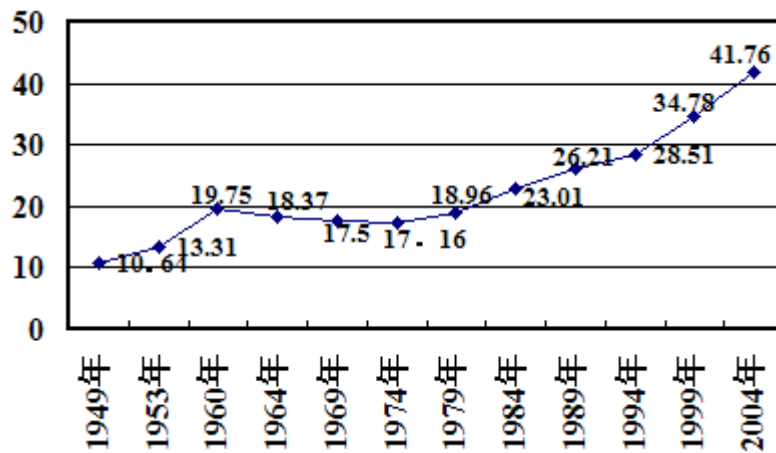
- A. 标志着冷战格局正式拉开序幕
- B. 其主观动机与效果保持了一致
- C. 目的是推动欧洲的一体化进程
- D. 实际上扶植了潜在的竞争对手

9.公元 212 年罗马皇帝卡拉卡拉颁布法令，宣布所有罗马帝国出身自由的男人将被给予完整的罗马公民权，同样地，所有帝国自由出身的女人拥有与罗马女人相同的权利。该法令

- A. 有利于巩固罗马帝国的统治
- B. 表明罗马法律体系走向成熟

- C. 消除了境内各民族间的矛盾
- D. 确立了男女平等的法律原则

10. 下图为新中国城镇人口在总人口中所占比重的变化曲线图。其中，城镇人口比重下降的主要原因是



- A. 国民经济比例严重失调
- B. 党的“左”倾错误影响
- C. 人民公社化运动的影响
- D. “文革”扩展到经济领域

11. 有人说，“电从一诞生开始，就在现代社会扮演了‘动脉’和‘神经’的双重角色”。有助于成功扮演这两个角色的重要发明分别是

- A. 发电机电影
- B. 电动机电话
- C. 电灯电报
- D. 电车无线电

12. 1871年《德意志帝国宪法》中第四条有规定：“

制定海关与贸易的立法，及关于帝国所需赋税立法；规定度量衡与货币制度，以及制定关于发行有保证金的或无保证金的纸币之基本规章。组织统一保护德国海外贸易、德国航运及其航海旗帜……。”这些规定

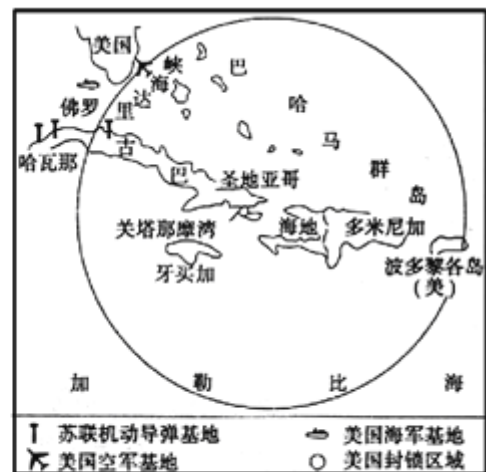
- ①促进了德国经济迅速发展
- ②说明帝国不够重视工业发展
- ③有利于巩固帝国的统一
- ④表明德国的代议制不够彻底

- A. ①②
- B. ③④
- C. ①③
- D. ②④

13.观察下列图片，它们折射出共同的主题是



图一



图二

- A. 美国与苏联的冷战对峙
- B. 美苏两极格局框架的奠定
- C. 北约与华约的激烈对抗
- D. 两大阵营已出现直接对抗

14. (18分) 阅读材料，回答下列问题：

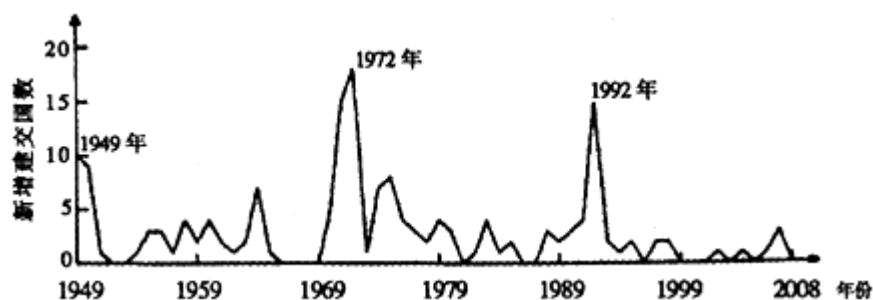


材料一 19 世纪 50 年代即便是经世派的林则徐、龚自珍等士大夫在书写西方国家的名称时，一般是加兽字偏旁或加口字偏旁以示鄙夷，但 60、70

年代后，这种写法已很少出现，而且“夷”字使用的频率也逐步减少，与英国订立的《天津条约》甚至规定，官方文件中禁止使用“夷”字。第一次鸦片战争后，魏源就认为西方人与中国人本质上是一样的，西方人有知识、讲礼貌，正直，不应该称之为蛮夷。……与西方有关的事务在 60 年代之前一般称“夷务”，但此后则由“洋务”、“西学”之类的褒义型概念替换了，这虽然有列强武力逼凌的因素，其中也透露出晚清对外观念和意识的转变。

——摘自齐廉允《“大国意识”与“世界意识”的错位——中国传统外交观考察》

材料二 1949—2008 年中国与外国建交状况曲线图



材料三 包容可以说是人类文明进步的标志。早在中国古代就有思想家明确地提出“和而不同”、“和为贵”的理念。……中国是一个负责任的大国，主张国家间应相互尊重、平等相待、和平共处，坚持联合国宪章和国际关系基本准则，倡导通过和平方式和外交渠道解决分歧与争端，反对诉诸武力和干涉别国内政。

——李克强在英国智库的演讲《共建包容发展的美好世界》

- (1) 根据材料一指出晚清对外观念和意识发生了怎样的转变？结合所学知识，分析转变的主要原因（6分）
- (2) 根据材料二、三，并结合所学知识说明 1949 年以来中国是如何以包容姿态融入世界的。（8分）
- (3) 综合上述材料，谈谈你对“大国意识”与“世界意识”关系的认识。（4分）

15.19 世纪 70 年代，（法国）农民已经习惯了共和国，他们反对君主派搞政变，工人群众对于共和制的态度更为鲜明。对于这种情况，君主派中比较清醒的人也是能认识到的。他们曾无可奈何地说：“我们是君主派，但法国不是”。材料反映了

- A. 民主共和逐渐成为人心所向
- B. 共和制和君主制的斗争已结束
- C. 共和政体在法国最终确立
- D. 君主派已经完全放弃专制政体

16.著名学者伊曼纽尔·沃勒斯坦在《生活在后美国世界》中指出：“苏联解体了。对美国而言，这是个灾难！我知道没人这么说，他们只是说这对美国而言是个巨大的胜利，但它确实是个灾难。”文中“灾难”的含义主要是指

- A. 中国国际地位不断提高
- B. 俄罗斯与美国分庭抗礼
- C. 欧洲一体化进程的加快
- D. 多极化趋势进一步加强

17.（14 分）阅读材料，回答下列问题：

材料一（陆上）丝绸之路在唐朝进入了全盛时期。唐朝的西部疆域超过了汉朝，设置安西四镇，驻兵防守，由安西都护府管辖；以后又分置北庭都护府，统辖西域各地，为丝绸之路的畅通提供了有力的保障。高宗至玄宗时期，从事国际商贸的粟特人，长期操纵着丝绸之路的转运贸易。他们不仅在经济交流而且在文化交流中都起着重要作用，祆教、摩尼教以及中亚音乐舞蹈与历史传入中原，中原丝绸、造纸术也传入西方。

——摘编自樊树志《国史概要》

材料二 西班牙与中国的贸易以菲律宾为中转而进行。万历四年（1576年），西班牙完全控制菲律宾，中菲间的贸易迅速升温。福建、广东海商“将中土丝、绵、缎布、磁、铁贵货到彼番国，不卖货物，止卖金银”。面对汹涌而来的中国商品，西班牙人只能从殖民地墨西哥调运白银来交换，然后西班牙将中国商品运往南美。为维持这样一种中国货物—墨西哥白银—菲律宾的物流关系，他们不得不加快墨西哥白银的开采与多条菲律宾海上航道的开辟。其中最重要的是墨西哥西海岸 Acapulco 港，横越太平洋至菲律宾的航线。

——摘编自杨天明《明末清初外国银元内流问题研究》

(1) 根据材料一并结合所学知识，分析唐朝陆上丝绸之路进入全盛时期的有利条件。（6分）

(2) 根据材料二并结合所学知识，概述“中国货物—墨西哥白银—菲律宾的物流关系”形成的历史背景。（8分）

18.英国首相撒切尔夫人及其回忆录中说：“我只想将香港留在英国的治下。……但这不可能。于是我想到了邓先生的‘一国两制’，这为保持香港的独特性提供了机会。”材料中“香港的独特性”是指

- A. 香港的长期繁荣稳定
- B. 保留英国对香港的治权
- C. 自由港和世界金融中心
- D. 保持香港既有的社会制度

19.1980年1月下旬，全国农村人民公社经营管理会议在北京召开。安徽代表在会上介绍了安徽实行联产承包责任制，特别是经济落后地区农民要求实行包产到户的情况，引起了与会代表的争论。争论的焦点是包产到户到底姓“资”姓“社”的问题，大部分人对安徽的做法持反对意见。以上现象反映了当时

以上内容仅为本文档的试下载部分，为可阅读页数的一半内容。

如要下载或阅读全文，请访问：

<https://d.book118.com/405114314040012004>