

七年级（上）月考历史试卷

一、单项选择题（每小题 2 分，共 60 分）

1. （2 分）下列哪些现象是原始农业出现和发展的重要标志（ ）

- ①农作物的出现
- ②饲养家畜
- ③聚落
- ④磨制工具
- ⑤城市出现。

A. ①②④⑤ B. ①③④⑤ C. ①②③④ D. ②③④⑤

2. （2 分）对比河姆渡居民和半坡居民的生活，下列不属于其共同点的是（ ）

- A. 普遍使用打制石器 B. 会建造房屋
- C. 过着定居生活 D. 种植庄稼

3. （2 分）如图是我国远古时代一位杰出的首领。他带领群众治理洪水，在外 13 年，三次经过家门而不入。他是（ ）



A. 黄帝 B. 尧 C. 舜 D. 禹

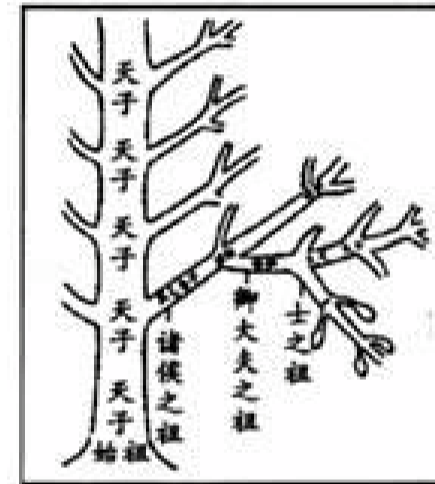
4. （2 分）礼仪教化是夏、商、西周国家统治人民的重要手段之一，实行礼仪教化的实质是（ ）

- A. 维护奴隶主统治 B. 调节社会矛盾
- C. 稳定社会秩序 D. 讨好劳动人民

5. （2 分）三峡工程是当今世界最大的水利工程。早在战国时期，秦国曾在岷江修筑过类似的水利工程，至今还发挥着防洪灌溉的巨大功能。这项工程是（ ）

A. 郑国渠 B. 都江堰 C. 灵渠 D. 黄河

6. （2 分）如图是西周初年实行的一种制度的示意图。据图判断，该制度是（ ）



A. 世袭制 B. 禅让制 C. 分封制 D. 郡县制

7. （2 分）春秋战国时期，学术上形成百家争鸣繁荣局面的根本原因是（ ）

- A. 春秋无义战 B. 社会急剧变化
- C. 经济飞速发展 D. 各学派激烈辩论

8. （2 分）如图情景发生在西周后期，国王因与民争利，被平民赶走，被迫逃亡。这一事件史称（ ）



A. 涿鹿之战 B. 商汤灭夏 C. 武王伐纣 D. 国人暴动

9. (2分) 今上急耕田垦草，以厚民产也，而以上为酷；修刑重罚，以为禁邪也，而以上为严；征赋钱粟，以实仓库，且以救饥馑、备军旅也，而以上为贪；境内必知介而无私解，并为疾斗，所以禽虏也，而以上为暴。此四者所以治安也，而民不知悦也。以上为战国时期某位思想家的思想著作中内容，以下哪一位皇帝最有可能采纳他的思想 ()

A. 秦始皇 B. 汉高祖 C. 汉武帝 D. 宋太祖

10. (2分) 已故著名历史学家陈旭麓先生在《近代中国社会的新陈代谢》中写道：秦始皇设职授官，从一面看是官僚政治的开始，从另一面看却是政治权力等级世袭的中止。中止了 政治权力等级世袭 的制度是 ()

A. 宗法制 B. 分封制 C. 郡县制 D. 皇帝制

11. (2分) 董仲舒向汉武帝建议 愿望陛下兴太学，置明师，以养天下之士气。此建议 ()

- ①主张大力推行儒学教育
- ②使太学在全国各地普遍设立
- ③有利于思想上的大一统
- ④使士人受到社会的普遍尊重。

A. ①② B. ①③ C. ②③ D. ①④

12. (2分) 据《汉书》载：自周衰，官失而百职乱，战国并争，各变异。秦遂并兼四海，以为周制微弱，终为诸侯所丧，故不立尺土之封，分天下为郡县。

材料认为秦朝中央集权制度的建立 ()

- A. 巩固了以血缘为纽带的宗法制
- B. 适应了封建大一统政治的需要
- C. 消除了地方分裂割据的经济基础
- D. 保证了地主土地私有制的推行

13. (2分) 战国时期有这样一户人家：老大因作战有功获得了爵位，老二在家勤于耕作免除了徭役，老三则被国君派往县城任吏。据此判断这户人家最有可能生活在 ()

- A. 武王伐纣之时 B. 周平王东迁之际
- C. 商鞅变法之后 D. 晋文公称霸中原之前

14. (2分) 关于甲骨文，错误的解释是 ()

- A. 我国古代的一种比较成熟的文字
- B. 甲骨文对研究商朝的历史有重要价值
- C. 商朝时期在龟甲和兽骨上的文字
- D. 是研究商朝历史的唯一资料

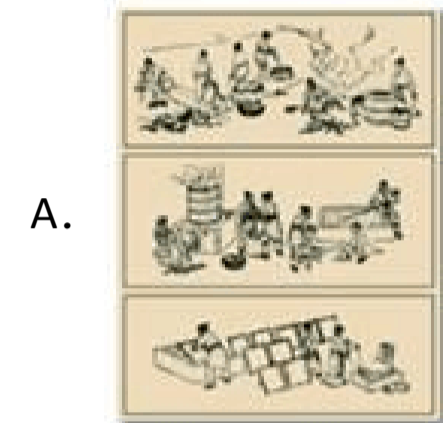
15. (2分) 创立太平道的张角，经过 10 多年在社会底层传教，信徒已有数十万人。184 年，经过精心策划，张角等领导的一场有组织、有准备的农民大起义终于爆发了。历时九个月的黄巾起义最后被镇压下去，但余部坚持斗争 20 多年，沉重打击了东汉的统治。这段材料反映了东汉末年农民起义的 ()

A. 原因及影响 B. 原因及经过 C. 原因及特点 D. 特点及影响

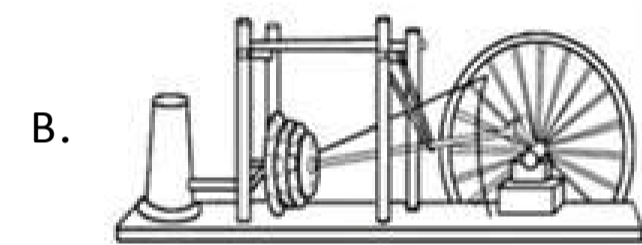
16. (2分) 谁建立了我国历史上第一个王朝 ()

A. 黄帝 B. 禹 C. 周武王 D. 秦始皇

17. (2分) 某班级要出一版《中国古代四大发明》专题展板, 现已收集到 宋朝指南针 元代火铳 泥活字版 等图片。以下图片可以入选展板的是 ()



汉代造纸过程示意图



水排



耨车



算筹

18. (2分) 司马迁在《史记》中写到, 余读《离骚》、《天问》 悲其志. 适长沙, 过屈原所自沉渊, 未尝不垂涕, 想见其为人 . 作者的意思是 ()

- A. 屈原应该投身于文学创作
- B. 楚辞体作品缺乏志向和追求
- C. 为屈原遗作中爱国志向所感叹
- D. 认为屈原的遭遇和结局不值得

19. (2分) 史学家曾指出, 中国历史上某一时期 有极关重要者四事 : 一为中国版图之确立, 二为中国民族之抟成, 三为中国政治制度之创建, 四为中国学术思想之奠定。这指的应是我国的 ()

- A. 商周时期 B. 秦汉时期 C. 隋唐时期 D. 宋元时期

20. (2分) 汉朝有位皇帝在位时期以 柔术 治天下, 注重文治, 形成了安定繁荣的局面, 史称 ()

- A. 文景之治 B. 光武中兴 C. 贞观之治 D. 开元盛世

21. (2分) 你可以通过读《史记》了解的历史事件有 ()

- ①商汤灭夏 ②齐桓公称霸 ③焚书坑儒 ④华佗发明 麻沸散
- A. ①②④ B. ②③④ C. ①②③ D. ①③④

22. (2分) 舞蹈《千手观音》曾获得 CCTV 春节联欢晚会节目评比一等奖和特别大奖。你是否知道 千手观音 、 功德无量 的词汇跟下列哪个宗教有关? ()

- A. 基督教 B. 佛教 C. 道教 D. 伊斯兰教

23. (2分) 获得 诺贝尔生理学或医学奖 的中国科学家屠呦呦, 从 1700 年前的医学古籍中获取灵感, 成功提取青蒿素, 使疟疾的死亡率下降了一半, 挽救了成千上万人的生命。下列对献给世界礼物的传统中医的认识准确的是 ()

- A. 张仲景擅长外科手术, 制成全身麻醉药剂 麻沸散 , 是世界医学史上的创举

- B. 张仲景创制医学体操 五禽戏，能强身健体
- C. 华佗写成《伤寒杂病论》，擅长医治流行传染病
- D. 人们为了怀念医圣张仲景，把坐在药铺里给人看病的医生通称为 坐堂先生


24. (2分) 在长达一千多年的时间里，它把黄河文明、恒河文明、两河文明和希腊文明等 最重要的起源地，串联在了一起。这里的 它 开始出现于 ()

- A. 亚历山大东征 B. 张骞通西域
- C. 罗马帝国的扩张 D. 玄奘西游

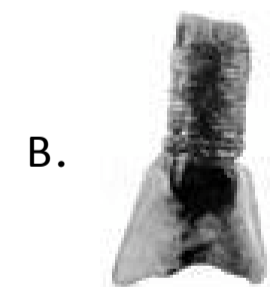
25. (2分) 下列内容搭配不当的是 ()

- A. 祖冲之 - - 圆周率 B. 《伤寒杂病论》 - - 华佗
- C. 《史记》 - - 司马迁 D. 贾思勰 - - 《齐民要术》

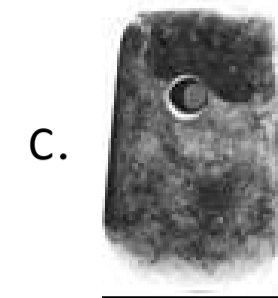
26. (2分) 如图所示考古发现的生产工具，代表我国原始居民生产力最高水平的是 ()



A. 打制石器



B. 骨耜



C. 钻孔石斧



D. 铁犁铧

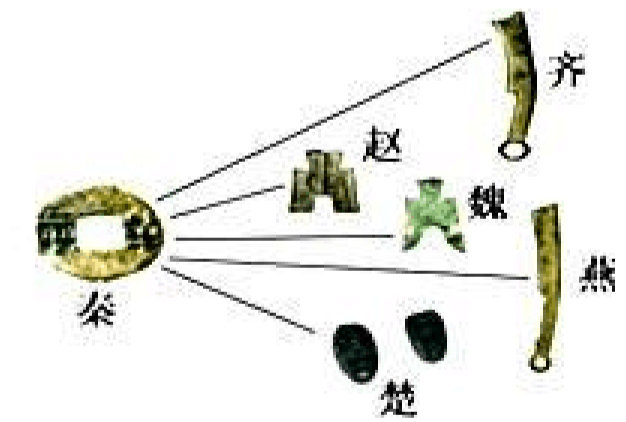
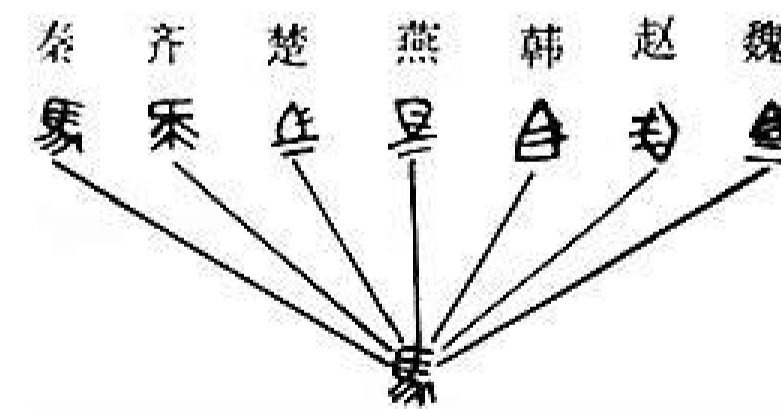
27. (2分) 我们经常提醒自己要 克制，使自己的言行符合社会规范。最早倡导这一意识的思想家是 ()

- A. 墨子 B. 孔子 C. 韩非子 D. 孙子

28. (2分) 秦朝灭亡后，项羽、刘邦为争夺帝位而展开争战，这场历时四年的战争史称 ()

- A. 阪泉之战 B. 牧野之战 C. 楚汉之争 D. 巨鹿之战

29. (2分) 图示法可以使分散的知识系统化，直观地呈现整个知识骨架，下列 - 组秦始皇措施图示体现的中心主题是 ()



- A. 加强文化控制 B. 加强经济管理
- C. 加速国家统一进程 D. 巩固国家统一

30. (2分) 1973年,在今威海市苟山镇发现了一个秦代铁权(见右图),上有铭文“廿六年,皇帝尽并兼天下诸侯,黔首(百姓)大安,立号为皇帝,乃诏丞相状(指隗状)、绾(指王绾),法度量则不壹(指不一致),嫌疑者皆明壹之。从这篇铭文中可以得到的正确信息是①统一了六国 ②统一了度量衡 ③用楷书书写 ④确立了皇帝称号()



- A. ①②③ B. ①②④ C. ②③④ D. ①②③④

二、辨析题(10分)

31. (5分) 公元25年,光武帝刘彻利用农民起义重新建立了汉朝政权。

判断_____；改正:_____。

32. (5分) 春秋战国时期,社会动荡巨变,兼并战争,制度变革和学术繁荣成为这一时期的主要特征。_____ (判断对错)

三、材料解析题(第33题16分,第34题14分,共30分)

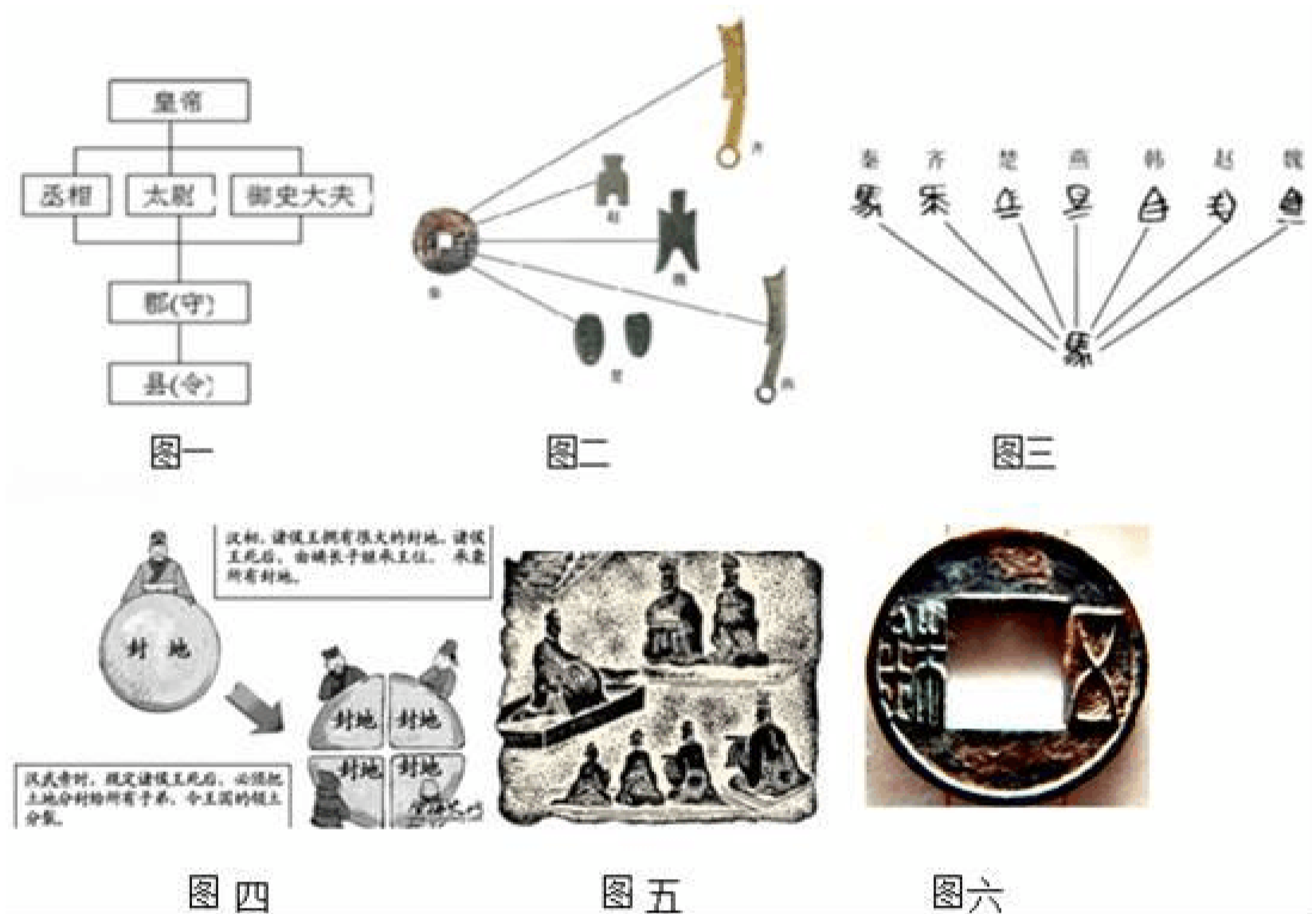
33. (16分) 比较法是历史学习的重要方法。秦汉时期是我国统一的多民族国家的奠基时期,秦始皇和汉武帝采取的措施不尽相同。阅读下列材料:

材料一 秦王扫六合,虎视何雄哉;挥剑决浮云,诸侯尽西来。

- - 李白《古风 秦王扫六合》

材料二 见图一、图二、图三。

材料三 见图四、图五、图六。



请回答:

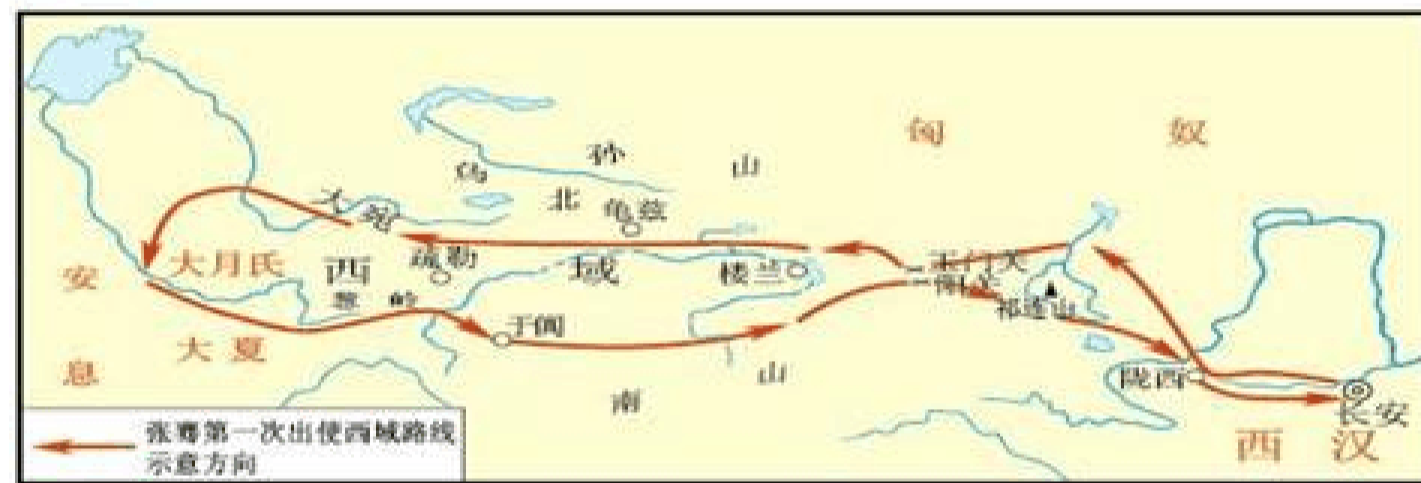
- (1) 结合所学知识,材料一中的秦王扫六合完成于哪一年?秦朝定都何处?
- (2) 据材料二 秦王扫六合后,为加强统治,在政治上创立了什么制度?从图二和图三可以看出为促进经济文化的交流,他又采取了什么措施?
- (3) 材料三中三幅图片都反映了汉武帝采取了一系列巩固大一统的措施。依据图四说出为消除汉初威胁君权的因素,汉武帝采取了什么措施?图五是汉代讲经图,你认为经主要是什么内容?该场景的出现和汉武帝思想上采取的什么措施有关?图六是汉武帝为加强朝廷对社会经济的控制,把铸币权收归中央,统一铸造

的货币，请问该货币叫什么？

(4) 秦始皇和汉武帝采取的措施不尽相同，但究其根本原因是一样的，请说出根本原因。

34. (14分) 习近平主席提出共同建设横跨欧亚 丝绸之路经济带 的构想，引起了相关国家的强烈反响。阅读下列材料：

材料一：张骞出使西域路线图



材料二：沿着这条道路，中国的丝织品以及冶铁、凿井、造纸等技术相继西传，西方的皮毛、汗血马、瓜果以及佛教、魔术、音乐、舞蹈、雕塑等也纷纷东来。丝绸之路 成为东西方经济文化交流的桥梁。

- - 摘自北师大版《中国历史》七年级上册

材料三：在博鳌亚洲论坛上杨洁篪表示，古代的丝绸之路是商贸之路，而今天的丝绸之路则把经贸合作放在重要位置。中国将与沿线国家对接发展战略 实现中国与沿线国家的共同发展。

- - 摘自新华网

(1) 历史上是谁派张骞出使西域的？张骞第一次出使西域的目的是什么？后来他的目的实现了吗？他从哪儿出发？

(2) 张骞通西域后，为加强对西域的管理，西汉政府什么时间设置了什么机构管

辖西域？

(3) 结合上述材料，你认为古代丝绸之路在中外交往中有何重要地位？今天中国重提丝绸之路，共建 丝绸之路经济带 有什么现实价值？

(4) 小明同学在学习了 张骞通西域 的知识后，对主人公张骞的 身份 进行了定义，你认为合适的是：_____

①军事家 ②探险家 ③改革家 ④友好使者

- A. ①②
- B. ②④
- C. ①②④
- D. ②③④

七年级（上）月考历史试卷

参考答案与试题解析

一、单项选择题（每小题 2 分，共 60 分）

1. （2 分）下列哪些现象是原始农业出现和发展的重要标志（ ）

- ①农作物的出现
- ②饲养家畜
- ③聚落
- ④磨制工具
- ⑤城市出现。

A. ①②④⑤ B. ①③④⑤ C. ①②③④ D. ②③④⑤

【考点】15: 河姆渡的原始农耕；16: 半坡原始居民的生活。

【分析】本题以原是农业的出现和发展为依托，考查的是我国原始农耕生活的知识。

【解答】我国原始农耕文明时期的代表是河姆渡原始居民和半坡原始居民，他们已种植农作物，饲养家畜，过定居生活，使用磨制石器。因此说农作物的出现、饲养家畜、聚落的出现、磨制工具的使用是原始农业出现和发展的重要标志。

故选 C。

【点评】本题以原是农业的出现和发展为背景，考查的是学生对我国原始农耕生活的有关知识的记忆、理解能力。

2. （2 分）对比河姆渡居民和半坡居民的生活，下列不属于其共同点的是（ ）

- A. 普遍使用打制石器 B. 会建造房屋
- C. 过着定居生活 D. 种植庄稼

【考点】15: 河姆渡的原始农耕；16: 半坡原始居民的生活。

【分析】本题以河姆渡居民和半坡居民的生活为依托，考查的是河姆渡居民和半坡居民的知识。

【解答】选项 BCD 都是河姆渡居民和半坡居民的生活的共同点。A、河姆渡居民和半坡居民都使用磨制石器。

故选 A。

【点评】本题以河姆渡居民和半坡居民的生活为背景，考查的是学生对河姆渡居民和半坡居民的有关知识的记忆、理解能力。

3. （2 分）如图是我国远古时代一位杰出的首领。他带领群众治理洪水，在外 13 年，三次经过家门而不入。他是（ ）



A. 黄帝 B. 尧 C. 舜 D. 禹

【考点】19: 尧舜禹的禅让。

【分析】本题以三过家门而不入的故事为背景，考查的是学生对大禹治水的有关

知识的记忆能力。

【解答】根据所学可知，禹领导人民治理洪水，与群众同甘共苦，花了十三年年的时间，三过家门而不入，终于治好洪水，使人民免遭水患之苦。

故选 D。

【点评】本题主要考查学生的识记能力。注意扎实掌握尧舜禹的主要事迹。

4. (2分) 礼仪教化是夏、商、西周国家统治人民的重要手段之一，实行礼仪教化的实质是 ()

- A. 维护奴隶主统治
- B. 调节社会矛盾
- C. 稳定社会秩序
- D. 讨好劳动人民

【考点】 2H: 夏商周的军队、刑法与礼仪教化。

【分析】 本题考查的是夏、商、西周时期礼仪教化制度的知识点。

【解答】 礼仪教化是夏、商、西周国家统治人民的重要手段之一。夏、商、西周时期实行礼仪教化的根本目的是维护奴隶主的统治。

故选 A。

【点评】 本题以夏、商、西周时期的统治政策为背景，考查的是学生对夏、商、西周时期礼仪教化制度的有关知识的记忆、理解能力。

5. (2分) 三峡工程是当今世界最大的水利工程。早在战国时期，秦国曾在岷江修筑过类似的水利工程，至今还发挥着防洪灌溉的巨大功能。这项工程是 ()

- A. 郑国渠
- B. 都江堰
- C. 灵渠
- D. 黄河

【考点】 2E: 都江堰工程和郑国渠。

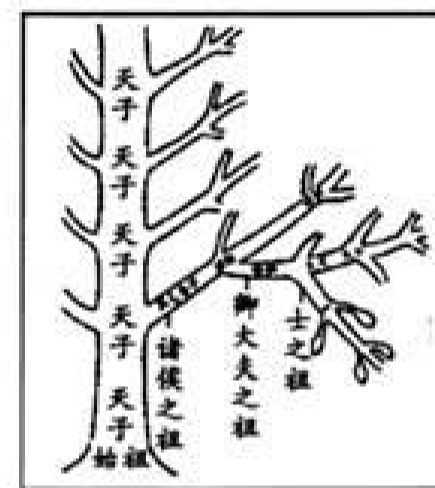
【分析】 本题考查都江堰的相关知识。

【解答】 战国时期，秦国蜀郡太守李冰在岷江中游修筑的都江堰，是闻名世界的防洪灌溉工程。它使成都平原变得水旱从人，不知饥馑，因而获得了天府之国的的美称。两千多年来，都江堰一直造福于人民。

故选 B。

【点评】 本题考查学生识记历史知识的能力，重点掌握都江堰的地位和作用。

6. (2分) 如图是西周初年实行的一种制度的示意图。据图判断，该制度是 ()



- A. 世袭制
- B. 禅让制
- C. 分封制
- D. 郡县制

【考点】 26: 西周的分封制。

【分析】 本题以西周等级制度示意图为依托，考查的是西周分封制的知识。

【解答】 题干中的图片是西周等级制度示意图，反映的是西周分封制。西周建立后，为了巩固统治，实行了分封制。通过实行分封制，西周形成了森严的等级制度。在西周的等级制度中，各等级从上到下依次是天子、诸侯、卿大夫、士、平民和奴隶。

故选 C。

【点评】 本题以西周等级制度示意图为背景，考查的是学生对西周分封制的有关知识的记忆、理解能力。

7. (2分) 春秋战国时期, 学术上形成 百家争鸣 繁荣局面的根本原因是 ()

- A. 春秋无义战
- B. 社会急剧变化
- C. 经济飞速发展
- D. 各学派激烈辩论

【考点】2P: 百家争鸣.

【分析】本题考查百家争鸣。

【解答】春秋战国时期, 铁器牛耕的使用, 大大提高了生产效率, 经济飞速发展。生产力的飞速发展使传统的社会秩序受到猛烈的冲击, 在各国竞相改革的风潮中。随着当时社会的急剧变化, 众多学派对各种问题提出了不同的见解, 对春秋战国时政著书立说发表意见, 形成了 百家争鸣 的学术繁荣局面。春秋战国时期, 学术上形成 百家争鸣 繁荣局面的根本原因是经济飞速发展。故选 C。

【点评】要注意理解百家争鸣出现的时代背景。

8. (2分) 如图情景发生在西周后期, 国王因与民争利, 被平民赶走, 被迫逃亡。这一事件史称 ()



- A. 涿鹿之战
- B. 商汤灭夏
- C. 武王伐纣
- D. 国人暴动

【考点】27: 西周的灭亡和东周的建立.

【分析】本题考查国人暴动.

【解答】周厉王统治时期, 横征暴敛, 加重了对劳动人民的剥削, 导致了国人暴动, 公元前 841 年年发生了国人暴动, 周厉王被驱逐出镐京. 因而在西周后期, 国王因与民争利, 被平民赶走, 被迫逃亡. 这一事件史称国人暴动. 故选 D.

【点评】本题考查学生解读题干信息和对历史史实的准确识记和理解能力. 注意掌握夏商周的著名暴君以及给我们的启示.

9. (2分) 今上急耕田垦草, 以厚民产也, 而以上为酷; 修刑重罚, 以为禁邪也, 而以上为严; 征赋钱粟, 以实仓库, 且以救饥馑、备军旅也, 而以上为贪; 境内必知介而无私解, 并为疾斗, 所以禽虏也, 而以上为暴。此四者所以治安也, 而民不知悦也。以上为战国时期某位思想家的思想著作中内容, 以下哪一位皇帝最有可能采纳他的思想 ()

- A. 秦始皇
- B. 汉高祖
- C. 汉武帝
- D. 宋太祖

【考点】32: 秦朝巩固统一的措施.

【分析】本题考查的是秦朝巩固统一措施的知识点.

【解答】材料 今上急耕田垦草, 以厚民产也, 而以上为酷 境内必知介而无私解, 并为疾斗, 所以禽虏也, 而以上为暴. 此四者所以治安也, 而民不知悦也. 是战国时期法家的思想家韩非的观点 以法治国 . 秦朝建立后, 秦始皇采用法家的思想创立了一套封建专制主义中央集权制度. 故选 A.

【点评】本题以韩非的观点为背景, 考查的是学生对秦朝巩固统一措施的有关知识的记忆、理解能力.

10. (2分) 已故著名历史学家陈旭麓先生在《近代中国社会的新陈代谢》中写道：秦始皇设职授官，从一面看是官僚政治的开始，从另一面看却是政治权力等级世袭的中止。中止了政治权力等级世袭的制度是()

A. 宗法制 B. 分封制 C. 郡县制 D. 皇帝制

【考点】32：秦朝巩固统一的措施。

【分析】本题考查的是秦朝巩固统一措施的知识点。

【解答】秦朝建立后，秦始皇创立了一套封建专制主义中央集权制度，在地方上推行郡县制，由皇帝直接派官吏治理。郡县制的推行，中止了政治权力等级世袭的制度。

故选 C。

【点评】本题以《近代中国社会的新陈代谢》为背景，考查的是学生对秦朝封建专制主义中央集权制度的有关知识的记忆、理解能力。

11. (2分) 董仲舒向汉武帝建议 愿望陛下兴太学，置明师，以养天下之士气。此建议()

- ①主张大力推行儒学教育
- ②使太学在全国各地普遍设立
- ③有利于思想上的大一统
- ④使士人受到社会的普遍尊重。

A. ①② B. ①③ C. ②③ D. ①④

【考点】37：汉武帝推进大一统的措施。

【分析】本题以董仲舒给汉武帝的建议为依托，考查的是汉武帝大一统措施的知识。

【解答】汉武帝时期为加强思想控制，他接受了董仲舒的建议，实行 罢黜百家，独尊儒术。汉武帝大力推行儒学教育，在长安举办太学，以儒家的经典为主要教材。因此说材料董仲舒 愿望陛下兴太学，置明师，以养天下之士气 的建议体现了主张大力推行儒学教育和加强思想上的大一统的思想。

故选 B。

【点评】本题以董仲舒给汉武帝的建议为背景，考查的是学生对汉武帝大一统措施的有关知识的记忆、理解能力。

12. (2分) 据《汉书》载：自周衰，官失而百职乱，战国并争，各变异。秦遂并兼四海，以为周制微弱，终为诸侯所丧，故不立尺土之封，分天下为郡县。材料认为秦朝中央集权制度的建立()

- A. 巩固了以血缘为纽带的宗法制
- B. 适应了封建大一统政治的需要
- C. 消除了地方分裂割据的经济基础
- D. 保证了地主土地私有制的推行

【考点】32：秦朝巩固统一的措施。

【分析】本题考查的是秦朝巩固统一措施的知识点。

【解答】由材料 秦遂并兼四海，以为周制微弱，终为诸侯所丧，故不立尺土之封，分天下为郡县。可知材料反映的是秦朝实行的郡县制。秦朝建立后，为巩固封建大一统的政治统治，秦始皇创立了一套封建专制主义中央集权制度，在地方上实行郡县制。

故选 B。

【点评】本题以秦朝巩固统一的措施为背景，考查的是学生对郡县制的有关知识

以上内容仅为本文档的试下载部分，为可阅读页数的一半内容。如要下载或阅读全文，请访问：<https://d.book118.com/406103242122010104>