

A. $3x+4y=12xy$

B. $x^9 \div x^3 = x^3$

C. $(x^2)^3 = x^6$

D. $(x - y)^2 = x^2 - y^2$

6、代数式 $a^2 - \frac{1}{b}$ 的正确解释是 ()

A. a 与 b 的倒数的差的平方

B. a 与 b 的差的平方的倒数

C. a 的平方与 b 的差的倒数

D. a 的平方与 b 的倒数的差

7、在 $2x^2, 1-2x=0, ab, a > 0, 0, \frac{1}{a}, \frac{\pi}{3}$ 中，是代数式的有 ()

A. 5 个

B. 4 个

C. 3 个

D. 2 个

8、如果 $-2x^2yn$ 与 $-5xm^{-1}y$ 的和是单项式，那么 m, n 的值分别是

A. $m=2, n=1$

B. $m=1, n=2$

C. $m=3, n=1$

D. $m=3, n=2$

9、观察下列等式: $7^1=7, 7^2=49, 7^3=343, 7^4=2401, 7^5=16807, 7^6=117649\dots$ ，根据其中的规律可得 $7^1+7^2+\dots+7^{2020}$ 的结果的个位数字是 ()

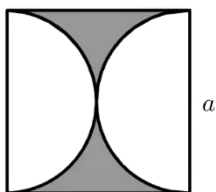
A. 0

B. 1

C. 7

D. 8

10、如图所示，边长为 a 的正方形中阴影部分的周长为 ()



A. $a^2 - \frac{1}{4} \pi a^2$

B. $a^2 - \pi a^2$

C. $2a + \pi a$

D. $2a + 2 \pi a$

第 II 卷 (非选择题 80 分)

二、填空题（10 小题，每小题 3 分，共计 30 分）

1、某书店新进了一批图书，甲、乙两种书的进价分别为4元/本、5元/本。现购进 m 本甲种书和 n 本乙种书，共付款 Q 元。

(1) 用含 m, n 的代数式表示 $Q = \underline{\hspace{2cm}}$ ；

(2) 若共购进 5×10^3 本甲种书及 3×10^3 本乙种书， $Q = \underline{\hspace{2cm}}$ (用科学记数法表示)。

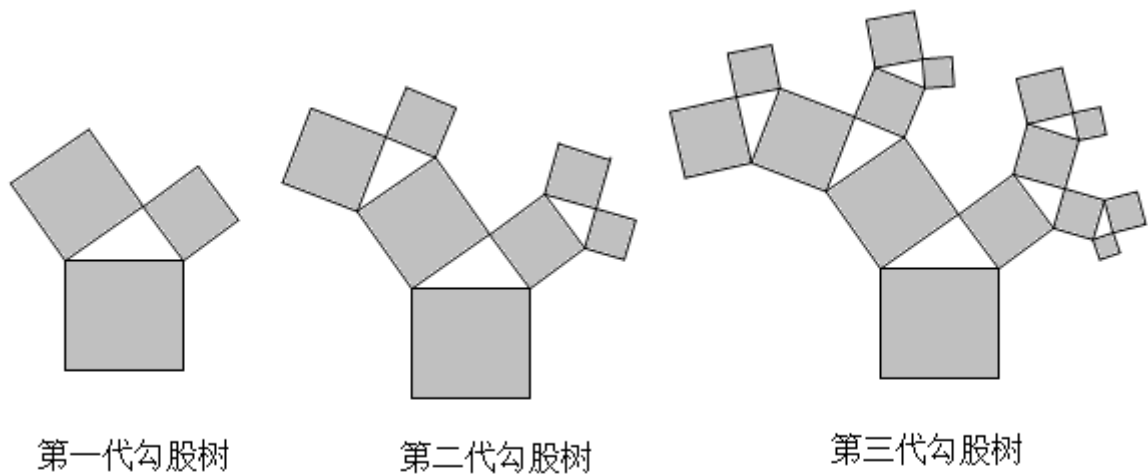
2、如图所示的图形是按一定规律排列的。



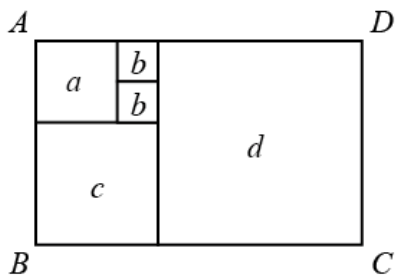
则第 n 个图形中 O 的个数为 $\underline{\hspace{2cm}}$ 。

3、如果单项式 $3xmy$ 与 $-5x^3yn$ 可以合并，那么 $m+n = \underline{\hspace{2cm}}$ 。

4、“勾股树”是以正方形一边为斜边向外作直角三角形，再以该直角三角形的两直角边分别向外作正方形，重复这一过程所画出来的图形，因为重复数次后的形状好似一棵树而得名。假设如图分别是第一代勾股树、第二代勾股树、第三代勾股树，按照勾股树的作图原理作图，则第六代勾股树中正方形的个数为 $\underline{\hspace{2cm}}$ 。



5、如果一个矩形内部能用一些正方形铺满，既不重叠，又无缝隙，就称它为“优美矩形”，如图所示，“优美矩形” $ABCD$ 的周长为 26，则正方形 d 的边长为 $\underline{\hspace{2cm}}$ 。



6、多项式 $2a^2c - \frac{3}{7}bc + 5ab^3 - 4 - 6^3a^3$ 最高次项为_____，常数项为_____。

7、一个多项式 M 减去多项式 $-2x^2 + 5x - 3$ ，小马虎却误解为先加上这个多项式，结果，得 $x^2 + 3x + 7$ ，则正确的结果是_____。

8、关于 x 的多项式 $(a+2)x^3 - 3x^b + 5$ 的次数是 2，那么 $a =$ _____， $b =$ _____。

9、已知单项式 $2a^4b^{-2m+7}$ 与 $3a^{2m}b^{n+2}$ 是同类型项，则 $m+n =$ _____。

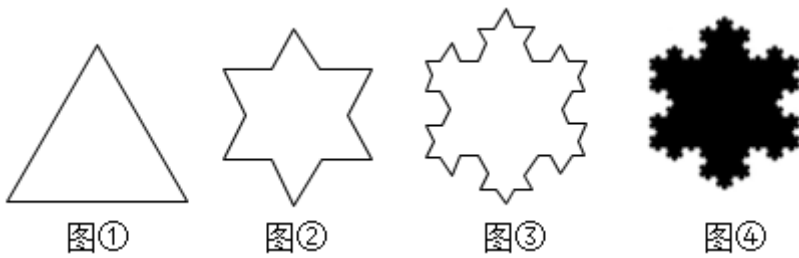
10、若 $a-2b=1$ ，则 $3-2a+4b$ 的值是_____。

三、解答题（5 小题，每小题 10 分，共计 50 分）

1、先化简，再求值： $2(a^2b - ab^2) - 3(a^2b - 1) + 2ab^2 + 1$ ，其中 $a=2$ ， $b=\frac{1}{4}$ 。

2、计算下式的值： $(2x^4 - 4x^3y - 2x^2y^2) - (x^4 - 2x^2y^2 + y^3) + (-x^4 + 4x^3y - y^3)$ ，其中 $x=\frac{1}{4}$ ， $y=-1$ ，甲同学把 $x=\frac{1}{4}$ 错抄成 $x=-\frac{1}{4}$ ，但他计算的结果也是正确的，你能说明其中的原因吗？

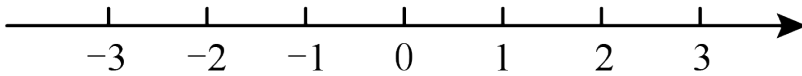
3、2022 年北京冬奥会开幕式主火炬台由 96 块小雪花形态和 6 块橄榄枝构成的巨型“雪花”形态，在数学上，我们可以通过“分形”近似地得到雪花的形状。操作：将一个边长为 1 的等边三角形（如图①）的每一边三等分，以居中那条线段为底边向外作等边三角形，并去掉所作的等边三角形的一条边，得到一个六角星（如图②，称为第一次分形。接着对每个等边三角形凸出的部分继续上述过程，即在每条边三等分后的中段向外画等边三角形，得到一个新的图形（如图③），称为第二次分形。不断重复这样的过程，就得到了“科赫雪花曲线”。



(1) 【规律总结】每一次分形后，得到的“雪花曲线”的边数是前一个“雪花曲线”边数的_____倍；
每一次分形后，三角形的边长都变为原来的_____倍；

(2) 【问题解决】试猜想第 n 次分形后所得图形的边数是_____；周长为_____（用含 n 的代数式表示）

4、在数轴上点 A 表示数 a ，点 B 表示数 b ，点 C 表示数 c ，并且 a 是多项式 $-x^2 - 3x + 1$ 的二次项系数， b 是绝对值最小的数， c 是单项式 $-\frac{1}{2}x^2y$ 的次数。请直接写出 a 、 b 、 c 的值并在数轴上把点 A 、 B 、 C 表示出来。



5、用同样大小的两种不同颜色（白色、灰色）的正方形纸片，按如图方式拼成长方形。

[观察思考]

第（1）个图形中有 $2 = 1 \times 2$ 张正方形纸片；

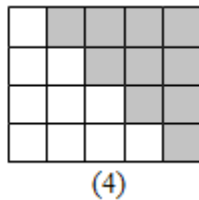
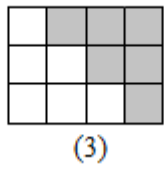
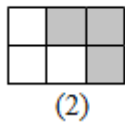
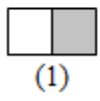
第（2）个图形中有 $2 \times (1 + 2) = 6 = 2 \times 3$ 张正方形纸片；

第（3）个图形中有 $2 \times (1 + 2 + 3) = 12 = 3 \times 4$ 张正方形纸片；

第（4）个图形中有 $2 \times (1 + 2 + 3 + 4) = 20 = 4 \times 5$ 张正方形纸片；

.....

以此类推



(1) [规律总结]第(5)个图形中有_____张正方形纸片(直接写出结果).

(2) 根据上面的发现我们可以猜想: $1+2+3+\dots+n=$ _____. (用含 n 的代数式表示)

(3) [问题解决]根据你的发现计算: $101+102+103+\dots+200$.

-参考答案-

一、单选题

1、B

【解析】

【分析】

根据同类项的概念求解即可. 同类项: 如果两个单项式, 他们所含的字母相同, 并且相同字母的指数也分别相同, 那么就称这两个单项式为同类项.

【详解】

解: A、 $3a^2b$ 和 $-5ba^2$ 是同类项, 不符合题意;

B、 $\frac{1}{2}x^2y$ 和 $\frac{1}{2}xy^2$ 不是同类项, 符合题意;

C、6和 2^3 是同类项, 不符合题意;

D、 $5x^n$ 和 $-\frac{3x^n}{4}$ 是同类项, 不符合题意.

故选: B.

【考点】

此题考查了同类项的概念, 解题的关键是熟练掌握同类项的概念. 同类项: 如果两个单项式, 他们所含的字母相同, 并且相同字母的指数也分别相同, 那么就称这两个单项式为同类项.

2、B

【解析】

【分析】

直接利用打折的意义表示出价格即可得出答案.

【详解】

设该商品原价为 x 元,

\because 某商品打七折后价格为 a 元,

\therefore 原价为: $0.7x=a$,

则 $x=\frac{10}{7}a$ (元),

故选 B.

【考点】

本题考查了一元一次方程的应用, 弄清题意, 找准等量关系列出方程是解题的关键.

3、B

【解析】

【分析】

根据多项式的项数、次数和多项式定义, 即几个单项式的和叫做多项式判断即可;

【详解】

解: A. $3x^2 - 2x + 5$ 的项是 $3x^2, -2x, 5$, 故错误;

B. $\frac{x}{3} - \frac{y}{3}$ 与 $2x^2 - 2xy - 5$ 都是多项式, 故正确;

C. 多项式 $-2x^2 + 4xy$ 的次数是 2, 故错误;

D. 一个多项式的次数是 6, 则这个多项式中不一定只有一项的次数是 6, 如 $2a^6 + a^3b^3 - 1$, 故错误.

故选 B.

【考点】

本题主要考查了多项式的定义、项数、次数，准确分析判断是解题的关键.

4、C

【解析】

【分析】

整式 $-4a-6b+1$ 可变形为 $-2(2a+3b)+1$ ，然后把 $2a+3b=4$ 代入变形后的算式，求出算式的值是多少即可.

【详解】

解：∵ $2a+3b=4$ ， $-4a-6b+1=-2(2a+3b)+1$

∴ $-4a-6b+1=-2\times 4+1=-7$ ，

故选：C.

【考点】

此题主要考查了代数式求值的方法，要熟练掌握，解答此题的关键是要明确：求代数式的值可以直接代入、计算. 如果给出的代数式可以化简，要先化简再求值. 题型简单总结以下三种：①已知条件不化简，所给代数式化简；②已知条件化简，所给代数式不化简；③已知条件和所给代数式都要化简.

5、C

【解析】

【分析】

直接应用整式的运算法则进行计算得到结果

【详解】

解：A、原式不能合并，错误；

B、原式 $=x^6$ ，错误；

C、原式 $=x^6$ ，正确；

D、原式 $=x^2-2xy+y^2$ ，错误，

故选：C.

【考点】

整式的乘除运算是进行整式的运算的基础，需要完全掌握.

6、D

【解析】

【分析】

说出代数式的意义，实际上就是把代数式用语言叙述出来. 叙述时，要求既要表明运算的顺序，又要说出运算的最终结果.

【详解】

解：代数式 $a^2 - \frac{1}{b}$ 的正确解释是 a 的平方与 b 的倒数的差.

故选：D.

【考点】

用语言表达代数式的意义，一定要理清代数式中含有的各种运算及其顺序. 具体说法没有统一规定，以简明而不引起误会为出发点.

7、A

【解析】

【分析】

代数式是由数和字母组成，表示加、减、乘、除、乘方、开方等运算的式子，或含有字母的数学表达式，注意不能含有=、<、>、≤、≥、≈、≠等符号.

【详解】

$1-2x=0, a>0$ ，含有“=”和“>”，所以不是代数式，

则是代数式的有 $2x^2, ab, 0, \frac{1}{a}, \frac{\pi}{3}$ 共 5 个，

故选：A.

以上内容仅为本文档的试下载部分，为可阅读页数的一半内容。如要下载或阅读全文，请访问：<https://d.book118.com/407134144124010015>