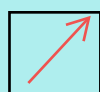







SOLD

@备考首选

通关无忧 轻松拿下考试

-  基础阶段—专业知识
-  刷题阶段—重点题库
-  冲刺阶段—押题点睛
-  考点覆盖—精编习题
-  紧扣考纲—直击考点
-  历年真题—押题抢分

本封面内容仅供参考，实际内容请认真预览本电子文本

祝您考试顺利

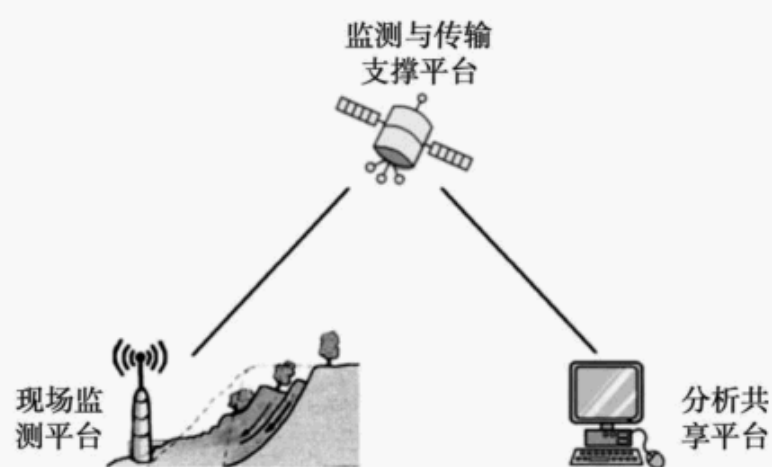
2021 年 1 月浙江省普通高校招生选考科目考试

地 理

本试卷分选择题 I、选择题 II 和非选择题三部分,满分 100 分,考试时间 90 分钟。

一、选择题 I (本大题共 20 小题,每小题 2 分,共 40 分。每小题列出的四个备选项中只有一个是符合题目要求的,不选、多选、错选均不得分)

2020 年 7 月,湖南常德发生滑坡,因灾前成功预警,未造成人员伤亡。下图为基于地理信息技术的滑坡预警监测系统示意图。完成 1、2 题。



第 1、2 题图

1.按自然灾害的成因与发生过程划分,滑坡属于

- A.气象灾害 B.生物灾害
C.海洋灾害 D.地质灾害

2.对该预警监测系统的描述,正确的是

- ①运用 GPS 采集雨量信息
②利用 BDS(北斗系统)采集滑坡体位移数据
③运用 RS 模拟滑坡动态过程
④利用 GIS 进行数据分析与共享

A.①② B.②④

C.①③ D.③④

洞庭湖区水域与陆地交错,从陆地到水底分布着森林、灌丛、草甸和水生植物等植被类型。

完成3、4题。

3.洞庭湖区的植被分布,反映了自然地理环境的

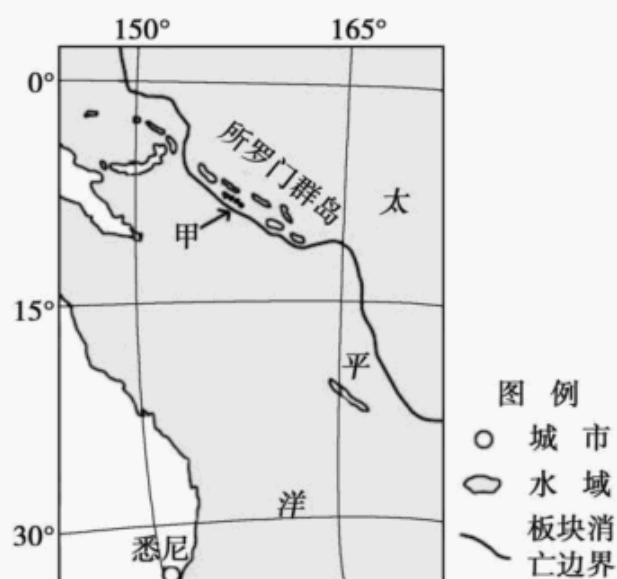
- A.垂直分异规律
- B.地方性分异规律
- C.纬度地带分异规律
- D.经度地带分异规律

4.影响洞庭湖区植被差异的主要因素有

- ①地形 ②水分 ③热量 ④土壤

- A.①② B.②③
- C.③④ D.①④

海草为海洋中的高等被子植物,有“海洋之肺”之称。近年来所罗门群岛种植海草,形成了独特的生态系统。下图为世界部分区域略图。完成5、6题。



第5、6题图

5.甲处海底宏观地形是

- A.海沟 B.海岭
- C.海盆 D.裂谷

6.种植海草对当地海洋生态环境的有利影响有

- ①净化水质
- ②提供农副产品

以上内容仅为本文档的试下载部分，为可阅读页数的一半内容。如要下载或阅读全文，请访问：<https://d.book118.com/408006141057007002>