

# 2024 年北师大版九年级历史下册月考试卷含答案

## 考试试卷

考试范围：全部知识点；考试时间：120 分钟

学校：\_\_\_\_\_ 姓名：\_\_\_\_\_ 班级：\_\_\_\_\_ 考号：\_\_\_\_\_

### 总分栏

题号	一	二	三	四	五	六	总分
得分							

评卷人	得分

### 一、选择题(共 7 题，共 14 分)

1、“自古皆贵中华，贱夷狄，朕独爱之如一。”这位被各族首领共同拥戴的“天可汗”是哪位君主。( )

- A. 武则天
- B. 唐太宗
- C. 唐玄宗
- D. 唐高祖

2、下列选项中属于第一届中国人民政治协商会议内容的有 ( )

- ①通过了《共同纲领》
  - ②制定了我国第一部社会主义类型的宪法。
  - ③决定采用公元纪年。
  - ④决定以《义勇军进行曲》为国歌。
- A. ①②③
  - B. ①②④
  - C. ②③④
  - D. ①③④

3、下列关于宋代经济的说法正确的是 ( )

- A. 小麦在宋朝跃居粮食产量首位
- B. 从海南岛兴起的丝织业，在南宋时已发展到东南沿海地区
- C. 宋代政府鼓励海外贸易，在主要港口设立市舶司
- D. 南宋时在四川地区出现交子

4、马克思主义诞生的标志性著作是 ( )

- A. 《独立宣言》
- B. 《人民宪章》
- C. 《共产党宣言》
- D. 《联合国宣言》

5、

“假如你未见过雅典，你是个笨蛋；假如你见到雅典而不狂喜，你是一头蠢驴；假如你自愿把雅典抛弃，你是一头骆驼。”伯里克利时期的雅典公民之所以如此自豪，是因为雅典（ ）

- A. 完善了王位继承制度
- B. 民主政治发展到全盛时期
- C. 实现了男女真正平等
- D. 已经废除了奴隶制度

6、小刚参加“有奖调查”；填写了父亲的姓名；电话等基本信息。不久。他的父亲在外地接到电话。听说小刚正在医院紧急抢救需要两万元，急忙向对方帐户汇款，最后发现被骗了，这件事告诉我们不要（ ）

- ①受任何形式的问卷调查。
  - ②轻易向陌生人透露庭信息。
  - ③轻易相信来历不明的电话或短信。
  - ④向陌生的银行账户汇款
- A. ①③④
  - B. ①②④
  - C. ②③④
  - D. ①②③

7、1935 年的遵义会议是我党历史上一个生死攸关的转折点。这次会议事实上确立的党的领导核心人物是（ ）

- A. 陈独秀
- B. 周恩来
- C. 毛泽东
- D. 朱德

评卷人	得分

**二、多选题(共 6 题，共 12 分)**

8、从 1868 年起，日本明治政府实行了一系列资产阶级性质的改革，其主要内容有（ ）

- A. 提倡“文明开化”，实行强制性义务教育
- B. 实行“班田收授法”
- C. 废除农奴制度，宣布农奴获得人身自由
- D. 废藩置县，加强中央集权

9、华盛顿会议协调的是哪两个帝国主义之间的矛盾（ ）

- A. 美国
- B. 日本
- C. 英国
- D. 法国

10、华盛顿会议确立了帝国主义在哪一地区的统治“新秩序”()

- A. 西亚地区、欧洲
- B. 太平洋地区
- C. 东亚地区
- D. 亚洲、非洲、欧洲

11、

2015年9月3日，全国将放假一天。这个“假日”更多的是一种纪念，抗日战争胜利的伟大历史意义体现在（ ）

- A. 是近代以来中华民族反抗外来侵略的第一次完全胜利
- B. 大大提高了中国的国际地位
- C. 是中华民族由衰败到重新振兴的转折点
- D. 为世界反法西斯战争胜利作出了巨大贡献

12、下列改革没有引起社会性质改变的是（ ）

- A. 洋务运动
- B. 戊戌变法
- C. 1861年俄国改革
- D. 日本明治维新

13、北京是中国的首都，在近代历史上又是一座饱经沧桑的城市。下列重大历史事件，发生在北京（北平）的有（ ）

- A. 五四运动的爆发
- B. “双十协定”的签订
- C. 八国联军入侵
- D. 平津战役中和平解放的城市

评卷人	得分

### 三、填空题(共8题，共16分)

14、思想是行动的先导。

(1) 18世纪以法国为中心的\_\_\_\_\_（思想行动）所倡导的天赋人权、自由平等、三权分立等进步思想，不仅对欧美资产阶级革命起了推动作用，也促进了亚洲社会的进步。

(2) 1978年我国思想理论界开展的关于真理标准问题的大讨论，为\_\_\_\_\_（会议）的召开奠定了思想基础。

(3) 1992年，中共“十四大”提出了建立\_\_\_\_\_体制并确立了邓小平建设有中国特色的社会主义理论在全党的指导地位，对建设有中国特色的社会主义产生了深远的影响。

15、被称为发明大王的是。

16、《北京条约》及一系列不平等条约的签订；中国开始沦为半殖民地半封建社会。

错误：\_\_\_\_ 改正：\_\_\_\_。

17、

周年记事是学习历史的一种方法。

- (1) 1918 年鲁迅发表第一篇白话短篇小说《\_\_\_\_\_》；号召人们起来推翻人吃人的制度。
- (2) 1928 年；秋收起义部队与湘南起义；南昌起义部分队伍在\_\_\_\_\_胜利会师。
- (3) 1938 年；第五战区司令长官李宗仁指挥\_\_\_\_\_，的中国军队共歼敌 1 万多人，取得抗战以来的重大胜利。
- (4) 1988 年，\_\_\_\_\_ 建省并成为经济特区。

18、

以下都是中国\_\_\_\_\_化探索过程中的重要历史事件。

- (1) 洋务运动：口号、，在中央以奕訢为代表，地方以曾国藩、\_\_\_\_、张之洞为代表。它是一次失败的封建统治者的自救运动。
- (2)：也称百日维新，是近代中国第一次思想解放运动，在社会上起到了思想启蒙的作用。
- (3) 新文化运动：以陈独秀创办的\_\_\_\_\_杂志为主要阵地，是我国历史上一次空前的思想解放运动运动。
- (4) 辛亥革命：1911 年，革命党人在湖北武昌发动起义，1912 年成立了中华民国。它推翻了\_\_\_\_\_的统治，结束了两千多年的，使得观念深入人心。

19、阅读材料；回答问题。

材料一 新皇帝开始将早先在本国取得辉煌成功的法家学说应用到全中国。他废除了所有的封建国家和王国；将广阔的国土划分为若干行政区，每一行政区都配备一批由中央政府任命，并向中央政府负责的官员。

--斯塔夫里阿诺斯《全球通史》

材料二 唐兴 初未暇于四夷，自太宗平突厥，西北诸蕃及蛮夷稍稍内属，即其部落列置州县。其大者为都督府，以其首领为都督；刺史，皆得世袭。虽贡赋版籍，多不上户部，然声教所暨，皆边州都督、都护所领，著于令式。大凡府州八百五十六，号为羁縻云。

--欧阳修《新唐书》

材料三 郑经提出：“苟能照朝鲜事例；不削发，称臣纳贡，尊事大之食，则可矣”

--江日升《台湾外记》

- (1) 材料一中“新皇帝”的名字是\_\_\_\_\_，材料一所反映的其巩固统治措施的\_\_\_\_\_。
- (2) 选做题：以下两小题；请任选一个作答。
  - ①依据材料二；归纳唐太宗治理东突厥地区的政策和措施。
  - ②据材料三和所学知识；概括康熙收复台湾后的治理措施及其作用。
- (3) 综合以上材料，概括指出三位封建帝王在我国统一多民族国家发展史上的地位。

20、中国古代经济重心南移最终完成是在元朝时期。

21、土地改革运动；解放了农村生产力，为新中国的工业化准备了条件。

判断：\_\_\_\_\_

改错：\_\_\_\_\_。

评卷人	得分
-----	----

 四、判断题(共 2 题，共 16 分)

--	--

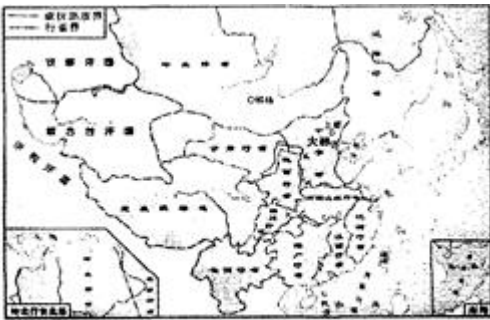
22、宋代中国的“现代化”程度令人吃惊，出现了当时世界上最早的纸币，造船技术也很先进，娱乐场所还出现了京剧表演等。 \_\_\_\_（判断对错）

23、19 世纪 30--40 年代，英国工人阶级为争取普选权开展了宪章运动。 \_\_\_\_。（判断对错）

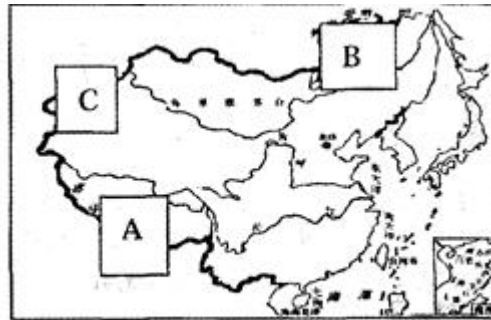
评卷人	得分

五、识图题(共 2 题，共 8 分)

24、23、我国是一个统一的多民族的国家，历代中央政府为促进统一的多民族国家的发展和巩固采取了有效的措施进行管辖。结合下图和所学知识回答问题



图一：元朝疆域示意图



图二：清朝疆域示意图


- (1)、根据图一，为巩固统治，元朝在地方上推行了怎样的行政制度？
- (2)、图二中的 C 地，乾隆时期该地区回部贵族叛乱，回部指今天的哪个民族？
- (3)、为加强对图二中 A 地的管辖，元政府设置什么机构进行管理？清朝确立该地宗教首领的办法叫什么？
- (4)、清朝在图二中 B 地签订了中俄第一个边境条约，请写出该条约的名称。



loading...

25、

二战后，美苏成为世界上最强大的国家。为了争夺世界霸权，20世纪50年代起，美苏争霸格局逐渐形成。观察下面图片并阅读解说文字回答问题。



图一 苏联发射的第一颗人造地球卫星



图二 奥尔德林走下舷梯，登上月球

图一 在争霸中，美苏把冲出地球的能力作为争霸的重点。1957年10月4日，苏联成功发射了世界上第一颗人造地球卫星——“卫星1号”。这是人类第一次冲破重力的束缚自由自在地探测宇宙空间。1961年4月12日，苏联又成功发射了“东方1号”载人飞船，加加林代表人类第一次进入太空。

图二 面对美苏争霸中苏联的优势，1961年5月美国投入更多的人力和物力，开始了“阿波罗计划”。1969年7月21日，美国“阿波罗11号”载人飞船飞向月球，阿姆斯特朗和奥尔德林登上月球，寂静的月球第一次印上了人类的脚印。

(1)从以上图片及文字介绍中，你能获得哪些历史信息？(写出三点即可)

信息点一： 信息点二: 信息点三:

(2)上述材料反映了哪次科技革命的成果?

(3)上述材料反映的情况处于怎样的国际形势?

(4)根据上述图片和文字介绍，你能得出什么结论?

评卷人	得分

## 六、列举题(共 4 题，共 8 分)

26、列举夏、商、西周三朝的三个建立者和三个暴君。

27、建国以来，党和政府非常重视“三农”问题。

(1) 1950 年，中央人民政府颁布\_\_\_\_\_，废除地主阶级封建剥削的土地制度，实行农民的土地所有制。

(2) 为了进一步提高农业生产力，国家对农业进行社会主义改造，1955 年，全国掀起\_\_\_\_\_的高潮。

(3) 十一届三中全会以后，经济体制改革首先在农村取得突破，实行\_\_\_\_\_，调动了农民的生产积极性，解放了农村生产力，推动了农业的发展。



loading...

28、列举第二次工业革命时期的两项交通工具。

29、请列举下列提示信息对应的重大历史事件

- 
- (1) 为欧洲资本主义社会的产生奠定思想文化基础的事件——  
(2) 英国工业革命开始的标志——  
(3) 美国独立战争的转折点——

## 参考答案

### 一、选择题(共 7 题，共 14 分)

1、B

【分析】

【分析】本题主要考查了唐太宗的有关内容。

【解析】

【解答】唐太宗改变了历代统治者“贵中华；贱夷狄”的观念，力求平等对待少数民族，尊重少数民族的习惯和生活方式，任用少数民族人做官，对其首领优礼相待，唐太宗待人宽厚仁慈，所以赢得了少数民族的拥戴，被各族首领共同拥戴为“天可汗”。

故选 B.

2、D

【分析】

【分析】本题主要考查第一届中国人民政治协商会议内容。

【解析】

【解答】1949年9月；中国人民政治协商会议第一次全体会议在北平隆重举行，大会制定了《共同纲领》，大会选举产生了中华人民共和国中央人民政府委员会，选举毛泽东为中华人民共和国中央人民政府主席。大会确定五星红旗为新中国的国旗；以《义勇军进行曲》为代国歌；北平改名北京，作为新中国的首都；新中国采用公元纪年。大会决定在首都天安门广场建立一座人民英雄纪念碑。②1954年，第一届全国人民代表大会制定了我国第一部社会主义类型的宪法。

故选 D.

3、C

【分析】

---

**【分析】**依据已学知识可知；宋朝时期为了加强对海外贸易的管理，在主要港口设立的机构是市舶司。水稻在宋朝跃居粮食产量首位，北宋时在四川地区出现交子，从海南岛兴起的棉织业，在南宋时已发展到东南沿海地区。因此 ABD 表述错误，C 表述正确，故选 C。

**【点评】**本题主要考查学生对宋代经济有关知识的准确识记。

4、C

**【分析】**

1848 年；《共产党宣言》的发表，标志着马克思主义的诞生，从此，无产阶级的斗争有了科学理论的指导，社会主义运动更加蓬勃地发展起来。

故选 C。

本题以马克思主义诞生的标志为切入点；考查《共产党宣言》的相关知识。

注意识记《共产党宣言》的主要内容及标志性意义。

**【解析】**

**【答案】** C

5、B

**【分析】**

古代雅典盛行民主政治；公元前 5 世纪后期，在伯利克里执政时期，古希腊雅典城邦达到全盛，经济繁荣，文化昌盛，奴隶主民主政治发展到古代世界的高峰。故伯里克利时期的雅典公民之所以如此自豪，是因为雅典民主政治发展到全盛时期。

故选 B。

本题主要考查雅典民主政治。

本题主要考查学生的识记能力以及分析问题的能力。理解并识记雅典民主政治的出现、内容及意义。

**【解析】**

B

6、C

---

【分析】

以上内容仅为本文档的试下载部分，为可阅读页数的一半内容。如要下载或阅读全文，请访问：<https://d.book118.com/408137017074007020>