

# 2024 年北师大新版九年级地理下册月考试卷含答案

## 考试试卷

考试范围：全部知识点；考试时间：120 分钟

学校：\_\_\_\_\_ 姓名：\_\_\_\_\_ 班级：\_\_\_\_\_ 考号：\_\_\_\_\_

### 总分栏

题号	一	二	三	四	五	六	总分
得分							

评卷人	得分

### 一、选择题(共 5 题，共 10 分)

1、人口自然增长率与什么密切相关（ ）

- A. 文化教育水平
- B. 环境好坏
- C. 人口多少
- D. 经济发展水平

2、一天中最高气温出现在（ ）

- A. 子夜
- B. 日出以前
- C. 正午 12 点
- D. 约 14 点

3、以下是小赵列出的东南亚地区吸引世界各地游客的一些优势条件，其中“错误”的一点是（ ）

- A. 迷人的热带海滨风光
- B. 一望无际的草原
- C. 多姿多彩的民族风情
- D. 不同类型的宗教建筑

4、为市区提供蔬菜、牛奶、肉等产品的地区是（ ）

- A. 近郊平原区
- B. 远郊平原区
- C. 远郊山区
- D. 远郊深山区

5、2014 年 11 月 1 日 6 时 42 分，探月再入返回飞行试验返回器在内蒙古四子王旗预定区域顺利着陆，小明想知道内蒙古在中国哪儿，你认为他查找下面的哪幅图最合适？（ ）

- A. 江苏地形图
- B. 内蒙古行政区划图

- C. 中国省级行政区划图  
D. 等高线地形图

评卷人	得分

二、填空题(共 8 题, 共 16 分)

6. 读我国四大地理区域及其局部区域的放大图; 回答相关问题.



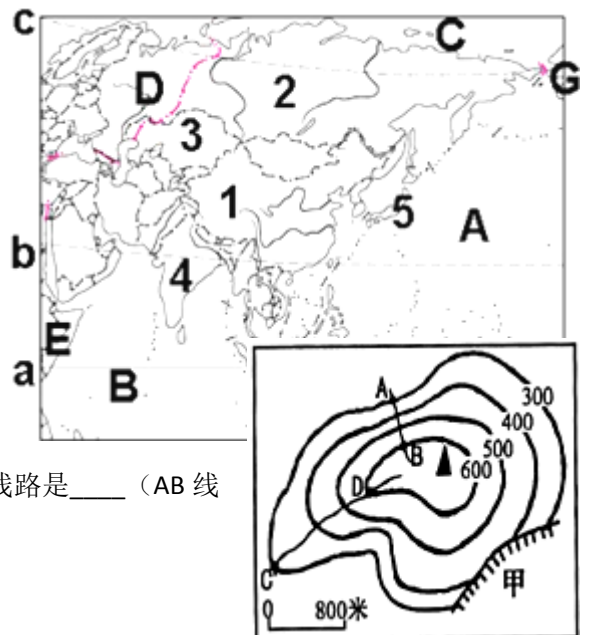
- (1) 图中甲、乙、丙、丁四个区域中, 长江和黄河的源头大致属于\_\_\_\_ (填代号) 区域; 我国西气东输工程的源头大致位于\_\_\_\_ (填代号) 区域.  
 (2) 甲区域和乙区域分界线上的山脉是\_\_\_\_, 丙区域的\_\_\_\_ (动物) 有“高原之舟”的美誉, 甲区域放大图中①海域是\_\_\_\_, A 高原是\_\_\_\_.  
 (3) 甲区域的地形以\_\_\_\_为主, 乙区域农业发展的限制性因素是\_\_\_\_.  
 (4) 北京的经度为\_\_\_\_, 北京夏季的气候特征是\_\_\_\_.

7. 简述我国地理位置的优越性.

纬度位置: \_\_\_\_;  
海陆位置: \_\_\_\_.

8. 读亚洲地形图; 回答下列问题

- (1) 以下字母所代表的大洋是:  
A \_\_\_\_ B \_\_\_\_ C \_\_\_\_  
 (2) 以下字母所代表的大洲是 D \_\_\_\_ E \_\_\_\_.  
 (3) 以下字母所代表的纬线名称和纬度是:  
a \_\_\_\_ b \_\_\_\_ c \_\_\_\_.  
 (4) 以下数字所代表的国家是: 1 \_\_\_\_.



9. 读“等高线地形图”(如图); 完成下列问题.

- (1) 判断甲处地形部位是\_\_\_\_.  
 (2) 图中 A 点的海拔是\_\_\_\_米.  
 (3) 沿 AB 线路爬到山顶和沿 CD 线路爬到山顶, 坡度较陡的线路是\_\_\_\_ (AB 线路或 CD 线路)  
 (4) 图上 BD 之间水平直线距离大约是\_\_\_\_米.

10、俄罗斯位于北极圈以内但终年不冻的港口是\_\_\_\_。终年不冻的原因是\_\_\_\_。

11、(1) 图中 A 表示的是\_\_\_\_。

(2) B 表示的是\_\_\_\_。

(3) 亚洲与非洲的交界是字母\_\_\_\_。

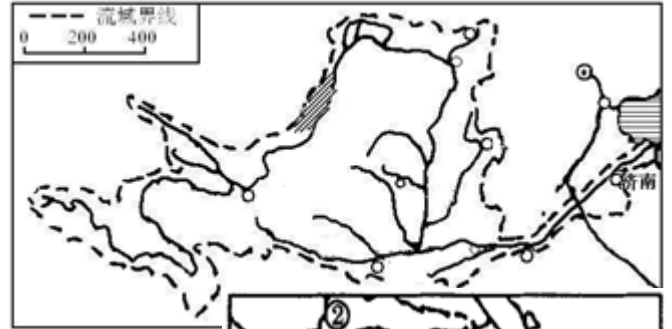
(4) 欧洲与非洲的交界用字母\_\_\_\_表示。



12、图是我国黄河流域示意图；读图回答下列问题。

(1) 该河在\_\_\_\_(省级行政区)、内蒙古、\_\_\_\_(省级行政区)境内的部分河段，受\_\_\_\_(影响因素)的影响；初春时节，往往发生凌汛灾害。

(2) 除凌汛外，该河流在下游的主要忧患还有哪些？请你谈谈怎么治理这些忧患？\_\_\_\_。



13、读“中东地区图”；回答问题。

(1) 图中沟通①地中海和②\_\_\_\_海的是⑤\_\_\_\_海峡。

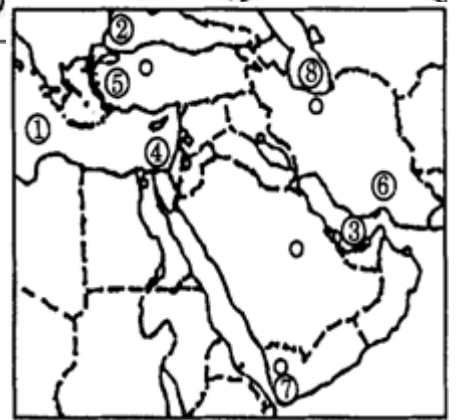
(2) 将海湾③周围的石油运往欧洲、美国，走最短线路，先后经过\_\_\_\_海峡-阿拉伯海-红海\_\_\_\_运河-地中海\_\_\_\_海峡-欧洲、美国。

(3) 著名产油国⑥是\_\_\_\_。

(4) ⑦国所在的半岛是世界第一大半岛\_\_\_\_岛。

(5) 图中⑧是\_\_\_\_海；它是世界上最大的湖泊。

(6) 导致本区社会不稳定的因素有哪些？



评卷人	得分

### 三、判断题(共 8 题，共 16 分)

14、在中东地区，水资源和石油资源均十分丰富。\_\_\_\_(判断对错)

15、通过地球表面任何一点都只有一条经线。\_\_\_\_(判断对错)

16、新加坡在东南亚各国中有“火山国”之称。\_\_\_\_。

17、保护世界文化遗产是为了依靠它们创造更高的经济价值。\_\_\_\_(判断对错)

18、黑龙江省的大庆油田是我国最大的油田。\_\_\_\_(判断对错)

19、农业生产技术的改进增加了农作物产量，同时也可能对生态环境带来负面影响。\_\_\_\_(判断对错)

20、南极洲几乎全部位于南极圈以内，是跨纬度最广的大洲\_\_\_\_。

21、我国动植物种类众多主要是因为我国气候复杂多样。\_\_\_\_。

评卷人	得分

### 四、连线题(共 4 题，共 40 分)

22、

请将下列图例与相应的注记连线

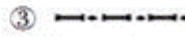
A. 国界



B. 山峰



C. 河流



A—\_\_\_\_、B—\_\_\_\_、C—\_\_\_\_



loading...

23、34.读图,回答下列问题。(8分)



(1)从纬度位置看,世界人口稠密区主要分布在\_\_\_\_纬度。

---

(2)①地区主要分布着\_\_\_\_人种；信仰\_\_\_\_教,②地区居民主要使用\_\_\_\_(语言)。

(3)③地区人口稀少,其原因是\_\_\_\_\_。(2分)


(4)目前,世界人口已超过70亿。预计未来40年,亚洲、非洲、拉丁美洲的人口增长,将约占全球人口增长的97%。亚、非、拉国家人口增长过快,产生的问题有\_\_\_\_(两条即可)(2分)



loading...

24、将下列美称与所指地区相连

- ①塞外江南 A 成都平原
- ②天府之国 B 宁夏平原
- ③鱼米之乡 C 长江中下游平原
- ④北大仓 D 东北平原
- ⑤东方明珠 E 青藏高原
- ⑥世界屋脊 F 香港
- ⑦聚宝盆 G 柴达木盆地
- ⑧紫色盆地 H 四川盆地



25、阅读下列材料，回答问题（9分）材料一：2016年1月5日习近平总书记在重庆召开推动长江经济带发展座谈会强调，长江是中华民族的母亲河，也是中华民族发展的重要支撑。推动长江经济带发展必须从中华民族长远利益考虑，走生态优先、绿色发展之路，使绿水青山产生巨大生态效益、经济效益、社会效益，使母亲河永葆生机活力。

材料二：长江经济带示意图



- (1) 长江三角洲地区城市密集，核心城市是A\_\_\_\_，南京和\_\_\_\_分别是其北翼、南翼的中心城市。
- (2) 图示区域内，位于长江中游，既是我国主要的纺织工业中心又是重要钢铁工业中心的是\_\_\_\_市（填字母）。
- (3) 我国有多条纵向铁路穿越长江干流，其中，经过南京的铁路干线是\_\_\_\_线。
- (4) 图中D\_\_\_\_水利枢纽是目前世界上最大的水利枢纽，该地水能资源丰富的原因是\_\_\_\_。
- (5) 试分析长江沿江经济带发展经济的优势条件？（写出两点即可）
- (6) 据材料一，请你为长江中下游地区经济发展提合理化建议。



loading...

评卷人	得分

五、材料题(共 2 题, 共 14 分)

26、我国的行政区划分为\_\_\_\_、\_\_\_\_、\_\_\_\_三级。

27、下列江南旅游区不在浙江的是 ( )

- A. 杭州西湖
- B. 乌镇
- C. 西塘
- D. 同里

评卷人	得分

六、综合题(共 4 题, 共 24 分)

28、印度是发展中的工农业大国。结合下图, 完成下列问题。



(1) 填出图中数码所代表的地理事物。

首都：①\_\_\_\_\_；河流：②\_\_\_\_\_。

首都①位于②河的上游，其周围主要种植的粮食作物是\_\_\_\_\_。

(2) 印度大部分地区地处\_\_\_\_(温度带)，大部分地区每年的6~9月盛行\_\_\_\_\_季风，年降水量极不稳定，常发生水旱灾害。

(3) 分析印度人口众多的优势和劣势（各一条即可）

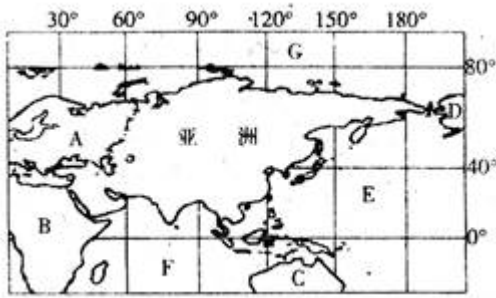
优：\_\_\_\_\_

劣：\_\_\_\_\_

(4) 印度自北向南分为三大地形区，北部是\_\_\_\_\_山脉，中部是恒河平原，南部是\_\_\_\_\_高原。



loading...

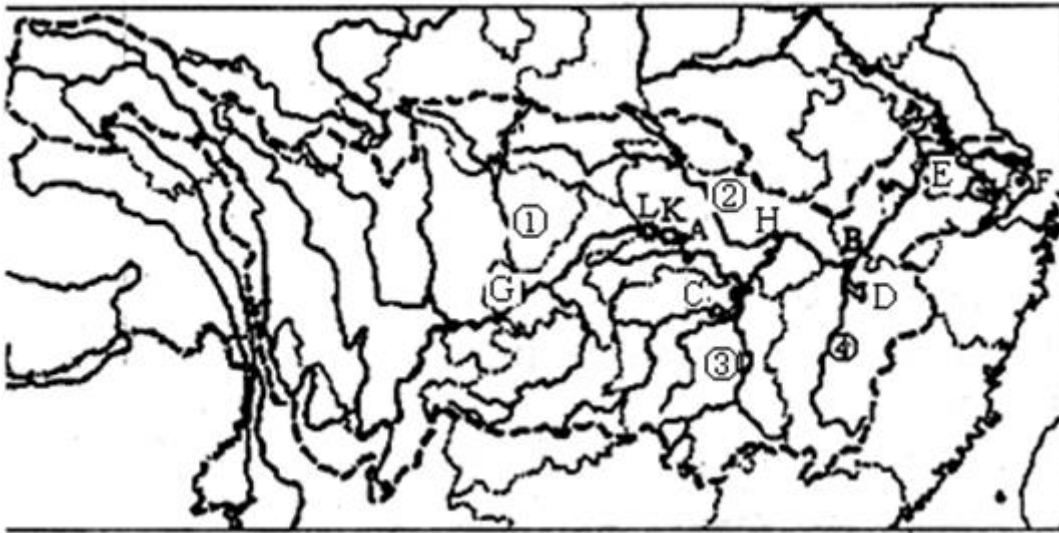


- (1) 亚洲以\_\_\_\_\_山脉, 乌拉尔河, 里海, 大高加索山脉, 黑海和\_\_\_\_\_海峡与(A)\_\_\_\_\_洲为界.
- (2) 亚洲以\_\_\_\_\_运河与(B)\_\_\_\_\_洲为界.
- (3) 亚洲在东北方向以\_\_\_\_\_海峡与(D)\_\_\_\_\_洲为界.
- (4) 填写亚洲周围海洋的名称. E\_\_\_\_\_



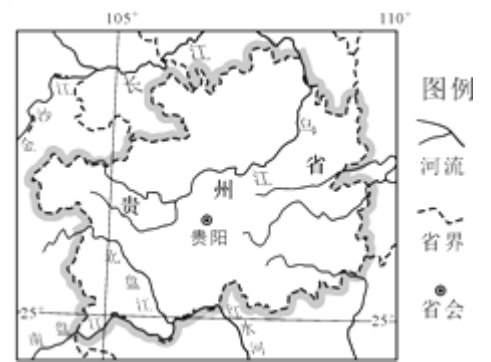
loading...

30、读长江流域图, 回答下列问题



- (1) 长江的发源地是\_\_\_\_\_，它注入\_\_\_\_\_海。沿途流经\_\_\_\_\_个省区。
- (2) 写出下列代码所代表的地理事物的名称：长江上中游的划分地：A\_\_\_\_\_；中下游的划分地：B\_\_\_\_\_。
- (3) 主要支流：①\_\_\_\_\_、②\_\_\_\_\_、③\_\_\_\_\_；④\_\_\_\_\_；湖泊：C\_\_\_\_\_，D\_\_\_\_\_；
- (4) 重要港口城市：F\_\_\_\_\_；H\_\_\_\_\_。
- (5) 2009年完工的水利枢纽工程：L\_\_\_\_\_。

loading...



31、阅读下列材料；结合所学知识，回答下列问题。

材料一 贵州省略图（如图）

材料二 贵州省地处我国西南地区；高海拔；低纬度、寡日照、常年云雾缭绕，当地气候温和湿润。贵州素有“八山一水一分田”之说，经济较为落后但发展潜力巨大。

材料三 福建和贵州两省茶产业比较表（2012年）

省区	种植面积 (万亩)	产量。 (万吨)	良种率。 (%)	涉茶综合产值 (亿元)
福建	332	32.1	95	400
贵州	520	10.2	77	86

(1) 按水系划分，贵州省位于 \_\_\_\_\_ 江和珠江两大水系上游地带。

(2) 贵州省的总体地势特征是 \_\_\_\_\_。判断依据是 \_\_\_\_\_。

(3) 茶树种植需要适宜的地形；气候和土壤条件。近年来；浙江、福建等产茶大省因土地增值、劳动成本升高等原因，致使茶园面积缩减，茶树种植逐步向西部转移，贵州已成为我国茶园面积第一大省。请说明贵州承接“东茶西移”的优势自然条件，并指出目前贵州茶产业存在的主要问题。

答：优势自然条件： \_\_\_\_\_。问题：

\_\_\_\_\_。



---

# 参考答案

## 一、选择题(共 5 题, 共 10 分)

1、D

【分析】

【分析】随着经济发展水平的提高, 人口增长速度加快; 因为经济发展水平提高, 人们的各种生活条件得到改善, 使人的寿命延长, 死亡率下降, 人口自然增长率也就提高了。

【解析】

【解答】解: 人口自然增长率与经济发展水平有密切关系。一般说来; 经济发展水平较高的国家人口增长率较低, 个别国家甚至出现零增长或负增长; 经济发展水平较低的国家, 人口增长率较高。

故选: D.

2、D

【分析】

【分析】气温的日变化规律为: 一天中气温最高值出现在 14 时左右, 一天中气温最低值出现在日出前后。

【解析】

【解答】解: 一天中气温最高值出现在 14 时左右; 一天中气温最低值出现在日出前后。

故选: D.

3、B

【分析】

【分析】东南亚位于亚洲的东南部。有丰富的热带自然景观、众多美丽的沙滩和岛屿, 以及许多名胜古迹和独特的风土人情, 成为该地区丰富的旅游资源, 吸引着世界各地的旅游者。如缅甸仰光的大金塔、印度尼西亚的婆罗浮屠、柬埔寨的吴哥窟、泰国曼谷的水上市场、越南的下龙湾、花园城市-新加坡等。

【解析】

---

以上内容仅为本文档的试下载部分，为可阅读页数的一半内容。如要下载或阅读全文，请访问：<https://d.book118.com/418044112051007021>