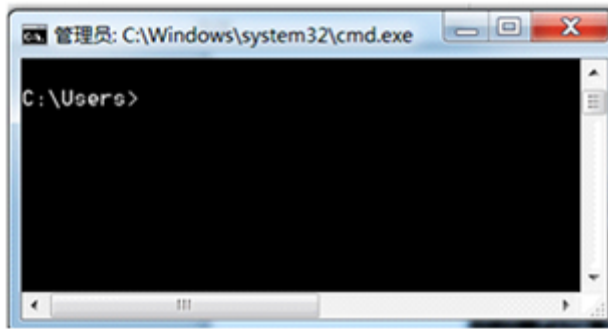


初中信息技术（信息科技）计算机网络知识题库含答案

一、单选题

1. 一台主机的 IP 地址为 202.113.224.68，子网掩码为 255.255.255.0，那么这台主机的主机号为()。
A. 4 B. 6 C. 8 D. 68
2. 下列叙述中，() 是不正确的。
A. “黑客”是指黑色的病毒
B. 计算机病毒是程序
C. CIH 病毒是一种计算机病毒
D. 防火墙会依照特定的规则，允许或限制传输的数据通过
3. 下面哪一项无线通信技术适用于大规模、大范围的数据传输？()
A. ZigBee B. NFC C. Bluetooth D. Wi-Fi
4. 在上网的过程中，下列行为错误的是 ()。
A. 相信网络中的所有信息都是真实的
B. 遵守《全国青少年网络文明公约》
C. 不在网络中泄漏自己的个人信息
D. 在注册论坛、聊天软件、邮箱时要设定高强度密码来保证安全
5. 小王同学在 QQ 上收到学校发来的缴费通知，要求他转账到**银行账户上，小王同学的正确做法是 ()。
A. 打短信上的电话核实
B. 按照要求转账，以免耽误学习
C. 在 QQ 上核实对方身份
D. 不轻信，不能把钱轻易汇入陌生账户
6. 要查看本机的 DNS 服务器地址，需要在下图中命令行“c:\Users>”后输入 () 命令。



- A. ping B. cmd C. ipconfig D. ipconfig/all
7. 超链接的目标可以是网页，也可以是同一页面上的其他位置。链接到同一页面上的其他位置，可以通过（ ）来完成。
- A. 利用图片地址 B. 利用文件地址
C. 利用建立“书签” D. 直接进行链接
8. 下列选项中正确的 IP 地址是（ ）。
- A. 202.108.249.200 B. 266.202.104.77
C. 33.254.12 D. 222, 126, 142, 79
9. 学生去食堂买饭，刷卡扣费时，饭卡里的余额从 100 元变成了 96 元，这是使用了（ ）技术。
- A. 移动支付 B. 射频识别 C. 传感器 D. 红外线
10. 连接到 Internet 的计算机中，必须安装的协议是（ ）。
- A. 双边协议 B. TCP/IP 协议 C. NetBEUI 协议 D. SPSS 协议
11. 以下域名中书写正确的是（ ）
- A. cn\sd\jn\www B. ftp/sd/jn/cn
C. news.online.jn.sd.cn D. Chinad,jn,www
12. 为防止黑客的入侵，下列做法有效的是（ ）
- A. 关紧机房的门 B. 在机房安装电子报警装置
C. 定期整理收藏夹 D. 在计算机中安装网络防火墙
13. 网址 http: //www.sohu.com.cn 中，com 的含义是（ ）。
- A. 网络机构 B. 商业机构 C. 搜索引擎 D. 教育机构
14. 小美通过互联网在“淘宝网”购买了一台型号为 MateBook

- A. ①② B. ①③ C. ②③ D. ①③④

22. 班长将当天的回家作业电子稿存放在公用计算机的一个共享文件夹中，供同学们下载，但他不希望有人在下载的时候不小心修改或误删除文件，那么在设置这个文件的共享权限时应该选择（ ）。

- A. 完全控制 B. 更改
C. 读取 D. 选中以上三项

23. FrontPage2003 中的书签功能()

- A. 只能链接到本文件中的某一个位置
B. 只能链接到外部文件中的某一个位置
C. 可以链接到本文件中的某一个位置，也可以链接到外部文件中的某一个位置
D. 既不能链接到本文件中的某一个位置，也不能链接到外部文件中的某一位置，只能作为观赏用。

24. 惠州市人民政府网址为：<http://www.huizhou.gov.cn>，其中的 cn 是指()。

- A. 日本 B. 教育机构 C. 中国 D. 商业机构

25. 智能扫地机是一种智能家用电器，它借助手机连接到设备，通过手机发送指令，实现智能扫地机自动在房间内完成清理工作。手机对智能扫地机的控制形式为（ ）

- A. 自动控制 B. 手动控制 C. 半自动控制 D. 半手动控制

二、判断题

26. 小雪收到一条中奖短信，领取奖品需要身份证、银行卡和取款密码等信息，她应如实提供。

27. IP 地址如果设置为自动获取，则表示由系统自动分配动态 IP 地址，使用完不会释放回系统。

28. 已知清华大学的域名是“www.tsinghua.edu.cn”，使用“ping www.tsinghua.edu.cn”命令，从反馈结果可知，清华大学网站的 IP 地址为“166.111.4.100”。


```
C:\Users\Administrator>ping www.tsinghua.edu.cn
正在 Ping www.tsinghua.edu.cn [166.111.4.100] 具有 32 字节的数据:
来自 166.111.4.100 的回复: 字节=32 时间=38ms TTL=48
来自 166.111.4.100 的回复: 字节=32 时间=38ms TTL=48
来自 166.111.4.100 的回复: 字节=32 时间=38ms TTL=48
来自 166.111.4.100 的回复: 字节=32 时间=39ms TTL=48
```

29. 上网浏览时，可以完整保存网页，也可以单独保存网页中的文字或图片。
30. 用户对自己“云盘”上的存储空间享有“隐私权”，所以可以上传、发布任何信息。

三、填空题

31. 随着人工智能技术在交通、医疗、金融、商业、教育等领域的应用日益深入，李华同学想制作一个跟人工智能有关的网站并发布，与更多的人一起交流分享。

(1) 参照下面的效果图，将空白处的代码补齐。

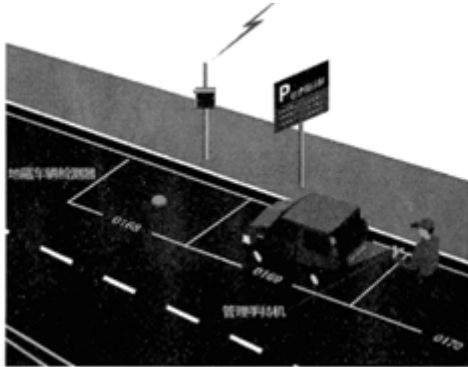


```
<html>  
  <head>  
    </title>_____</title>  
  </head>  
  _____  
    
  <h1>走近人工智能</h1>  
  <a href="fazhan.html">_____</a>  
</body>  
</html>
```

- (2) 李华同学为了保持网页风格的整体性，使用了 CSS 层叠样式表对网页中数据的布局、字体和背景效果进行了设置。李华发现网页中“走近人工智能”标题未居中，于是借助内部样式表在 HTML 页面的_____（单选，填字母：A .<head></head>或 B .<body></body>）标签中添加了如下代码。

```
<style type=" text/css">
_____ {text-align: center;}
</style>
```

32. 现在越来越多的城市使用了智能停车收费系统（如图所示），该图的智慧停车收费系统采用_____传感器获取车位信息，该传感器属于_____的传感器。【选择“物理效应\化学效应\生物效应”其中一个】



请把下列智慧停车收费系统信息获取、传递、处理的步骤按先后顺序排列，把你认为合理的步骤编号依次填写在横线上_____。

- ① 车辆检测器发送车辆离场信号
- ② 车辆检测器获取车位车辆入场信号。
- ③ 云端服务器下发入场车辆停车泊位编号给管理员
- ④ 管理员用管理手持机上传车辆信息。
- ⑤ 云端服务器处理相关数据，发送 APP 终端。
- ⑥ 用户手机支付停车费
- ⑦ 无线网关上传车辆入场的时间、停车泊位编号到云端服务器。

33. 随着科学技术的发展，出现了许多网络新技术和新应用，如_____、_____等。

34. 文件名是指我们要访问的网页文件，如果省略文件名，则代表访问的一定是_____。

35. 参考图示，回答问题。



信息经济的发展，极大地方便了人们的社会生活。某用户使用计算机中的浏览器访问某电商网站（服务器），在线购买了一台电视机。该用户网络购物过程中，所使用的信息系统采用的体系结构是_____结构（模式）

四、解答题

36. 请列举一项物联网在我们生活中的应用，并具体说说它是如何实现智能操作的。
37. 2011年9月，淘宝网上大量商品标价1元，引发网民争先恐后哄抢，但是之后许多订单被淘宝网取消。随后，淘宝网发布公告称，此次事件为第三方软件“团购宝”交易异常所致。部分网民和商户询问“团购宝”客服得到自动回复称：“服务器可能被攻击，已联系技术紧急处理。”此次“错价门”则是大批商户的大批商品价格在短时间内被恶意篡改，达到这个目的需要借助一定的技术手段。这起“错价门”事件发生暴露出来的我国电子商务安全问题不容小觑。

- (1) 请利用《网络安全》知识，对计算机网络安全防范提几条建议。
- (2) 请利用《电子商务》知识，对安全使用网上银行提几条注意点。

以上内容仅为本文档的试下载部分，为可阅读页数的一半内容。

如要下载或阅读全文，请访问：

<https://d.book118.com/427116102036006064>