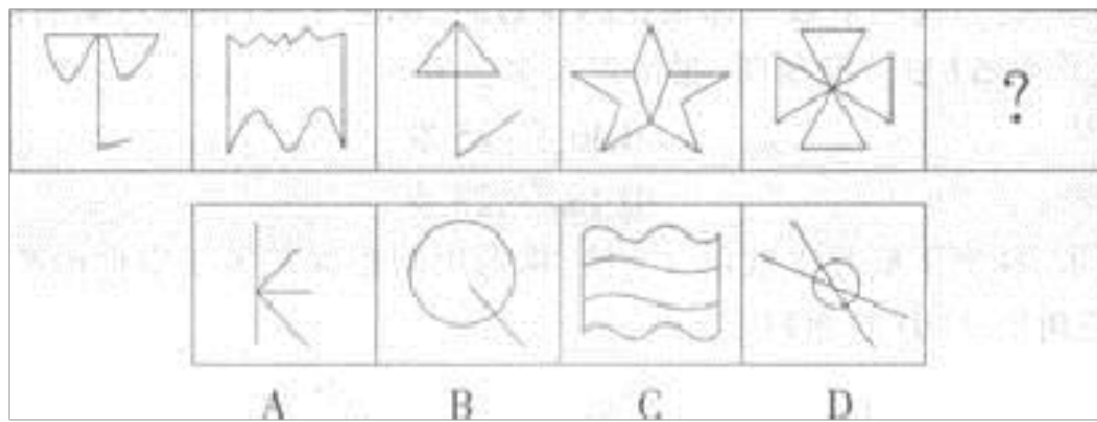


(备考 2023 年) 山东省威海市公务员省考 行政职业能力测验真题二卷(含答案)

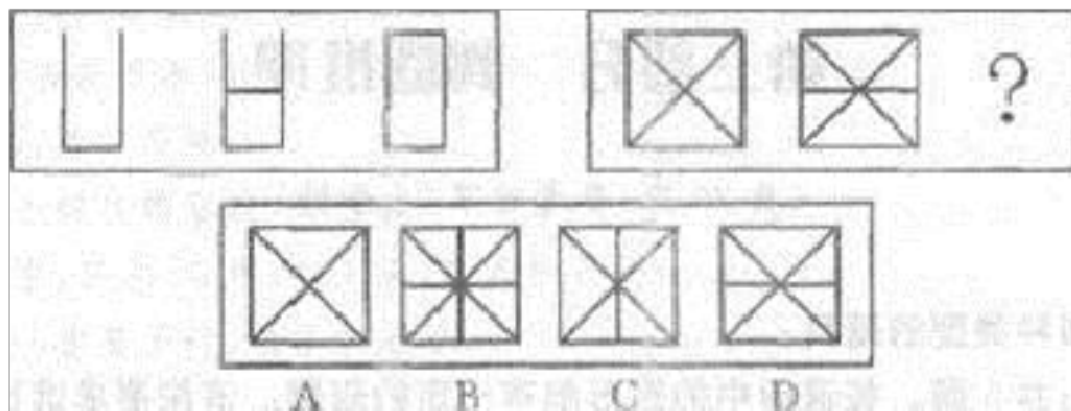
学校:_____ 班级:_____ 姓名:_____ 考号:_____

一、图形推理(6 题)


1. 从所给的四个选项中, 选择最合适的一个填入问号处, 使之呈现一定的规律性。



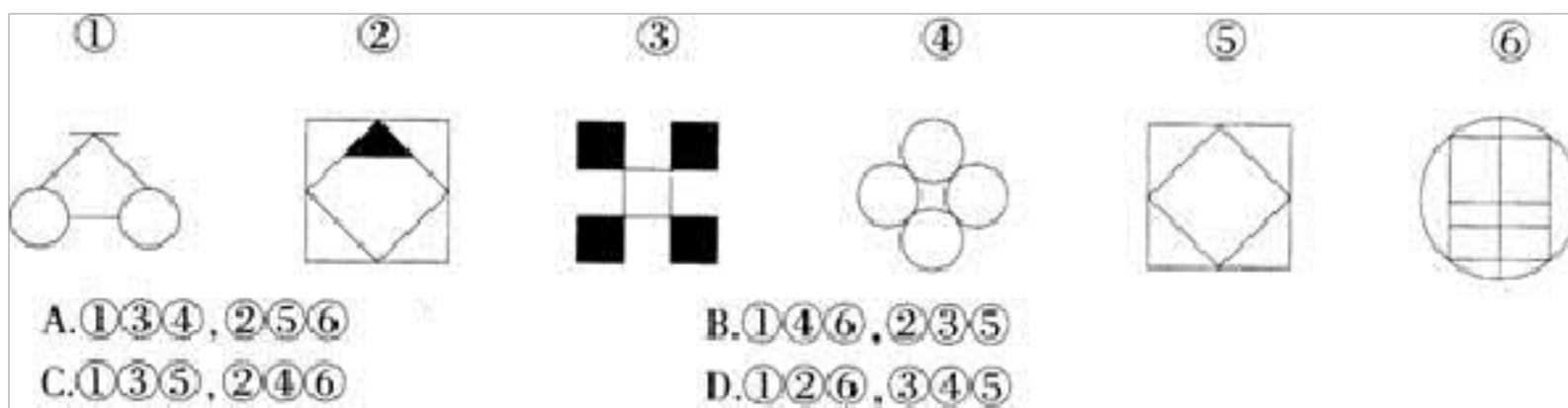
2. 从所给的四个选项中, 选择最合适的一个填入问号处, 使之呈现一定的规律性:



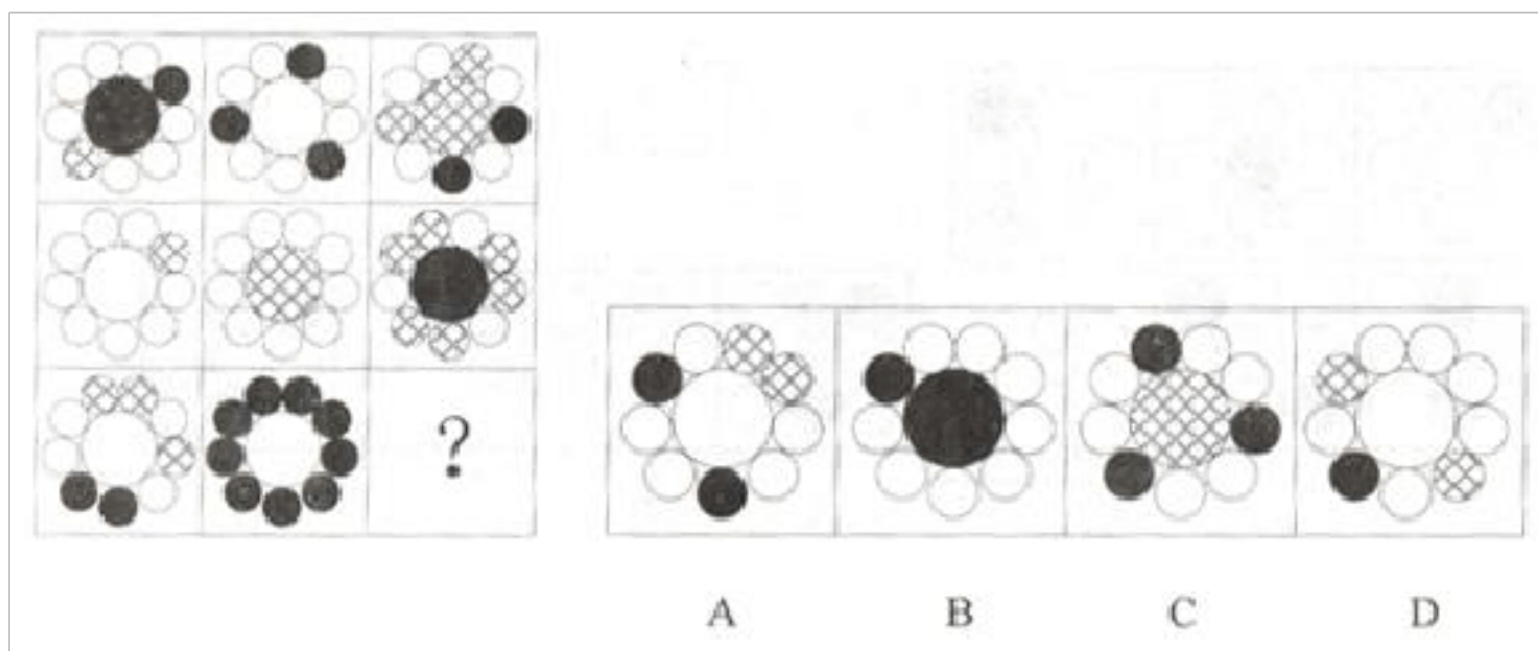
3. 从所给的四个选项中, 选择最合适的一个填入问号处, 使之呈现一定的规律性:



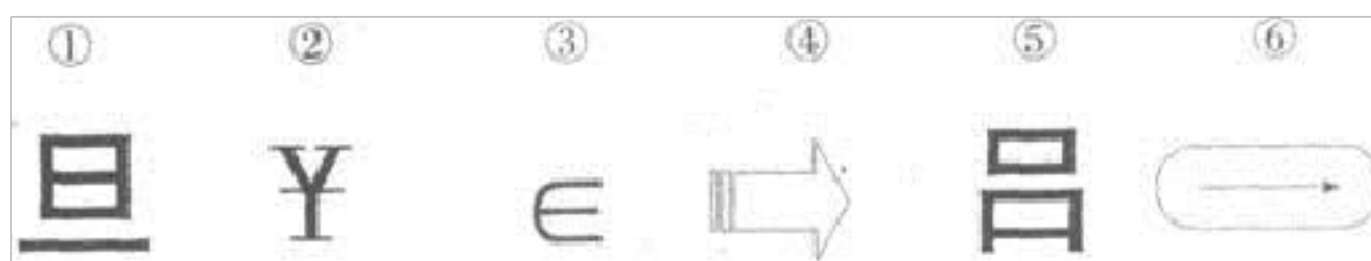
4. 把下面的六个图形分为两类，使每一类图形都有各自的共同特征或规律。分类正确的一项是：



5. 从所给四个选项中，选择最合适的一个填入问号处，使之呈现一定的规律性：



6.把下面的六个图形分为两类，使每一类图形都有各自的共同特征或规律，分类正确的一项是：



- A.①③⑤, ②④⑥ B.①②⑤, ③④⑥ C.①③④, ②⑤⑥ D.①④⑥, ②③⑤

二、定义判断(10 题)

7. 劳务派遣，是指由劳务派遣机构与派遣劳工订立劳动合同，由派遣劳工向要派企业给付劳务，劳动合同关系存在于劳务派遣机构与派遣劳工之间，但劳动力给付的事实则发生于派遣劳工与要派企业之间。根据上述定义，下列属于劳务派遣的是（ ）。

- A.某甲通过市人才市场举办的招聘会找到了工作，与乙公司签订了为期一年的劳动合同
- B.某市对外服务有限公司通过招聘会与某甲签订了劳动合同，后又将某甲安排至乙公司工作
- C.某甲被某劳务派遣公司安排至某 IT 公司工作。双方约定，由该 IT 公司与某甲签订新的劳动合同并支付某甲的工资
- D.某农民工为甲市的某建筑公司打工，双方并未签订合同，该建筑公司按月付农民工工资

8.

社会控制是指运用社会力量使人们遵从社会规范，维持社会秩序的过程。既指整个社会或社会中的群体、组织对其成员行为的指导、约束和裁判，也指社会成员间的相互影响、相互监督、相互批评。社会控制可分为内在控制和外在控制。内在控制是人们学习一定社会群体的行为规则的过程。外在控制则是通过外部压力使人们遵守一定社会规范的过程。根据上述定义，下列属于内在控制的是：

- A. 社会舆论的监督也是实现领导干部廉洁自律的途径之一
- B. 三岁的小芳在父母的教育下知道了过马路要走斑马线
- C. 某地在警方新一轮的整肃之下，社会秩序明显好转
- D. 改革开放以来，国家高度重视并奖励科研，高水平成果层出不穷

9. 职客也叫“职场经纪人”或“求职顾问”，是指以求职者的利益为中心，以求职者的就业需求为导向，为求职者提供一系列就业相关的咨询服务，并最终帮助求职者成功就业的人。

根据上述定义，下列各项属于职客的是（ ）。

- A. 某公司计划招聘 2 名行政人员，领导将该任务交由小张负责，小张开始着手发布信息、面试，最终找到合适的应聘者
- B. 王铭今年大学毕业，在网络上投了很多简历，终于找到了工作，主要负责公司的人力资源管理相关事务
- C. 李岩听朋友说某大型企业正在进行招聘，积极推荐其同学去参加面试，

并顺利通过

D.唐星利用空余时间在某网站兼职， 根据自己丰富的经验和人际关系， 帮助小敏顺利找到工作， 并从中获得报酬

10.公民， 是指具有一国国籍的自然人。自然人是相对于法人而言的， 是指基于出生而有生命的人， 包括中国人、外国人、无国籍的人。

根据上述定义， 下列属于中国公民的是（ ）。

A.被判处无期徒刑的中国公民 B.来华旅游的外国人 C.享有外国国籍的海外华人 D.没有户口的“黑人”

11.员工沉默是一种员工对组织中潜在问题保留个人观点的组织文化现象。基于员工动机的不同， 可分为三类：默许性沉默、漠视性沉默和人际恐惧沉默。其中， 默许性沉默是指员工预期自己没有能力改变现状而被动、消极地保留观点；漠视性沉默是指员工由于对组织低水平的承诺而消极保留观点；人际恐惧沉默是员工为了避免发表意见而产生人际隔阂。

根据上述定义， 下列属于默许性沉默的是：

A.甲大学毕业后进入某公司， 抱着多一事不如少一事的态度， 对有些员工考勤违规的现象视而不见

B.乙在某公司受到排挤， 虽然明知自己正在做的一个项目极有可能亏本， 却从未想过将这件事上报领导

C.某公司打算出版新的考研图书， 丙经过市场调查后认为考研市场已基本饱和， 但在新书研讨会上丙并未发表意见

D.丁是某公司财务人员，发现公司股东王某擅自挪用公款买房投资，在王某的威胁下丁假装并不知道此事

12. 意见领袖是指在人际传播网络中经常为他人提供信息，同时对他人施加影响的“活跃分子”。他们在大众传播效果的形成过程中起着重要的中介或过滤的作用，由他们将信息扩散给受众，形成信息传递的两级传播。根据上述定义，下列属于意见领袖的是（ ）。

A.某品牌手机用户都喜欢上该手机的论坛，他们认为这个论坛提供的消息最准确

B.在工作中，小曹任何事情都对领导的命令坚决执行，他认为服从领导是正确的工作方法

C.王丽和赵雪是十多年的好朋友，王丽经常在时政问题上给赵雪以指导，但在流行时尚方面赵雪则是王丽的老师

D.小白对电脑一窍不通，他在电脑城里与很多卖家交流后，选择了一位看起来很亲切的卖家卖的电脑

13.显性成本是指厂商在生产要素市场上购买或租用所需要的生产要素的实际支出。隐性成本是指厂商自己所拥有的且被用于该企业生产过程中的那些生产要素的总价格，是一种隐藏于企业总成本之中、游离于财务审计监督之外的成本。相对于显性成本来说，隐性成本隐蔽性大，难以避免、不易量化。

根据上述定义，下列属于隐性成本的是（ ）。

- A.某工厂为如期完成订单生产，要求工人加班，该工厂付给工人一定的加班费
- B.某公司由于最近产品销售不佳而将大量成品堆积在仓库所产生的仓储费用
- C.某企业由于总经理的正确决策而避免了与濒临破产的某公司合作所带来的成本
- D.某房地产企业向银行贷款以便付给相关人员拆迁补偿费，确保某房地产开发项目顺利进行

14.污名认同，是指一个社群或族群对自己产生负面的认同感，因而竭力排斥自己的母文化及表征，并向另一文化迅速靠拢或同化。

根据上述定义。下列不属于污名认同的是：

- A.改革开放之初东西方物质生活上的巨大差异使人们崇洋媚外
- B.台湾原住民长期处于社会非主流进而认同自身文化落后并向汉文化靠拢
- C.不少南京人认为南京话不好听，相互之间更愿意用普通话进行交流
- D.清末洋务运动主张“中学为体，西学为用”，掀起“师夷之长技以自强”的改良运动

15. 对于两种物品，如果一种物品价格的上升会引起另一种物品需求的增加，则这两种物品被称为替代品；如果一种物品价格的上升会引起另一种物品需求的下降，则这两种物品被称为互补品。

根据上述定义，下列属于互补品的是（ ）。

- A.春运期间，由于火车票“一票难求”，不少人转而乘坐飞机回家
- B.随着数码相机的使用越来越广泛，胶卷这一产品正逐渐退出历史舞台
- C.在物价不断上涨的今天，由于牛奶的价格上升得较快，许多人转而购买奶粉
- D.由于中国联通与 iPhone4 开展了合约计划政策，购买 iPhone4 的用户只能选择联通的通信服务

16.舌尖现象是指回忆的内容到了舌尖，只差一点，就是无法忆起。这是由于大脑对记忆内容的暂时性抑制所造成的，这种抑制来自于多方面，比如对有关事物的其他部分特征的回忆掩盖了所要回忆的那部分特征，又比如回忆时的情境因素以及自身情绪因素的干扰等。而消除了抑制，如经他人提示、离开回忆困难时的情境、消除紧张情绪等，舌尖现象往往就会消失。

根据上述定义，下列不属于舌尖现象的是（ ）。

- A.肖琳在火车站偶遇初中时的同学，本来想过去打个招呼，但却怎么也想不起她的名字
- B.小李在参加公务员考试时，有道常识题感觉很熟悉，记得考试前一天自己还复习过，但是却无法确定正确答案，考试结束后，突然又想起来了
- C.丽丽在写作文时突然忘了“归来”的“归”字怎么写，在纸上写了好几次还是感觉不对，无奈只能向妈妈求助

D.小明在上课时偷偷看手机，当被老师突然叫起来回答问题时，他支支吾吾了半天也答不出来

三、常识判断(10 题)

17. 中国共产党第一次自主地运用马列主义基本原理解决中国革命问题的会议是：

A.八七会议 B.遵义会议 C.瓦窑堡会议 D.六届六中全会

18.第 94 题 19 世纪 80 年代德国发明家（ ）成功地制造了第一辆由内燃机驱动的汽车。

A.卡尔·本茨 B.鲁道夫·狄塞尔 C.齐柏林 D.西门子

19. 市场经济中最基本的市场是（ ）。

A.消费品市场 B.要素市场 C.价格市场 D.产品市场

20.工业革命开始的时间和地点分别是()。

A.17 世纪中叶，英国 B.18 世纪中叶，英国 C.18 世纪前期，英国 D.18 世纪晚期，荷兰

21.第 18 题 依据行政诉讼的有关规定，下列哪一证据材料在原告不能自行收集，但能够提供确切线索时，可以申请人民法院调取？（ ）

- A. 涉及公共利益的证据材料
- B. 涉及个人隐私的证据材料
- C. 涉及中上诉讼事项的证据材料
- D. 涉及回避事项的证据材料在行政诉讼过程中

22.第 80 题 下列有关海洋知识的表述不正确的是 ()。

- A. 海水所含的元素超过了人体吸收的限度所以不能喝
- B. “黑潮”是纵贯大西洋的一支海流，由于污染，海水呈黑色，所以被称为“黑潮”
- C. 科学家认为，海平面的升降是由于大陆板块运动或全球气候的冷暖变化引起的
- D. 海洋中容纳有巨大的热量，在不断与外界交换和传输自身热量的过程中，对大陆的气候起到了调节作用

23.第 106 题 著名的“响尾蛇”空对空导弹采用的是 ()。

- A.雷达制导系统 B.红外线制导系统 C.激光制导系统 D.机械制导系统

24. 关于低碳经济，下列表述不正确的一项是：

- A.温室气体排放量尽可能低的经济 development 方式
- B.尤其是二氧化硫这一主要温室气体的排放量要有效控制
- C.实质是能源高效利用、清洁能源开发、追求绿色 GDP
- D.核心是能源技术和减排技术创新、产业结构和制度创新以及人类生存发展观念的根本性转变

25.某市公安机关利用 LED 灯牌，在城市主要街道发布“东躲西藏，寝食难安。早日自首，争取从宽”的标语，督促在逃人员投案自首。关于公安机关的做法，下列说法正确的是：

- A.公安机关应当以社会管理职能代替政治统治职能
- B.公安机关有权对自首人员从轻或者减轻处罚
- C.公安机关可以利用有效的宣传方式，创新工作手段
- D.公安机关可以从实际工作出发，对法律作出行政解释

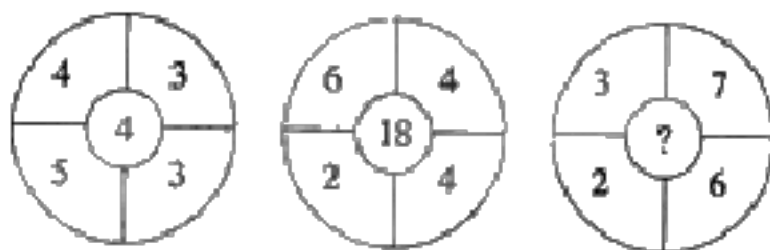
26. 根据我国《行政诉讼法》的规定，下列哪一情形可以提起行政诉讼？

- A. 甲政府对其工作人员乙的警告决定
- B. 某政府责令某企业停产治理环境的决定
- C. 政府关于某日某时对某条街禁止通行的决定
- D. 某国家机关对其内部公务员的降职决定

四、数量关系(10 题)

27. 某人以分期付款的方式买一台电视机，现有两种付款方式：(1)第一个月付 800 元，以后每个月付 200 元；(2)前一半时间每个月付 400 元，后一半时间每个月付 100 元。两种付款方式的付款总数和时间都相同，请问该电视机的价格为多少元？

- A. 2500
- B. 2750
- C. 3000
- D. 3250



28. 第 89 题

- A. 2
- B. 8
- C. 9
- D. 13

29. 第 20 题 一席话剧共分三幕。第一幕的演出时间比第三幕短 18 分钟；

以上内容仅为本文档的试下载部分，为可阅读页数的一半内容。如要下载或阅读全文，请访问：<https://d.book118.com/428134133043006031>