

绝密★启用前

济宁市微山县 2023-2024 学年七年级下学期期中数学综合测试卷

考试范围：七年级下册(人教版)；考试时间：120 分钟

题号	一	二	三	总分
得分				

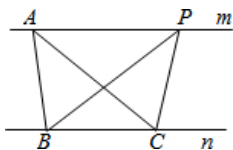
注意事项：

- 1、答题前填写好自己的姓名、班级、考号等信息
- 2、请将答案正确填写在答题卡上

评卷人	得分

一、 选择题（共 10 题）

1. （浙江省金华四中八年级（上）月考数学试卷（10 月份））如图，A、P 是直线 m 上的任意两个点，B、C 是直线 n 上的两个定点，且直线 $m \parallel n$ ；则下列说法正确的是（ ）



- A. $AB \parallel PC$
- B. $\triangle ABC$ 的面积等于 $\triangle BCP$ 的面积
- C. $AC = BP$
- D. $\triangle ABC$ 的周长等于 $\triangle BCP$ 的周长
2. 用计算器计算某个运算式，若正确的按键顺序是 $\boxed{2ndf}$ $\boxed{\sqrt[3]{\square}}$ $\boxed{4}$ $\boxed{=}$ ，则此运算式应是（ ）
- A. 4^3
- B. 3^4
- C. $\sqrt[3]{4}$
- D. $\sqrt[4]{3}$
3. （2021•江干区二模）实数 a 的相反数是 2，则 a 等于（ ）

A. -2

B. $\frac{1}{2}$

C. $-\frac{1}{2}$

D. ± 2

4. (重庆市酉阳县桃花源中学七年级(下)第一次月考数学试卷) 如果直线 a、直线 b 都和直线 c 平行, 那么直线 a 和直线 b 的位置关系是 ()

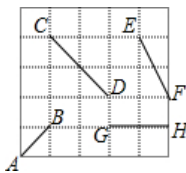
A. 相交

B. 平行

C. 相交或平行

D. 不相交

5. (山东省青岛市城阳七中八年级(上)期末数学模拟试卷) 假设如图的方格纸中, 每个小正方形的面积是 2, 则图中的四条线段中, 长度是无理数的有 () 条.



A. 1

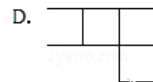
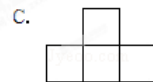
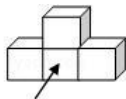
B. 2

C. 3

D. 4

6. (山东淄博淄博金山中学九年级(五四学制)上期末数学卷())

如图所示的几何体的主视图是



7. (2022 年春•涑水县校级月考)(2022 年春•涑水县校级月考) 如图, 已知在同一平面内的三条直线 a, b, c, 且 $a \perp b$, $b \perp c$, 若 $\angle 1 = 55^\circ$, 则 $\angle 2$ 的度数为 ()

以上内容仅为本文档的试下载部分，为可阅读页数的一半内容。

如要下载或阅读全文，请访问：

<https://d.book118.com/436013240005010113>