


小学一年级下册数学应用题 100 道

一. 解答题(共 100 题，共 543 分)




(1) 两人一共踢了多少个?

(2) 女孩比男孩多踢了多少个?

2. 妈妈带了 90 元，买鞋子花了 56 元，她还想买一条 33 元的裤子，钱够吗?

3. 小朋友们在植树节集体去种树，一共要种 15 棵树，已经种了 6 棵。还需要种多少棵树?



4. 啄木鸟妈妈说：“我们一共吃了 18 条虫子。”啄木鸟宝宝说：“我吃了 9 条虫子。”妈妈吃了几条虫子?

5. 松树有 26 棵，柳树比松树少 8 棵。柳树有多少棵。

6. 小华用彩纸折“幸运星”，昨天和今天一共折了 15 颗，今天折了 8 颗，昨天折了多少颗?

7. 布娃娃：12 元/个；书包：8 元/个；铅笔盒：9 元/个。

(1) 买一个布娃娃和一个书包应付多少元?

(2) 一个铅笔盒比一个布娃娃便宜多少元?

(3) 你还能提出什么问题吗？（提出两个问题，并解答）



(1) 大生有 50 元钱，可以买哪三件玩具？把这三件玩具圈起来。

(2) 一把手枪比一个洋娃娃便宜多少钱？

(3) 大明买一辆汽车，售货员找回 5 元，大明付了多少钱？

(4) 小军的钱正好买一辆汽车，你猜猜，他最多有（ ）张 10 元的。

9. 回答下面的问题。



(1) 买一个钟表和一根跳绳一共要花_____钱。

(2) 一件上衣比一个钟表贵_____元。

(3) 小明拿 10 元钱买一盒水彩笔，应找回_____钱。

(4) 你能自己提出几个数学问题并回答吗？比一比，看谁提得多。

10. 书柜里一共有 57 本书，有 9 本字典，其余的书都是连环画。连环画有多少本？

11. 停车场停了 50 辆自行车，又推来了 9 辆，一共有多少辆？

12. 小猪跳了多少下？



$$\square \circ \square = \square \text{ (下)}$$

答：小猪跳了（ ）下。

13. 池塘里有 15 只鸭子，有 9 只是白鸭子。游走了 8 只，池塘里还有多少只鸭子？

$$\square \circ \square = \square \text{ (只)}$$

答：池塘里还有（ ）只鸭子。

14. 小伟有 2 元 3 角钱，买了 1 本书用去 2 元，还剩多少钱？

15.

 录音机 80 元	 遥控车 43 元	 书 9 元
--	---	---

(1) 书比录音机便宜多少元？

答：书比录音机便宜（ ）元。

(2) 小明买遥控车找回 7 元钱，小明付了多少钱？

答：小明付了（ ）元钱。

16. 母鸡捉了 20 条虫子，小  捉到了 10 条，它们一共捉了多少条？

17. 小刚和小红去超市买学习用品，小红买了 8 支铅笔，小刚买了 20 支铅笔，他们两个一共买了多少只铅笔？

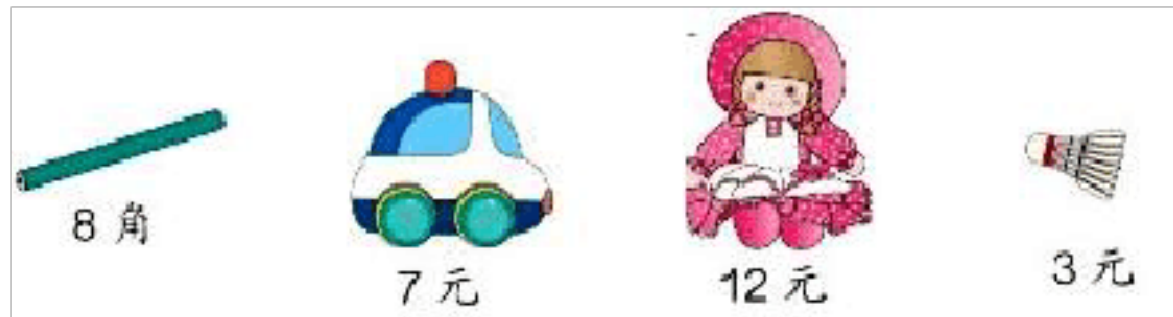
18. 公共汽车上一共有 18 人，到站后有 9 人下车，同时又有 7 人上车，现在公共汽车上有多少人？

19. 幼儿园小班有 20 辆玩具车，幼儿园中班有 30 辆玩具车，幼儿园大班有 52 辆玩具车。

(1) 幼儿园大班和小班一共有多少辆玩具车？

(2) 幼儿园小班几辆玩具车就和大班一样多？

20. 解答题。



(1) 一辆小汽车和一个羽毛球一共多少钱？

(2) 一支铅笔和一个布娃娃一共多少钱？

(3) 一辆小汽车比一支铅笔贵多少钱？

(4) 你还能提出其他数学问题并解答吗？

21. 老师留了 16 道计算题，小红还要做 7 道才能完成作业，猜一猜小红已经做了几道？

22. 一本书有 70 页，我还有 30 页没看，我看了多少页？

23. 看图回答。



2 角

12 元

5 角

2 元

(1) 买一支笔和一块橡皮一共要多少钱？

(2) 洋娃娃比哨子贵多少钱？

(3) 用 5 元买一个哨子，应找回多少钱？

24. 小明和小芳一起跳绳，小明跳了 18 下，小芳跳了 9 下，小芳再跳多少下就和小明跳的一样多？

25. 小明要写 25 个字，已经写了 8 个，还要写几个才写完？

26.



还要栽多少棵树才栽完？

$$\square \circ \square = \square \quad ()$$

27. 图书馆里有 15 本《数学故事》，借走了 8 本。还剩多少本？
28. 停车场原来有 17 辆汽车，开走了 9 辆，过一会儿，又开来了 6 辆，现在停车场里有多少辆汽车？
29. 小兰做红花和黄花一共 15 朵，红花有 8 朵，黄花有几朵？
30. 两个同学比赛跳绳，小红 1 分钟跳了 86 下，小玉比小红多跳了 9 下，小玉跳了多少下？
31. 爸爸、妈妈、王明和 62 岁的奶奶到森林公园游玩，门票价格是：成人每张 5 元，儿童半价，60 岁的上老人凭老年证免票，他们购门票共用多少钱？
32. 每人套中两个玩具，小红得了 28 分，小刚得了 30 分。



(1) 小红可能套中了哪两个玩具？

(2) 小刚可能套中了哪两个玩具？

33. 车上有 8 个老人，又上来一些，现在有 14 个老人，又上来几个老人？
34. 小天有了多少本书？



$$\square \circ \square = \square \text{ (本)}$$

35. 小红上午写了 15 个大字，下午还要写 20 个。一共要写多少个大字？
36. 小刚和小红去超市买学习用品，小红买了 18 支铅笔，小刚买了 20 支铅笔，他们两个一共买了多少支铅笔？
37. 绿化校园。



$$\underline{\quad} \quad \underline{\quad} \quad \underline{\quad} = \underline{\quad}$$

38. 一（1）班男生有 28 人，女生比男生少 8 人，女生有多少人？
39. 一盒牙膏 9 元 9 角，小红有 10 元钱，买这盒牙膏钱够用吗？如果够，还剩多少钱？如果不够，还差多少钱？

40. 山坡上有 26 只山羊，9 只绵羊。绵羊比山羊少多少只？

41. 跳绳比赛。

小华	小花	小桃
19 个	9 个	30 个

(1) 小华比小花多跳几个？

(2) 小花和小桃一共跳了多少个？

(3) 你还能提出什么问题？

问题：

算式：

42. 在回收废电池的活动中，小青带来 18 节电池，小云比小青多带 5 节，小云带来几节废电池？

43. 14 个小朋友玩老鹰捉小鸡的游戏，已经捉住了 9 只小鸡，还剩下几只？

44. 爸爸买一把椅子，付了 4 张 10 元，又付了 1 张 5 元，店员找回 6 角钱，一共付了多少钱？

45. 妈妈今年 35 岁，小明今年 10 岁，小明比妈妈小多少岁？

46. 看图列算式，填一填。



35 元




40 元

(1) 买一个足球一个篮球共多少钱？

(2) 足球比篮球贵多少钱？

(3) 用 50 块钱去买一个篮球，应该找回多少钱？

47. 解决问题。



A 套餐：18 元 B 套餐：23 元 C 套餐：20 元

(1) 买一份 C 套餐和 A 套餐需要多少元？

$$\square \bigcirc \square = \square \text{ (元)}$$

(2) 买一份 B 套餐比 C 套餐多少元？

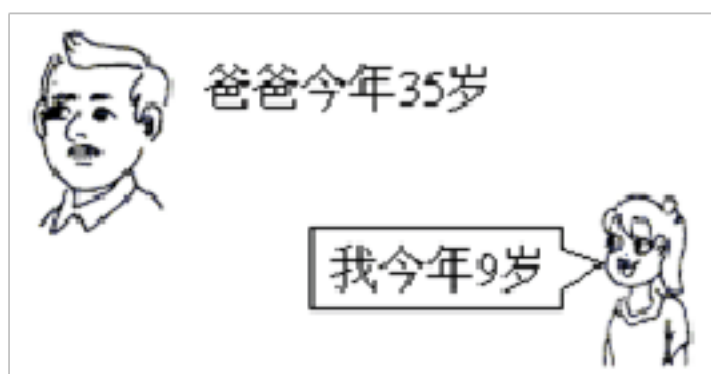
$$\square \bigcirc \square = \square \text{ (元)}$$

48. 一个加数是 45，另一个加数比它多 5，另一个加数是多少？

49. 小明家养了母鸡 15 只，公鸡 8 只，小明家的公鸡比母鸡少几只？

50. 《河流乐园》有 28 本，《海底世界》有 20 本，一(1)班有 45 名学生，把这些书分给每人一本，够吗？

51. 看图回答问题。



(1) 我和爸爸一共多少岁？

(2) 我比爸爸小多少岁？

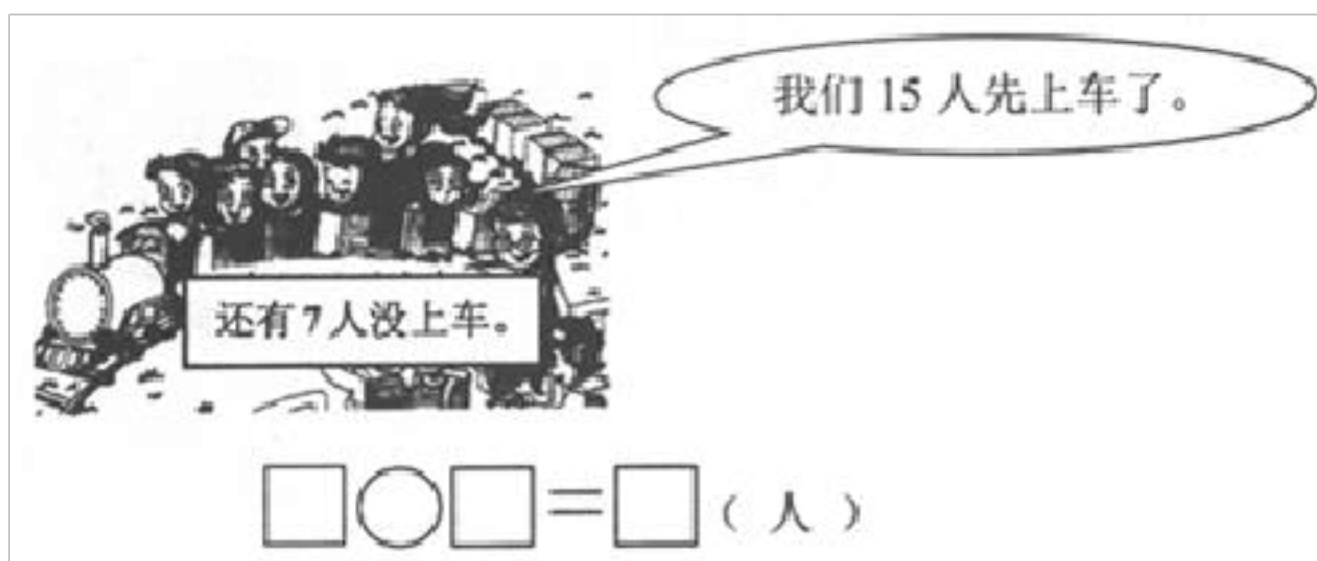
52. 一(2)班有52人，其中女生20人，男生有多少人？

53. 一盒牙膏9元9角，小红有10元钱，买这盒牙膏钱够用吗？如果够，还剩多少钱？如果不够，还差多少钱？

54. 还要种多少盆花？



55. 一共有多少人乘车？



56.



(1) 唱歌的和拉琴的一共有多少人？

以上内容仅为本文档的试下载部分，为可阅读页数的一半内容。如要下载或阅读全文，请访问：<https://d.book118.com/437000043141010023>