

小学二年级上册数学应用题 100 道

一. 解答题(共 100 题，共 567 分)

1. 丁丁从图书馆借来一本 38 页的漫画书，结果发现最想看的第 4~9 页遗失了，这本书现在还有多少页？
2. 学校图书室一共有 85 本书，其中科技书有 30 本，今天共借出 8 本书，图书室还剩多少本书？
3. 小红，小华，小丽分别有零花钱 25 元、13 元、9 元。请回答下面问题。

(1) 谁的零花钱最多？


(2) 零花钱最多的比零花钱最少的多多少元？

4. 小华做一道减法题时，不细心把被减数十位上的 9 看成了 6，把减数个位上的 5 看成了 2，得到的结果是 68。问：正确的结果是多少？
5. 红红和她的 6 位同学去游乐场玩，每个人的门票要 6 元，他们一共要准备多少元钱？
6. 东东买了两盒不同的铅笔，一盒有 7 支，另一盒有 6 支；还买了 8 盒不同的水彩笔，每盒有 3 支。

(1) 东东买了多少支铅笔？

(2) 东东买了多少支水彩笔？

7. 吃虫子。




(1) 两只啄木鸟一共吃了多少条虫子？

(2) 大啄木鸟比小啄木鸟多吃多少条虫子？

8. 一个人做一道难题要用 3 分钟，那么他做 8 道难题要用多少分钟？

9. 兴宇小学饲养小组去年养兔 7 只，今年养兔的只数是去年 3 倍，今年养兔多少只？
10. 王师傅做了 80 个面包，第一次卖了 17 个，第二次卖了 25 个，还剩下多少个？
11. 小华拍了多少下？




12. 丽丽在做一道减法题时，把减数 34 看成了 43，结果差是 52，你能算出正确的得数吗？
13. 买 4 本练习本和 1 个文具盒一共需要多少元？



14. 小明看一本故事书，第一天看 20 页，第二天看 9 页，第三天看 30 页，正好看完。
- (1) 这本故事书有多少页？
- (2) 第一天和第二天，一共看多少页？
- (3) 第二天和第三天，一共看多少页？
15. 故事书比图画书少多少本？



16. 小猫钓鱼。



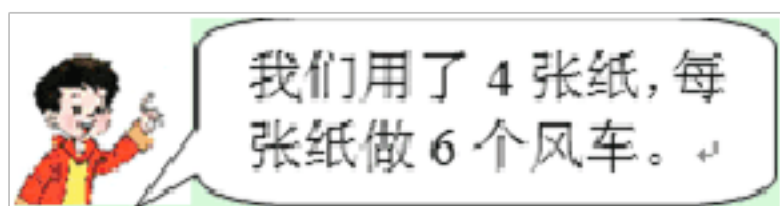
(1) 小花钓了多少条鱼？

(2) 小白钓了多少条鱼？

17. 把一根木头锯成 5 段，要锯几次？如果每锯一次用 3 分钟，一共要用多少分钟？


18. 一(1)班同学们做操，排成一支方队，从前、后、左、右数时，小红都是第 3 个，这个班一共有多少个同学做操？

19. 如图，把这些风车平均分给 8 个小朋友，每个小朋友分几个？



20. 购物。



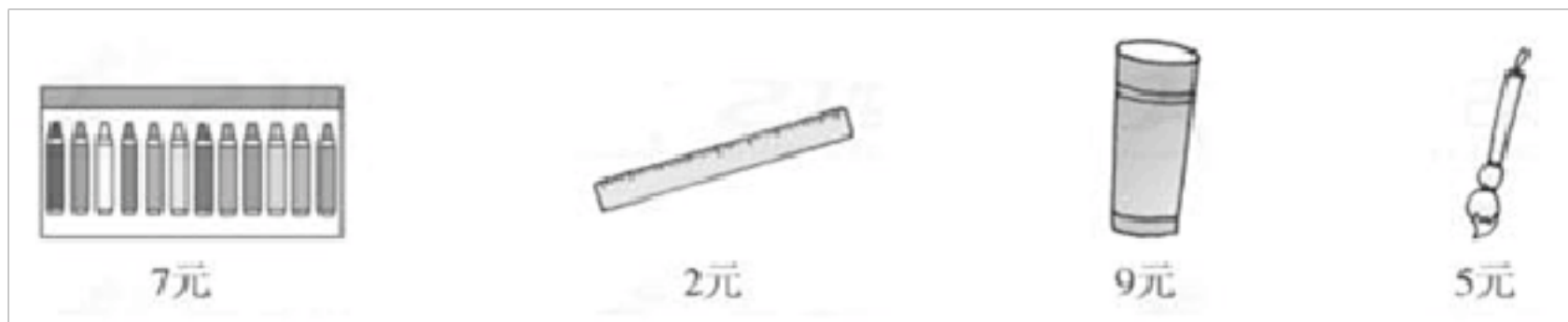
(1) 小玲想买一个  ，还差 8 元钱，小玲已经攒了多少钱？

(2)  比  贵多少钱？

(3) 你还能提出其他的数学问题吗？并解答。

21. 龟兔赛跑，一共要比 3 次，每次都是不同的乌龟和兔子各 1 只参加比赛，参赛的一共有几只动物？

22. 购物。



(1) 买 6 盒水彩笔，需要多少元？

(2) 80 元够买 9 个水杯吗？

(3) 请你再提出一个用乘法解决的数学问题，并尝试解答。

23. 6 头大象搬木头，每头搬 3 根，还有 2 根木头没有搬走。原来一共有多少根木头？


24. 小红 4 天做了 16 道口算题，照这样计算，剩下的 20 题需要几天可以做完？
25. 小林计算 48 加一位数时，一不小心加到十位上去了，结果是 88，你认为正确的结果应是多少？
26. 操场上有 15 人踢球，跳绳的比踢球的多 8 人。跳绳的人有多少人？



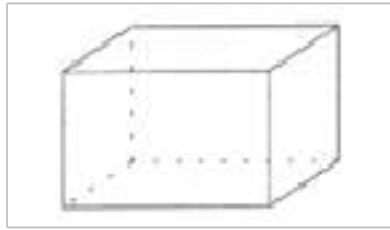
27. 小马虎这次计算 47 加一个两位数时，把这个两位数个位与十位的数字弄倒了，结果是 72。正确结果应该是多少呢？
28. 游乐场有 7 辆小赛车，每车能坐 4 人，还有 21 人在排队等候，现在一共有多少人？
29. 它们一共有多少根香蕉？




30. 明明借了一本故事书，借期是一星期。他计划每天看 6 页，能按期还书吗？



31. 下面是一个长方体盒子，数一数这个长方体的面上一共有多少个直角。



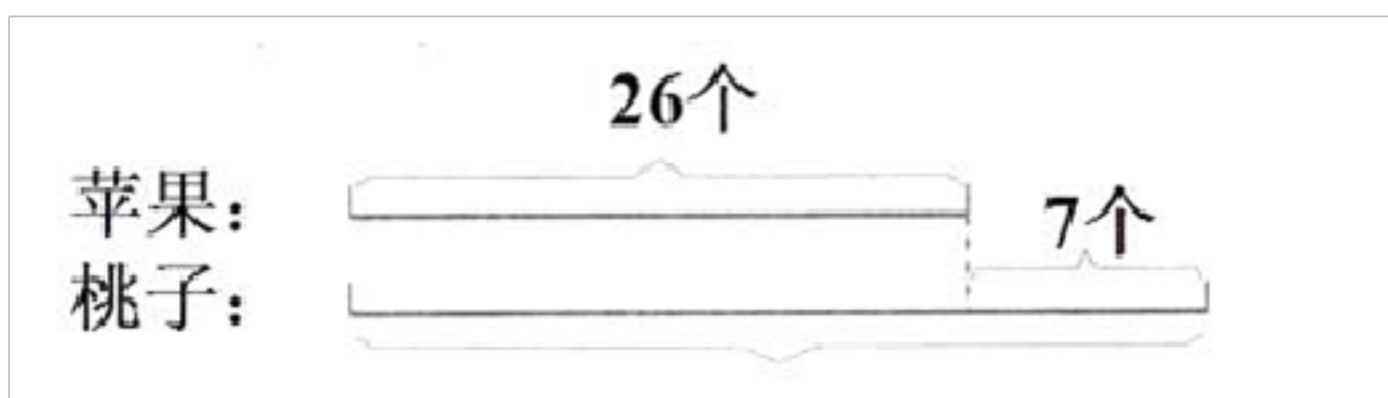
32. 书包 25 元，文具盒 16 元，用 50 元买这两样东西还能找回多少钱？
33. 爸爸买了 2 个蛋筒，每个 4 元，一共用了多少元？
34. 说一说（你的铅笔大约有多长？课桌、椅子有多宽？你的铅笔盒大约有多厚？）
35. 已经写了 20 个，再写 8 个就写完了，小英一共要写多少个字？
36. 乐乐宾馆有 9 间房，一个动物旅游团有 26 只小动物，每间房里住 3 只小动物，能住下吗？
37. 解答题。



(1) 小明折的幸运星有多少个？

(2) 小勇比小明多折了多少个？

38. 有多少个桃子？




39. 算一算。



(1) 买这三种学具共花了多少元？

(2) 拿 30 元钱买词典和文具盒，够吗？



这辆车要多少元停车费？

41. 文具店里 1 个笔袋卖 22 元，一盒水彩笔卖 16 元，小刚买了 1 个笔袋和一盒水彩笔，付给售货员 45 元钱，应找回多少元钱？

42. 植树节里，一（2）班第一小组 16 个小朋友栽了 28 棵小树，第二小组 17 个小朋友栽了 39 棵小树。两个小组一共栽了几棵小树？

43. 奶奶家的公鸡比母鸡多 26 只，母鸡有 68 只，公鸡有多少只？

44. 小胖有 20 本故事书，小丁丁有 15 本故事书，他们一共有多少本书？小胖比小丁丁多多少本书？

45. 白兔拔了 22 个萝卜，灰兔拔了 35 个萝卜，白兔比灰兔少拔了多少个萝卜？


$$\square \bigcirc \square = \square \quad (\quad)$$

46. 列式解答。

(1) 希望小学二年级成立了 2 个音乐小组，一组 4 人，一组 5 人。音乐组一共多少人？

(2) 希望小学二年级成立了 4 个美术小组，每组 5 人。美术组一共多少人？

47. 妈妈买了一盒巧克力和一个生日蛋糕，还剩 5 元钱，妈妈一共带了多少元钱？



48. 一本画册，原价 32 元，现价 21 元。一本故事书原价 19 元，现价 12 元。

- (1) 按原价买两本书一共要多少钱？
- (2) 按现价，两本书一共要多少钱？
- (3) 买两本书现价比原价便宜多少钱？

49. 学校举行运动会，赛跑的学生有 17 人，跳高的同学有 6 人，赛跑和跳高的学生一共有多少人？

50. 一双袜子 9 元，妈妈买了 9 双，付给售货员 90 元，应找回多少元？

51. 小明买了 5 块橡皮，每块 7 分钱，一共用了几分钱？

52. 今年元旦，丁丁参加了全县举行的小学生象棋比赛，比赛结束时，丁丁和参加比赛的选手一一握手，一共握手 29 次。参加象棋比赛的一共有多少人？

53. 小胖在收集奥运会明信片，他已经有 32 张，又得到了 4 张。现在小胖有几张明信片？

54. 3 个小白兔每个吃了 3 根胡萝卜，小黑兔吃了 2 根，它们一共吃了多少根胡萝卜？

55. 一瓶玉米油要 59 元，一箱八宝粥 35 元，妈妈有 100 元，买这两件物品，还剩多少钱？

56. 学校运动会，参加跑步的有 7 个，参加跳绳的人数是跑步的 5 倍。参加跳绳的有多少人？

$$\square \bigcirc \square = \square \text{ (人)}$$

57. 棋盘上黑色棋子有 37 颗，白色棋子有 30 颗，白色棋子比黑色棋子少几颗？两种棋子一共有多少颗？

58. 爸爸今年多少岁？爷爷比小明大多少岁？



59. 解答题。



- (1) 李叔叔乘坐依维克车去泰安，车票是多少钱？
- (2) 他拿 80 元钱买了些食品，找回 33 元，买食品花了多少钱？

60.

买一件  和一双 ，需要多少钱？



61. 冬季运动会上一年级参加比赛的人数如下：跳绳的有 44 人，跑步的有 85 人，跳远的有 39 人，踢毽子的有 55 人。

- (1) 跳绳和跳远的一共有多少人？
- (2) 跳远的比踢毽子的少几人？
- (3) 踢毽子的比跳绳的多几人？

62. 姐姐有 6 元钱，买一条围巾用了 4 元 3 角，买一块手帕用了 8 角，还剩多少钱？
63. 小精灵去上学，已经走了 43 米，离学校还有 26 米，小精灵每天上学要走多少米？
64. 学校原有 28 个乒乓球，又买回 4 盒，每盒 6 个，学校现有多少个乒乓球？
65. 艺术比赛。

打球	跳绳	画画
36人	25人	19人

(1) 二年级学生参加学校兴趣小组学打球、跳绳和画画的一共有多少人？

(2) 自己再提出一个问题并列式计算。

66. (1) 1 件衣服钉 5 粒纽扣，王师傅要做 9 件衣服，需要几粒纽扣？

$$\square \bigcirc \square = \square \text{ (粒)}$$

(2) 小明衣服上有 5 个扣子，小青衣服上有 6 个扣子，他们两个一共有多少粒扣子？

$$\square \bigcirc \square = \square \text{ (粒)}$$

67. 请在 1、2、3、4、6、7、8 这 7 个数中选四个数，组成两个两位数，使得它们的和是 99。

请写出算式：_____

68. 同学们在学校操场两边插红旗，每边插 32 面。一共要插多少面？

69. 学校开运动会，参加跳远的有 28 人，跳绳的有 34 人，跑步的有 22 人，参加 3 项比赛的同学一共有多少人？

70. 小明身高 1 米 55 厘米，小刚身高 1 米 26 厘米，小刚比小明矮多少厘米？

71. 买一个书包要 6 元钱，王老师买了 7 个书包，共花了几元。王老师给售货员 100 元，还应找回几元？

72. 解答题。

以上内容仅为本文档的试下载部分，为可阅读页数的一半内容。如要下载或阅读全文，请访问：<https://d.book118.com/438121016042007040>