

一年级（上）数学打卡：每日一练（1）

日期：\_\_\_月\_\_\_日 完成时间：\_\_\_分钟 成绩：\_\_\_

一、口算

$$\begin{array}{ccccc} 5+7= & 14+4= & 5-4= & 18-8= & 15+4= \\ 15-10= & 6-3= & 7+7= & 16-2= & 11+7= \\ 2+8+6= & 4+9-3= & 19-10-6= & 4+7+3= & 8+8+4= \\ 10+9-5= & 12+1-2= & 18-15-3= & 19-1-8= & 4+4-2= \end{array}$$

二、解决问题

- 1、合唱队有男生 9 人，女生比男生多 6 人，合唱队有女生多少人？
- 2、妈妈有 6 颗糖，小红的糖和妈妈的一样多，她们两人一共有多少颗糖？
- 3、6 个小朋友堆雪人，又来了 3 个男生，3 个女生，一共有多少小朋友？
- 4、淘气的一边有 6 名同学，一边有 3 名同学，一共有多少名同学？
- 5、每人一顶帽子，还差几顶帽子？



$$\square \bigcirc \square = \square \quad (\text{顶})$$

一年级（上）数学打卡：每日一练（2）

日期：\_\_\_月\_\_\_日 完成时间：\_\_\_分钟 成绩：\_\_\_\_\_

一、口算

$0 + 8 =$        $7 - 5 =$        $8 + 2 =$        $5 - 2 =$        $6 - 6 =$

$9 - 7 =$        $0 + 7 =$        $4 - 2 =$        $9 - 7 =$        $6 + 1 =$

$9 - 5 - 1 =$        $5 - 4 + 1 =$        $1 + 2 + 9 =$        $8 - 4 - 3 =$        $6 + 9 - 6 =$

$9 - 4 - 2 =$        $1 + 4 + 5 =$        $8 - 6 + 2 =$        $7 - 6 + 7 =$        $8 + 9 + 1 =$

二、解决问题

- 1、东东写了9个字，还有6个字没有写，他一共要写几个字？
- 2、小红有16朵花，送给小明3朵，小强又给了她5朵，小红现在还有朵花？
- 3、小明要写13个大字，上午写了1个，下午又写了4，他还要写几个大字？
- 4、小丁有7张奖票，小兰和他同样多，两人共有几张奖票？
- 5、篮子里原来有10个萝卜，小白兔抱走了3个，还剩下几个？



一年级（上）数学打卡：每日一练（3）

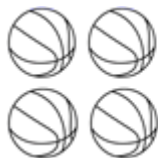
日期：\_\_\_\_月\_\_\_\_日 完成时间：\_\_\_\_分钟 成绩：\_\_\_\_\_

一、口算

|               |               |               |               |               |
|---------------|---------------|---------------|---------------|---------------|
| $9 + 8 =$     | $4 + 3 =$     | $9 - 6 =$     | $5 - 2 =$     | $7 + 7 =$     |
| $5 - 4 =$     | $5 + 3 =$     | $3 + 8 =$     | $3 - 3 =$     | $9 - 7 =$     |
| $2 + 2 + 8 =$ | $7 - 3 + 4 =$ | $9 - 4 - 1 =$ | $1 + 8 + 2 =$ | $9 - 4 - 1 =$ |
| $8 - 4 - 2 =$ | $7 - 3 - 1 =$ | $9 - 5 + 2 =$ | $9 - 6 - 1 =$ | $8 - 5 - 2 =$ |

二、解决问题

- 1、东东写了 12 个字，还有 7 个字没有写，他一共要写几个字？
- 2、小华看一本 12 页童话书，看了 10 页，还剩多少页没看？
- 3、文具盒 8 元，订书机 5 元，小明拿了 15 元，买一个文具盒和一个订书机，还剩下多少元？
- 4、妈妈煮了 15 个饺子，姐姐吃了 5 个饺子，还剩 6 个，红红吃了几个饺子？
- 5、一共有多少个球？



$$\square \bigcirc \square = \square \text{ (个)}$$

一年级（上）数学打卡：每日一练（4）

日期：\_\_\_月\_\_\_日 完成时间：\_\_\_分钟 成绩：\_\_\_\_\_

一、口算

$8 - 5 =$

$4 + 4 =$

$0 + 5 =$

$4 - 4 =$

$4 + 4 =$

$9 + 1 =$

$8 - 5 =$

$6 + 9 =$

$6 - 3 =$

$7 - 6 =$

$7 - 4 - 2 =$

$9 - 5 - 3 =$

$8 - 5 - 2 =$

$9 - 5 - 1 =$

$2 + 3 + 7 =$

$7 - 2 + 4 =$

$9 - 5 - 1 =$

$9 - 7 + 1 =$

$9 - 5 - 2 =$

$9 - 6 - 1 =$

二、解决问题

- 1、一个碗配一把勺子，小明准备了 16 个碗，5 把勺子，还差几把勺子？
- 2、有 5 只猴子，9 个桃子，每只小猴子吃一个桃子，还剩下几个桃子？
- 3、浇水的有 8 人，栽树的有 7 人，一共要栽 13 棵树，已经栽了 9 棵树，浇水的和栽树的一共有多少人？
- 4、植物兴趣小组有男生 6 人，女生 9 人。某天王老师带领这些学生去植物园参观，坐哪辆车比较合适？
- 5、一共有几个小朋友？



$\square \bigcirc \square = \square \text{ (个)}$

一年级（上）数学打卡：每日一练（6）

日期：\_\_\_月\_\_\_日 完成时间：\_\_\_分钟 成绩：\_\_\_\_\_

一、口算

$4 + 9 =$        $3 - 2 =$        $6 - 6 =$        $1 + 7 =$        $6 - 5 =$

$2 - 1 =$        $0 + 8 =$        $8 - 8 =$        $7 - 7 =$        $9 + 9 =$

$8 - 4 - 2 =$        $3 + 3 + 7 =$        $9 - 4 - 1 =$        $9 - 6 - 1 =$        $7 - 4 - 1 =$

$0 + 6 = 4 =$        $9 - 3 - 6 =$        $9 - 5 - 2 =$        $8 + 6 + 4 =$        $6 + 4 - 4 =$

二、解决问题

- 1、一班的花坛开了 8 朵花，二班的花坛里开的花跟一班同样多，两个班的花坛里一共开了多少朵花？
- 2、小红和小明每人有 10 块糖，小红给小明 5 块后，小明比小红多几块？
- 3、小白兔采了 10 个蘑菇，小灰兔采了 3 个蘑菇，小黑兔采了 5 个，一共采了多少个蘑菇？
- 4、这辆客车上原来有（    ）位乘客，途中有 5 位乘客下车，4 位乘客上车。这时车上共有多少位乘客？

车上原来有9位乘客。



$\square \bigcirc \square \bigcirc \square = \square \text{ (位)}$

一年级（上）数学打卡：每日一练（4）

日期：\_\_\_月\_\_\_日 完成时间：\_\_\_分钟 成绩：\_\_\_\_\_

一、口算

$3 + 7 =$

$9 - 7 =$

$7 + 1 =$

$7 + 6 =$

$8 - 1 =$

$7 - 1 =$

$4 + 5 =$

$8 - 5 =$

$9 + 4 =$

$8 + 9 =$

$9 - 3 - 3 =$

$9 - 5 - 1 =$

$9 - 7 - 1 =$

$3 - 1 + 8 =$

$8 - 4 - 3 =$

$7 + 4 + 3 =$

$6 - 5 + 4 =$

$8 - 4 - 3 =$

$9 - 4 - 1 =$

$7 - 2 - 5 =$

二、解决问题

- 1、爸爸有 6 个桔子，他分给姐姐 3，还有几个？
- 2、小红今天从第 10 页开始读，读了 7 页，明天该读几页？
- 3、小明有 12 个气球，送给小红 6 个，现在还剩下 2 个，送给小兰多少个气球？
- 4、小红做了 7 朵花，小丽做了 8 朵花，幼儿园中班有 16 个小朋友，送给每个人一朵花，够吗？
- 5、一共有多少颗草莓？



$\square \bigcirc \square = \square \text{ (颗)}$

一年级（上）数学打卡：每日一练（7）

日期：\_\_\_月\_\_\_日 完成时间：\_\_\_分钟 成绩：\_\_\_\_\_

一、口算

$8 - 7 =$        $8 + 2 =$        $8 - 2 =$        $2 + 2 =$        $1 + 5 =$

$9 - 9 =$        $9 - 8 =$        $1 + 1 =$        $9 - 8 =$        $5 + 7 =$

$8 - 4 - 1 =$        $7 - 7 + 1 =$        $9 - 4 - 2 =$        $7 + 3 + 4 =$        $6 + 3 - 2 =$

$9 - 8 + 1 =$        $8 + 8 - 0 =$        $5 - 5 + 5 =$        $9 + 8 - 1 =$        $7 + 1 + 3 =$

二、解决问题

- 1、有一本故事书，小明上午读了 8 页，下午读了 5 页，明天从哪页读起？
- 2、小红和小明的葡萄同样多，两人都吃了一些，最后小明剩下 2 颗，小红剩下 5 颗，谁吃的多？多几颗？
- 3、小华得到了 18 朵红花，小亮得到了 10 朵，小兰得到了 4 朵，一共得到了几朵红花？
- 4、一共有 10 小球，箱子里还有几个？



○  ○  =  (个)

一年级（上）数学打卡：每日一练（8）

日期：\_\_\_月\_\_\_日 完成时间：\_\_\_分钟 成绩：\_\_\_\_\_

一、口算

$6 - 4 =$

$3 + 4 =$

$7 + 9 =$

$9 - 4 =$

$9 - 8 =$

$7 + 6 =$

$9 - 9 =$

$9 + 6 =$

$0 + 6 =$

$8 - 8 =$

$9 + 4 - 1 =$

$9 - 7 - 2 =$

$9 - 4 - 1 =$

$6 + 5 - 1 =$

$9 - 4 - 2 =$

$9 - 1 + 2 =$

$8 - 4 - 2 =$

$2 + 8 + 3 =$

$7 - 3 + 4 =$

$8 - 4 - 2 =$

二、解决问题

- 1、无论从前面数还是从后面数，小明都排第8，这一队一共有多少人？
- 2、停车场开走了9辆车，还剩下3辆车，停车场原来有多少辆车？
- 3、花上有18只蝴蝶，先飞走了8只，又飞走了10只，第二次比第一次多飞走多少只？
- 4、原来草地上有7只小兔，1只跑去追蝴蝶，还剩下几只？



$\square \bigcirc \square = \square \text{ (只)}$



一年级（上）数学打卡：每日一练（9）

日期：\_\_\_月\_\_\_日 完成时间：\_\_\_分钟 成绩：\_\_\_\_\_

一、口算

$5 + 6 =$        $9 - 9 =$        $9 - 4 =$        $9 + 4 =$        $6 - 2 =$

$2 + 3 =$        $7 - 7 =$        $8 - 8 =$        $16 - 5 =$        $9 + 7 =$


$9 - 7 + 8 =$        $7 + 6 + 3 =$        $9 - 6 + 3 =$        $8 - 4 - 1 =$        $6 + 1 + 4 =$

$7 - 7 =$        $9 - 5 - 2 =$        $1 + 3 + 3 =$        $9 - 9 + 2 =$        $8 - 7 + 1 =$

二、解决问题

- 1、同学们在马路两边各插了 8 面小旗，一共插了多少面小旗？
- 2、我家楼上有 5 层，楼下有 5 层。这幢楼一共有多少层？
- 3、花上有 18 只蝴蝶，先飞走了 8 只，又飞走了 10 只，两次一共飞走了多少只蝴蝶？
- 4、现在车上有多少人？

车上原来有 6 人。



$\square \bigcirc \square \bigcirc \square = \square$  (人)

一年级（上）数学打卡：每日一练（10）

日期：\_\_\_月\_\_\_日 完成时间：\_\_\_分钟 成绩：\_\_\_\_\_

一、口算

|          |           |           |          |          |
|----------|-----------|-----------|----------|----------|
| $18+2=$  | $12-2=$   | $11+6=$   | $10-2=$  | $9+2=$   |
| $3-2=$   | $18-3=$   | $10+4=$   | $17-3=$  | $9-3=$   |
| $8-3+5=$ | $15+1-4=$ | $2+9+1=$  | $8+5+3=$ | $9-4+3=$ |
| $4+2+5=$ | $8-4+7=$  | $12+2-9=$ | $4-4+6=$ | $5+2+5=$ |

二、解决问题

1、同学们为班级图书角捐书，玲玲捐了9本，笑笑捐了18本，一共捐了多少本？

2、小军跟爸爸到外地旅游，爸爸买一张火车票是6元，小军买半票，他们来回一共要付多少元？

3、同学们为班级图书角捐书，玲玲捐了9本，静静捐了8本，笑笑捐了18本，静静再捐几本，就和笑笑捐的同样多？

4、一共有10瓶饮料。



The illustration shows a box on the left with the text "? 瓶" ( ? bottles ) inside. To the right of the box are seven cans of soda, each with a red and white logo on a blue background. Below the cans is a mathematical equation template:  $\square \bigcirc \square \bigcirc \square = \square$  (瓶), where the circles represent operators and the squares represent numbers.

一年级（上）数学打卡：每日一练（11）

日期：\_\_\_月\_\_\_日 完成时间：\_\_\_分钟 成绩：\_\_\_\_\_

一、口算

19-5=      15+2=      10-5=      7-5=      0+5=

9+9=      19-6=      0+9=      10-6=      9-6=

4+1+15=    16-6+5=    18-7-1=    9+6+1=    8-7+5=

3+7-5=      2+6-3=      12-4-4=      8+5-3=      9-4+6=

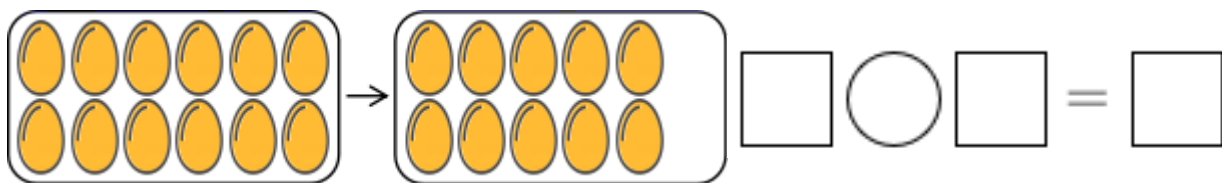
二、解决问题

1、7盆花排成一排，蝴蝶花前面有1盆，蝴蝶花后面有多少盆？

2、从车场开走4辆汽车，还剩8辆，车场原来有多少汽车？

3、一辆公共汽车上有8名乘客，到站后有3人下车，2人上车，你知道这时车上还有多少乘客吗？

4、一盒鸡蛋有□个，吃了□个，还剩□个。



(个)

一年级（上）数学打卡：每日一练（12）

日期：\_\_\_月\_\_\_日 完成时间：\_\_\_分钟 成绩：\_\_\_\_\_

一、口算

$12+3=$        $0+8=$        $7-5=$        $8-4-3=$        $8+2=$

$5-2=$        $9-4=$        $1+4=$        $8-6=$        $7-6=$

$8+9-2=$        $9-7+8=$        $6+9-6=$        $10+7-4=$        $14-2-2=$


$9-5-1=$        $6+1+8=$        $6-4+2=$        $5-4+1=$        $1+2+8=$

二、解决问题

1、小梅种了 10 盆红花，又种了同样多的黄花，两种花共多少盆？

2、小朋友栽树，已经栽好 9 棵，还有 5 棵没有栽，要栽多少棵？

3、我前天看书看了 6 页，昨天看了 6 页，明天从第几页开始看？

4、一共有 9 只 .



    =  (只)

一年级（上）数学打卡：每日一练（13）

日期：\_\_\_月\_\_\_日 完成时间：\_\_\_分钟 成绩：\_\_\_\_\_

一、口算

$9 - 7 =$        $7 - 3 =$        $4 + 3 =$        $9 - 6 =$        $9 - 5 =$

$7 + 7 =$        $5 - 4 =$        $9 - 6 =$        $3 + 8 =$        $3 - 3 =$

$9 - 4 - 1 =$        $2 + 7 - 4 =$        $17 - 3 - 6 =$        $9 - 4 - 1 =$        $0 + 7 - 3 =$

$1 + 9 - 4 =$        $10 + 7 - 4 =$        $10 - 9 + 8 =$        $18 - 8 - 2 =$        $12 - 4 - 7 =$

二、解决问题

1、小娟有 10 张画片，小军有 5 张画片，小军和小娟一共有多少张？

2、同学们在马路两边各插了 7 面小旗，一共插了多少面？

3、小兰有 5 张画片，小娟有 4 张画片，小军有 5 张画片，他们一共有多少张？

4、小松鼠采了 7 个松果，还要采 2 个。小松鼠一共采了多少个？

我还要采2个。

$\square \bigcirc \square = \square$  (个)

以上内容仅为本文档的试下载部分，为可阅读页数的一半内容。如要下载或阅读全文，请访问：<https://d.book118.com/445101201014011323>