

## 小学教育资料



姓名：\_\_\_\_\_

班级：\_\_\_\_\_

## 北师大版一年级数学下册期末模拟测试卷（一）

姓名\_\_\_\_\_

## 一、我会填。（15分）

1、75的十位数字是（ ），表示（ ）个（ ），个位数字是（ ），表示（ ）个（ ）。

2、一个两位数的个位上的数字是最大的一位数，十位上的数字是4，这个数是（ ）。

3、最大的两位数是（ ），最小的三位数是（ ）。

4、45中有（ ）个十，（ ）个一。

5、（ ）+43=67      57-（ ）=35      23+（ ）=100      71-（ ）=34

## 二、列竖式，算一算。（24分）

$25+28=$

$100-18=$

$19+27=$

$83-7=$

$42+24=$

$68-19=$

$52-25=$

$67-24=$

$27+73-52=$

$42-13-15=$

## 三、在□里填上“&lt;、&gt;、=”（10分）

$24+65 \square 45+46$

$37+27 \square 87-24$

$65-36 \square 65-37$

$41+28 \square 41+29$

$29+38 \square 98-31$

## 四、森林医生。（6分）

$$\begin{array}{r} 35 \\ +4 \\ \hline \end{array}$$

75

( )

$$\begin{array}{r} 43 \\ -17 \\ \hline \end{array}$$

34

( )

$$\begin{array}{r} 52 \\ +28 \\ \hline \end{array}$$

70

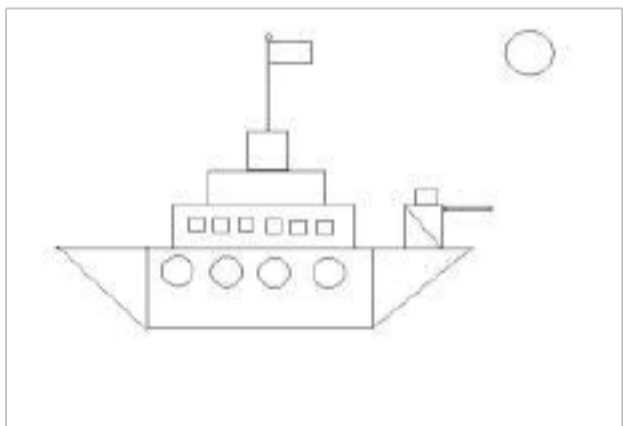
( )

五、小明有56张卡片，小华说：“我的卡片比小明的多得多。”小兰说：“我的卡片和小明的差不多。”小峰说：“我的卡片比小明的少一些。”下面的卡片都是谁的，在方格里填上人的名字。(6分)

|    |    |    |    |
|----|----|----|----|
| 小明 |    |    |    |
| 56 | 58 | 50 | 98 |

六、下边的照片分别是谁拍的？(填号码)。(4分)

七、认一认，数一数。(8分)



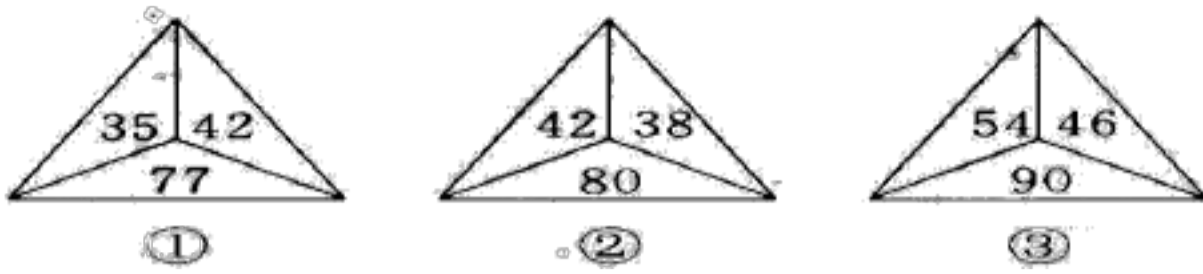
三角有 ( ) 个

□有 ( ) 个

○有 ( ) 个

长方形有 ( ) 个

八、根据图形中所填的数的规律，找出与众不同的一个图形，并把它圈起来。(2分)



九、解决问题（25分）

1、上衣 56 元，比裙子贵 14 元， 裙子多少元？（5分）

2、如果要买一件上衣和一条裤子，最少要用多少元钱？（5分）

|      |      |      |      |      |
|------|------|------|------|------|
| A牌上衣 | B牌上衣 | A牌裤子 | B牌裤子 | C牌裤子 |
| 45元  | 36元  | 32元  | 24元  | 34元  |

3、小松鼠吃了多少个松果？（5分）



算式：

\_\_\_\_\_

答：小松鼠吃了（      ）个松果。

4、参加体育锻炼。

|     |     |     |
|-----|-----|-----|
|     |     |     |
| 28人 | 11人 | 59人 |

①参加游泳、跳高和滑冰的一共有多少人？（5分）

\_\_\_\_\_

答：参加游泳、跳高和滑冰的一共有（ ）人。

②你还能提出什么数学问题？请提一个，并算一算。（5分）

\_\_\_\_\_

\_\_\_\_\_

答：

## 北师大版小学一年级数学下册期末模拟测试卷（二）

一年级\_\_\_\_\_班 姓名\_\_\_\_\_

一、填空：（19分）

1、100 里面有（ ）个十，有（ ）个一。

2、87、89、91、（ ）、（ ）。

3、☹️ ♥️ ☹️ ♥️ ♥️ ☹️ （ ）、（ ）、（ ）。

4、一个数个位上是4，十位上是8，这个数是（ ）。

5、在（ ）中填上>、<或=： $86-40$ （ ） $86-39$       $87+10$ （ ） $10+87$       $56-28$ （ ） $17+14$

6、34、37、44 这三个数中，离40最近的是（ ）。


7、 $36+（ ）=50$       $76-（ ）=43$

8、用3、5、6这三个数字可以组成（ ）个两位数，最大的是（ ），最小的是（ ）

9、49后面连续的两个数是（ ）、（ ）。

二、判断，对的画√，错的画×：（5分）

①最大的两位数与最小的两位数相差90。     （ ）

②  中有6个三角形。     （ ）

③89的相邻数是8和9。     （ ）

④正方形对折一次可以折成长方形，也可以折成三角形。     （ ）

⑤ 被减数是 56，减数是 29，差是 26。 ( )

三、计算：

1、直接写得数：(8分)

20+16=                  33+12=                  59-0=                  80-20=

52-32=                  35-5=                  100-15=                  0+57=

2、用竖式计算：(24分)

85-58=                  58+37=                  92-44=                  56+22=

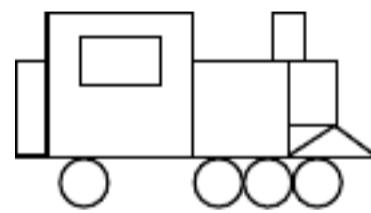
37+63=                  39+51=                  66-48=                  100-35=

四、按规律填数：(4分)

|    |    |    |
|----|----|----|
| 21 |    | 23 |
|    | 32 |    |
| 41 |    | 43 |

|    |    |    |
|----|----|----|
| 15 | 16 |    |
| 25 |    | 27 |
|    | 36 |    |

五、数图形：4分



长方形有 ( ) 个，正方形有 ( ) 个  
圆有 ( ) 个，三角形有 ( )。

六、在笑笑看到的图下面画√：(4分)



七、我会用：(28分)

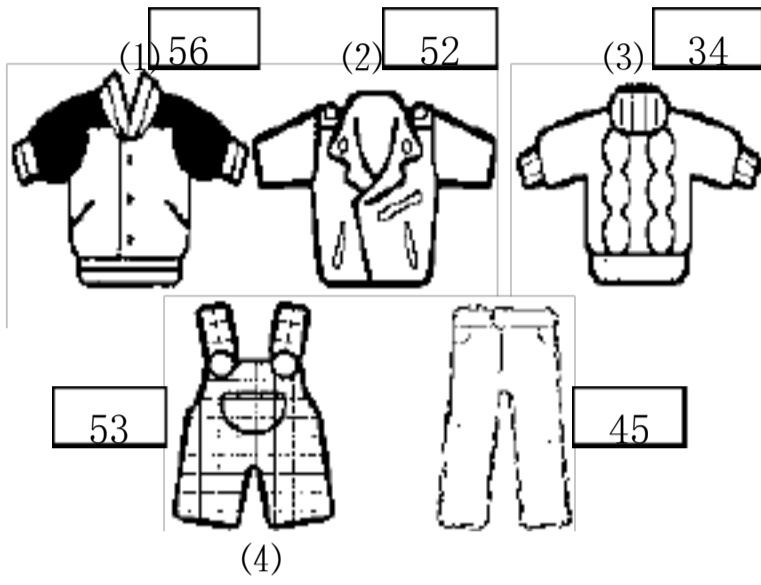
1、爷爷有 50 元，他买了一副眼镜用去 25 元，买了一个杯子用去 9 元，一共用去多少元？ 5分

列式计算：( )

答：用去（        ）元。

2、买衣服。5分

妈妈有 100 元钱，要买一套衣服，怎么买呢？应付多少元？



3、



① 36 元



②45 元



③54 元

(1) ①号奶和②号奶一共多少钱？4分

(2) ③号奶比①号奶贵多少钱？4分

(3) 再提一个数学问题，并解答。6分

问题：

列式：

4、少年宫组织两队同学参加夏令营，第一队有 43 名学生，第二队有 47 名学生，每队有 3 位老师，每辆车可坐 50 人。需要几辆车？还有几个空座位？8分



## 北师大版小学一年级数学下册期末模拟测试卷（三） 姓名\_\_\_\_\_

一、“对号入座”认真填。（26分，每空1分）

1. 80的前面一个数是（ ），后面一个数是（ ）。比80多10的数是（ ）。
2. 最大的一位数是（ ），最小的两位数是（ ），它们相差（ ）。
3. 10个十是（ ），5个一和3个十合起来是（ ）。
4. 在20、45、55和85中，（ ）比50少一些，（ ）比50少得多，（ ）比50多一些，（ ）比50多得

多”。

5. 星期天，妈妈与我一起摆小棒。我知道三根相同的小棒可以摆一个（ ）形，四根相同的小棒可以摆一个（ ）形。

6. 67 的十位数字表示有（ ）个（ ），个位数字表示有（ ）个（ ）。

7. 写出十位数字比个位数字多 1 的两位数：（ ）（ ）。写出十位数字和个位数字相同的两位数（ ）（ ）。

8. 如果一个○表示一个 1，一个□表示一个 10，那么画□□□○○○○可以表示（ ）。

9. 一捆铅笔有 10 支，3 捆再加上 6 支一共是（ ）支。

10. 照样子填空：○○□○○□□○○（ ）（ ）（ ）。28、31、34、（ ）、40

二、判断，正确的在（ ）里划“√”错误的划“×”（5分）

1. 东东说：“我今年 8 岁，妈妈 34 岁，爸爸 36 岁，我们一家人合起来共有 78 岁”。（ ）

2. 50 名同学站成一排，小明的前面有 34 人，他后面有 16 人。（ ）

3. 小玉说：“我们班有学生 32 人，女同学 15 人，男同学和女同学的人数一样多”。（ ）

4. 100 里有 10 个十，有 100 个 1。（ ）

5. 8 个十和 80 个一同样多。（ ）

三、在（ ）里填上“<、>、=”（10分）

$35+39 \bigcirc 23+50$      $59-23 \bigcirc 13+20$      $89-28 \bigcirc 35+25$      $45-13 \bigcirc 45-15$      $56+29 \bigcirc 49+36$

四、我会算：

1. 直接写出得数：（5分）

$30+45=$        $68-18=$        $18-9=$        $100-0=$        $55-44=$

$90-30=$        $20-16=$        $100-9=$        $35+20=$        $50-2=$

2. 列竖式计算：（22分）

$56+35=$        $100-54=$        $84-78=$        $35-17=$        $55+43=$

---

 $58-19=$

$25-19=$

$67-34+26=$

$77+23-46=$

五、画一画。6分

1、在下图中画一条线，把它变成一个长方形和一个正方形。



2、在下图中画一条线，把它变成两个三角形。



六、生活中的数学。(26分)

1、小明有连环画 74 本，比故事书多 19 本，故事书有多少本？5分

2、停车场开走了 34 辆车后，还有 28 辆，停车场原来有多少辆车？5分

3、小红妈妈拿 100 元去买衣服，上衣的价格是 59 元，裤子的价格是 38 元，应找回多少元？5分

---

4、学校乒乓球队有 18 人，足球队有 37 人，篮球队有 32 人。

(1)乒乓球队和足球队一共有多少人?5 分

(2)请你再提出一个问题，并解答。(6分)

北师大版小学一年级下册数学期末考试试卷 4 (附答案)

一、我会填。(24 分)

1、

|  |    |  |    |  |  |
|--|----|--|----|--|--|
|  | 26 |  | 28 |  |  |
|--|----|--|----|--|--|

|  |    |    |  |  |
|--|----|----|--|--|
|  | 50 | 60 |  |  |
|--|----|----|--|--|

2、一个两位数的个位上的数是 3，十位上的数是 5，这个数是 ( )。

---

3、比大小。

$32 \bigcirc 28$

$69 \bigcirc 71$

$1\text{m} \bigcirc 120\text{cm}$

$35\text{cm} \bigcirc 3\text{m}$

4、6元 = ( ) 角

40角 = ( ) 元

35角 = ( ) 元 ( ) 角

120cm = ( ) m ( ) cm

5、手掌宽约 8 ( )；

楼房高约 20 ( )；

铅笔长约 21 ( )。

二、算一算。(10分)

$25+20 =$

$40-18 =$

$9+27 =$

$83-7 =$

$42+24 =$

$68+19 =$

$52-25+36 =$

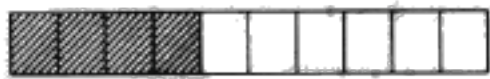
$27+27-9 =$

$20+70-52 =$

$42-13-15 =$

三、下面是 3 个小朋友投篮情况统计图。(12分)

小明 

小兰 

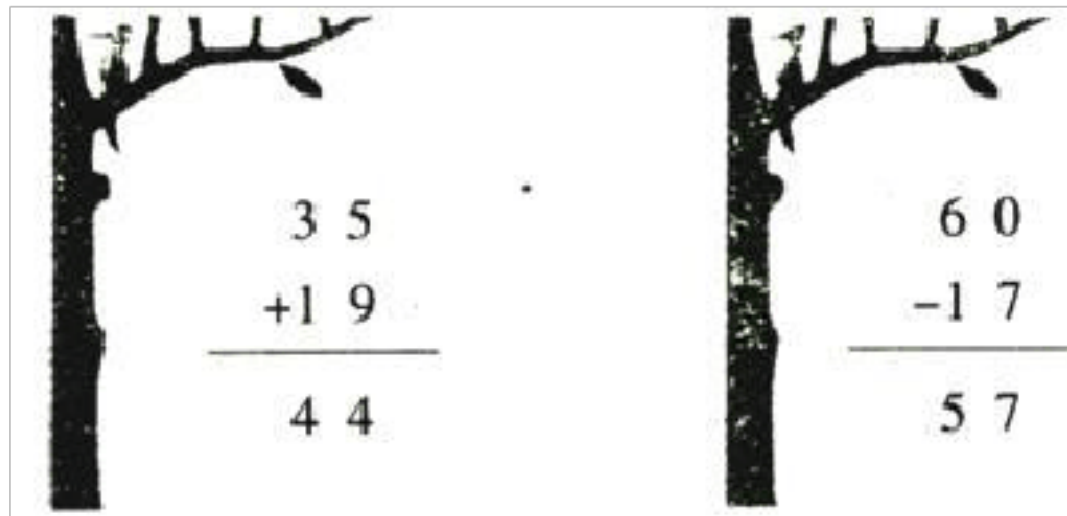
小飞 

1、从统计图中可以知道，他们一共投进了（        ）个球。

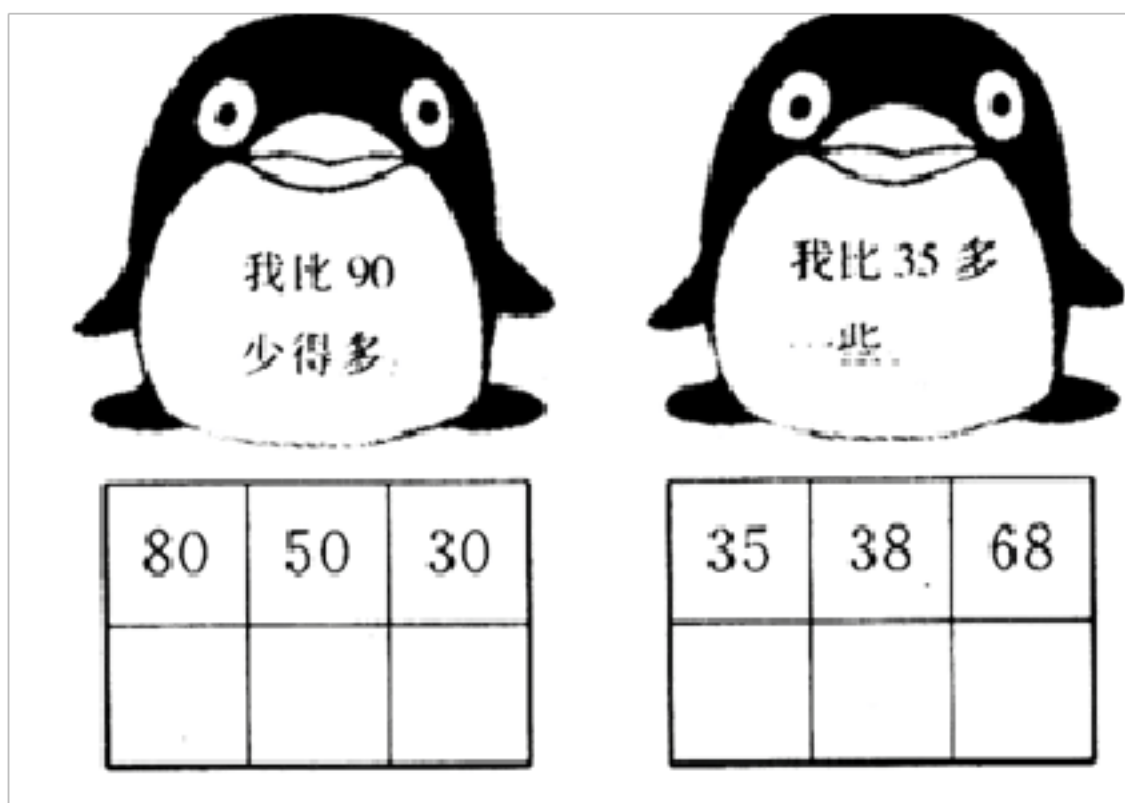
2、（        ）投进的次数最多，（        ）投进的次数最少。

3、如果他们每人再投一次，能投进球的很可能是（        ）。

四、森林医生。（改错）（4分）



五、它们可能是多少？画“√”。（6分）



以上内容仅为本文档的试下载部分，为可阅读页数的一半内容。如要下载或阅读全文，请访问：<https://d.book118.com/447164165135006164>