

2010-2023 历年河南省南阳一中高三上期第三次周考政治试卷（带解析）

第 1 卷

一. 参考题库(共 25 题)

1.某绒业公司近年来着力改善产品结构，由上游的羊绒、绒条向下游的绒线、羊绒服饰延

伸，并加大海外市场扩展力度，目前公司已在劳动力成本较低的越南、柬埔寨等地设立子公司，生产销售自己品牌的羊绒及纺织品成衣，公司业绩持续增长。材

料说明（ ）

①企业转型升级可以赢得发展新优势 ②出口是经济增长的第一动力

③创新经营思路，积极“走出去”是企业成功的重要条件

④扩大国际技术交流能有效地提升企业的核心竞争力

- A. ①③
- B. ①④
- C. ②③
- D. ②④

2.

《中共中央关于全面深化改革若干重大问题的决定》提出：推进家庭农场、集体经营、合作经营、企业经营等共同发展的农业经营方式创新，稳定农村土地承包关系，赋予农民对承包地占有、使用、收益、流转及承包经营权抵押、担保权能。这将有利于（ ）

- ①解决分配不公，实现社会和谐 ②发展农村经济，增加农民收入
③优化资源配置，促进农业发展 ④转变经营方式，完善所有制结构
- A. ①③
B. ①④
C. ②③
D. ②④

3.2014年1月13日，人民币兑美元中间价大幅上升至6.0950，创下历史新高。

某制鞋企业的董事长刘某某表示：人民币升值以及工人工资的大幅上涨，让自己企业出口生意越来越难做了。如果人民币再涨，我也只能把厂搬到越南去。由此可见（ ）

- ①汇率变动影响企业的国际竞争力 ②企业的经营发展受劳动力成本影响
③越南的投资环境比中国完善优越 ④我国企业实施“走出去”战略取得成效
- A. ①③
B. ①②
C. ③④
D. ②④

4.下表是某市2013年主要经济指标变化情况。从中可以得出的正确结论有（ ）

项目

地区生产总值

财政收入

城镇居民人均可支配收入

农村居民人均现金收入

消费者价格指数 (CPI)

增幅 (%)

7.6

8.2

9.1

10.5

3.3

①该市应大幅提高财政收入在地区生产总值中所占的比重

②该市城镇居民人均可支配收入低于农村居民人均现金收入

③2013年该市城乡收入差距呈现缩小的良好态势

④2013年该市城乡居民实际购买力总体有所增强

A. ①② B. ②③ C. ①④ D. ③④

5.作为全球储蓄率位居前列的国家之一，中国的储蓄率超过50%，这一直被普遍认为是导致国内消费动力不足的原因之一。据央行最新统计显示，截至2013年6月末我国人民币存款余额达100.91万亿元，历史上首次突破百万亿元大关，人民币存款五年就翻了一番。对此经济现象认识正确的是 ()

A. 我国居民的消费能力将大幅提升

B. 有利于我国经济的健康快速发展

C. 要关注“通胀”风险及金融和信用体系的风险

D. 导致储蓄增长的原因是我国储蓄机构增加

6.“机器换人”是企业通过设备更新和管理方式改造，普及自动化生产工艺，替代传统简单劳动，提高生产信息化水平，从而实现从传统制造模式向现代制造模式转变的过程。“机器换人”的发展有利于 ()

①彻底解决企业经济效益偏低的问题 ②促进我国制造业升级和产业结构调整

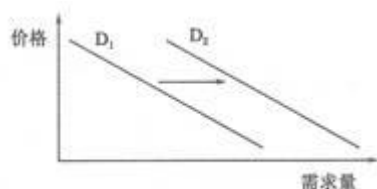
③帮助企业解决各种自身能力的局限 ④解决我国目前人口红利逐渐消退的矛盾

盾

A. ①②

- B. ①④
 C. ②③
 D. ②④

7.在不考虑其他因素的情况下，下列选项中与右图需求量变化相吻合的是 ()



- A. 汽油价格上调后，新能源汽车需求量的变化
 B. 政府取消汽车购置税优惠后，汽车需求量的变化
 C. 人民币汇率下降后，进口汽车需求量的变化
 D. 政府优先发展公共交通后，汽车需求量的变化

8.2014年4月5日，广东东莞最大鞋厂——裕元鞋厂几千名员工因质疑厂方以临时工标准为工作十多年的员工购买社保，与员工签订无效劳动合同等欺瞒行为进行大规模罢工。中国的企业雇主正在面临一个令人不安的现实：员工越来越清楚地了解自己的权利，会向管理层发难来维护自己的权益，并且员工的某些要求超出了法律所规定的要求。上述材料给我们带来的启示是

- A. 党和政府应从人民的根本利益出发，实施积极的就业政策
 B. 我国劳动者在增强维权意识的同时也应提高法律意识
 C. 企业应自觉维护员工的合法权益，把社会效益放在首位
 D. 企业应妥善解决与员工的纠纷，健全社保体系

9.2014年一季度我国吸收外资展现如下特点：服务业实际使用外资保持增长，实际使用外资金额 173.92

亿美元；亚洲主要国家／地区对华投资总体保持稳定增长态势，东盟对华实际投入外资金额 19.66 亿美元；中西部地区实际使用外资增长较快，占全国比重提高，为 20.5%。材料中我国吸收外资的特点表明 ()

- ①我国更加注重“引进来”的质量和水平
- ②我国更加注重区域协调发展，中西部已成为外资利用的主阵地
- ③我国顺应经济全球化的趋势，主要依赖外资发展经济
- ④我国积极抓住经济全球化的有利影响

- A. ①③
- B. ①②
- C. ②④
- D. ①④

10.2014 年 3 月 18 日，中国和新西兰两国总理共同宣布人民币与新西兰元在银行间外汇市场直接进行交易，并就深化双边政治、经济、人文等领域达成诸多共识。下列符合材料的说法有

- ①两国有共同的国家利益，促进双边经贸金融合作和经济发展
- ②有利于降低两国货币汇兑成本
- ③人民币与美元、欧元、英镑和日元已经成为重要的世界货币
- ④有利于中国与新西兰政治走向结盟

- A. ①③
- B. ②③
- C. ①②
- D. ②④

11. (16 分) 材料一：下表是某市传统产业与新兴产业发展状况对比

	占企业比重	产值增速	利润增速	能耗增速
金属加工	25%	40%	10%	60%
造纸业	20%	25%	12.5%	70%
新能源	5%	80%	81%	7%
电子信息	8%	98%	90%	9%

材料二：该市根据当地实际，积极响应十八大号召，在大力发展新兴产业的同时鼓励支持传统企业加快技术改造和创新，发展循环经济，对高能耗、高污染行业实行强制性的整体退出；还根据本地实际大力发展文化产业并投入巨资恢复植被、修复生态，建设森林公园，加强生态文明建设，走出了一条资源能源节约和生态环境保护与经济稳步增长的科学发展道路。

材料三：新能源汽车的发展，决不能绕过普通消费者这个庞大的消费群体，我国将加大从消费方面推动新能源汽车发展，倡导“绿车”消费，激励购买新能源汽车，积极培育新的消费热点，带动并形成新能源汽车产业的发展，发挥消费对产业发展和经济增长的重要带动作用，相信新能源汽车的春天将不会太远。

(1) 指出材料一中该市大力发展新兴产业的原因。(2分)

(2) 结合材料一、二，运用《经济生活》知识分析该市是如何实现资源能源节约和生态环境保护与经济稳步增长的。(8分)

(3) 结合材料三，运用生产与消费的关系原理，说明倡导“绿车”消费对汽车产业的影响。(6分)

12. 财政部在 2014 年中央财政预算中明确指出，从 2014 年起，中央企业国有资本收益收取比例在现有基础上提高 5 个百分点。提高这一比例，能够 ()

- ①提高国家从投入资本中获得的收益 ②使财政收入与国民收入保持同比增长
③增加财政收入，充分发挥财政的作用 ④增加国家税收，充分发挥税收的作用

- A. ①②
- B. ①③
- C. ②④
- D. ③④

13.2013 年我国生产某出口商品 M 的价格为 260 元人民币，人民币汇率中间价为 1 美元兑 6.5 元人民币。如果 2014 年底，我国生产商品 M 的社会必要劳动时间缩短一半，人民币兑美元贬值 3%，在其他条件不变的情况下，预计 2014 年底商品 M 在美国市场上的价格为 ()

- A. 41.2 美元
- B. 19.4 美元
- C. 20.6 美元
- D. 38.8 美元

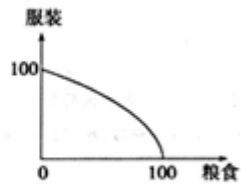
14.2013 年 10 月 25 日国务院决定放宽公司注册资本登记条件，除法律、法规另有规定外，取消有限责任公司最低注册资本 3 万元、一人有限责任公司最低注册资本 10 万元、股份有限公司最低注册资本 500 万元的限制。这意味着 ()

- A. 创业门槛降低，更利于自主创业
- B. 企业的竞争能力有所提高
- C. 国家为市场经济发展提供保障
- D. 政府进一步创新监管方式

15.理解经济全球化要懂得比较优势理论，下面我们来共同探究。假设甲国的生产数据及其曲线模型如图一、二所示，市场开放之后，乙国参与经济合作，作为农业生产大国的乙国，粮食生产能力强于服装生产。两国合作后，新的生产曲线模型最有可能是 ()

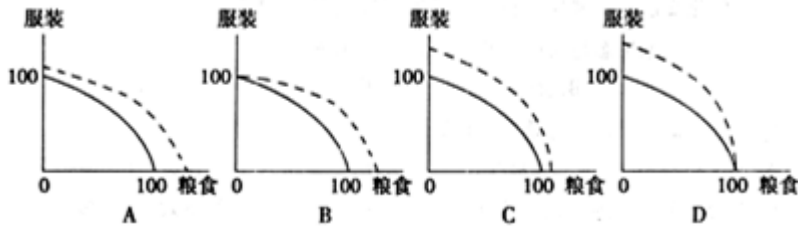
生产粮食	生产服装
0	100
40	75
70	50
90	25
100	0

图一



图二

提示：实线代表甲国的生产能力曲线，虚线代表甲乙两国合作后的生产能力曲线



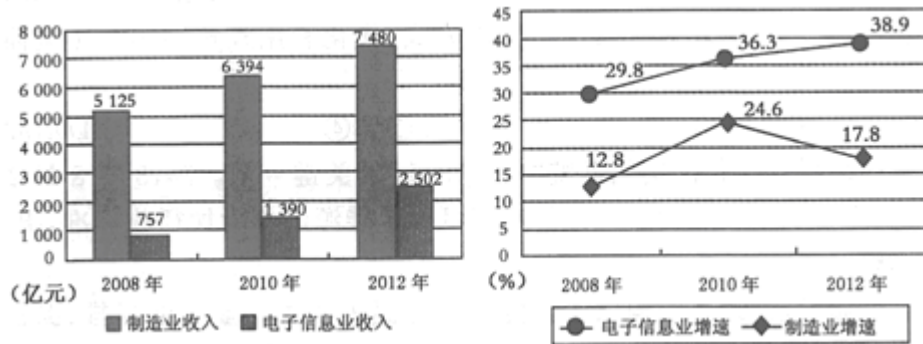
16. 当今世界，现代信息技术大发展，我国以大数据和物联网为依托，建设智慧城市。建设重点包括智慧公共服务、智慧社会管理、智慧安居等。大数据不仅为城市建设管理提供智慧的数据服务，也帮助城市转型升级。我国大力推进智慧城市建设是基于智慧城市（ ）

- ①可以实现公共服务平均化，改善民生
- ②有利于转变经济发展方式，调整优化经济结构
- ③有利于对资源进行更有效的管理，使经济健康、可持续发展
- ④可以根治交通、环境等社会问题，使城市运行更高效、绿色

- A. ①②
- B. ②③
- C. ②④
- D. ①③

17. (18分) 某中学高三同学围绕我国当前“稳增长、调结构”的经济发展主线，查阅了相关资料，请你参与他们的探究活动。

材料一：2008~2012年M市电子信息产业与传统制造业发展比较示意图



材料二：为了促进电子信息产业的发展，M市将电子信息产业列为“一号工程”，将其作为转变地方经济结构的引擎，充分发挥该市雄厚技术力量和人才的优势，鼓励支持本土企业创新发展；先后引进英特尔、联想等IT巨头，在全球范围内实现资源配置和市场重构；政府专门拿出20亿元财政资金，并出台相关对策和税收优惠政策，推进电子信息产业从单兵突进到集群集约发展。

材料三：在发展电子信息产业的过程中，M市十分重视引领电子信息企业的社会责任建设，要求电子信息企业不仅要改革发展的排头兵，还要做承担社会责任的先锋，要在电子垃圾处理、安全生产和生态环境保护等方面培养对社会的责任感。

(1) 请指出材料一反映的经济信息，并运用有关消费的知识简述加快信息消费的重大意义。(4分)

(2) 结合材料二，分析说明M市是如何快速发展电子信息产业的。(6分)

(3) 假如你是M市一位电子信息企业的代表，你认为企业应如何承担社会责任？(8分)

18. 随着我国GDP总量的不断增长，公共财政支出占财政总支出的比重也不断增加。右图曲线中由A点向B点移动，所反映的经济现象可能是 ()

以上内容仅为本文档的试下载部分，为可阅读页数的一半内容。

如要下载或阅读全文，请访问：

<https://d.book118.com/456134011211011001>