

2024年上教版八年级地理上册月考试卷50

考试试卷

考试范围：全部知识点；考试时间：120分钟

学校：_____ 姓名：_____ 班级：_____ 考号：_____

总分栏

题号	一	二	三	四	五	六	总分
得分							

评卷人	得分

一、选择题(共5题，共10分)

1、珠江三角洲利用其毗邻港澳的地理位置优势发展了外向型经济。

外向型经济的发展使珠江三角洲大量农业用地被改为工业、交通和城市建设用地,此类现象反映的是()

- A. 农业的发展
- B. 城镇化的发展
- C. 旅游业的发展
- D. 生态环境的改善

2、

有关中国的地理位置，以下说法正确的是（ ）

- A. 位于亚洲南部，太平洋北岸
- B. 位于亚洲东部，太平洋东岸
- C. 大部分在北温带
- D. 跨北寒带、北温带、热带

3、下面行政区属于特别行政区的是（ ）

- A. 北京
- B. 上海
- C. 香港
- D. 深圳

4、从兰州坐火车到连云港；依次会穿过哪些铁路干线（ ）

- A. 京沪线；京九线、京广线、焦柳线。
- B. 宝成线；京广线、焦柳线、京九线。
- C. 焦柳线；京广线、京九线、京沪线。

D. 京九线；京广线、京沪线、京哈线。

5、冬季；羽绒服在黑龙江省很畅销，而在海南省却几乎没有市场，原因是两省的（ ）

A. 纬度位置不同。

B. 海陆位置不同。

C. 地形不同。

D. 生产的产品不同。

评卷人	得分

二、填空题(共6题，共12分)

6、四大盆地特点：

柴达木盆地：位于___级阶梯上，我国___的盆地（称为“聚宝盆”）

塔里木盆地：我国___的盆地，有我国最大的___

四川盆地：“___”；___的盆地，盆地里的成都平原被称为“___”。）

7、读图；完成下列问题。



(1)图中四个省中；临海的有_____ (填代号)，临_____海，陆上同邻国接壤的有_____ (填代号)，邻国分别是_____，纬度最高的是_____ (填代号)。

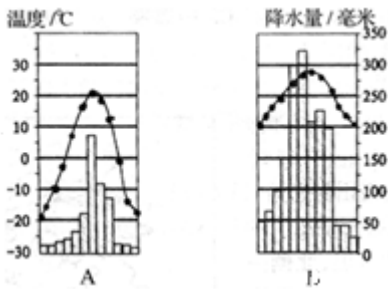
(2)四省中；地理位置最偏东的是_____，最偏西的是_____，有热带分布的是_____ (填代号)。

(3)③省的简称是_____。



loading...

8、读甲、乙两图为广州两城市的气温年变化曲线图，完成下列问题。（每空1分，共10分）

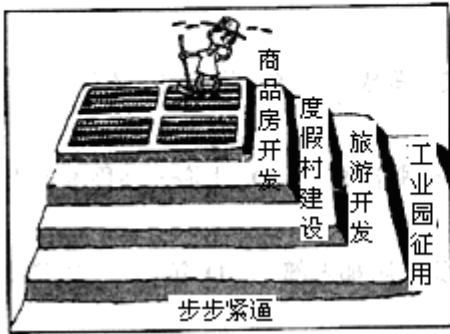


- (1) 表示哈尔滨气温变化的是 图，它位于（温度带）。表示广州气温变化的是 图，该城市所在省级行政区的简称是。气温年较差大的是（字母）。
- (2) 请你根据两图，分析说明我国冬季南北气温相差，造成这一现象出现的主要原因，首先是 的影响，另一方面是 的影响。
- (3) A、B两城市，纬度位置较高的是（字母）地，判断理由是。

9、我国气候的特点是____、____。

10、20世纪60年代开始，台湾重点发展____，形成“____”型经济，即____经济。

11、读漫画与我国土地构成图；回答下列问题：



- (1)左侧的漫画说明一个什么问题？_____。老农民所在的土地类型应该是_____；该土地类型与右图(我国土地构成图)中的字母_____代表的土地类型相同，右图中其他两字母代表的是_____地和_____地。
- (2)我国的工业发展迅速；各地工业区连接成片形成工业基地。东部沿海地区的四大工业基地自北向南依次是_____；_____、_____、_____。其中属于重工业基地的是_____。工业用地的日益扩大，导致各类土地资源逐年减少。
- (3)土地是_____之本，对于我国这一人口大国来说尤为重要。我们把_____作为一项基本国策



loading...

评卷人 得分

三、判断题(共5题，共10分)

--	--

12、可再生资源在较短时间内可以更新、再生或可以循环使用，因此它是“取之不尽、用之不竭”的。（ ）

13、我国被誉为“中华水塔”的是三江源地区。

14、赤道附近地带降水多，两极地区降水少。（ ）（判断对错）

15、长江三角洲地区有许多著名景点，以苏州园林和都江堰水利工程为代表。（ ）

16、青藏高原有一个被称为“聚宝盆”的地形区是塔里木盆地（ ）（判断对错）

评卷人	得分

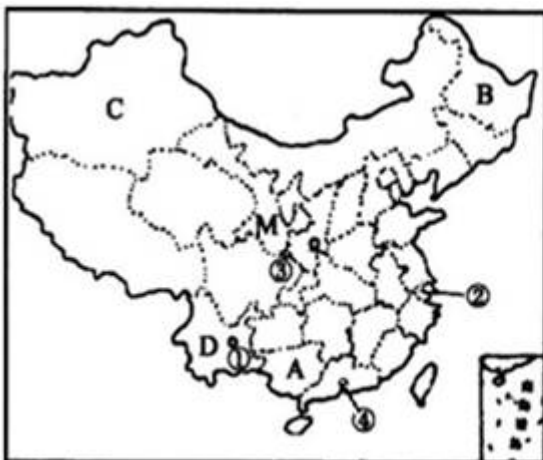
四、材料题(共2题，共12分)

17、材料一：2010年以来，西南地区持续干旱，受旱面积占到全国的83%，这是西南五省市百年一遇的特大旱灾。截至3月30日，中国耕地受旱面积1.16亿亩，有2425万人、1584万头大牲畜因旱饮水困难。

材料二：2008年中国第一条具有世界先进水平的高速铁路—京沪高速铁路正式开工建设。

材料三：第十六届亚运会于2010年11月12日至27日在我国广州市成功举办。

材料四：中国政区图和京沪高铁路线图



中国政区图



京沪高铁路线图

(1)

2010年西南地区旱灾发生的省区主要有川、滇、黔、渝、桂等省区。其中___省（填全称）少数民族最多，在图中的字母是___。

(2)___族是我国人口最多的少数民族，主要分布在_省区(填字母)。

(3)在中国政区图上的①②③④四个城市中，2010年举办亚运会城市___（填数字）

(4)张敏想去我国日出最早的地方旅游，最好到ABCD四省中的___省区(填字母)。

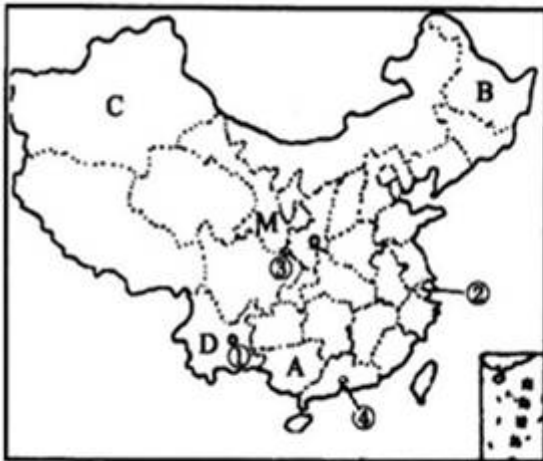
(5)京沪高速铁路沿途经过的直辖市有___个，既临渤海又临黄海的是___省。

18、材料一：2010年以来，西南地区持续干旱，受旱面积占到全国的83%，这是西南五省市百年一遇的特大旱灾。截至3月30日，中国耕地受旱面积1.16亿亩，有2425万人、1584万头大牲畜因旱饮水困难。

材料二：2008年中国第一条具有世界先进水平的高速铁路—京沪高速铁路正式开工建设。

材料三：第十六届亚运会于2010年11月12日至27日在我国广州市成功举办。

材料四：中国政区图和京沪高铁路线图



中国政区图



京沪高铁路线图

(1)

2010年西南地区旱灾发生的省区主要有川、滇、黔、渝、桂等省区。其中___省（填全称）少数民族最多，在图中的字母是___。

(2)___族是我国人口最多的少数民族，主要分布在_省区(填字母)。

(3)在中国政区图上的①②③④四个城市中, 2010年举办亚运会城市___（填数字）

(4)张敏想去我国日出最早的地方旅游, 最好到ABCD四省中的___省区(填字母)。

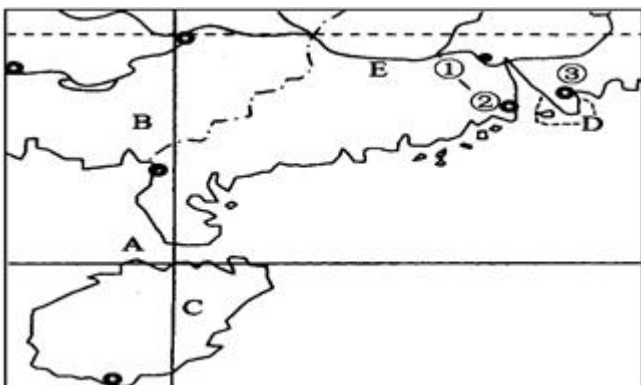
(5)京沪高速铁路沿途经过的直辖市有___个, 既临渤海又临黄海的是___省。

评卷人	得分

五、连线题(共2题, 共8分)

19、

读“我国南部沿海局部图”，回答问题。（5分）



(1) 图中③代表的城市名称是___。

(2) 图中字母E是___

(3) C岛是我国重要的热带经济作物产地, 出产许多热带水果, 如_____（填字母）。

- A.苹果、葡萄 B.柑橘、荔枝
- C.菠萝蜜、芒果 D.梨、桃

(4) D特别行政区的主导产业是(填字母)。

A.加工制造 B.对外贸易 C.房地产 D.旅游业

A.工业基础好 B.交通便利 C.自然资源丰富 D.科技力量雄厚



loading...

20、连线题(共2题,每线1分,共8分)

将下列河流与其特征用线连接起来。

流入北冰洋的河流 额尔齐斯河

我国水量最大的河流 长江

注入印度洋的河流 雅鲁藏布江

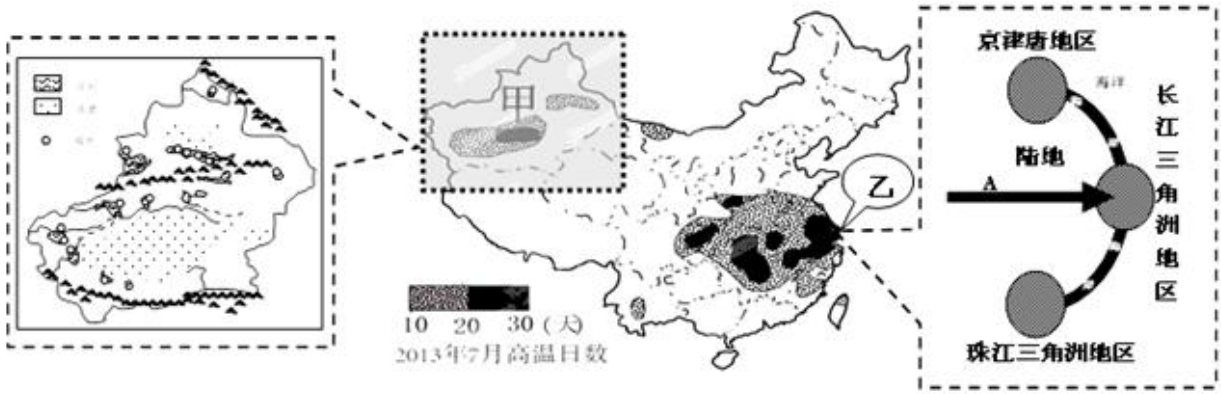
最长的内流河 塔里木河

评卷人	得分

六、综合题(共3题,共30分)

21、

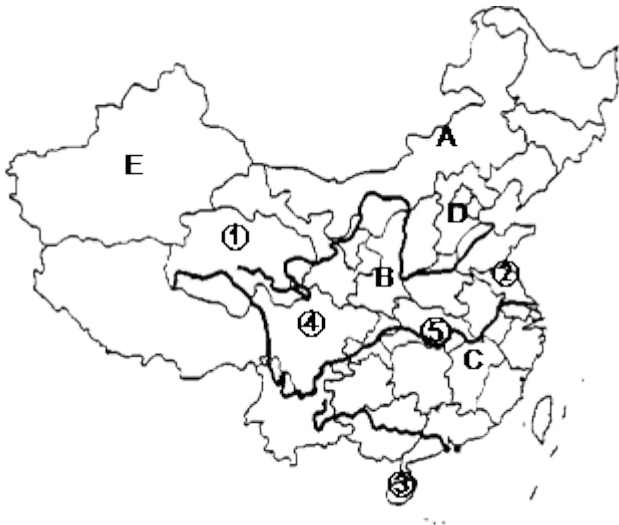
【题文】我国一般把日最高气温 $\geq 35^{\circ}\text{C}$ 称为高温;持续多天的高温天气称为高温酷暑。下图示意我国2013年7月高温日数分布,读图回答下列问题。(8分)



- (1) 读图，甲为我国面积最大的省份，其地形特点是_____。该省的人口城市主要分布在盆地的_____(边缘内部)；乙是_____平原；被称为“鱼米之乡”。
- (2) 高温酷暑对甲、乙两区造成的损失较大的是_____地区。
- (3) A是_____ (河流)，它为长江三角洲地区的发展提供_____、充足的淡水等。除河流影响之外，长江三角洲能够发展成为全国最大的综合性工业基地的有利条件还有_____。(至少1方面；1分)
- (4) A河与塔里木河水文特征的差异是_____。(至少1方面，1分)

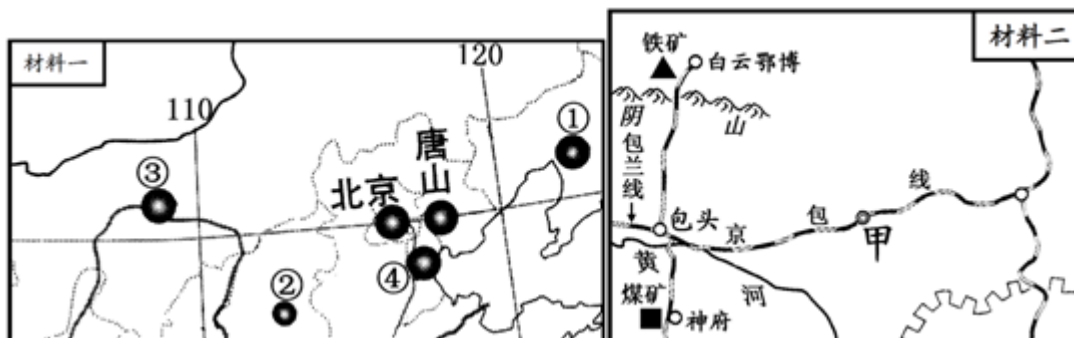
22、

【题文】读“中国的疆域和行政区划示意图”；完成下列要求。(9分)



- (1) 写出图中字母所代表的省级行政区简称。
A _____ B _____ C _____ D _____ E _____
- (2) 写出图中数字所代表的省级行政区的行政中心名称。
① _____ ② _____ ③ _____ ④ _____

23、读我国局部地区地理事物分布图及相关材料；分析回答下列问题。



材料一：我国部分钢铁工业中心分布示意图。

材料二：包头及附近地区部分地理事物分布略图。

材料三：材料二中城市甲为所在省区的行政中心。该省区有我国最大草场；是我国少数民族蒙古族的集中分布省区，区内矿产资源丰富。

(1) 包头是材料一中数码 _____ 所示城市。

(2) 材料二中城市甲的名称是 _____。

(3) 包头为我国重要的钢铁工业中心；请列举出该城市发展钢铁工业的有利因素。（提示：从资源；水源、交通等方面分析，列举三个方面即可）

① _____；

② _____；

③ _____。

(4) 城市①的名称是 _____，它位于 _____

工业基地，我国的工业根据产品性质分为轻工业和重工业，该工业基地以 _____

工业为主。本区人口稠密，工业城市密集，水资源短缺，环境污染严重，为使本区可持续发展，今后应该注意 _____。（多选）

- A. 防治污染；保护环境
- B. 珍惜合理利用各种资源。
- C. 提倡使用洁净能源
- D. 大量开采地下水。

以上内容仅为本文档的试下载部分，为可阅读页数的一半内容。如要下载或阅读全文，请访问：<https://d.book118.com/465140010223012011>