

全国卷及其适应对策

长沙市第六中学 黄敏兰

第一部分 全国卷

一、卷面构造特点


- (1) 全国卷分为选择题与非选择题两大块，按照地理、政治、历史的顺序排列。
- (2) 历史选择题序号为24-35题，主观题序号为40题、41题，选做题题号为45—48题。
- (3) 选做题：全国卷四个，分别是：历史上重大改革回眸；近代社会的民主思想与实践；20世纪的战争与和平；中外历史人物评说。
- (4) 分值设置：选择题：24-35题，共12道，每题4分，共48分；非选择题：40、41题，40题25分，2-3个设问；41题12分，一种设问。选做题：45-48题，每题12分，两个设问。

二、试题的难度


2007-2013年高考历史整体情况

表1：湖南省文科综合历史学科2007-2013年抽样平均分一览表

份 比较		年	2007	2008	2009	2010	2011	2012	2013
		选择题	平均分	26.10	24.55	24.30	26.07	22.31	22.1
	难度值	0.54	0.51	0.51	0.54	0.47	0.47	0.43	
非选择题	平均分	24.66	26.83	24.15	24.32	25.63	25.10	22.75	
	难度值	0.47	0.52	0.46	0.51	0.49	0.48	0.44	
平分总分		50.76	51.38	48.45	50.39	47.94	47.2	43.44	



2023年平均分42.66，较2023年相比下降了0.78分。



2023年平均分50.09，比2022年高出7.43分，在连续数年低于45分之后终于回到了50分之上。



全国卷难在哪里？

1、全国卷重历史认识轻历史事实

- 历史事实——知识性的
- 历史认识——逻辑推理、合理判断、
结论性的

■ (2023·山东卷·12) 图5文字节选自一则清代档案史料。其撰拟者应是

- A. 中书省
- B. 内阁
- C. 军机处
- D. 礼部

嘉庆二十一年七月初六日内阁奉上谕：和世泰等奏，口英咭喇国贡使连日演练礼仪极为敬谨，……即派苏楞额、广惠各载原品顶戴沿途伴送，钦此。

- (2023·新课标全国I卷·24) 《吕氏春秋·上农》在描述农耕之利时不无夸张地说，一种农夫耕种肥沃的土地能够养活九口人，耕种一般的土地也能养活五口人。战国时期农业收益的增长
 - A. 增进了个体小农经济的形成
 - B. 克制了手工业和商业的发展
 - C. 造成畜力与铁制农具的使用
 - D. 阻碍了大土地全部制的成长

2、山东卷选择题的题干和选项之间经常是直接的映射关系，逻辑环节少，材料使用简洁且几乎呈现的都是有效信息；全国卷选择题追求深度，思维力度大，逻辑环节多，要求进行严密的逻辑推理，并要善于抓住材料的主旨

- (2023·山东卷·13) 《尚书·酒诰》云：“人无于水监（照镜子），当于民监。”这句话体现的思想是（
）
- A. 兼爱尚贤
- B. 主权在民
- C. 以民为本
- D. 道法自然

■ (2023·山东卷·13) “中国历史与西方历史的会合结束了中国的闭关自守，使它越来越多地介入世界事务，乃至于到今日，在中国或西方发生的事情都会即时产生相互的影响。”这强调的是()

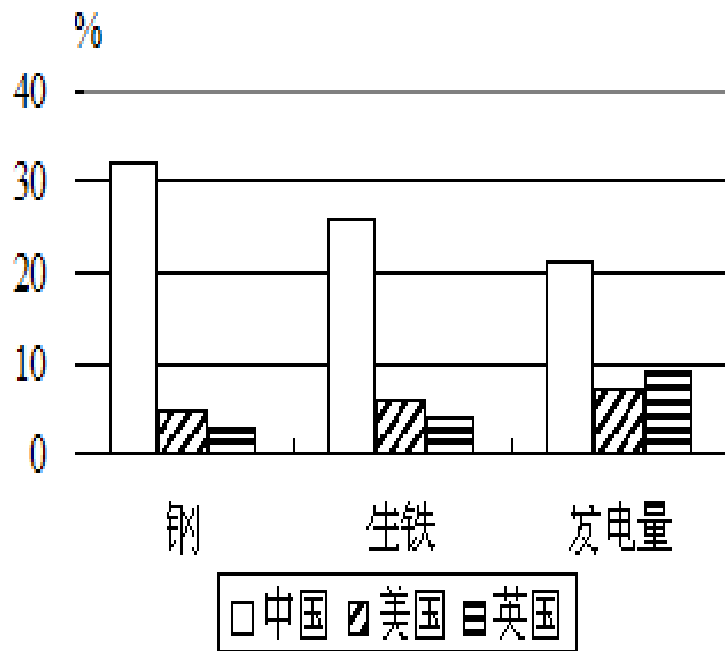
-
- A. 中国近代历史发展中西方的主导性
 - B. 近代中国和世界的碰撞与融合
 - C. 中国按照西方模式向近代社会演变
 - D. 中国近代史是西学东渐的过程

■ (2023·新课标全国I卷·30) 20世纪23年代, 上海成为中国电影的制作中心, 当初在上海放映的多种影片中, 外国片与国产片百分比约为2:1; 而在北京和天津, 这一百分比高达5:1甚至6:1。上海与京津放映中外电影百分比不同, 能够阐明这一现象的应是

- A. 外国电影的制作水平较高
- B. 京津民众对外来事物更具热情
- C. 中国电影拷贝流通税费重
- D. 上海民众的社会心态更为开放

■ (2023·新课标全国I卷·31) 图5为新中国第一个五年计划期间中国、美国、英国主要工业指标年均增长速度的比较, 据此我们能够推知

- A. 中国原有基础很单薄
- B. 冷战制约美英工业发展
- C. 中国重工业发展暴躁冒进
- D. 美英老式工业产业衰落



- (2023·新课标全国I卷·26) 宋代东南沿海地域出现了某些民间崇敬，如后来被视为海上保护神的妈祖、被视为妇幼保护神的临水夫人等，这些崇敬得到朝廷认可，后世影响不断扩大，这反应出
- A. 朝廷不断鼓励海洋开发
- B. 女性地位逐渐得到提升
- C. 东南沿海经济社会影响力上升
- D. 统治思想与民众观念趋向一致

3、山东卷非选择题阅读量小，且“材料在教材外，答案在教材中”；全国卷非选择题材料阅读量大，且多取自教材、课标、考纲之外，与教材的依托关系不大

■ 48. (10分) 【历史—近代社会的民主思想与实践】

下列为1923年5月孙中山与香港《士蔑西报》记者的一段谈话。阅读材料，回答下列问题。

访员曰：先生让总统之位与袁世凯，是因为个人之意乎？抑觉得如此更换更有益于国家乎？孙曰：两者皆是，因袁君鼓动共和久矣。

——《孙中山全集》第二卷

■ 结合所学知识，谈谈你对孙中山所答内容的认识。(10分)

（2023·新课标全国 I 卷·45）（15分）历史上重大改革回眸

材料 从秦朝铸造“半两”钱开始，铜币主要以重量为名。汉代的“五铢”钱，“重如其文”，直到隋代，都被视为原则性的钱币。因为盗铸、剪凿良币以取铜等原因，钱币实际重量与钱币上铭文不符的现象时常发生。隋末，劣币盛行，“千钱初重二斤，其后愈轻，不及一斤”。币值混乱，影响流通。针对这种情况，武德四年（621）唐高祖下诏铸“开元通宝”钱，即在钱币上铸“开元通宝”字样（或识读成“开通元宝”），大小仿汉“五铢”，称作一文，亦称一钱，每十钱重一两。“新钱轻重大小最为折衷，远近甚便之”。这成为衡法由十六进位制变为十进位制的关键。“钱”取代“铢”成为“两”下列的重量单位。今后历代钱币均称“通宝”或“元宝”，钱币上不再标识重量。宋代后来，使用皇帝的年号作为钱名逐渐成为常制，如“熙宁通宝”“光绪元宝”等。

——摘编自彭信威《中国货币史》等

- （1）根据材料，指出唐代币制改革的主要内容。（6分）
- （2）根据材料并结合所学知识，阐明唐代币制改革的意义。（9分）

4、变幻莫测的41题

- (2023·新课标全国I卷·41) (12分) 阅读材料, 完毕下列要求。

历史地图包括了政治、经济、文化等多种信息。



- 图9 东汉十四州示意图 图10 唐开元十五道示意图

- 比较图9、图10, 提取两项有关汉唐间历史变迁的信息, 并结合所学知识予以阐明。

2023主观题41题湖南考生得分及百分比

- (2023·新课标全国 I 卷·41) (12分) 阅读材料, 完毕下列要求。
- 材料 下面是1960年我国中学历史教科书中“抗日战争”内容的目录摘编。
- 第二十章 全国抗日战争的开始
- 第二十一章 两条战线、两个战场
 - 1. 抗日战争中的两条路线
 - 2. 国民党军队的大败退
 - 3. 平型关大捷
 - 4. 敌后抗日根据地的建立和迅速发展
- 第二十二章 毛主席《论持久战》的刊登和中国共产党的六届六中全会
- 第二十三章 国民党反共高潮的被击退和《新民主主义论》的刊登
- 第二十四章 日本帝国主义在沦陷区的殖民统治
- 第二十五章 解放区的巩固和发展
- 第二十六章 国民党的黑暗统治和民主运动的开展
- 第二十七章 抗日战争的最终胜利
 - 1. 中国共产党第七次全国代表大会
 - 2. 解放区军民大反攻和日寇的无条件投降
 - 3. 抗日战争胜利的伟大历史意义
- 根据材料并结合所学知识, 对该目录提出一条修改提议, 并阐明修改理由。(所提修改提议及理由需观点正确, 符合历史事实。)

2023主观题41题湖南考生得分及百分比

满分12分，平均分2.87分，样本数：123001

- (2023·新课标全国 I 卷·41) (12分) 阅读材料, 完毕下列要求。

- 材料

有历史学者为阐明近代以来科学技术在生产力发展中的作用, 引用了如下公式:

生产力=科学技术×(劳动力+劳动工具+劳动对象+生产管理)

这一公式表白, 科学技术有乘法效应, 它能放大生产力诸要素。

——摘编自齐世荣总主编《世界史》

- 利用世界近当代史的史实, 对上述公式进行探讨。
- (阐明: 能够就科学技术与公式中一种或多种要素之间的关系进行认证; 也能够对公式进行修改、补充、否定或提出新公式, 并加以论述, 要求观点明确、史论结合、史实精确。

2023主观题41题湖南考生得分及百分比

满分12分，平均分为4.25，样本数：130130

三、发展趋势

- 1、选择题的难度在降低，主要体现在：材料阅读量在不断降低、题干与选项之间的映射关系愈加直接、难偏怪的题目在降低、与教材内容的关联度在加深、出现了数年未见的轻易题。
- （2015·新课标全国 I 卷·29）《申报》“时评”栏目曾评述说：“今之时局，略似春秋战国时之分裂。中央政府之对于各省，犹东周之对于诸侯也。南北相攻，皖直交斗，滇蜀不靖，犹诸侯相侵伐也。”这一时局出现在

- A. 太平天国运动时期
- B. 义和团运

三、发展趋势

- 2、非选择题的难度也在降低，体现在直接从材料中获取信息的百分比扩大、材料在教材外，答案在教学中。
- （2014·新课标全国 I 卷·40）（25分）阅读材料，完毕下列要求。
 -
 -
 - （1）根据材料一、二并结合所学知识，分别指出宋应星、牛顿二人科技成果的特点及它们出现的背景。（15分）
 - （2）根据材料一、二并结合所学知识，分析指出二人科技成果命运不同的原因。

（10分）

三、发展趋势

- 3、命题者逐渐接受一线老师的意见，在提问用语规范性方面有所加强
- （2023·新课标全国Ⅰ卷·40）（25分）阅读材料，完毕下列要求。

.....

.....

（1）结合材料一及所学知识，指出汉代儒学与孔孟儒学的不同之处，并概括宋代理学在哪些方面对儒学有所发展。

（10分）

（2）根据材料一、二并结合所学知识，指出韩愈、康有为有关儒学认识的共通之处。（8分）

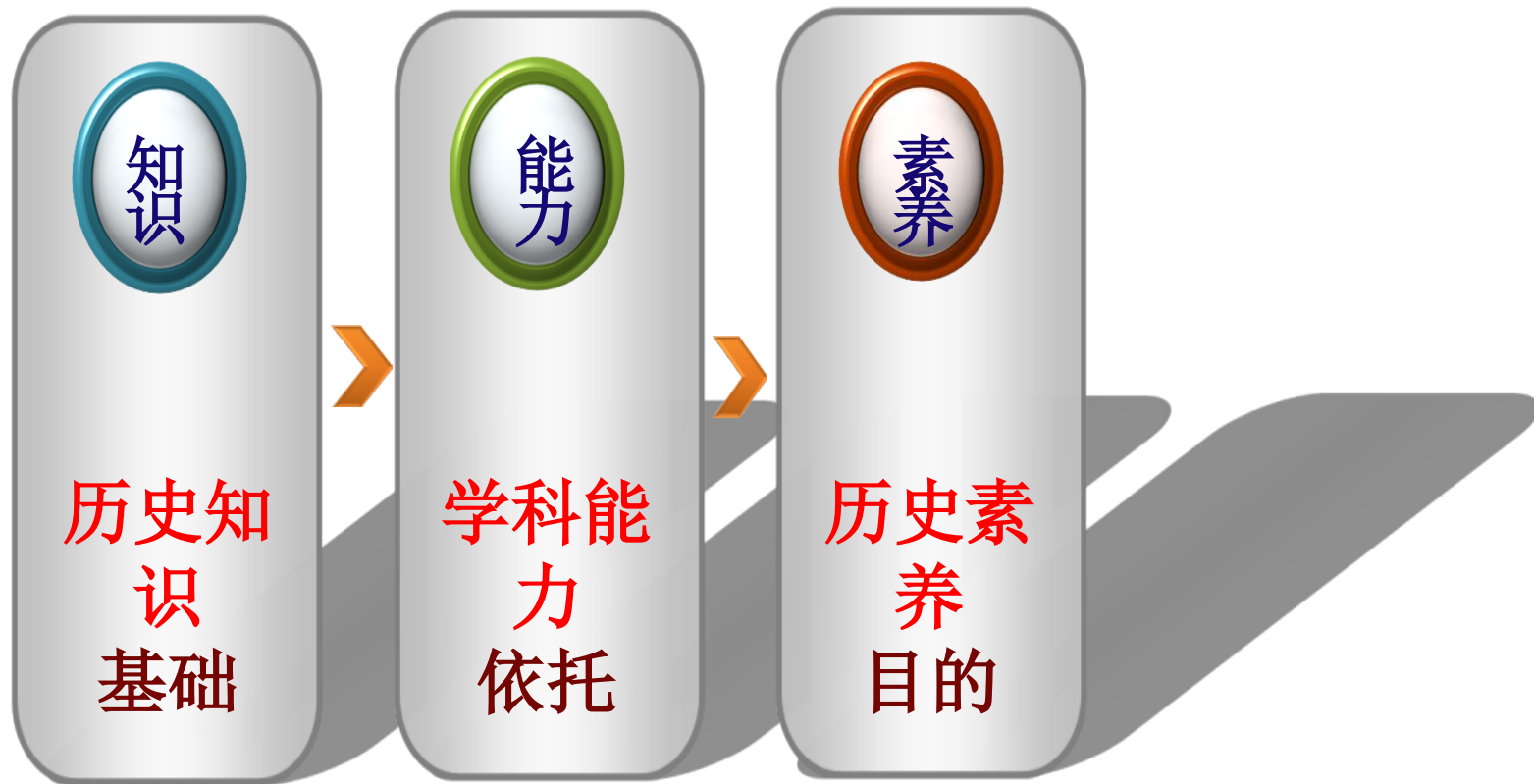
（3）我们应该以什么样的态度看待孔子与儒学？（7分）



第二部分

应对全国卷的策略

高考命题立意的变迁



以上内容仅为本文档的试下载部分，为可阅读页数的一半内容。如要下载或阅读全文，请访问：<https://d.book118.com/466022141225010230>