

2023-2024学年全国中考专题历史中考真卷

考试总分：47分 考试时间：120分钟

学校：_____ 班级：_____ 姓名：_____ 考号：_____

注意事项：

1. 答题前填写好自己的姓名、班级、考号等信息；
2. 请将答案正确填写在答题卡上；

卷I（选择题）

一、选择题（本题共计23小题，每题1分，共计23分）

1. 他是儒家学派创始人，将“仁”作为处理人与人关系的最高行为准则和道德规范，“他”是（ ）

- A.老子 主张“道”
- B.孔子 主张“仁”，因材施教
- C.孟子 主张“仁政”
- D.墨子 主张“兼爱、非攻”

2. 唐朝诗人胡曾在《咏史诗·长城》写道：“祖舜宗尧自太平，秦皇何事苦苍生。不知祸起萧墙内，虚筑防胡万里城。”诗中的“防胡万里城”起止点是（ ）

- A.西起陇西，东到东海
- B.西起临洮，东到辽东
- C.西起陇西，东到辽东
- D.西起临洮，东到东海

3. 如表为西汉朝廷直接管辖的郡级政区变化表。据此可知（ ）

皇帝纪年	公元纪年	郡级政区
汉高帝十二年	前195年	15郡
汉文帝十六年	前164年	24郡
汉景帝中六年	前144年	68郡、国
汉武帝元封五年	前106年	108郡、国

- A.诸侯王国与朝廷矛盾渐趋激化
- B.中央行政体制进行了调整
- C.朝廷解决边患的条件更加成熟
- D.王国控制的区域日益扩大

4. 魏晋南北朝时期，江南地区得到开发的原因有（ ）

- ①北方人口大量南迁
- ②社会相对安定
- ③自然条件好
- ④南方本来生产力就先进

A. ①②③

B. ②③④

C. ①③④

D. ①②④

5. 当你重回498年的北魏的时候，不可能看到的现象是（ ）

A. 在洛阳的街头，人们都穿着汉族的服饰

B. 在朝廷中大臣都在用鲜卑语向皇帝汇报

C. 一家人正在举办婚礼，新郎是鲜卑人，新娘是汉族人

D. 一个老师正在提问一个叫元拓的学生

6. “如果说长城是一撇，大运河则是一捺，二者在首都交会在一起，构成了一个厚道的人字。”这一捺的重要作用（ ）

A. 促进南北经济文化的交流

B. 解决北方缺水问题

C. 便于军队力量的调控

D. 方便帝王游玩

7. 毛泽东曾说：“唐明皇不会做皇帝……（他）前半辈会做，后半辈不会做。”这里说他“前半辈会做”的依据是（ ）

A. 贞观之治

B. 开元盛世

C. 开皇之治

D. 起兵反隋，建立唐朝

8. 李四是生活在北宋开封的普通市民，下面哪些事情是李四可以做到的（ ）

①考中进士，并得到迅速升迁

②去瓦子里欣赏各种表演

③和朋友们一起去勾栏里玩蹴鞠

④受朝廷派遣到大港口限制海外商人

A. ②③④

B.①②③

C.①③④

D.①②③④

9. 我国历史上版图最大的时期是在

A.唐朝

B.汉朝

C.元朝

D.隋朝

10. 如图机构的设置，反映了（ ）



A.地方权力增大

B.相权不断加强

C.军政实现合一

D.皇权高度膨胀

11. “此日漫挥天下泪，有公足壮海军威。”这副挽联哀悼的是甲午中日战争中牺牲的（ ）

A.魏源

B.李鸿章

C.严复

D.邓世昌

12. 下列对20世纪初中国局势的描述，正确的有（ ）

①列强通过多种方式在经济上加紧对中国的掠夺

②清政府也曾经试图改革，实行“新政”和共和

③知识分子作为一种新的社会力量逐渐成长起来

④伴随民族工业的成长，民族资产阶级得到发展

A.①②③

B.①②④

C.①③④

D.②③④

13. 抓住关键词是学习历史的方法之一，与“1956”“确立社会主义基本制度”等关键词相吻合的历史事件是（ ）

A.新中国成立

B.第一届全国人民代表大会召开

C.三大改造基本完成

D.“一五”计划完成

14. 2019年，我国深化国有企业改革，积极推进混合所有制和股权多样化改革，进一步扩大重点领域的混改试点，完善市场化选人用人的激励约束机制，积极探索建立与市场接轨的经理层激励制度，实行差异化的薪酬体系。实施上述举措的目的在于（ ）

①调整国民收入分配格局，促进收入分配公平

②转换国有企业经营机制，提高国有企业竞争力

③巩固国有经济主体地位，增强国有经济控制力

④完善国有企业治理结构，激发国有企业创造力

A.①③

B.①④

C.②③

D.②④

15. 在“一国两制”构想的指导下，1999年12月20日回归祖国的是

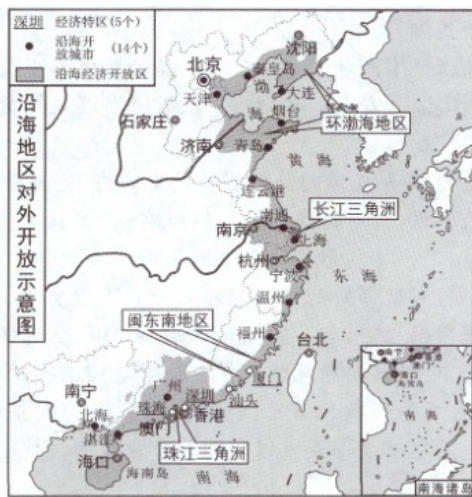
A.英国侵占的香港

B.英国侵占的澳门

C.葡萄牙侵占的香港

D.葡萄牙侵占的澳门

16. 下图能直接反映我国形成的对外开放格局的重要举措是（ ）



- A. 设立长江沿岸开放城市
- B. 设立沿海经济开放区
- C. 设立内陆省会开放城市
- D. 设立边境开放城市和口岸

17. “中华民国之主权，属于国民全体，中华民国人民一律平等，无种族、阶级、宗教之区别。”这出自历史文献（ ）

- A. 《钦定宪法大纲》
- B. 《中华民国宪法》
- C. 《中华民国约法》
- D. 《中华民国临时约法》

18. 十九世纪三四十年代，欧洲爆发的三大工人运动（法国里昂工人武装起义、英国宪章运动、德国西里西亚纺织工人起义）都以失败而告终，工人运动失败的教训是没有科学的理论指导，为了给工人运动创立科学的革命理论，马克思与恩格斯精诚合作，创立了科学社会主义。1848年2月，马克思和恩格斯为共产主义者同盟起草的纲领正式发表，标志着科学社会主义的诞生。马克思与恩格斯起草的这个这个纲领是（ ）

- A. 《权利法案》
- B. 《独立宣言》
- C. 《人权宣言》
- D. 《共产党宣言》

19. 1861年，沙皇亚历山大二世不顾部分保守贵族廷臣的反对，宣布废除农奴制度，他称“若不弃小利，则大利难保”。材料表明亚历山大二世改革的根本目的是（ ）

- A. 解放农奴为自由人
- B. 走资本主义发展道路

- C.摆脱国家民族危机
- D.维护地主阶级的统治

20. 美国总统特朗普宣称：在美国历史上，我比任何其他总统都更像总统，只是也许除了戴大帽子的林肯。我承认，林肯很强硬。让特朗普都自愧弗如的林肯总统曾经（ ）

- A.领导北美各州建立独立国家
- B.推行新政，渡过“大萧条”
- C.领导美国进行反法西斯斗争
- D.坚持斗争，反对国家分裂

21. 在十月革命后苏维埃政府采取的革命措施中，最能反映当时俄国人民迫切愿望的是（ ）

- A.由工人对生产和分配进行监督
- B.将大企业等收归国有
- C.没收地主、皇室和教会的土地分配给劳动者使用
- D.颁布《和平方令》，退出第一次世界大战

22. 第二次世界大战后，在这些国家中，通过立法确定了由政府承担全体国民基本保障的责任；实行养老、医疗、失业的社会保险；对于无生活来源或收入低的公民，国家保证其最低生活需要，在年老、患病、失业等情况下享受社会救济；对全体公民提供免费服务。对材料中社会保障制度建立的说法不正确的是（ ）

- A.在发达资本主义国家建立起来
- B.有助于维护所有国家经济稳定
- C.巩固了资产阶级的统治
- D.是工人阶级不断斗争的结果

23. 学习历史，必须分清哪些是历史，哪些是观点。下列各项中属于观点的表述是（ ）

- A.和平与发展是当今世界的主题
- B.《九国公约》的签订
- C.世界反法西斯联盟的建立
- D.苏联解体与东欧剧变

卷II（非选择题）

二、材料分析题（本题共计3小题，每题8分，共计24分）

人类的进步离不开科技的发展，在人类历史上古代科技看中国，近代科技看西方。阅读以下材料，回答问题。

材料一庆历（宋仁宗年号）中，有布衣者，又为活版。其法：用胶泥刻字，薄如钱唇，每字一印，火烧令坚.....一板印刷，一板已自布字。.....更互用之，瞬息可就。

——沈括《梦溪笔谈》

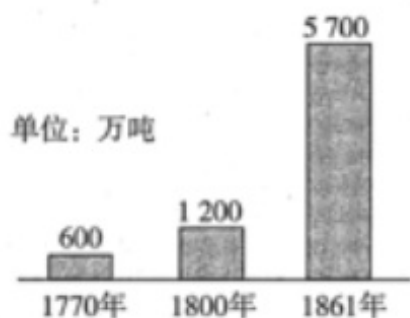
材料二 见下表。

中国古代重大科技成果在世界重大科技成果中所占比例表


时间	公元前6世纪—公元前1世纪	公元前1世纪—400年	401年—1000年	1001年—1500年	明清时期	19世纪
中国占比	50%	62%	71%	58%	30%以下	0.4%

材料三

1770—1861年英国煤产量变化图



1870—1900年世界石油产量变化图



材料四



英国工业革命时期的煤矿



德国克虏伯钢铁公司



美国的汽车到处排成长龙



日本福岛核泄漏

(1) 根据材料一结合所学知识回答：沈括在《梦溪笔谈》中所记载的这项发明是什么？

(2) 依据材料二的表格来看，明清时期，中国科技成果在世界重大科技成果中所占比例迅速下降。试从明清的政治制度、思想文化两方面分析其原因。

(3) 材料三反映出不同时期英国煤产量、世界石油产量呈现了上升趋势，结合所学知识分别指出产生这种变化的原因。

(4) 材料四中的四幅图片，反映了人类在利用科技成果的过程中，产生了哪些不利因素？

25. 阅读下列材料，回答问题。

材料一 至恭亲王奕訢等请购买外洋船炮，则为今日救时第一要务。.....可以剿发捻（太平军），可以勤远略（外国势力）。

——曾国藩《复陈购买洋船炮折》

材料二



图一 江南制造总局 图二 轮船招商局 图三 京师同文馆

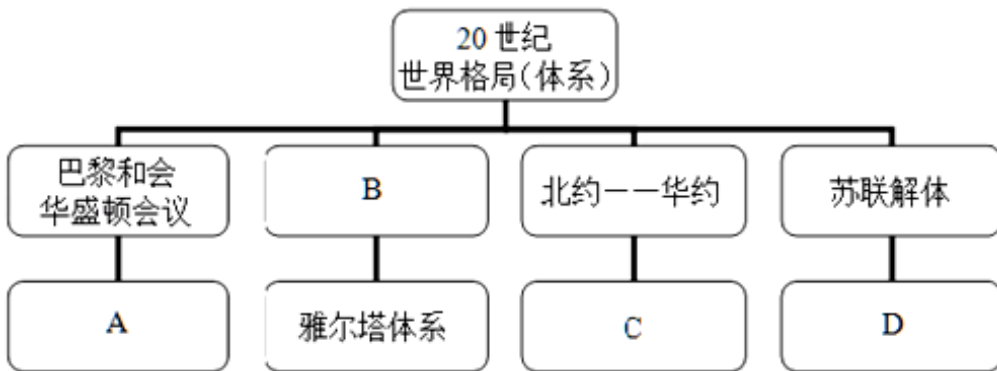
材料三 创办轮船招商局使“内江外海之利，不致为洋人占尽”，三年多时间，外轮损失一千三百多万两（白银），美国旗昌行不堪赔累，被招商局归并。……中国资本能挫败洋商，这在当时曾被视为“创建之事”。

- (1) 从材料一“剿发捻”和“勤远略”来看，洋务运动的目的是什么？
- (2) 分析材料二中图一、图二所反映的史实有何不同？图一、图二与图三有何联系？
- (3) 结合材料及所学，说说洋务运动对中国有何积极意义？

26.

历史上出现的世界格局（或国际秩序），有些是在战争结束后由战胜国提出并建立起来的，有些是在和平条件下实现的。阅读材料，回答问题。

材料一



材料二 世界秩序之所以不同于旧秩序，就是因为它不是由超级大国主宰，而是有很多的权力中心，每一个都独立活动……美国是唯一的军事超级大国，但靠军事力量能解决的问题越来越少。

——基辛格

- (1) 请按照时序，将相应的世界格局填入空格。
A: _____; B: _____; C: _____; D: _____
- (2) 这四个世界格局，哪些是由战胜国提出并建立的？
- (3) 根据材料二和所学知识，判断“由超级大国主宰”的世界秩序是哪一个？根据材料写出这一格局形成和结束的标志。
- (4) 材料二中基辛格认为美国“靠军事力量能解决的问题越来越少”，结合所学知识，你认为在新的世界格局形成过程中，具有决定性作用的是什么？请举例印证材料中“很多的权力中心”。
- (5) 综合上述材料，结合世界格局的演变，谈谈你的认识。

参考答案与试题解析

2023-2024学年全国中考专题历史中考真卷

一、选择题（本题共计 23 小题，每题 1 分，共计 23 分）

1.

【答案】

B

【考点】

老子和孔子

【解析】

本题考查的是孔子的观点。掌握各学派在不同时期的主张。

【解答】

据材料“他是儒家学派创始人，将‘仁’作为处理人与人关系的最高行为准则和道德规范”并结合所学知识可知，这反映的是儒家的主张。春秋晚期的孔子是儒家学派的创始人。他提出“仁”的学说，主张“爱人”，要求统治着体察民情，爱惜民力，“为政以德”，反对苛政和任意刑杀。孔子提倡因材施教。

故选B。

2.

【答案】

B

【考点】

秦朝巩固统一的措施

【解析】

本题主要考查秦长城的相关知识。

【解答】

根据题干中的“秦皇何事苦苍生”“虚筑防胡万里城”并依据所学可知，为了抵御匈奴，修筑的长城起止点是西起临洮，东到辽东。因此B项正确。

故选B。

3.

【答案】

C

【考点】

汉武帝推进大一统的措施

【解析】

本题考查西汉王朝对地方的管辖。理解材料是解题关键。

【解答】

从材料看出随着时间发展，地方郡国数量到汉武帝时明显增加。这说明汉武帝颁布推恩令后，削弱了诸侯的势力，加强了中央集权，朝廷解决边患的条件更加成熟，更有能力解决边患问题。ABD选项描述都不对。

4.

【答案】

A

【考点】

人口的南迁和江南地区的开发

【解析】

本题以魏晋南北朝时期，江南地区得到开发的原因为切入点，考查人口的南迁和江南地区的开发的相关知识点。

【解答】

魏晋南北朝时期，江南地区得以开发的原因有：北方战乱，南方相对比较安定；北方人大量南迁，带去先进的生产技术和劳动力；南方土地肥沃，自然条件好，①②③符合题意。

5.

【答案】

B

【考点】

北魏孝文帝改革

【解析】

本题考查北魏孝文帝改革的相关知识。

【解答】

依据题干信息可知，当时的北魏是孝文帝统治时期，北魏孝文帝推行了一系列汉化的改革措施促进了民族的融合。其改革措施主要包括：说汉语、禁胡服、通婚姻、改姓氏、采用汉族的官制律令、学习汉族的礼法、尊崇孔子以孝治国、提倡尊老养老的风气等。所以当时在朝廷中大臣在用鲜卑语向皇帝汇报是错误的，故B正确。

ACD项在当时都可能看到，故排除。

以上内容仅为本文档的试下载部分，为可阅读页数的一半内容。如要下载或阅读全文，请访问：<https://d.book118.com/467012201140006044>