

板块三 认识世界

主题八 认识地区

第3讲 欧洲西部（法国）



 **河南中招五年真题**

 **理考点·练基础**



命题点

1. (2021河南) 邮轮是国家工业和科技水平综合实力的体现，被誉为“造船皇冠上的明珠”。欧洲发展邮轮建造业的优势是(B)

①工业基础好；②矿产资源丰富；③劳动力廉价；④技术力量雄厚

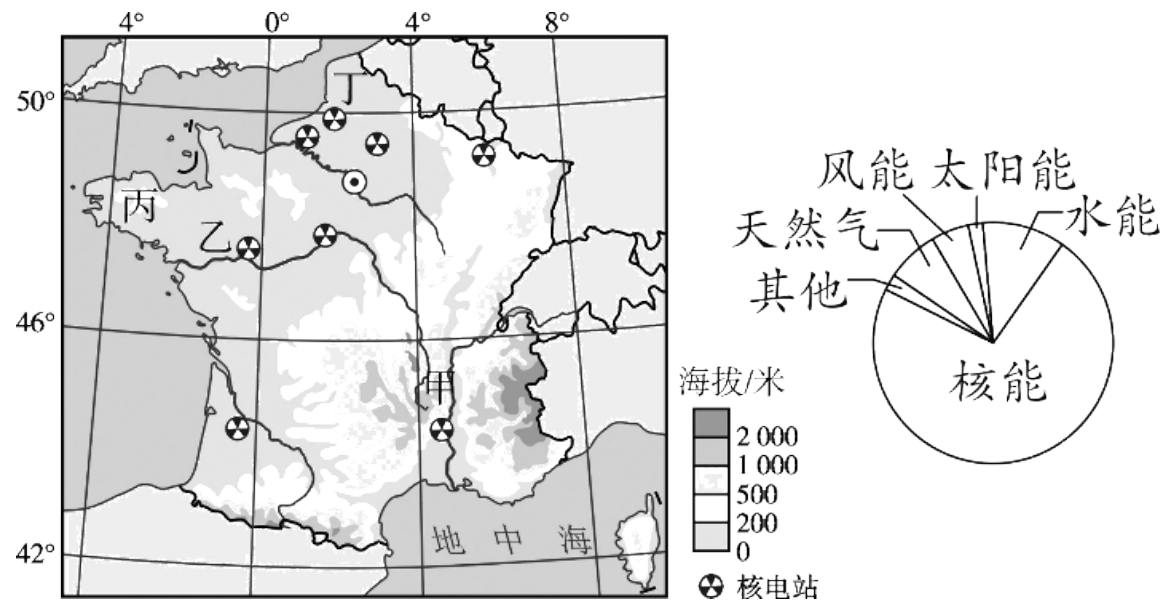
A.①③

B.①④

C.②③

D.③④

(2021河南) 法国是世界上最大的电力出口国。读法国地形图和2018年法国电力能源结构图，完成2~4题。



2.法国电力能源结构中比重最大的是(**B**)

- A.天然气
- B.核能
- C.太阳能
- D.水能

3.从因地制宜的角度考虑，最适宜水能开发的地区是(**A**)

- A.甲
- B.乙
- C.丙
- D.丁

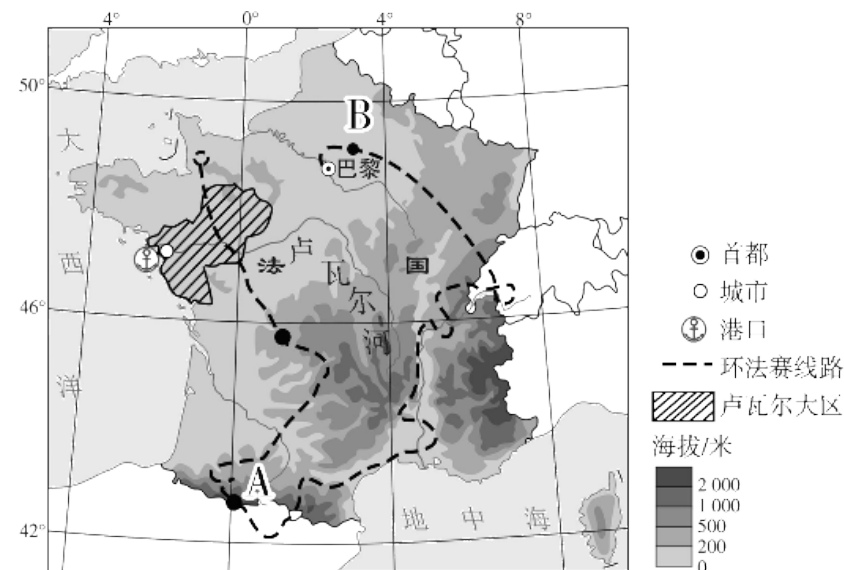
4.核电站大多建在沿海沿河、地基稳定的地方。法国没有在地中海沿岸建核电站，原因可能是(C)

- A.过往船只过多 B.保护旅游资源 C.地壳运动活跃 D.远离消费市场

5. (2023河南) 某中学地理社团以“法国自行车的魅力”为主题开展“云研学”。阅读图文材料，回答问题。

【聚焦自行车运动】

始创于1903年的环法自行车赛是全球自行车运动的顶级赛事之一。每年夏季数以万计的人集聚法国观看比赛，赛道沿线自然、人文景观比比皆是，一些鲜为人知的美景也呈现在世人面前。右面为2016年环法自行车赛线路示意图及沿线景观图。



(1) 环法自行车赛中，爬坡赛段领先的选手会被授予象征荣誉的圆点衫，选手可获得圆点衫的赛段是 A (填“A”或“B”)；途经卢瓦尔大区时，选手朝 东南 (方向) 骑行。

(2) 简述环法自行车赛对当地旅游业发展的影响。

[答案]

提高赛事沿线旅游资源的知名度；吸引大量游客；增加旅游业收入；改善旅游设施，提高服务水平；等等。

【探秘自行车产业】

卢瓦尔大区有着悠久的骑行传统。这里坐拥法国大西洋沿岸第一海港，是法国自行车产业最集中的地区，拥有众多自行车零部件生产商。政府注重培养自行车组装、维修等方面的熟练工人，对新入驻的企业提供办公楼、车间等用地支持。

(3) 分析卢瓦尔大区自行车产业发展的有利条件。

[答案]

当地骑行历史悠久，消费市场广阔；临近海港，海陆交通便利，便于产品运输；自行车产业集中，工业基础雄厚；注重技能培训，技术工人充足；当地政府给予用地等相关政策支持；等等。

【打造“自行车国家”】

2023年，法国政府拨款2.5亿欧元推广自行车计划，打造“自行车国家”。专用的自行车道、完善的停车点等配套设施，让人们的骑行更为安全、便捷。同时，政府为小学生提供专门的骑行课程。

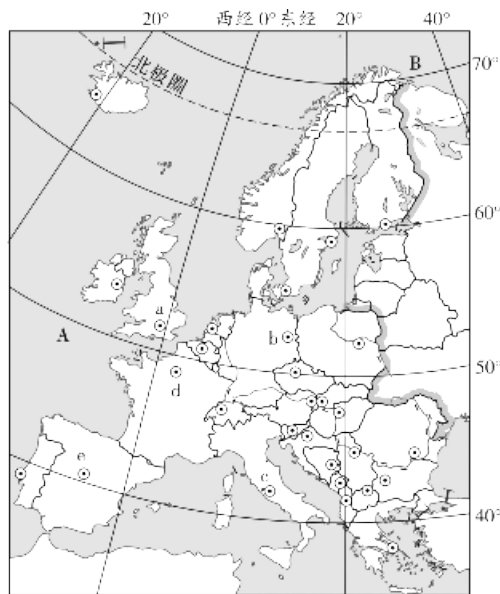
（4）概括法国在推广自行车方面可供借鉴的经验。

[答案]

打造自行车品牌赛事；壮大自行车产业；加大资金投入；健全自行车道等配套设施；培养学生的骑行习惯；等等。

考点一 欧洲西部（5年2考）（2021.4；2020.7~8） RJ七下P52—59，XJ七下P54—59，SW七下P40—45

一、地理位置



欧洲西部简图

1. 欧洲西部大致位于 $35^{\circ}\text{N} \sim 70^{\circ}\text{N}$ 之间，地跨① 北温带 和北寒带。
2. 西临A② 大西洋，北临B③ 北冰洋，南临地中海和黑海。

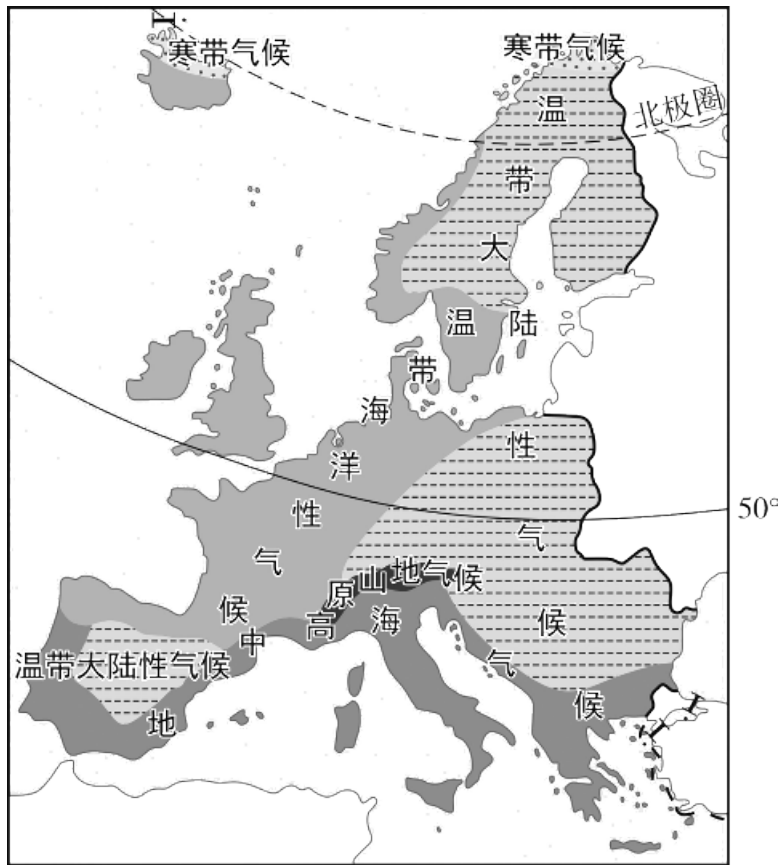
3. 主要国家及首都

国家	a	b	c	d	e
首都	④ <u>伦敦</u>	柏林	⑤ <u>罗马</u>	巴黎	马德里

二、工业文明的摇篮

1. 欧洲西部人口稠密，是世界上⑥ 发达 国家最集中的地区。
2. 欧洲西部是工业革命的发源地，传统工业出现⑦ 衰落 趋势。目前，电子、能源、信息等高新技术产业，以及⑧ 高端制造 和精细加工等行业，在世界上仍占有重要地位。

三、气候与农业的关系



欧洲西部气候类型分布图

以上内容仅为本文档的试下载部分，为可阅读页数的一半内容。如要下载或阅读全文，请访问：
<https://d.book118.com/468104121074006075>