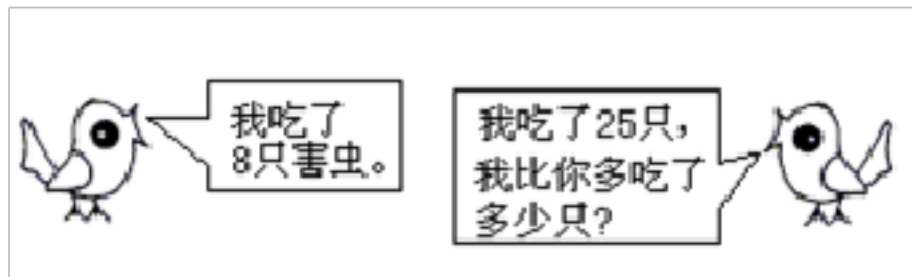


# 小学一年级下册数学应用题 100 道

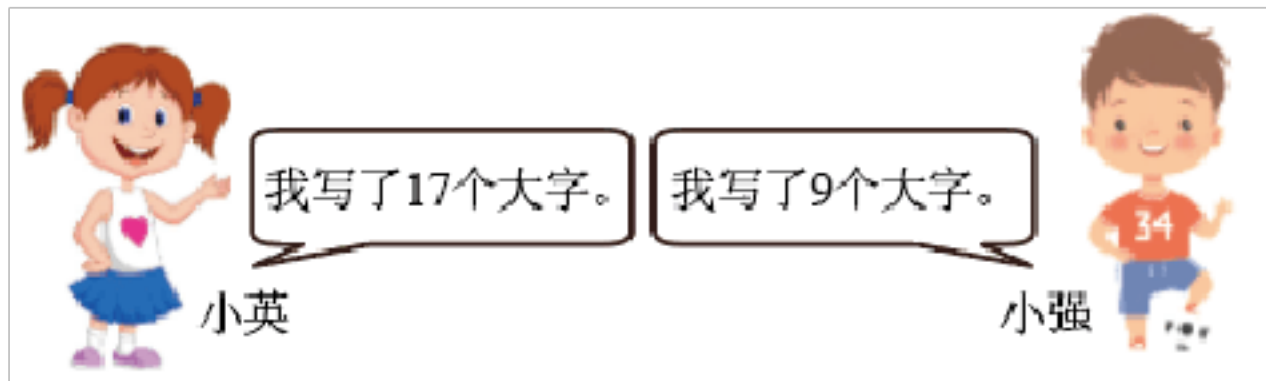
一. 解答题(共 100 题, 共 531 分)

1. 看图解答:



2. 一本 12 页的画册, 妹妹看了 7 页, 还有多少也没看?

3. 小英比小强多写了几个大字?



$$\square \bigcirc \square = \square \quad ( \quad )$$

答: 小英比小强多写了 ( ) 个大字。

4. 4 个大人带 13 个小朋友去公园玩, 小男孩儿有 7 人, 小女孩儿有几人?

5. 鱼缸里有 13 条金鱼, 黑的有 7 条, 红的有多少条?

6. 小红叠了 17 只纸鹤, 小明叠了 9 只纸鹤, 小红比小明多叠几只?

7. 小文和小东比踢毽子, 小文踢了 18 下, 小东踢了 9 下。

(1) 小文比小东多踢了多少下?

(2) 小东比小文少踢了多少下?

8. 原来草地上有 12 只兔子，现在还有 3 只，跑了几只？



9. 学校有 10 个足球，16 个篮球，足球比篮球少多少个？

10. 妈妈今年 35 岁，小明今年 10 岁，小明比妈妈小多少岁？

11. 货车比客车多多少辆？



12. 松鼠妈妈采了 20 个松果，小松鼠吃了 8 个，还剩几个？

13. 图书馆里有 15 本《数学故事》，借走了 8 本。还剩多少本？

14. 河里有 15 只船，划走了一些，还剩 9 只，划走了几只？

15. 有 24 条红金鱼、10 条黑金鱼和 6 条黄金鱼。再放多少条黄金鱼，就和红金鱼同样多？

16. 妈妈买回来 16 个梨，比桃多 7 个，桃有多少个？

17. 我从图书馆借了 18 本故事书和 12 本漫画书，还了 9 本漫画书，还有几本漫画书没有还？


18. 大海和小河收集邮票，大海收集了 12 张，小河再收集 3 张就与大海一样多。小河收集了多少张？

19. 小天有了多少本书？



$$\square \bigcirc \square = \square \text{ (本)}$$

20. 圈一圈，估一估，数一数。

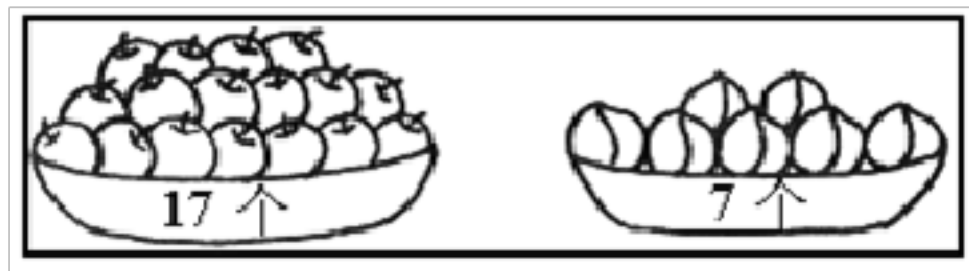


(1) 估计大约有\_\_\_\_\_只小鸡。

(2) 圈一圈，圈了\_\_\_\_\_个十，还多\_\_\_\_\_只，一共是\_\_\_\_\_只。

21. 小军要买一本书，要付 4 元 5 角钱，他只有 4 元，还差多少钱？

22. 比一比。



两种水果相差多少个？

$$\underline{\quad} - \underline{\quad} = \underline{\quad} \text{ ( } \underline{\quad} \text{ )}$$

23. 草地上原有 10 只小白兔，跑了 3 只，又来了 2 只。草地上现在有多少只小白兔？

24. 作业一共要写 16 页，小明写了 7 页，请问他还需要写多少页？  
25. 小明比小红少折多少只纸鹤？



26. 一支铅笔 1 元 2 角，一个橡皮 5 角 2 分，买一支铅笔和一个橡皮需要多少钱？  
27. 丽丽家里来客人了，妈妈拿出 12 个碗，9 双筷子。勤快的丽丽帮妈妈摆放这些碗筷，一个碗上放一双筷子，还差多少双筷子？  
28. 每人套中两个玩具，小红得了 28 分，小刚得了 30 分。



(1) 小红可能套中了哪两个玩具？

(2) 小刚可能套中了哪两个玩具？

29. 有红金鱼和黄金鱼共 25 条，其中红金鱼有 9 条，黄金鱼有多少条？

30. 花花带了 56 元钱买了一个 ，用去 20 元，应找回多少元？

31. 解答题。



(1) 一辆小汽车和一个羽毛球一共多少钱？

(2) 一支铅笔和一个布娃娃一共多少钱？

(3) 一辆小汽车比一支铅笔贵多少钱？

(4) 你还能提出其他数学问题并解答吗？

32. 有一筐苹果，吃了 5 个，还剩 48 个，原来有多少个苹果？

33. 小小商店。




(1)  比  贵多少钱？

$$\square \circ \square = \square (\quad)$$

(2) 小红买了一件商品，付了 50 元，找回 2 元，她买的是哪一件？先算一算，再在图上把这件商品圈出来。

$$\square \circ \square = \square (\quad)$$

34. 拔萝卜。



拔了 7 根

拔了 6 根

(1) 两只小兔一共拔了多少根？

(2) 他们吃了 8 根，还剩多少根？

35.



(1) 小光比小明大几岁？

(2) 小光比小丽大几岁？

36. 窝里有 13 只鸽子，飞走了 9 支，请问还剩下多少只？

37. 小明家养的家禽。

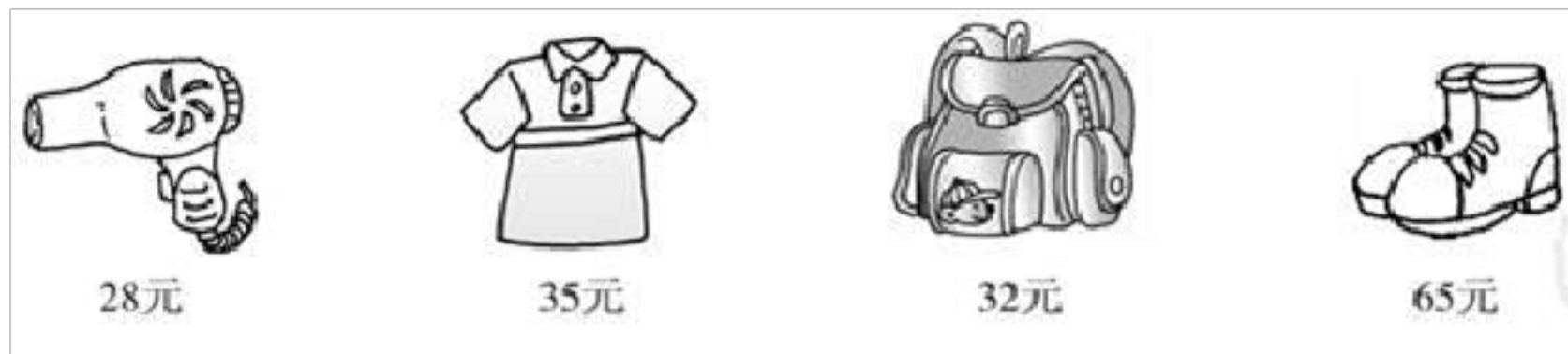
	鸡	鸭	鹅
只数	45	20	30

(1) 鸭比鹅少多少只？

(2) 鸡比鸭多多少只？

38. 大生有 23 个气球，里面有 8 个红气球，其余的是黄气球，黄气球有多少个？

39. 逛商场。



(1) 买一件 T 恤付 2 张 20 元，应找回多少元？

(2) 买哪两样物品正好用 100 元？

(3) 请你再提出一个数学问题并解答。

40. 操场上跳绳的有 15 人，踢足球的有 7 人，打篮球的有 9 人。

(1) 打篮球和踢足球的一共有多少人？

(2) 跳绳的女生有 6 人，男生有多少人？

41. 图书馆有 13 本《数学大王》，已经借走了 5 本。还有多少本？  
 42. 张伟去“六元快餐店”吃午饭，依据规定：个人自选饭菜，但必须正好 6 元。他有哪些选择呢？

菜单：

鱼：4 元          大排：3 元          蛋：2 元          青菜：2 元

茄子：2 元          汤：1 元          饭：1 元          面条：3 元

43. “六一”儿童节大家一起开展庆祝活动，有 30 名学生和 4 名老师，每人发一个橘子。40 个橘子够吗？

44. 东东拍了几下？



$$\square \circ \square = \square \quad ( \quad )$$

45. 果园里有 68 筐苹果，运走了一些，还剩 20 筐。运走了多少筐？  
 46. 请提出问题，并解答。



47. 停车场原来有 17 辆汽车，现在只有 9 辆，开走了几辆？

48. 一年级三班有男生 30 人，女生和男生的人数相同，这个班一共有多少人？

49. 在回收废电池的活动中，小青带来 18 节电池，小云比小青多带 5 节，小云带来几节废电池？





50. 小红看了 60 页书，还有 30 页没有看，这本书一共有多少页？

51. 箱子里有 24 瓶矿泉水。还剩下多少瓶？



$$\square \circ \square \circ \square = \square \text{ (瓶)}$$

52. 阿姨拿了 16 个 ，分给小朋友 8 个，阿姨还剩多少个 ？

53. 一年级有 52 名同学，准备乘两辆车去公园，一辆车已经坐上了 30 名同学，另一辆车要坐多少人？

54. 17 个小朋友在玩老鹰捉小鸡游戏，有 9 只小鸡被捉，还剩多少只？

55. 丽丽和明明一起剪纸花比赛，丽丽剪了 38 朵，明明剪了 20 朵，丽丽比明明多剪了几朵纸花？

$$\square \circ \square = \square \text{ ( )}$$

答：丽丽比明明多剪了 ( ) 朵纸花。

56. 学校体育室有足球 21 个，一年级借走 8 个，还剩下多少个足球没被借走？

57. 果园里有苹果树 86 棵，梨树比苹果树少 7 棵。梨树有多少棵？

58. 下雪了，一共有 15 人参加了堆雪人活动。



(1) 女生有 9 人，男生有多少人？

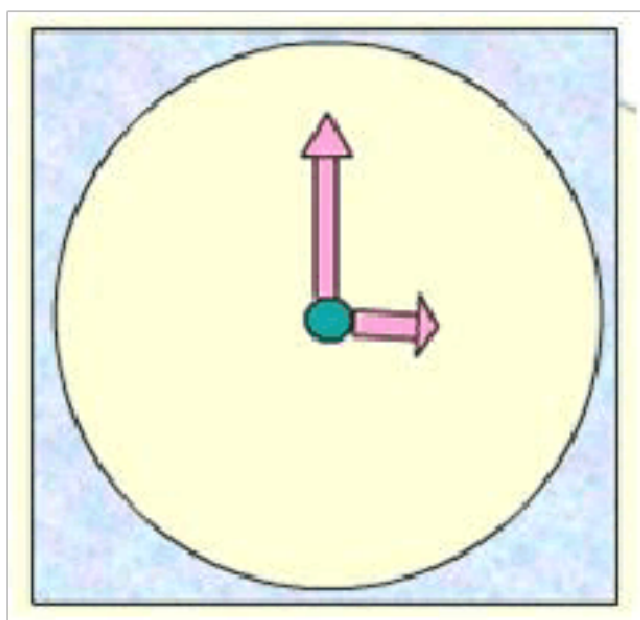
(2) 右边有 8 人，左边有多少人？

59. 王老师买故事书用去 5 元钱，买科技书用去 3 元 2 角，他付给营业员 10 元。

(1) 王老师一共用去多少钱？

(2) 应找回多少钱？

60. 数一数，闹钟里有哪些图形？



61. 商店运来 80 袋奶糖，上午卖了 24 袋，下午卖了 9 袋，一天一共卖了多少袋奶糖？

62. 妈妈买来 11 个苹果，吃了一些后，还剩 5 个，吃了多少个？

63. 看图列式解答。

以上内容仅为本文档的试下载部分，为可阅读页数的一半内容。如要下载或阅读全文，请访问：<https://d.book118.com/468116075106007002>