


【备考 2023 年】山东省临沂市公务员省考 行政职业能力测验真题(含答案)

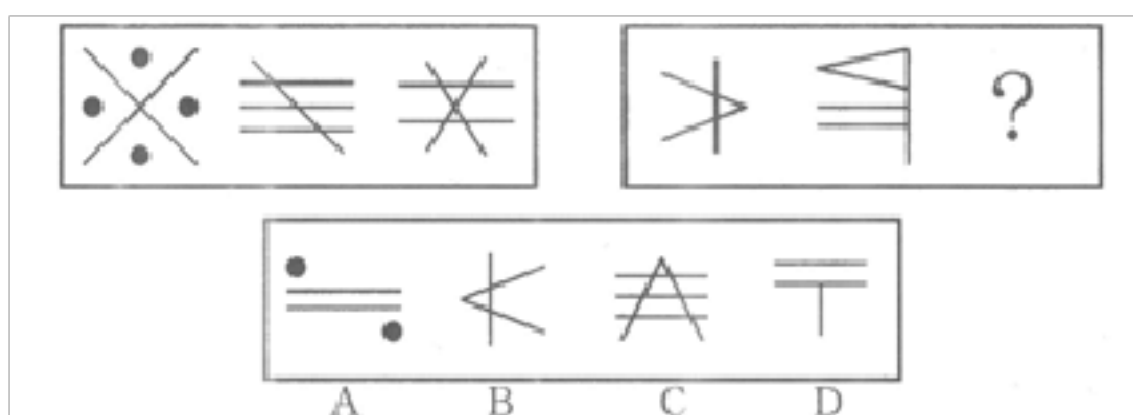
学校:_____ 班级:_____ 姓名:_____ 考号:_____

一、图形推理(6题)

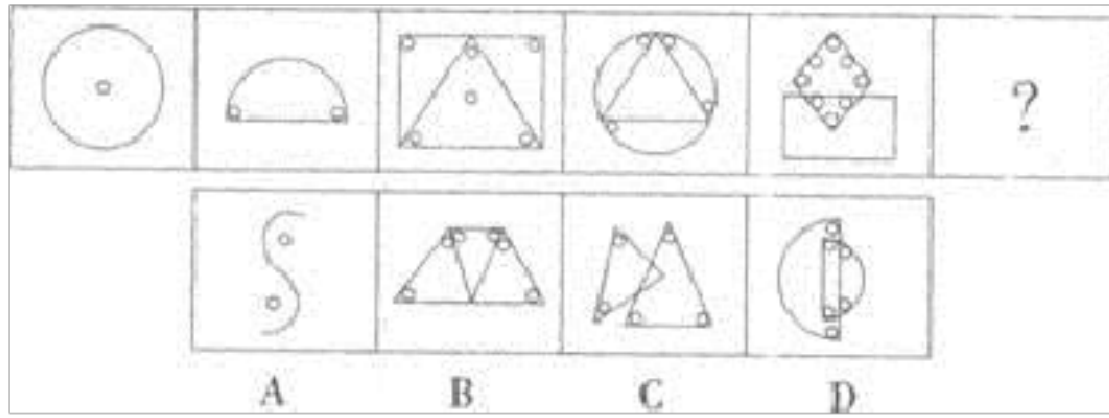
1.从所给的四个选项中,选择最合适的一个填入问号处,使之呈现一定的规律性:



2.从所给的四个选项中,选择最合适的一个填入问号处,使之与左边一组呈现相同的规律性。



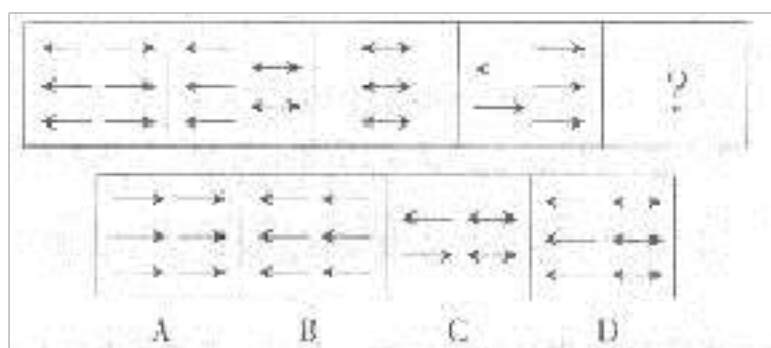
3.从所给的四个选项中,选择最合适的一个填入问号处,使之呈现一定的规律性.



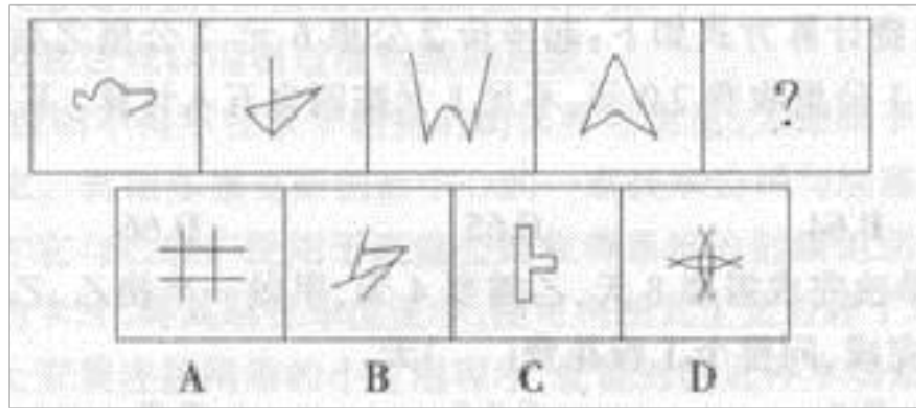
4.

一立方体如图所示从中挖掉一个圆柱体，然后从任意面剖开，下面哪一项不可能是该立方体的截面？

5.从所给的四个选项中，选择最合适的一个填入问号处，使之呈现一定的规律性：



6.从所给的四个选项中，选择最合适的一个填入问号处，使之呈现一定的规律性。



二、定义判断(10题)

7.

议付单证是指生成所有收款时所需的单据，并可同时记录佣金的支付情况与各项费用，方便成本核算。

根据上述定义，下列不属于议付单证的一项是：

- A.用以结汇的金融单证，如商业汇票
- B.表明货已发运的单证，如提单、装船通知等
- C.用以记录商店每天营业额的电子账单
- D.表明货物已保险的单证，如保险单、凭证等

8. 赞助营销是指企业通过资助某些公益性、慈善性、娱乐性、大众性、服务性的社会活动和文化活动来开展宣传，塑造企业形象和品牌，实现广告的目的，从而促进产品的销售。

以下属于赞助营销的是（ ）。

- A.某汽车生产厂家开展爱心帮扶活动，给贫困山区儿童送去生活学习物品
- B.某学校体育馆由某位著名慈善家捐助而建，体育馆以慈善家名字命名

- C.某企业投资开设内部报社，开辟专栏，积极宣传企业爱心文化
- D.某公司连续多年与教育部、信息产业部合作，开展以公司冠名的全国大学生电子设计竞赛

9.

能力的补偿是指同一个体的不同能力之间或组织内部成员之间能力的相互替代或补偿作用，从而保持或维持活动的正常进行。其中辐射补偿是指优势能力有效地加强了各种能力之间的相互联系或带动其它能力同时提高的现象。放大补偿是指优势能力的高度发展，有效地弥补某些薄弱能力的现象。

根据上述定义，下列各项中应用了辐射补偿的是()

- A.甲国足球队7号球员奔跑速度快，盘带技术强，在他的带动下，本方多次突破对方防线，射门得分
- B.乙国篮球运动员在体能上存在不足，但是他们凭借“魔鬼训练”弥补了身体条件上的不足。创造了奥运会三连冠的佳绩
- C.丙国跳水队中一位小将技术全面，实力较强，但由于临场经验不足，有时会发挥失常。因此教练安排他参加团体比赛，第二个出场
- D.丁国乒乓球运动员的进攻实力是世界一流的，但是防守能力相对较弱，在多次世界大赛中他们依靠强大的进攻使对手疲于防守，从而取得胜利

10.

决策民主化是指将民主机制引入决策过程，使决策方案经过充分的协商、论证后，再由决策机构集体审议作出决定的一种制度安排。

根据上述定义，下列事项没有体现决策民主化的一项是：

- A.某村兴办水利，通过“一事一议”筹资筹劳
- B.某市就地铁票价调整举行听证会
- C.某企业在职工代表大会召开之前，分别向广大职工发出了为职代会总经理工作报告和厂长工作报告建言献策的倡议书
- D.为防止突击购车甚至突击购车屯牌，某市紧急宣布实施“限牌令”

11.

结构性流动指的是因生产技术或者社会结构方面的变革引起的社会集团、社会阶层和人口性质与分布的大规模变化，往往不以个人意志为转移。根据上述定义，下列哪项不属于结构性流动？

- A.随着东部沿海经济的迅速发展，中西部人口大量东移
- B.由于国内发生军事政变，某国公民近期大量涌入邻国
- C.不满一线城市生活质量下降，人才纷纷向二三线城市回流
- D.城市化表现为乡村人口向城市的转移以及城市的不断发展、完善

12. 精神贿赂，是指期望通过阿谀奉承，博得领导青睐，或是谋取私利。

“明枪易躲，暗箭难防”，领导干部在物质贿赂前多能收住手脚，却往往因为疏忽，跌进“精神贿赂”的陷阱。

根据定义，下列不属于精神贿赂的是（ ）

- A.某建委官员为官公正清廉，自诩海瑞、包拯，一开发商为其出版一本个人传记，官员大喜，力排众议将政府大楼的开发项目承包给此开发商
- B.机关家属小区里，科长小马和王局长同住一楼，经常去王局长家串门，

总和局长聊局长年轻时的成绩，一聊就是几个小时，局长甚感欣慰

C.刘处长是单位里有名的“红学迷”，小秦自称也很喜欢《红楼梦》，经常去刘处长那里讨教，最后拜刘处长为师，自此在工作上刘处长处处照顾她

D.李厅长和小刘的妈妈是老同学，两家经常来往，李厅长是看着小刘长大的，现在小刘进入了李厅长所在单位工作。李厅长马上把他定成了重点培养对象

13.员工沉默是一种员工对组织中潜在问题保留个人观点的组织文化现象。基于员工动机的不同，可分为三类：默许性沉默、漠视性沉默和人际恐惧沉默。其中，默许性沉默是指员工预期自己没有能力改变现状而被动、消极地保留观点；漠视性沉默是指员工由于对组织低水平的承诺而消极保留观点；人际恐惧沉默是员工为了避免发表意见而产生人际隔阂。

根据上述定义，下列属于默许性沉默的是：

A.甲大学毕业后进入某公司，抱着多一事不如少一事的态度，对有些员工考勤违规的现象视而不见

B.乙在某公司受到排挤，虽然明知自己正在做的一个项目极有可能亏本，却从未想过将这件事上报领导

C.某公司打算出版新的考研图书，丙经过市场调查后认为考研市场已基本饱和，但在新书研讨会上丙并未发表意见

D.丁是某公司财务人员，发现公司股东王某擅自挪用公款买房投资，在

王某的威胁下丁假装并不知道此事

14. 零和博弈又被称为零和游戏，是博弈论的一个概念，指参与博弈的各方，在严格竞争下，一方的收益必然意味着另一方的损失，博弈各方的收益和损失相加总和永远为零，胜利者的光荣后面往往隐藏着失败者的辛酸和苦涩。

根据上述定义，下列不属于零和博弈的是（ ）。

- A.在国际象棋比赛中，一方吃掉的棋子正好是另一方输掉的棋子
- B.租房者通过中介租房子必须支付一定的中介费
- C.两个属于不同领域的公司通力合作，都获取了各自满意的利益
- D.能量既不会凭空产生，也不会凭空消失，只会从一种形式转化为另一种形式，或者从一个物体转移到另一个物体，在转化和转移的过程中，能量的总量保持不变

15.沟通障碍，是指信息在传递和交换过程中，由于信息意图受到干扰或误解，而导致沟通失真的现象。

根据上述定义，下列最不存在沟通障碍的一项是：

- A.父子两代人之间关于理想的对话
- B.西方人与东方人之间关于价值观的对话
- C.中国人与日本人之间关于中日战争的对话
- D.残疾人与正常人之间关于奥运精神的对话

16. 有一些植物需经过低温后才能开花并成长结实。通过低温诱导促使植物开花结实的作用称为春化作用。有些花卉需要低温条件才能促进花芽形成和花器发育，这一过程叫做春化阶段，而使花卉通过春化阶段的这种低温刺激和处理过程则叫做春化作用。

根据上述定义，下列未利用春化作用原理的是（ ）。

A.来自温带地区的耐寒花卉，较长的冬季和适度严寒能更好地满足其春化阶段对低温的要求

B.通过使用赤霉素，二年生甜菜、萝卜、大白菜等不经低温处理就可以开花

C.冬性草本植物(如冬小麦)一般于秋季萌发，经过一段营养生长后度过寒冬，于第二年夏初开花结实

D.把刚刚发芽的冬性禾谷类种子在播种之前用 -5°C 冷冻一定天数，则不论何时播种，均能正常拔节

三、常识判断(10题)

17.

某甲 17 周岁，已参加工作，有固定收入，某日因某甲在街上寻衅滋事，将某乙打伤，某乙要求赔偿医药费，对此下列表述哪些不正确？（ ）

A.某甲的父母必须承担赔偿医药费的义务

B.某甲的父母无须承担赔偿医药费的义务

C.某甲的父母可以选择是否替某甲赔偿医药费

D.某甲的父母如赔偿了医药费，则对某甲有追偿权

18.

建设有中国特色社会主义文化的根本是：

- A.促进人的全面发展 B.提高人的道德素质 C.提高全民族的科学文化水平 D.在全社会形成共同理想和精神支柱

19.第 84 题 WTO 规则对我国行政发展产生直接影响的途径包括（ ）。

- A. 通过修订法律法规和改革行政审批制度的途径产生影响
B. 通过保护知识产权的途径产生影响
C. 通过限制政府权力的途径产生影响
D. 通过改变权力结构的途径产生影响

20.下列说法中正确的一项是（ ）。

- A.日光灯通过电流加热钨丝产生热量，继而产生光辐射来发光
B.数码相机利用电子传感器技术，与普通相机记录图像的原理基本相同
C.等离子电视显示采用荧光粉显示屏幕，因而明亮度高于液晶电视
D.激光打印机是把射到感光器的图像转印到打印板(或复印纸)上，其原理与复印机不同

21. 根据我国宪法的规定，下列机关中（ ）有权制定行政法规。

- A.全国人大常委会 B.省级人大 C.省级人民政府 D.国务院

22.水泥标号是指标准水泥砂浆试块在标准条件下养护（ ）时达到的抗压强度。

- A.28 天 B.30 天 C.15 天 D.10 天

刷技术印刷该书，不可能做到的是（ ）。

B.彩色印刷技术 C.使用质地细薄的纸 D.用机器印刷

24.从人们对社会关系的调整的发展过程来看，“当事人采用合同书形式订立合同的，自双方当事人签字或者盖章时合同成立。”这一法律规定所体现的是（ ）。

- A. 法的个别性调整
- B. 法的规范性调整
- C. 法的习惯性调整
- D. 法的临时性调整

25.第 66 题 牛奶营养丰富，容易消化吸收，而且物美价廉、食用方便，是“最接近完美”的食品，被人们称为“白色血液”，是最理想的天然食品。

下列各类食品中，除哪一种外，都不宜与牛奶共同食用？（ ）

- A.橘子
- B.果汁
- C.巧克力
- D.海鲜

26.第 111 题 极光是划过南北两极地区上空的耀眼的光象，在极地地区居住的爱斯基摩人曾经以为极光是鬼神引导死者灵魂上天堂的火炬，而事实上极光是（ ）。

- A.格陵兰冰原反射的光

C.太阳光经过大气层的折射后形成的五彩光芒

D.是邻近南北极地区的城市灯光的幻象

(10题)

27.

第 24 题 某种型号的手机由于进货价降了 10% ,使得利润率提高了 18% ,
那么, 原来经销手机的利润率是多少? ()

- A. 62%
- B. 80%
- C. 40%
- D. 28%

28.第 120 题 商店新进一批洗衣机,按 30% 的利润定价,售出 60% 以后,
打八折出售, 这批洗衣机实际利润的百分数是多少?

- A. 18.4
- B. 19.2
- C. 19.6
- D. 20

29. $-15, -3, (), 15, 21, 25$ 。

- A. 1
- B. 4
- C. 6
- D. 7

以上内容仅为本文档的试下载部分，为可阅读页数的一半内容。如要下载或阅读全文，请访问：<https://d.book118.com/477102062152006156>