

2021 年山东公务员考试行测真题及答案解析

第一局部 言语理解与表达

1、美妙的记忆，相信没有人舍得删除。从有利于人们身心安康的方向出发，科学家对于删除记忆的研究，从使人_____ 痛苦开场。

填入画横线局部最恰当的一项为哪一项：

2、解决当今人类遭遇的各种难题和危机，单靠一种文明价值的智慧和能量，常常显得_____ 。只有充分挖掘和利用各种不同禀性的文明价值资源，才能帮助人类破解难题、走出危机。

填入画横线局部最恰当的一项为哪一项：

3、只要观察一下语言的变迁史，就会发现，语言体系一直具有强悍的自我_____ 机制，会以一种温和的集体_____ 形式，淘汰那些失效的语词。这意味着语言会利用时间效应来进展自我挑选和自我净化，只有数量很少的新语词可以穿越这种“时间筛子”，成为上一历史时段的“舌尖遗产”。

依次填入画横线局部最恰当的一项为哪一项：

A.更新 清洁

B.完善 舍弃

C.过滤 遗忘

D.修正 扫除

4、从一开场，网络的开拓者们就相信：假如互联网要变成一个全球化的体系，一个开放、合作和透明的管理形式是_____的。而这种形式基于自愿采纳原那么，因为分享是它最大的_____。

依次填入画横线局部最恰当的一项为哪一项：

A.必不可少 回报

B.与生俱来 亮点

C.不可或缺 创新

D.事半功倍 动力

5、不可否认，_____的阻隔，是阻碍情感交流的一个重要原因。但无论是语音聊天，还是视频通讯，其_____便是不断缩短空间的间隔。我们或许无法做到“父母在，不远游”，但至少可以多跟家人分享一下自己的喜怒哀乐，让父母在亲情的喃语中得到心灵的慰藉。

依次填入画横线局部最恰当的一项为哪一项：

A.时空 意义

B.地域 初衷

C.环境 作用

D.信息 目的

6、在很长的一个时期内，南极洲对人们来说是一个_____的地方，古代和中世纪的地

理学家，往往把南极周围画成一片无边无际的海洋，或者画成一个环形的海岛。从16世纪起，在几乎所有的地图上都画着南极的土地，但地理学家都是凭着自己的_____画出来的，因为谁也没有见过这块土地。

依次填入画横线局部最恰当的一项为哪一项：

- A. 广阔无垠 经历
- B. 神秘莫测 理解
- C. 人迹罕至 推理
- D. 一无所知 想象

7、我们这一辈人所享受到的现代生活，就像一座越来越豪华、先进、舒适的大厦。生活在这样一座大厦中，不能只是_____。每个人不管这一辈子有多长，也不管才能大还是才能小，总要多多少少为这座大厦的开展和完善 _____，多多少少为这个世界留下点什么。

依次填入画横线局部最恰当的一项为哪一项：

- A. 坐享其成 添砖加瓦
- B. 好逸恶劳 出谋划策
- C. 得过且过 竭尽全力
- D. 拈轻怕重 精益求精

8、说德语的人方向感和次序感更强，说英语的人那么更重视动作本身。根据英国最新研究结果，不同语言语法上的_____会显著影响到以其为母语的人的认知才能。纯熟掌握一门外语，能使人在_____中获得认知才能的扩展。

依次填入画横线局部最恰当的一项为哪一项：

- A. 差异 潜移默化
- B. 特点 耳濡目染

C. 比照 日积月累

D. 区别 不知不觉

9、在娱乐方式多元化的今天，“_____”是不少人（特别是中青年群体）对待戏曲的态度。这里面固然存在_____的偏见、难以静下心来欣赏戏曲之美等因素，却也有另一个无法回避的原因：一些戏曲虽然与观众之间没有屏幕之隔，却用艺术化的表演，讲述着与观众间隔较远的生活。

依次填入画横线局部最恰当的一项为哪一项：

A. 望洋兴叹 我行我素

B. 望而生畏 一叶障目

C. 敬而远之 先入为主

D. 知难而退 固步自封

10、晚明江南的富裕，提供了附庸风雅的环境与条件，使得饮茶风气引发了名牌效应。先是苏州虎丘茶风行，然后有大方和尚以虎丘制茶法在徽州松萝山制茶，造就了明末_____的松萝茶。一旦成了名牌，人们追求时尚，_____，商家就有了商机，争相仿制，价格也直线上升。

依次填入画横线局部最恰当的一项为哪一项：

A. 如雷贯耳 一掷千金

B. 出名遐尔 如影随形

C. 声名鹊起 趋之假说鹜

D. 风行一时 蜂拥而至

11、长期处于草根状态的民间文化，大多难有连续性的书面记载。“非遗”申报的制度化要求，使申报本身成为步履维艰、绞尽脑汁的过程。最终，可能表格填得工工整整，视频

也做得精巧绝伦，但在一定程度上，却是将本来活态的文化形式化的过程。如此，便失去了申报“非遗”最初的意义与目的。

这段文字意在强调：

B. “非遗”申报制度与民间文化的特点不相适应

“非遗”时遇到了极大的阻力

12、_____。在中国，新经济大多属于行政管理的范畴，在企业的准入、监管乃至人事制度领域，均存在不少过去体制遗留的障碍。应尽快推出负面清单，为新经济松绑。在旧经济保持增量的同时，通过新经济提质。将来，高科技产业和高附加值的现代效劳业，将是中国的新引擎。与过往靠根底设施投资和制造业拉动经济增长的形式相比，政府调控与监管的观念、体制均需转变。过去那种把持行政审批来大上工程的做法，显然是行不通了。

填入画横线局部最恰当的一项为哪一项：

C. 要开展经济，需要厘清市场与政府的边界

D. 新经济是否能开展，取决于新技术能否及时补位

13、无论出于什么原因，网络语言低俗化都对网络文明建立造成了危害，甚至会从网上转到网下，降低整个社会的文明程度。当前，网络语言的开展途径已经很明晰：从虚拟空间进入口语表达，再进入书面语，最终有可能沉淀到语言应用的各个方面。假如任由网络低俗语言开展，久而久之它们就会成为约定俗成的惯用语，其负面效应不容无视。

这段文字意在说明：

14、研究者对大熊猫肠道内的微生物进展分析后发现，虽然本来食肉的熊猫为了适应食物稀缺的环境而在距今 240 万到 200 万年间转为以竹子为食，并为此进化出了强壮的颌骨，但它们却没有进化出更长的消化道或分泌特定消化酶的才能，从而无法有效地分解竹纤维素。

最合适做这段文字标题的是：

15、必读的书目都是被规定的经典，学生没有相对自由的选择权，而学生的爱好倾向、阅读才能各有不同，对于经典书目的阅读水准也千差万别。以作业形式出现的阅读要求，过多地讲究对段意的概括、人物的分析、读后的感想。这些阅读技法实那么困囿了学生的视野，不仅徒增负担的同时，也降低了他们的兴趣。殊不知，“_____”，通过阅读要教会学生的不单是阅读的技法，更重要的是帮助他们培养一种洞察、鉴赏和运用的才能。

填入画横线局部最恰当的一项为哪一项：

- A. 授人以鱼，不如授人以渔
- B. 欲速那么不达，见小利那么大事不成
- C. 形而上那么谓之道，形而下者谓之器
- D. 知之者不如好之者，好之者不如乐之者

16、近年来跨境电商以左右的增速在持续高速开展，但进口商品增值税等税收占全国总税收比重却持续下降，2021 年进口商品税收比 2021 年下降了近 2000 亿元。进口商品税收不仅未能伴随跨境电商的开展而同步增长，反而出现了较大幅度的下降。跨境电商税收新政有助于促进跨境电商与一般贸易税收体制的接轨，也有助于形成相关税收正常的增长机制。

这段文字意在说明：

17、农村衰败，故土消失，这是近些年媒体人提出的议题。学者的观察，时评人的关注，使得正在发生巨变的农村，被搬入言论平台的焦点地带，农村话题时常与娱乐话题一起，成为社交媒体上的热搜词。但在这个长达十年的农村话题讨论期内，作家是缺席的。虽然有一种观点认为，作家面向社会发言最好的方式是作品，但也有不少人认为，作家不能仅仅通过写作虚构作品担当社会责任，巴尔扎克、雨果、托尔斯泰等国外作家，往往会通过行动以及公开演讲等方式，对公共事务和社会问题发表意见。

最合适做本段文字标题的是：

18、在历史上，文字有被神圣化的倾向，制度化教育根本上以抄本、刻本和印本上所记载的知识为核心。而民众在千百年间形成的口耳相传的知识，长期得不到应有的关注。在今天的教育制度和知识体系中，虽然有民俗学、文化人类学等关注民众知识和文化的学科，但总体而言，这种倾向一直没有得到有效矫正。从 20 世纪中叶开场，越来越多的学者意识

到，以往侧重书面文化、轻视口头传承的倾向，给整体把握人类文明进程和知识体系带来了诸多弊端和限制。这种认识上的转变，形成了人文学术的某些新趋向和新领域，如“口述历史”“口头诗学”等。

这段文字意在说明：

19、在亚当·斯密所处的古典时期，经济学本来在财富增长和人的幸福之间存在一个契合点的，即理性人趋利避害的自利性选择有一个经济伦理的约束，这边是后来帕累托改良条件所要求的不损人前提下的利己。可是经济学本身承当的是最大化利益的学科任务，并且不断引入数学工具和抽象逻辑演绎的分析方法，这就使经济学越来越成为一个工具理性占上风的学科，朝着“中性”的、“非价值”判断的、“非道德”选择的趋势开展。

根据这段文字，我们可以知道：

C. 亚当·斯密时期，经济学是一门以工具理性为主的学科

20、世人所理解的国学，大都是“中国固有的或传统的学术文化”。而晚清以降的中国文化，因其承受了西学的洗礼，很容易被剔除出去。这也是很多大学的国学院在确定研究对象时，将边界划到辛亥革命的缘故。这么一来，国学也就成了“博物馆文化”——很优雅，也很美丽，但与现实生活越来越远。如何让中国文化重新“血脉贯通”，是每一个关心国学命运的读书人都必须认真考虑的。

这段文字认为，国学研究应该：

21、长期以来，由于我国奉行防御性国防政策，在战区空间划设上根本立足外乡与近海防御，按照“守疆卫土”形式而建，军事触角很少延伸到疆土之外。但将来，我国所面临的开展危机将远远大于生存危机，要适应维护国家平安与开展利益新要求，应将周边、海外以及新型平安领域纳入战区经略范围，进一步拓展战区任务职能，使其更具外向性、开放性、积极性。尤其是随着多极化、全球化与信息化的飞速开展，国家传统平安领域开场向太空、网络、信息、电磁等领域拓展，将来战区经略范围应进一步向太空及临近空间拓展延伸，着力形成强而有力的多维立体战区空间态势。

这段文字意在说明，我国：

22、对于电影文化的保护，博物馆、档案馆、图书馆、音像资料和私人收藏馆都分担了局部保护职能，看似大家在争着保护电影文化遗产，实际上却反映出保护工作的碎片化趋势。每个机构保护一点点，机构之间缺乏沟通和交流，缺乏基于保护维度的统一管理。这种碎片化的保护是非常低效的，因为缺乏沟通必然导致搞不清保护对象的家底，致使一些保护对象就处于未保护状态。保护对象的分散大大增加了遗产合理利用的难度，保护的意义和价值就会大打折扣。

这段文字意在说明：

A. 保护主体的分散化，使电影保护工作困难重重

C. 没有统一的保护制度，电影文化遗产难以传承

23、大数据时代的到来已经毋庸置疑。在这种情况下，数据成为一种无形的资源，但很少有人知道如何将这种资产“变现”。对于一个普通的企业而言，企业不仅拥有珍贵的客户数据，同样也拥有供给商数据以及内部财务、设计、制造、管理等数据，而在过去的数十年间，许多中国企业都已经一步步完成信息化应用，各种信息化工具正在将企业的运营数据化。但少有企业真正从纷繁复杂的数据中获取更多有价值的信息，数据成为一种资产，这在很长一段时期内其实只是停留在了外表。

这段文字意在说明：

24、①大约 10 年前，科学家对生物炭产生了兴趣

②但这项技术渐渐被人遗忘，其他地方的农民那么没有使用生物炭的习惯

③如今，虽然这个想法已经渐渐淡出人们的视野，但土壤学家却开始探究将生物炭用于农业以治理污染

④尽管农民们最近才开始接触生物炭，但实际上生物炭有着悠久的历史

⑤千百年前，生活在亚马逊河流域的人们就通过加热有机物制造出了生物炭，并用它造就了被称为“亚马逊黑土”的肥沃土壤

⑥当时，人们开始关注全球变暖问题，一局部人期望可以用生物炭将大量碳元素封存在地下

将以上 6 个句子重新排列，语序正确的选项是：

A. ④⑤②①⑥③

B. ④③①⑤⑥②

C. ⑤①⑥④③②

D. ⑤⑥②①③④

25、①但这一技术并不是魔术，也不是漫画书作者的梦想，这是在对视频处理和图像的数学表现进展了根底研究后所得到的结果

②如今，“视频显微镜”让我们感觉自己就是一名探险家

③我们发现了一个全新的世界，在这个世界里，各种平时看不到的现象变得一目了然

④利用“视频显微镜”来观测那些看不见的微运动，感觉就像戴上了魔术眼镜或是突然获得了超人般的视觉

⑤这就像几个世纪前出现的第一部光学显微镜，它帮助人们识别出对安康和平安有威胁的因素

⑥我们在很早之前就已经知道了微运动的存在，但从未用双眼真正看到过，软件第一次为科学家展示了这些运动

将以上 6 个句子重新排列，语序正确的选项是：

A. ②③④①⑤⑥

B. ③②④⑤⑥①

C. ④①⑥⑤②③

D. ⑥①④③②⑤

26、①旧大陆的大西洋沿岸，漂浮的低气压风暴穿越墨西哥洋流的温暖水域，在西欧形成了比拟潮湿和温暖的气候

②接着，这又为原始人类和其他大型食肉动物提供了丰富的食物来源

③因此，植物生长茂盛，维持了北极圈以南地区大量食草动物的生存，比方猛犸象、驯鹿、野牛等

④大约 3 万年前，欧洲、亚洲北部和美洲的冰川开场融化

⑤触发人类历史的生态变化都与北半球大陆冰川最后一次消退有关

⑥在光秃秃的地表上，冻原和稀疏的森林首次生长出来

将以上 6 个句子重新排列，语序正确的选项是：

A. ①②⑤④⑥③

B. ④⑥①②③⑤

C. ⑤④⑥①③②

D. ⑥①③⑤④②

27、以往城市的规模取决于周围地区所能消费的粮食数量，因此，人口最稠密的城市都分布于流域地区，如尼罗河流域、新月沃地等。随着工业革命的开展和工厂体系的建立，大批的人涌入新的工业中心。新城市大量人口因为能从世界各地获得粮食而得到供养。技术和医学上的进步能充分供给干净的水、改善集中式排水系统和垃圾处理系统、保证充足的粮食供给以及预防和控制传染病，这些进步使城市生活变得更加舒适，世界各地的城市也因此开场以极快的速度开展。

这段文字主要说的是：

28、中国的古代城市都有城墙吗？在人们以往的印象中，古代的城市似乎必然有城墙，尤其是都城，高耸的城墙彰显着皇权的至高无上，城墙的失守往往意味着帝国的末日。明清北京城、元大都、北宋汴梁城、隋唐长安城与东都洛阳城……这些城内的里坊格局，外围的高大城郭，构成了帝国都城最鲜明的物化表征。

这段文字接下来最有可能讲的是：

29、“报刊的有机运动”是马克思提出的关于报刊报道新闻的过程理论，它被通俗地解释为新闻真实是一个动态的过程。很多时候，在事件发生初期，由于报道的不深化，没有充分的消息源，新闻传达给受众的信息往往是片面的，受众的判断也建立在这种片面的事实上。这正是新闻传播的一种特性，无论是受过专业训练的记者，还是如今活泼在各种社交平台的“公民记者”，都没有才能以“上帝视角”观察事件。而且，新闻报道不是给出最终结论的判决，而是对一个阶段所发生的新闻事实的描绘。

这段文字旨在强调：

D. 专业记者和公民记者都难以到达新闻真实？

30、目前新媒体的出版呈现出碎片化、标题化、娱乐化的趋势，内容杂乱，不成体系。

这既和新媒体的内容展现方式以及人们的浅阅读习惯有关，同时也是因为新媒体的海量内容要在很短时间内处理，编辑力量跟不上，顾不上精耕细作。一旦新媒体完毕跑马圈地阶段，腾出手来开场培养自己的编辑队伍，或高薪聘用传统出版业的编辑，那么，这种状况就会得到改观。

文中画横线局部“这种状况”指的是：

第二局部 常识判断

31. 关于我国的国家制度，以下说法错误的选项是：

- A 我国是人民民主专政的社会主义国家
- B 我国人民行使国家权利的机关是各级人民政府
- C 我国的国家机构实行民主集中制原那么
- D 我国经济制度的根底是全民所有制和劳动群众集体所有制

32. 关于我国巡回法庭，以下说法错误的选项是：

- A 巡回法庭作出的判决、裁定和决定，是最高人民法院的判决、裁定和决定
- B 最高人民法院设立巡回法庭是对我国二审终审制的变通规定
- C 巡回法庭的受案范围暂不包括最高人民检察院抗诉的案件
- D 巡回法庭根据审讯工作需要，可以在巡回区内接待来访

33. 某选区共有选民 1889 人，张某是候选人之一。在以下情况下，张某可以中选为该选区人大代表的是：

- A 参加投票的有 889 人，张某获选票 880 张
- B 参加投票的有 1770 人，张某获选票 1781 张
- C 参加投票的有 1881 人，张某获选票 697 张
- D 参加投票的有 1001 人，张某获选票 792 张

34. 赵某逛电器商场，准备购置一台豆浆机，其享有的权利不包括：

- A 人身、财产平安不受损害的权利
- B 选择购置何种品牌豆浆机的权利
- C 回绝保安因商场失窃而提出搜寻其背包的权利
- D 购置一台低价促销、有细微划痕的豆浆机，一个月后以商品存在瑕疵为由提出退款的权利

35. 小张与小刘系夫妻，婚后小张患精神病，完全丧失识别自己行为的才能，小刘准备离婚。以下说法符合法律规定的是：

- A 小刘是小张第一顺位法定监护人，但其不能在离婚诉讼中作为小张的诉讼代理人
- B 小张的父亲作为小张的诉讼代理人参加离婚诉讼后，可以根据小张与小刘感情破裂的实际情况，代替小张对是否同意离婚作出意思表示
- C 小张的父亲作为小张的诉讼代理人，假如不能到庭，法院不能判决准予离婚
- D 假如小刘愿意放弃全部夫妻共同财产，那么可以与小张协议离婚

36. 根据我国刑事诉讼法的规定，以下证据应当予以直接排除的是：

- A 采用刑讯逼供的方法搜集的犯罪嫌疑人的供述

B 搜集犯罪嫌疑人贪污所得现金不符合法定程序的

C 搜集合同诈骗罪涉案支票不符合法定程序，可能严重影响司法公正的

D 搜集盗窃自行车不符合法定程序，不会影响司法公正，但无法作出合理解释的

37. 关于国家的政治制度，以下说法错误的选项是：

A 日本、泰国是君主立宪制国家

B 德国、俄罗斯是联邦制国家

C 英国是典型的多党制国家

D 美国是典型的两党制国家

38. 与其他投资基金相比，以下哪项不是货币型基金的特点？

A 高流动性

B 风险性较高

C 收益率较低

D 投资费用低

“三国时期” “皇帝” “邨下文人集团” 这三种特征的历史人物是：

A 曹操

B 曹丕

C 刘邦

D 刘备

40. 关于这幅图中的人物，以下说法不正确的选项是：



- A 曾东渡日本传播佛法
- B 曾在古印度学习佛教圣典
- C 大雁塔用于安置他所带回的佛经
- D? 大唐西域记?是由其口述、弟子记录的游记

41. 沉积是自然界中一种重要的成岩过程，以下关于沉积的说法正确的选项是：

- A 在构成岩石圈的三大岩类中，沉积岩所占比例最大
- B 由于沉积过程中的压实作用，沉积岩的岩体内不存在孔隙
- C 在搬运过程中，当水动力减弱时，较重的碎屑会先沉积下来
- D 沉积物一旦稳定成岩，就不会再被剥蚀搬运

42. 以下关于极光的说法正确的选项是：

- A 多出如今高磁纬地区上空
- B 是地球所特有的现象
- C 是极昼、极夜现象产生的原因
- D 水汽、磁场和带电粒子是其产生的必要条件

43. 中国古代的姓、氏、名、字各有不同的意义。以下哪个人物的称谓是由姓和名构成的？

- A 鲁班
- B 屈原
- C 苏东坡
- D 辛弃疾

44. 关于诗句所描绘的节日，以下对应正确的选项是：

- ①东篱把酒黄昏后，有暗香盈袖
- ②雨中禁火空斋冷，江上流莺独坐听
- ③莫唱江南古调，怨抑难招，楚江沉魄

- A 元宵 清明 中秋
- B 重阳 寒食 端午
- C 中秋 寒食 端午
- D 元宵 清明 重阳

45. 秦时明月汉时关，万里长征人未还。但使龙城飞将在，不教胡马度阴山。”关于？出塞？这首诗，以下说法错误的选项是：

- A 我国的 800 毫米年等降水量线经过阴山山脉
- B “胡”是中国古代对北方和西方各少数民族的泛称
- C 作者被誉为“七绝圣手”
- D “飞将”指的是西汉名将李广

46.旅行者 2 号探测器于 1977 年 8 月 20 日在肯尼迪航天中心成功发射升空，近探过太阳系的四颗行星后，飞向了外太空。这四颗行星依次为：

- A 水星、金星、火星、天王星
- B 水星、金星、木星、天王星
- C 木星、土星、天王星、海王星
- D 木星、火星、天王星、海王星

47. 以下哪一事件不是发生在魏晋南北朝时期？

- A 七国之乱
- B 五胡乱华
- C 王与马共天下
- D 梁武帝捐躯佛寺

48. 关于历史上的“南北”，以下说法错误的选项是：

- A 禅宗自五祖弘忍之后分为南宗和北宗
- B 董其昌将唐代以来的山水画分为南、北两宗
- C “南洪北孔”指清代戏曲作家洪昇和孔尚任
- D 李煜是南北朝时期南朝的帝王

49. 以下哪组成语均属于谦辞？

- A 不吝赐教、班门弄斧
- B 抛砖引玉、望尘莫及

C 洗耳恭听、蓬荜生辉

D 高抬贵手、一孔之见

50. 关于地质年代与地层，以下说法错误的选项是：

A 当岩层之间有切割现象时，被切割的岩层比切割的岩层古老

B 发现大量三叶虫化石的岩层比发现大量鱼类化石的岩层古老

C 放射性同位素方法可用来测定岩层的形成年代

D 在全球范围内，形成于同一地质时期的岩层岩性都是一样的

第三局部 数量关系

51、小张的孩子出生的月份乘以 29，出生的日期乘以 24，所得的两个乘积加起来刚好等于 900。问孩子出生在哪一个季度？

52、小王和小刘两人分别从甲镇和乙镇同时出发，匀速相向而行，1 小时后他们在甲镇和乙镇之间的丙镇相遇，相遇后两人继续前进，小刘在小王到达乙镇之后 27 分钟到达甲镇，那么小王和小刘的速度之比为：

A. 5: 4

B. 6: 5

C. 3: 2

D. 4: 3

53、某零件加工厂采用计件工资。合格品每件 1 元，优良品每件 2 元，瑕疵品不得工资。当消费的优良品到达消费总数的 30% 时，可额外获得 400 元奖励。某工人消费了 3000 个零件，共获得计件工资 4000 元，请问该工人消费的零件中，合格品最多为多少个？

54、钢铁厂某年总产量的 $\frac{1}{6}$ 为型钢类， $\frac{1}{7}$ 为钢板类，钢管类的产量正好是型钢和钢板产量之差的 14 倍，而钢丝的产量正好是钢管和型钢产量之和的一半，而其它产品共为 3 万吨。问该钢铁厂当年的产量为多少万吨？

55、某部门从 8 名员工中选派 4 人参加培训，其中 2 人参加计算机培训，1 人参加英语培训，1 人参加财务培训，问不同的选法有多少种？

56、有 A、B 两家工厂分别建在河流的上游和下游，甲、乙两船分别从 A、B 港口出发前往两地中间的 C 港口。C 港与 A 厂的间隔 比其与 B 厂的间隔 远 10 公里。乙船出发后经过 4 小时到达 C 港，甲船在乙船出发后 1 小时出发，正好与乙船同时到达。两船在静水中的速度都是 32 公里/小时，问河水流速是多少公里/小时？

57、某蔬菜消费基地欲将一批西红柿运往 A 市销售，有火车和汽车两种运输方式可选。火车运费 15 元/公里；汽车运费 20 元/公里。火车的装箱费用比汽车高 1500 元，选择汽车将比选择火车的总费用高 600 元，问蔬菜消费基地距 A 市多少公里？


58、某统计部门对某地 1000 户居民的月均收入进展调查，调查结果如表所示。问以下关于被调查居民月均收入的算术平均数，表述正确的选项是：

月均收入区间 (X 元)	占比 (%)
$X < 2000$	20
$2000 \leq X < 4000$	25
$4000 \leq X < 7000$	54
$X \geq 7000$	1
合计	100

59、一副卡牌上面写着 1 到 10 的数字，甲和乙从中分别随机抽取三张牌，并比拟其中较大的两张牌的牌面之积，数字大的人获胜。甲先抽出三张牌，上面的数字分别是 2、6 和 8，问乙从剩下的牌中抽取三张牌的话，其胜过甲的概率：

- A. 高于 60%
- B. 在 50%~60% 之间
- C. 在 40%~50% 之间
- D. 低于 40%

60、某社区道路如以下图所示，社区民警早上 9 点整从 A. 处的办公室出发，以每分钟 50 米的速度对社区内每一条道路进展巡查（要求完好走过整个社区内的每一段道路），问他最早什么时候能完成任务返回办公室？



A. 9: 54

B. 9: 50

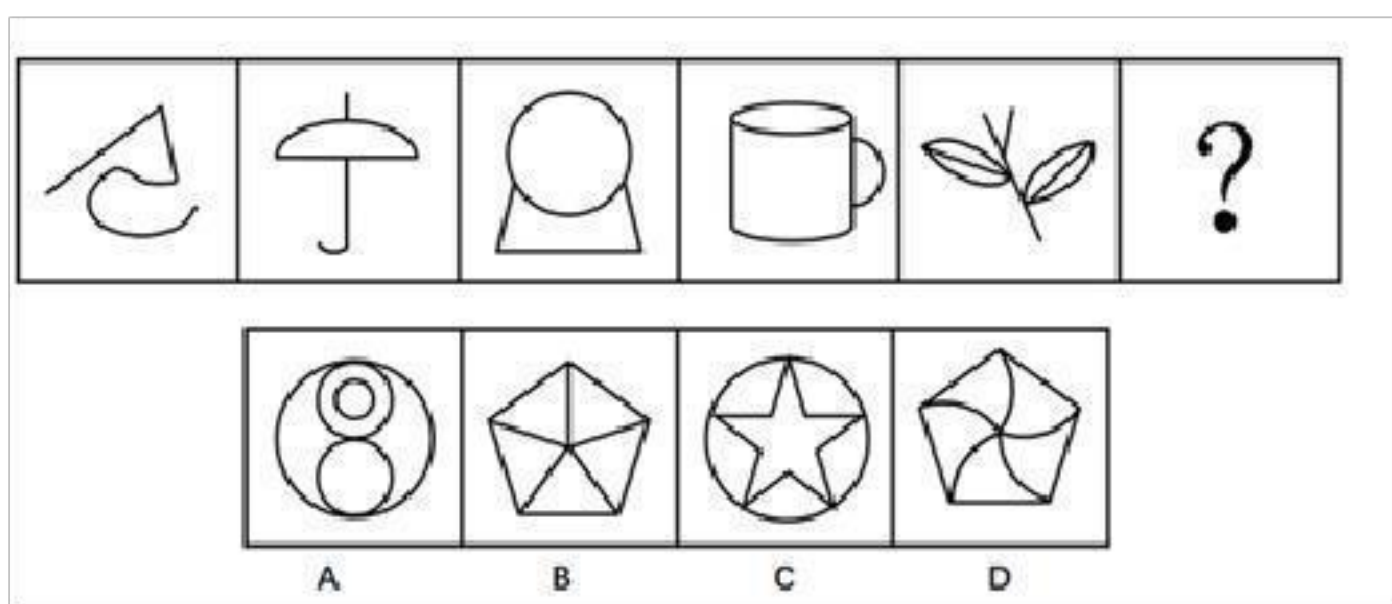
C. 9: 47

D. 10: 00


第四局部 判断推理

一、图形推理。


61. 从所给的四个选项中，选出最适宜的一个填入问号处，使之呈现一定的规律性。



62. 从所给的四个选项中，选出最适宜的一个填入问号处，使之呈现一定的规律性。



63. 从所给的四个选项中，选出最适宜的一个填入问号处，使之呈现一定的规律性。



64. 从所给的四个选项中，选出最适宜的一个填入问号处，使之呈现一定的规律性。

以上内容仅为本文档的试下载部分，为可阅读页数的一半内容。如要下载或阅读全文，请访问：<https://d.book118.com/478003133107006123>