

河南周口淮阳第一高级中学数学七年级上册整式的加减难点解析

考试时间：90 分钟；命题人：教研组

考生注意：

- 1、本卷分第 I 卷（选择题）和第 II 卷（非选择题）两部分，满分 100 分，考试时间 90 分钟
- 2、答卷前，考生务必用 0.5 毫米黑色签字笔将自己的姓名、班级填写在试卷规定位置上
- 3、答案必须写在试卷各个题目指定区域内相应的位置，如需改动，先划掉原来的答案，然后再写上新的答案；不准使用涂改液、胶带纸、修正带，不按以上要求作答的答案无效。

第 I 卷（选择题 20 分）

一、单选题（10 小题，每小题 2 分，共计 20 分）

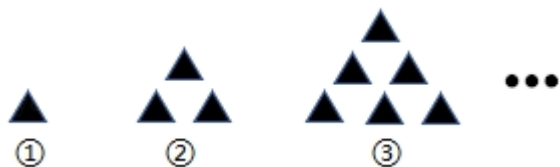
1、单项式 $2a^3b$ 的次数是（ ）

- A. 2 B. 3 C. 4 D. 5

2、对于有理数 a, b ，定义 $a \odot b = 2a - b$ ，则 $[(x+y) \odot (x-y)] \odot 3x$ 化简后得（ ）

- A. $-x+y$ B. $-x+2y$
C. $-x+6y$ D. $-x+4y$

3、把黑色三角形按如图所示的规律拼图案，其中第①个图案中有 1 个黑色三角形，第②个图案中有 3 个黑色三角形，第③个图案中有 6 个黑色三角形， \dots ，按此规律排列下去，则第⑤个图案中黑色三角形的个数为（ ）



- A. 10 B. 15 C. 18 D. 21

4、下列是按一定规律排列的多项式： $-x+y, x^2+2y, -x^3+3y, x^4+4y, -x^5+5y, x^6+6y, \dots$ ，则第 n 个多项式是（ ）

A. $(-1)^{nxn+ny}$

B. $-1nxn+ny$

C. $(-1)^{n^l xn+ny}$

D. $(-1)^{nxn+(-1) nny}$

5、观察下面由正整数组成的数阵：

				1					
			2	3	4				
		5	6	7	8	9			
	10	11	12	13	14	15	16		
17	18	19	20	21	22	23	24	25	
...

照此规律，按从上到下、从左到右的顺序，第 51 行的第 1 个数是 ()

A. 2500

B. 2501

C. 2601

D. 2602

6、某天数学课上老师讲了整式的加减运算，小颖回到家后拿出自己的课堂笔记，认真地复习老师在课堂上所讲的内容，她突然发现一道题目： $(2a^2 + 3ab - b^2) - (-3a^2 + ab + 5b^2) = 5a^2$ $-6b^2$ ，空格的地方被墨水弄脏了，请问空格中的一项是 ()

A. $+2ab$

B. $+3ab$

C. $+4ab$

D. $-ab$

7、下列各正方形中的四个数之间都有相同的规律，根据此规律， x 的值为 ()

1	4	2	6	3	8	a	18
2	9	3	20	4	35		b	x

A. 135

B. 153

C. 170

D. 189

8、在 0 ， -1 ， $-x$ ， $\frac{1}{3}a$ ， $3-x$ ， $\frac{1-x}{2}$ ， $\frac{1}{x}$ 中，是单项式的有 ()

A. 1 个

B. 2 个

C. 3 个

D. 4 个

9、下列不能用 $4m$ 表示的是 ()

- A. 葡萄的价格是 4 元/千克，买 m kg 葡萄的价钱
- B. 一个正方形的边长是 m ，这个正方形的周长
- C. 甲平均每小时加工 m 个零件，4h 后共加工的零件个数
- D. 若 4 和 m 分别表示一个两位数中的十位数字和个位数字，表示这个两位数

10、如果一个多项式的各项的次数都相同，那么这个多项式叫做齐次多项式。如： $x^3+3xy^2+4xz^2+2y^3$ 是 3 次齐次多项式，若 $a^{x+3}b^2 - 6ab^3c^2$ 是齐次多项式，则 x 的值为（ ）

- A. -1 B. 0 C. 1 D. 2

第 II 卷（非选择题 80 分）

二、填空题（10 小题，每小题 3 分，共计 30 分）

1、按一定规律排列的单项式： $-a^2, 4a^3, -9a^4, 16a^5, -25a^6, \dots$ ，第 n 个单项式是_____。

2、已知多项式 $(m-1)x^4 - x^n + 2x - 5$ 是三次三项式，则 $(m+1)^n = \underline{\quad}$ 。

3、观察下面的一列单项式： $x, -2x^2, 3x^3, -4x^4, \dots$ 根据你发现的规律，第 100 个单项式为_____；第 n 个单项式为_____。

4、若 x 是不等于 1 的实数，我们把 $\frac{1}{1-x}$ 称为 x 的差倒数，如 2 的差倒数是 $\frac{1}{1-2} = -1$ ，-1 的差倒数为 $\frac{1}{1-(-1)} = \frac{1}{2}$ ，现已知 $x_1 = -\frac{1}{3}$ ， x_2 是 x_1 的差倒数， x_3 是 x_2 的差倒数， x_4 是 x_3 的差倒数， \dots ，依此类推，则 $x_{2022} = \underline{\quad}$ 。

5、三个连续偶数，中间一个数为 n ，则这三个数的积为_____。

6、在代数式 $3xy^2, m, 6a^2 - a + 3, 12, 4x^2yzx - \frac{1}{5}xy^2, \frac{2}{3ab}$ 中，单项式有_____个。

7、若代数式 $x^2 + ax - (bx^2 - x - 3)$ 的值与字母 x 无关，则 $a - b$ 的值为_____。

8、 $\left(2x^2 - \frac{2}{3}x + 1\right) - \underline{\hspace{2cm}} = 3x^2 - 2x + 5$ 。

9、已知， $x-3=2021$ ，则 $(x-3)^2-2021(x-3)+1$ 的值为_____.

10、若 x^2+2x 的值是6，则 $2x^2+4x-7$ 的值是_____.

三、解答题（5小题，每小题10分，共计50分）

1、用同样大小的两种不同颜色（白色、灰色）的正方形纸片，按如图方式拼成长方形.

[观察思考]

第（1）个图形中有 $2=1\times 2$ 张正方形纸片；

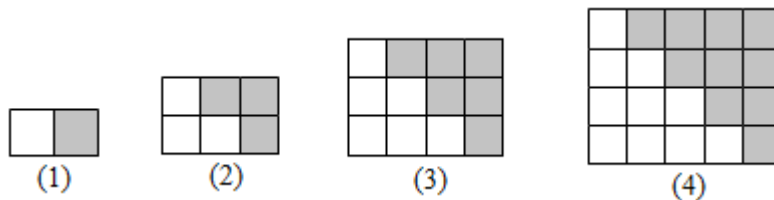
第（2）个图形中有 $2\times(1+2)=6=2\times 3$ 张正方形纸片；

第（3）个图形中有 $2\times(1+2+3)=12=3\times 4$ 张正方形纸片；

第（4）个图形中有 $2\times(1+2+3+4)=20=4\times 5$ 张正方形纸片；

.....

以此类推



(1) [规律总结] 第（5）个图形中有_____张正方形纸片（直接写出结果）.

(2) 根据上面的发现我们可以猜想： $1+2+3+\dots+n=$ _____。（用含 n 的代数式表示）

(3) [问题解决] 根据你的发现计算： $101+102+103+\dots+200$.

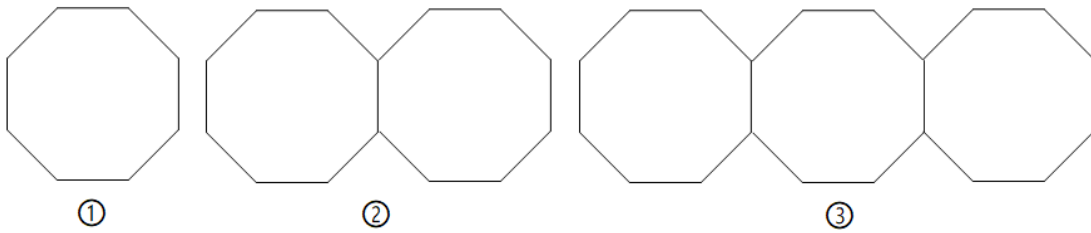
2、已知 x, y 为有理数，现规定一种新运算 $*$ ，满足 $x*y=xy-5$.

(1) 求 $(4*2)*(-3)$ 的值；

(2) 任意选择两个有理数，分别填入下列□和○中，并比较它们的运算结果：多次重复以上过程，你发现：□*○_____○*□（用“>”“<”或“=”填空）；

(3) 记 $M=a*(b-c)$ ， $N=a*b-a*c$ ，请探究 M 与 N 的关系，用等式表达出来.

3、如图图案是用长度相同的火柴棒按一定规律拼搭而成，图案①需 8 根火柴棒，图案②需 15 根火柴棒，图案③需 21 根火柴棒，...

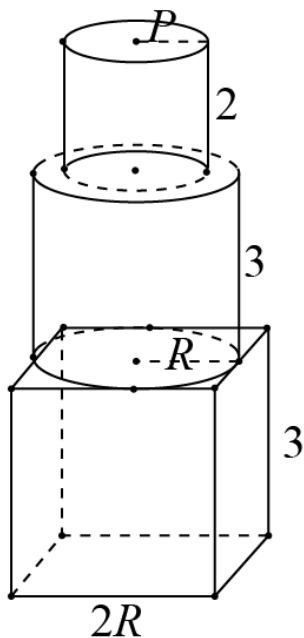


(1) 按此规律，图案⑦需_____根火柴棒；

(2) 用含 n 的代数式表示第 n 个图案需根火柴棒根数.

4、已知多项式 $A = 2x^2 + my - 12$ ， $B = nx^2 - 3y + 6$ ，且 $(m+2)^2 + |n-3| = 0$ ，化简 $A - B$.

5、如图，有一个零件，由三部分组成，底座是一个长方体，底面正方形边长为 $2R$ cm，高为 3 cm，中间部分是底面半径为 R cm，高为 3 cm 的圆柱，上部是底面半径为 r cm，高为 2 cm 的圆柱，计算它的体积.



-参考答案-

一、单选题

1、C

【解析】

【详解】

分析：根据单项式的性质即可求出答案.

详解：该单项式的次数为： $3+1=4$

故选 C.

点睛：本题考查单项式的次数定义，解题的关键是熟练运用单项式的次数定义，本题属于基础题型.

2、C

【解析】

【分析】

根据新定义的计算规则先计算括号内，按法则转化为整式加减计算，去括号合并，再根据新定义转化为整式的加减计算去括号，最后合并同类项即可.

【详解】

解： $\because a \odot b = 2a - b$ ，，

$$\therefore [(x+y) \odot (x-y)] \odot 3x$$

$$=[2(x+y) - (x-y)] \odot 3x$$

$$=(2x+2y-x+y) \odot 3x$$

$$=(x+3y) \odot 3x$$

$$=2(x+3y) - 3x$$

$$=2x+6y-3x$$

$$=-x+6y.$$

故选 C.

【考点】

本题考查新定义运算法则，掌握新定义运算法则实质，化为整式加减的常规计算，去括号，合并同类项是解题关键.

3、B

【解析】

【分析】

根据前三个图案中黑色三角形的个数得出第 n 个图案中黑色三角形的个数为 $1+2+3+4+\cdots+n$ ，据此可得第⑤个图案中黑色三角形的个数.

【详解】

解：∵第①个图案中黑色三角形的个数为 1，

第②个图案中黑色三角形的个数 $3=1+2$ ，

第③个图案中黑色三角形的个数 $6=1+2+3$ ，

……

∴第⑤个图案中黑色三角形的个数为 $1+2+3+4+5=15$ ，

故选：B.

【考点】

本题主要考查图形的变化规律，解题的关键是根据已知图形得出规律：第 n 个图案中黑色三角形的个数为 $1+2+3+4+\cdots+n$.

4、A

【解析】

【分析】

从三方面（符号、系数的绝对值、指数）总结规律，再根据规律进行解答便可.

【详解】

解：按一定规律排列的多项式： $-x+y$ ， x^2+2y ， $-x^3+3y$ ， x^4+4y ， $-x^5+5y$ ， x^6+6y ， \cdots ，

则第 n 个多项式是： $(-1)^{n+1}nx^n+ny$,

故选：A.

【考点】

本题考查的是整式中的多项式的规律探究，掌握探究的方法是解题的关键.

5、B

【解析】

【分析】

观察这个数列知，第 n 行的最后一个数是 n^2 ，第 50 行的最后一个数是 $50^2=2500$ ，进而求出第 51 行的第 1 个数.

【详解】

由题意可知，第 n 行的最后一个数是 n^2 ，

所以第 50 行的最后一个数是 $50^2=2500$ ，

第 51 行的第 1 个数是 $2500+1=2501$ ，

故选：B.

【考点】

本题考查了规律型：数字的变化类，要求学生通过观察，分析、归纳发现其中的规律，并应用发现的规律解决问题. 解决本题的难点在于发现第 n 行的最后一个数是 n^2 的规律.

6、A

【解析】

【分析】

将等式右边的已知项移到左边，再去括号，合并同类项即可.

【详解】

解：依题意，空格中的一项是：

$$(2a^2+3ab-b^2) - (-3a^2+ab+5b^2) - (5a^2-6b^2) = 2a^2+3ab-b^2+3a^2-ab-5b^2-5a^2+6b^2=2ab.$$

故选 A.

【考点】

本题考查了整式的加减运算，熟练掌握移项的知识，同时熟记去括号法则，熟练运用合并同类项的法则解题的关键.

7、C

【解析】

【分析】

由观察发现每个正方形内有： $2 \times 2 = 4, 2 \times 3 = 6, 2 \times 4 = 8$, 可求解 b ，从而得到 a ，再利用 a, b, x 之间的关系求解 x 即可.

【详解】

解：由观察分析：每个正方形内有：

$$2 \times 2 = 4, 2 \times 3 = 6, 2 \times 4 = 8,$$

$$\therefore 2b = 18,$$

$$\therefore b = 9,$$

由观察发现： $a = 8$,

又每个正方形内有：

$$2 \times 4 + 1 = 9, 3 \times 6 + 2 = 20, 4 \times 8 + 3 = 35,$$

$$\therefore 18b + a = x,$$

$$\therefore x = 18 \times 9 + 8 = 170.$$

故选 C.

【考点】

本题考查的是数字类的规律题，掌握由观察，发现，总结，再利用规律是解题的关键.

以上内容仅为本文档的试下载部分，为可阅读页数的一半内容。如要下载或阅读全文，请访问：<https://d.book118.com/478104051050007012>